

E.M. “Alexandre Vannuchi Leme ”

Nome: _____

2º termo A

Professora: Milena

Caderno de Atividades Nº 9

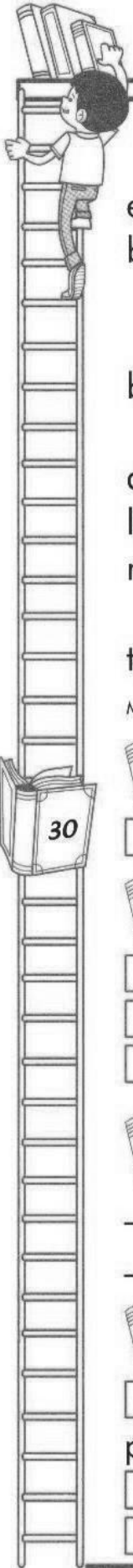
Apostila referente aos dias 09 a 27/08

Data de entrega: 10/08

Data de devolução: 30/08



O PICA-PAU



O que mais sinto falta do tempo em que morava na fazenda é do barulho do pica-pau:

Toque, toque, toque.

Lá estava o pica-pau batendo o bico no tronco das árvores.

Ele estava sempre à procura do alimento que mais apreciava: larvas de insetos escondidos na madeira.

Ah! Que saudade do toque, toque, toque do pica-pau.

Maria Luisa Aroeira



1 Onde o pica-pau vivia?

- No campo. Na cidade.

2 O alimento mais apreciado pelo pica-pau era:

- cascas de árvore.
 sementes de frutas.
 larvas de insetos.

3 Onde o pica-pau procurava seu alimento?

4 Todas as alternativas estão erradas, exceto:

- O pica-pau bate o bico no tronco para assustar os predadores.
 O pica-pau bate o bico no tronco para chamar a fêmea.
 O pica-pau bate o bico no tronco para procurar alimentos.



ISSO É FOLCLORE...

Em 22 de agosto o Brasil comemora o Dia do Folclore. A data foi criada em 1.965 através de um decreto federal.

Folclore é o conjunto de todas as tradições, culturas, lendas e crenças de um país. O folclore pode ser percebido na alimentação, linguagem, artesanato, religião e vestimentas de uma nação.

FOLK em inglês significa "povo" e LORE "conhecimento". A palavra folclore significa conhecimento popular. Os negros e os índios tiveram muita influência em nossa cultura, e diversos outros povos como os imigrantes.

1) Que dia é comemorado o folclore no Brasil?

2) Folclore é:

a) o conjunto de todas as tradições, culturas, lendas e crenças de um país.

b) o nome de uma das partes de uma planta. c) o nome de um órgão do corpo humano.

3) Coloque (V) nas frases verdadeiras e (F) nas falsas:

a) O folclore não é importante para a história de um povo.

b) Os negros e os índios foram muito importante para o nosso folclore.

c) As comidas típicas fazem parte do nosso folclore.

d) As lendas não fazem parte do folclore do povo brasileiro.

4) Escreva o que significa:

a) FOLK: _____ b) LORE: _____

5) Escreva dois nomes de lendas que você conhece.

folclore e tradições



O SACI É MUITO ARTEIRO!
NOS SÍTIOS E NAS FAZENDAS,
ESPANTA OS ANIMAIS, BATE NOS
CACHORROS, ESTRAGA A PLANTAÇÃO,
DÁ NÓS NA CAUDA E ENROSCA A CRINA
DOS CAVALOS.

NAS CASAS, O SACI TAMBÉM SE
DIVERTE. ESCONDE AS TESOURAS, OS
MARTELOS E OUTRAS COISAS. QUEBRA
A PONTA DAS AGULHAS, EMBARALHA A
LÃ DOS NOVELOS, AZEDA O LEITE E
OUTRAS TRAQUINAGENS.

DEPOIS SE ESCONDE, ESPIA E DÁ
RISADA DO DESESPERO DAS PESSOAS.

INTERPRETAÇÃO DO TEXTO

1 – DESCREVA COMO É UM SACI?

2 – ESCREVA ALGUMAS ARTES QUE O SACI COSTUMA FAZER.

3 – O QUE O SACI COSTUMA FAZER DEPOIS DE FAZER SUAS TRAQUINAGENS?

PROCURE NO CAÇA-PALAVRA OS PERSONAGENS DO FOLCLORE:

SACI LOBISOMEM

SEREIA CURUPIRA

MULA SEM CABEÇA NEGRINHO

VITÓRIA RÉGIA BOTO BUMBA MEU BOI

BOITATÁ CORPO SECO PISADEIRA




M	U	L	A	X	S	E	M	Y	C	A	B	E	Ç	A	W	B
P	B	V	R	L	O	B	I	S	O	M	E	M	X	T	R	D
V	G	S	A	C	I	T	R	U	C	V	F	H	M	N	R	S
A	C	B	V	S	R	Q	W	X	C	U	R	U	P	I	R	A
N	E	G	R	I	N	H	O	G	H	K	L	T	D	U	M	O
X	B	U	M	B	A	G	M	E	U	F	B	O	I	T	Q	Z
F	D	V	S	T	Z	S	E	R	E	I	A	X	M	N	T	R
G	M	V	I	T	Ó	R	I	A	Q	R	É	G	I	A	X	S
H	Q	R	P	S	T	D	G	P	W	B	O	T	O	F	R	M
C	O	R	P	O	X	S	E	C	O	Y	W	Z	Q	R	B	C
N	P	Q	G	Y	P	I	S	A	D	E	I	R	A	W	E	I
B	O	I	T	A	T	Á	X	Y	K	G	R	V	Y	U	A	E

www.misturadealegria.blogspot.com

MATEMÁTICA INTERPRETANDO GRÁFICO

Os alunos do 4º ano do turno matutino, fizeram uma pesquisa na escola para descobrirem sobre as lendas preferidas de todos os educandos daquele turno. Com os dados obtidos construíram um gráfico de colunas.

Personagens do **FOLCLORE**



- Observe o gráfico e responda as questões a seguir.

1 - Qual é o título do gráfico?

2 - Do que se trata o gráfico?

3 - Quem promoveu a pesquisa?





4 - Quem participou da pesquisa?

5 - Quais as lendas que foram incluídas na pesquisa ?

6- Quantos alunos participaram da pesquisa?

7- Há na escola 5 turmas do Ensino Fundamental I. Sabendo que todas as turmas têm o mesmo número de alunos, quantos alunos há em cada turma?

8 - Sabendo que todos os alunos do 1º ano votaram no Saci, quantos alunos de outras turmas também votaram neste mesmo personagens?



NOME: _____

DATA _____

TURMA _____

Saci-Pererê



com uma rolha.

É um menino negro e muito levado, que tem uma perna só, fuma cachimbo e usa um gorro vermelho que tem poderes mágicos. Costuma ter três dedos nas mãos que são furadas. O saci adora fazer travessuras, como queimar a comida, espantar o gado, assustar viajantes solitários e dar nós nas crinas dos cavalos.

Dizem que para pegar um saci é preciso fazer uma armadilha com uma peneira. Depois que ele cair na cilada, é preciso tirar rapidamente seu gorro vermelho, colocar o saci em uma garrafa e fechar bem

FOLCLORE BRASILEIRO

Nas questões 1 a 4 marque a resposta certa com um x:

1) O Saci é :

- () um menino negro muito quieto.
- () um menino negro muito sossegado.
- () um menino negro muito levado.

2) O Saci :

- () usa gorro azul e não fuma cachimbo.
- () usa gorro vermelho e não fuma cachimbo.
- () usa gorro vermelho e fuma cachimbo.

3) O Saci :

- () tem uma perna só e costuma ter três dedos nas mãos furadas..
- () tem uma perna só e todos têm as mãos perfeitas.

4) O Saci adora fazer **travessuras** quer dizer:

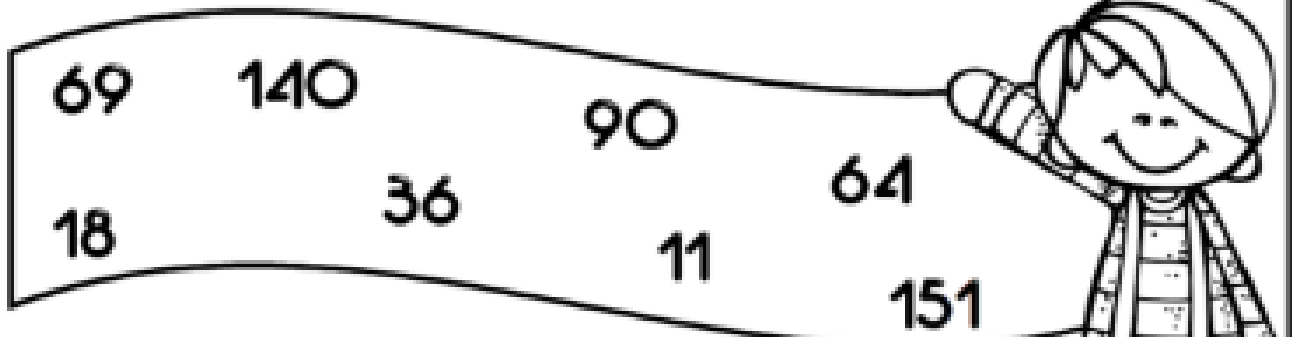
- () O Saci adora fazer caridade.
- () O Saci adora fazer boas ações.
- () O saci adora fazer artes, brincadeiras que incomodam.

5) Escreva algumas travessuras que o saci costuma fazer.



MATEMÁTICA

Observe os numerais da faixa e resolva o desafio.



É maior que 6 dezenas e não é ímpar.

É o dobro de 7 dezenas.

É sucessor de 3 dezenas e meia.

É o maior numeral de 3 ordens.

É o menor numeral ímpar de 2 ordens.

É a metade de 36.

Fica entre 89 e 91.

É o triplo de 23.

QUESTÃO 1: PARTICIPAR DA CAMPANHA DE VACINAÇÃO É IMPORTANTE PARA MANTER NOSSA SAÚDE. LEMBRE-SE DO QUE VOCÊ ESTUDOU, OBSERVE O CARTAZ E RESPONDA AS QUESTÕES ABAIXO:



1- ESSE TEXTO SERVE PARA:

- () AVISAR AS PESSOAS
- () ENSINAR UM JOGO
- () ENSINAR UMA COMIDA
- () DIVERTIR AS PESSOA

2- O TEXTO FALA SOBRE :

- () O DIA DA FAMÍLIA
- () UMA FESTA EM ABRIL
- () O DIA DA VACINAÇÃO
- () UMA FESTA DE ANIVERSÁRIO

3- A VACINAÇÃO É CONTRA:

- () A PARALISIA INFANTIL
- () A GRIPE
- () DENGUE
- () SARAMPO

4- EM QUE MÊS OCORREU A VACINAÇÃO:

- () AGOSTO
- () ABRIL
- () JUNHO
- () JULHO

OBSERVE A PROPAGANDA ABAIXO COM MUITA ATENÇÃO E RESPONDA:



Cantinho da Flor

De segunda a segunda

Fazemos lindos arranjos

Flores diversas



Rua Frei Caneca, 408

Fone: (11) 3241 2833

Economize. Venha nos visitar!

1) O TEXTO ACIMA SE REFERE A UMA PROPAGANDA DE:

- () UMA LOJA
- () UMA FLORICULTURA
- () UM SHOPPING

2) O NOME DA FLORICULTURA É:

- () FLORES DIVERSAS
- () FAZEMOS LINDOS ARRANJOS
- () CANTINHO DA FLOR



3) "ATENDEMOS DE SEGUNDA A SEGUNDA". ISTO QUER DIZER QUE:

- () ATENDEM TODOS OS DIAS
- () ATENDEM NAS SEGUNDAS-FEIRAS
- () FECHAM SOMENTE NAS SEGUNDAS-FEIRAS

DOBRO

Para achar o **DOBRO** de um número, basta você multiplicar esse número por **2**.



Agora é com você:

O dobro de 6 é $6 \times 2 = 12$

a) O dobro de 7 é $\underline{\quad} \times \underline{\quad} = \underline{\quad}$

b) O dobro de 9 é $\underline{\quad} \times \underline{\quad} = \underline{\quad}$

c) O dobro de 4 é $\underline{\quad} \times \underline{\quad} = \underline{\quad}$

d) O dobro de 1 é $\underline{\quad} \times \underline{\quad} = \underline{\quad}$

e) O dobro de 2 é $\underline{\quad} \times \underline{\quad} = \underline{\quad}$

f) O dobro de 5 é $\underline{\quad} \times \underline{\quad} = \underline{\quad}$

g) O dobro de 6 é $\underline{\quad} \times \underline{\quad} = \underline{\quad}$

h) O dobro de 3 é $\underline{\quad} \times \underline{\quad} = \underline{\quad}$

i) O dobro de 8 é $\underline{\quad} \times \underline{\quad} = \underline{\quad}$

TRIPLO

Para achar o TRIPLO de um número, basta você multiplicar esse número por **3**.



Agora é com você:

O triplo de 2 é $2 \times 3 = 6$

a) O triplo de 4 é $\underline{\quad} \times \underline{\quad} = \underline{\quad}$

b) O triplo de 7 é $\underline{\quad} \times \underline{\quad} = \underline{\quad}$

c) O triplo de 9 é $\underline{\quad} \times \underline{\quad} = \underline{\quad}$

d) O triplo de 1 é $\underline{\quad} \times \underline{\quad} = \underline{\quad}$

e) O triplo de 6 é $\underline{\quad} \times \underline{\quad} = \underline{\quad}$

Ligue os números ao seu triplo:

5

8

1

9

27

24

3

15



DOBRO E TRIPLO

Lucinha e Pedro vão fazer brigadeiro, mas acham que uma receita é pouco, então, vão "dobrar" as medidas e fazer duas receitas. Ajude-os a calcular as quantidades de ingredientes que irão precisar para fazer duas ou se preferirem 3 receitas.



BRIGADEIRO

Ingredientes:

- 1 lata de leite condensado
- 2 colheres (sopa) de margarina
- 2 colheres (sopa) de chocolate em pó
- Chocolate granulado para enfeitar

Preparo

Misture os ingredientes (menos o chocolate granulado) numa panela e leve ao fogo baixo mexendo sempre até aparecer o fundo da panela. Espere esfriar. Faça as bolinhas do tamanho que desejar, passe no chocolate granulado e arrume nas forminhas.

Anote na tabela quanto eles vão precisar para fazer as quantidades pedidas.

INGREDIENTES	1 RECEITA	DOBRO	TRIPLO
leite condensado	1 lata		
chocolate em pó	2 colheres (sopa)		
margarina	2 colheres (sopa)		

Teste de raciocínio. Identifique os ditados populares abaixo pelos emotions.
































O RESULTA ESTARA NO FIM DA A APOSTILA, MAS TENTE ADIVINHAR ANTES DE OLHAR A RESPONTRA ...
FAÇAM COM A FAMILIA E DIVIRTAM-SE.

Medida de Massa



Olá! Eu me chamo João.
Esta é uma balança que serve para medir o peso de pessoas.
Eu peso 24 quilos.
Este é meu cachorro. Ele pesa 31 quilos. Ele é muito grande!

1 - João pesa 24 quilos. E você, quanto pesa?

2 - Quem pesa mais, João ou seu cachorro?

3 - Quanto o cachorro pesa a mais que João?

4 - O peso da mãe de João é a soma do peso dele com o peso do cachorro. Quanto pesa a mãe de João?

DITOS POPULARES

Quais são os ditados populares?

- 1) 🐎 🦷 🦷 😬 1- Cavalo dado não olha os dentes.
- 2) 🌍 👁️ 👁️ 👁️ 👁️ 2- Em terra de cego quem tem um olho é rei.
- 3) 😭 🙅 🍼 3- Quem não chora não mama.
- 4) 🐒 🚫 🐝 4- Em boca fechada não entra mosquito.
- 5) ✚ 🐦 🖐️ 🐦 🐦 ✈️ 5- Mais vale um pássaro na mão que dois voando.
- 6) 😊 🏠 🙅 🙏 6- Santo de casa não faz milagre.
- 7) 🕒 😊 🍖 🔥 👄 7- O apressado come cru.
- 8) 🌱 🌬️ 🌧️ ⚡ 8- Quem semeia vento colhe tempestade.
- 9) 🐒 🌴 🐒 🌴 9- Cada macaco no seu galho.
- 10) ⌚ 🚶 🚶 🚶 🚶 10- Antes só do que mal acompanhado.
- 11) 🐎 🚗 🌱 11- Cavalo preso também pasta.
- 12) 👦 👦 👦 👦 👦 🍂 12- A união faz a força.
- 13) 🐎 🍌 🍌 🌱 🍌 13- Pra cavalo velho o remédio é capim novo.
- 14) 📦 ? 🗡️ 🐱 14- A curiosidade matou o gato.
- 15) 😍 🐛 🧒 👁️ 👁️ 15- Quem ama o feio bonito lhe parece.

www.misturadealegria.blogspot.com.br

REFERÊNCIAS BIBLIOGRÁFICAS

<https://mungfali.com/page/16B7E97FCE552CF5DC2B301FB1C53B9CD198FBFD/atividades-de-geografia-4%C2%B0-ano-fundamental-exerc%C3%8Dcios>

<https://educacaoetransformacaooficial.blogspot.com/2021/02/apostila-ciencias.html>

<http://blogdaprofessoraedivania.blogspot.com/2017/07/atividades-folcloricas-educacao.html?m=1>

<https://atividades-escolares1.blogspot.com/2020/07/historia-imigracao-atividade-de.html>

<https://br.pinterest.com/pin/817192294861104638/>

<https://br.pinterest.com/pin/758715868444160929/>

<http://profaadrianadezerto.blogspot.com/2015/07/folclore-caca-palavras.html>