

E.M “Raimundo Vieira Bastos”

Apostila 09 – 2021 3º ano Professora: Luciana Luz



<https://pedagogiaaopedaleta.com>

ALUNO (A): _____

Oriento que a família crie um momento diário, estabelecendo assim uma rotina, que ajudará em todo o processo e contribuirá para uma aprendizagem mais significativa. As atividades devem ser feitas diariamente, exceto aos sábados, domingos e feriados.

Desejo que todos fiquem bem, tomando todas as medidas de cuidado e preservação da vida.

Qualquer dúvida estarei à disposição no WhatsApp (15)996384535

ATIVIDADE REFERENTE AO PERÍODO: 09/08 à 27/08
Entrega dia 30/08

Atividade para 09/08



OLÁ AMIGUINHO(A)! TUDO BEM!
HOJE INICIAMOS UMA NOVA APOSTILA, APROVEITE PARA
ESTUDAR BASTANTE!
VOCÊ CONHECE AS FIGURAS QUE APARECEM
NESTA PÁGINA?



ESSAS IMAGENS REPRESENTAM PARTE DO NOSSO
FOLCLORE. NESSA APOSTILA VOCÊ VAI CONHECER
PERSONAGENS, LENDAS, PARLENDRAS E PARLENDRAS QUE
TAMBÉM FAZEM PARTE DO NOSSO FOLCLORE!

Você sabe o que é Folclore?

Podemos definir o folclore como um conjunto de mitos e lendas que as pessoas passam de geração para geração. Muitos nascem da pura imaginação das pessoas, principalmente dos moradores das regiões do interior do Brasil. Muitas destas histórias foram criadas para passar mensagens importantes ou apenas para assustar as pessoas. O folclore pode ser dividido em lendas e mitos. Muitos deles deram origem à festas populares, que ocorrem pelos quatro cantos do país.



www.suapesquisa.com/folclorebrasileiro/folclore.htm

CELEBRAMOS O DIA DO FOLCLORE EM 22 DE AGOSTO. OBSERVE O CALENDÁRIO:

webcid.com.br Agosto 2020						
Domingo	Segunda	Terça	Quarta	Quinta	Sexta	Sábado
						1
2	3	4	5	6	7	8
9	10	11	12	13	14	15
16	17	18	19	20	21	22
23	24	25	26	27	28	29
30	31					

1) EM QUE DIA DA SEMANA SERÁ COMEMORADO O DIA DO FOLCLORE?

2) EM QUE DIA DA SEMANA O MÊS DE AGOSTO COMEÇA?

3) O MÊS DE AGOSTO POSSUI QUANTOS DIAS?

www.suapesquisa.com

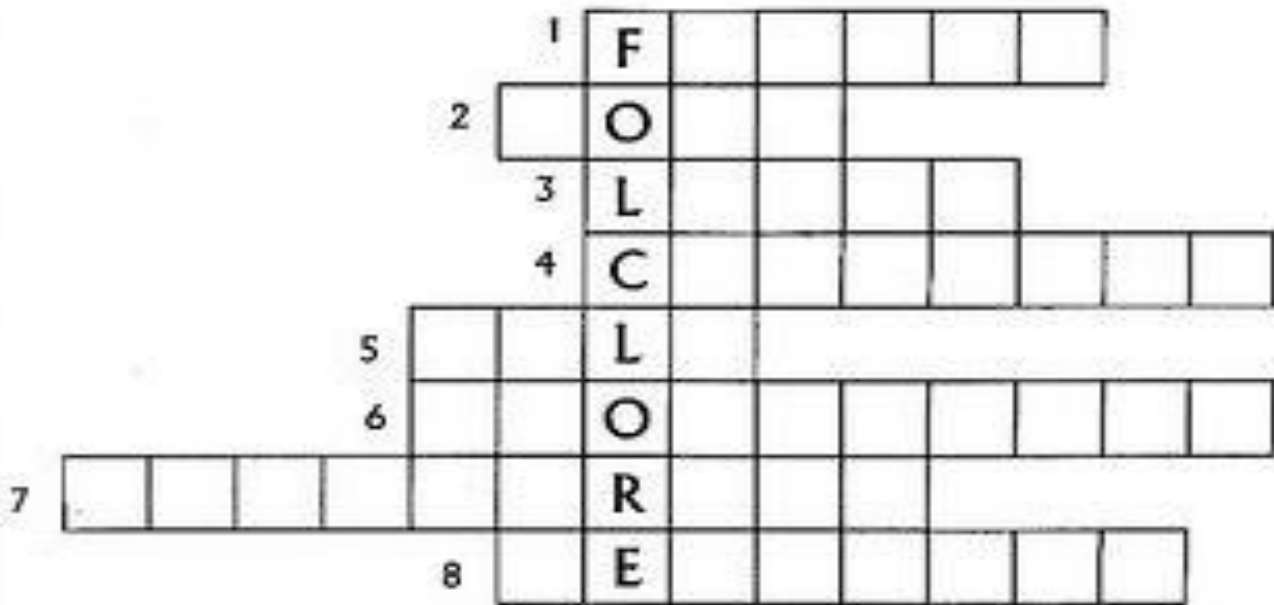
Atividade para 10/08

Matemática

Atividade do livro EMAI página 20 e 21

Língua Portuguesa

CRUZADINHA FOLCLÓRICA



- 1- As _____ juninas fazem parte do nosso folclore.
- 2- As brincadeiras de _____ são apreciadas pelas crianças.
- 3- A _____ do saci é a mais comum de todas as lendas.
- 4- O _____ tem os pés virados para trás.
- 5- A _____-sem – cabeça é uma lenda.
- 6- Os _____ são ditados populares passados de geração em geração.
- 7- O _____ pula num pé só.
- 8- Os _____ caseiros são feitos à base de plantas.



Atividade para 11/08

História

Atividade do livro Ápis página 24 e 25

Matemática

Qual o troco?

R\$ 15,00		pagou com		recebeu de troco	R\$ <input type="text"/>
R\$ 1,50		pagou com		recebeu de troco	R\$ <input type="text"/>
R\$ 37,00		pagou com		recebeu de troco	R\$ <input type="text"/>
R\$ 7,00		pagou com		recebeu de troco	R\$ <input type="text"/>
R\$ 58,00		pagou com		recebeu de troco	R\$ <input type="text"/>

Atividade para 12/08

Língua Portuguesa

PARLENDAS

SÃO HISTÓRIAS QUE FAZEM PARTE DO NOSSO FOLCLORE. COM A AJUDA DE UM ADULTO VAMOS LER A PARLENDA **GATO E RATO**.

GATO E RATO
QUE HORAS SÃO?
UMA HORA!
QUE HORAS SÃO?
DUAS HORAS.
QUE HORAS SÃO?
TRÊS HORAS.
SEU RATINHO JÁ CHEGOU?
AINDA NÃO.
QUE HORAS SÃO?
QUATRO HORAS.


...
SEU RATINHÔ JÁ CHEGOU?
JÁ!

Adaptado. Salada, saladinha – Parlendias. Maria José Nóbrega e Rosane Pamplona (orgs.). Editora


1) AGORA QUE VOCÊ LEU A PARLENDA, ESCREVA O TÍTULO NA LINHA ABAIXO.

2) DE ACORDO COM O TEXTO, QUE ANIMAL ESTÁ PROCURANDO OUTRO?

LEIA ALGUMAS PARLENDAS



Sou pequenininha
do tamanho de
um botão,
Carrego papai
no bolso e mamãe
no coração.




*Quem vai ao ar,
perde o lugar.
Quem vai ao vento,
perde o assento.*


Batatinha quando nasce
Espalha a rama pelo chão.
Menininha quando dorme
Põe a mão no coração.



Dedo mindinho,
Seu vizinho,
Pai de todos,
Fura bolo,
Mata piolho.



Papagaio loiro
do bico dourado,
Mande essa cartinha
para o meu namorado.



O macaco foi à feira,
não teve o que comprar
Comprou uma cadeira
pra comadre se sentar

<https://www.pensador.com/>



Atividade para 13/08

Matemática

Atividade do livro EMAI página 22 e 23



Atividade para 14/08

Língua Portuguesa

Atividade do livro Ápis página 70, 71 e 72



Atividade para 16/08

Língua Portuguesa

Atividade do livro Ápis página 73, 74 e 75



Atividade para 17/08

Matemática

Atividade do livro EMAI página 26 e 27



Atividade para 18/08

Matemática

Atividade do livro EMAI página 39 e 40

Atividade para 19/08

História

Atividade do livro Ápis página 92 e 93

CRUZADINHA FOLCLÓRICA

HORIZONTAL

1- Boi feito com balaio.

2-Tem um perna só e fuma cachimbo.

3-Lobo que ataca em luas cheias.

4-É representado por uma cobra que solta fogo

5-Anão com os pés virados pra traz.

VERTICAL

6-Ele galopa e solta fogo pelas narinas.

7-Metade mulher, metade peixe.

8- Nome da sereia.

9-Jovem bonito que conquista as mulheres na beira do rio.

6 M

7

1 U

2 S

3 M

4 A

5 C

8

9

Lenda

A lenda é um tipo de narrativa, passada de geração para geração e contada como se fosse uma verdade. Tem elementos fantásticos e pode servir para explicar fenômenos ou acontecimentos reais.

Atividade para 20/08

AGORA VAMOS CONHECER ALGUNS PERSONAGENS DAS LENDAS FOLCLÓRICAS



Curupira ou caipora

A lenda do curupira é muito antiga. Já na época do Descobrimento do Brasil, os índios acreditavam nesse ente encantado, que parece um indiozinho de cabelos vermelhos e com os pés virados para trás. Ele protege as florestas e os animais dos caçadores e pode ser visto montado em um porco do mato. Para agradar o curupira, basta oferecer-lhe uma pitada de fumo.




Cuca

Para uns, a Cuca é uma velha bruxa horrorosa. Para outros, ela é uma bruxa horrorosa e ainda tem forma de jacaré (como na obra de Monteiro Lobato). Ela mora em uma caverna escura e pega crianças que não gostam de dormir na hora em que os pais mandam, por isso a canção de ninar: "Nana, neném, que a Cuca vem pegar. Papai foi na roça, mamãe foi trabalhar."

Lara

Personagem de muitas histórias antigas de pescador, a lara ou Mãe d'Água pode ser vista tanto como uma protetora dos rios, quanto como uma sereia linda e dissimulada, que, com o som hipnotizador de sua voz, encanta os homens e os atrai para o fundo das águas. Há quem acredite que ela se case com eles. Mas talvez ela só queira mesmo que eles se afoguem.




Negrinho do pastoreio

Muito contada na época da escravidão, essa triste lenda diz que havia um negrinho judiado por um terrível senhor de escravos. Um dia, foi castigado por ter deixado um cavalo fugir: o patrão amarrou-o em um formigueiro. No dia seguinte, porém, o malvado levou um susto ao ver que o negrinho estava bem e em pé ao lado da Nossa Senhora, pronto para ir embora, livre.

Cobra grande

Por encanto, uma índia engravidou da Boiúna, uma sucuri, e deu à luz duas cobras: o Honorato e a Maria. Para não chocar sua tribo, a índia jogou os dois no rio, onde eles cresceram. Mas Maria ficou malvada e Honorato, bonzinho. Um dia, eles brigaram, e Maria acabou morrendo. Honorato conseguiu se tornar homem quando um soldado corajoso lhe deu leite para beber.



Atividade para 23/08



O SACI É MUITO ARTEIRO!
NOS SÍTIOS E NAS FAZENDAS,
ESPANTA OS ANIMAIS, BATE NOS
CACHORROS, ESTRAGA A PLANTAÇÃO,
DÁ NÓS NA CAUDA E ENROSCA A CRINA
DOS CAVALOS.

NAS CASAS, O SACI TAMBÉM SE
DIVERTE. ESCONDE AS TESOURAS, OS
MARTELOS E OUTRAS COISAS. QUEBRA
A PONTA DAS AGULHAS, EMBARALHA A
LÃ DOS NOVELOS, AZEDA O LEITE E
OUTRAS TRAQUINAGENS.

DEPOIS SE ESCONDE, ESPIA E DÁ
RISADA DO DESESPERO DAS PESSOAS.

INTERPRETAÇÃO DO TEXTO

1 – DESCREVA COMO É UM SACI?

2 – ESCREVA ALGUMAS ARTES QUE O SACI COSTUMA FAZER.

**3 – O QUE O SACI COSTUMA FAZER DEPOIS DE FAZER SUAS
TRAQUINAGENS?**

Matemática

1. Calcule o que se pede:

O Dobro de:

$4 = \underline{\quad} + \underline{\quad} = \underline{\quad}$

$9 = \underline{\quad} + \underline{\quad} = \underline{\quad}$

$5 = \underline{\quad} + \underline{\quad} = \underline{\quad}$

$7 = \underline{\quad} + \underline{\quad} = \underline{\quad}$

$11 = \underline{\quad} + \underline{\quad} = \underline{\quad}$

$10 = \underline{\quad} + \underline{\quad} = \underline{\quad}$

$15 = \underline{\quad} + \underline{\quad} = \underline{\quad}$

$12 = \underline{\quad} + \underline{\quad} = \underline{\quad}$



O Triplo de:

$3 = \underline{\quad} + \underline{\quad} + \underline{\quad} = \underline{\quad}$

$6 = \underline{\quad} + \underline{\quad} + \underline{\quad} = \underline{\quad}$

$8 = \underline{\quad} + \underline{\quad} + \underline{\quad} = \underline{\quad}$

$5 = \underline{\quad} + \underline{\quad} + \underline{\quad} = \underline{\quad}$

$9 = \underline{\quad} + \underline{\quad} + \underline{\quad} = \underline{\quad}$

$10 = \underline{\quad} + \underline{\quad} + \underline{\quad} = \underline{\quad}$

$12 = \underline{\quad} + \underline{\quad} + \underline{\quad} = \underline{\quad}$

$20 = \underline{\quad} + \underline{\quad} + \underline{\quad} = \underline{\quad}$



Atividade do livro EMAI

página 62

Atividade para 24/08

COMPLETE OS TEXTOS COM APOIO DAS PALAVRAS.



ESTE É O _____.
ELE É UM NEGRINHO MUITO _____, QUE ADORA
FAZER _____ COM AS PESSOAS.
SACI USA SEMPRE UM _____ VERMELHO NA CABEÇA
E VIVE COM UM _____ NA BOCA.
ALÉM DISSO, ELE TEM UMA _____ SÓ.



O _____ É UM MENINO QUE VIVE NAS _____.
ELE É AMIGO DOS _____ E PROTEGE TODA A FLORESTA
DE _____.
O CURUPIRA TEM CABELOS _____ E OS _____
VIRADOS PARA TRÁS.



O HOMEM VIRA _____ TODA VEZ QUE NASCE
UM MENINO DEPOIS DE SETE FILHAS.
ELE APARECE EM SEXTA-FEIRA DE _____ CHEIA.
O LOBISOMEM É _____ E TEM _____
NO LUGAR DE UNHAS.

PÉS

PERNA

CURUPIRA

LUA

MATAS

TRAVESSURA

LOBISOMEM

CACHIMBO

ANIMAIS

GORRO

PELUDO

CAÇADORES

SACI

LEVADO

GARRAS

VERMELHOS

Matemática

Atividade do livro EMAI página 63 e 64



LOBISOMEM

LobisOMEM é uma criatura folclórica. Conhecido por ser um **homem que se transforma em lobo** em noites de lua cheia e sai em busca de vítimas para poder alimentar-se do sangue delas, ou simplesmente matá-las. Reza a lenda que o lobisOMEM é vulnerável somente à **bala de prata** ou a objetos cortantes feitos também de prata. Assim, a única forma de matá-lo seria por meio de objetos feitos desse metal.

1) Quem é o LOBISOMEM?

2) Quais as características do personagem?

3) O LobisOMEM se transforma em:

Mula

Lobo

Porco

4) No texto a palavra **VULNERÁVEL** é o mesmo que:

frágil

forte

corajoso

5) Como o LobisOMEM pode ser derrotado?

6) Coloque as palavras abaixo nos espaços, de modo que a frase faça sentido: **LOBISOMEM** – **VÍTIMAS** - **CHEIA**

O _____ ataca suas _____ nas noites de lua _____.

@ensinandocomcarinho

Matemática

A LENDA DA IARA



Também conhecida como a “mãe das águas”, Iara é uma personagem do folclore brasileiro. De acordo com a lenda, de origem indígena, Iara é uma sereia (corpo de mulher da cintura para cima e de peixe da cintura para baixo) morena de cabelos negros e olhos castanhos.

A lenda conta que a linda sereia fica nos rios do norte do país, onde costuma viver.

Nas pedras das encostas, costuma atrair os homens com seu belo e irresistível canto. As vítimas costumam seguir Iara até o fundo dos rios, local de onde nunca mais voltam. Os poucos que conseguem voltar acabam ficando loucos em função dos encantamentos da sereia. Neste caso, conta a lenda, somente um ritual realizado por um pajé (chefe religioso indígena, curandeiro) pode livrar o homem do feitiço.

http://www.suapesquisa.com/folclorebrasileiro/lenda_iara.htm

DE OLHO NO TEXTO

1. Qual o nome da lenda que você acabou de ler?

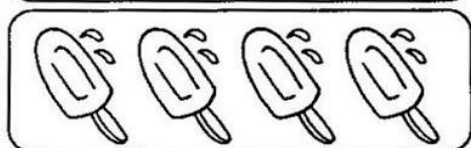
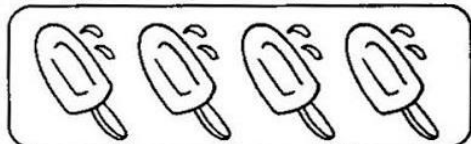

2. A lenda conta a história de qual personagem folclórico?

3. Como o texto descreve a sereia?

Matemática

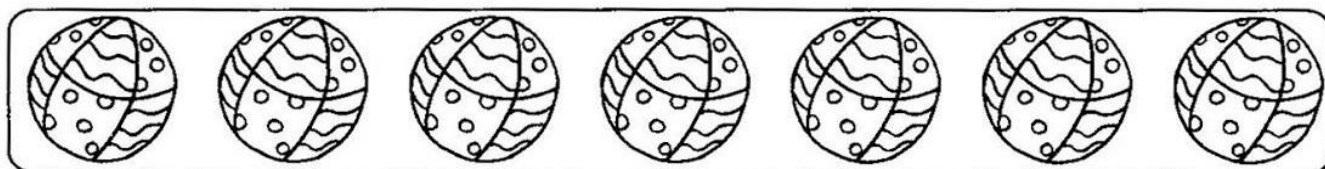
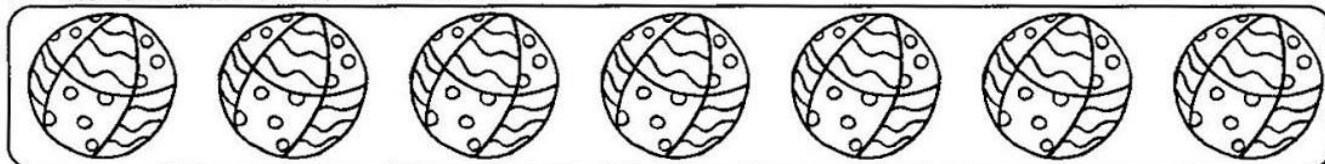
Observe as ilustrações e responda efetuando as multiplicações abaixo:

1- Há quantos picolés no total?



$$\square \times \square = \square$$

2- Quantas bolas há ao todo?



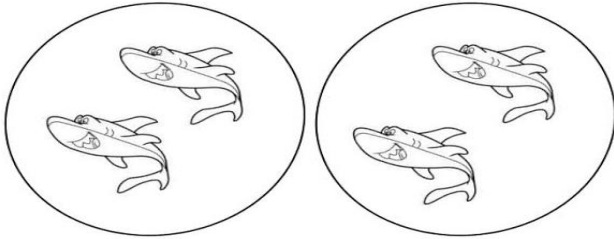
$$\square \times \square = \square$$

3- Qual o número total de crianças abaixo?

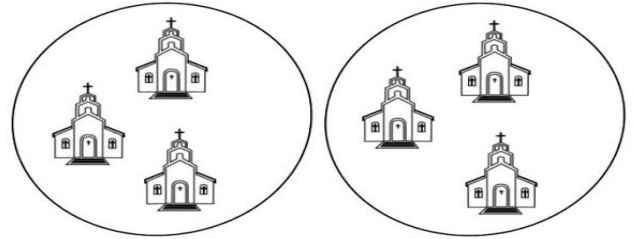


$$\square \times \square = \square$$


1) Observe as figuras e complete as operações:



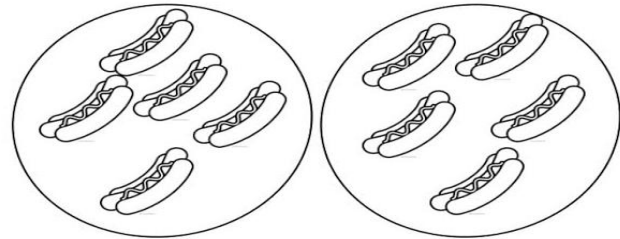
a) $2 + 2 =$ _____ ou $2 \times 2 =$ _____



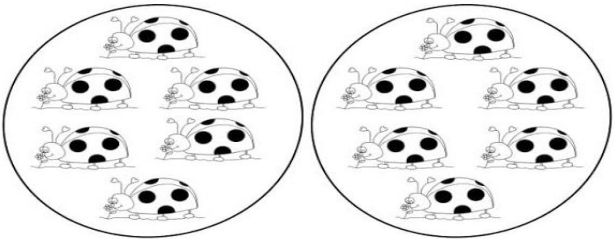
b) $3 + 3 =$ _____ ou $2 \times 3 =$ _____



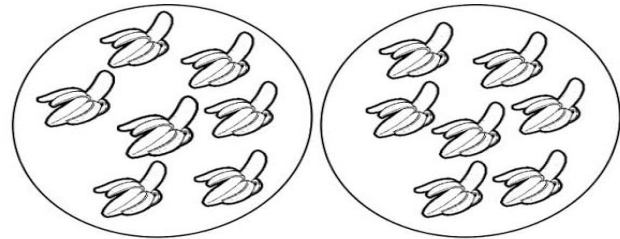
c) $2 \times 4 =$ _____



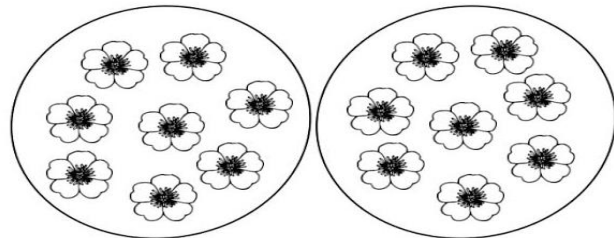
d) $2 \times 5 =$ _____



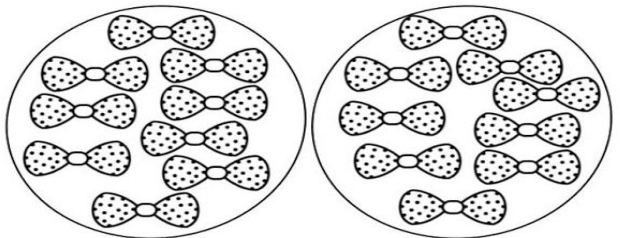
e) $2 \times 6 =$ _____



f) $2 \times 7 =$ _____



g) $2 \times 8 =$ _____



h) $2 \times 9 =$ _____

APRIME E RESOLVA

$195 + 33$

C	D	U

$322 + 85$

C	D	U

$492 + 89$

C	D	U

$359 + 94$

C	D	U

$135 + 16$

C	D	U

$413 + 70$

C	D	U

Atividade para 27/08

Artes

DOBRADURA DO SACI

