

E. M. PREFEITO SEME ISSA

PROFESSORA: JANILE CONSTANTINO

2º B



PREFEITURA DA ESTÂNCIA TURÍSTICA DE
IBIÚNA
Por uma Ibiúna próspera. Investindo no presente, gerando o futuro.



E.M. PREFEITO SEME ISSA

Aluno(a): _____

Ano: 2ºB

Bairro: _____

Professor(a): Janile

9ª APOSTILA 2021



- A apostila é referente aos dias: 09, 10, 11, 12, 13, 14, 16, 17, 18, 19, 20, 23, 24, 25, 26, 27/08 =16 dias.
- Esta APOSTILA deverá ser devolvida para correção **no dia 30/08 (SEGUNDA-FEIRA)**

Atenciosamente

Equipe E.M “Prefeito Seme Issa”

E. M. PREFEITO SEME ISSA

PROFESSORA: JANILE CONSTANTINO

2º B

NOME: _____

ROTEIRO DAS ATIVIDADES DA 9ª APOSTILA DO 2º ANO B

DATA	ATIVIDADE	PÁGINA
09/08	DIA DOS PAIS – DESENHO E PINTURA	2
09/08	LÍNGUA PORTUGUESA - DIA DOS PAIS: CAÇA-PALAVRAS	3
09/08	LÍNGUA PORTUGUESA – OLIMPIADAS: ATIVIDADES SOBRE FORMAÇÃO DE FRASES.	4
10/08	EDUCAÇÃO FÍSICA – OLIMPIADAS.	5
10/08	LÍNGUA PORTUGUESA – OLIMPIADAS: FORMAÇÃO PALAVRAS	6
11/08	LÍNGUA PORTUGUESA – OLIMPIADAS: ALFABETO	7
11/08	LÍNGUA PORTUGUESA – DIA DO ESTUDANTE: DIAGRAMA.	8
12/08	MATEMÁTICA – OLIMPIADAS: GRÁFICOS	9
12/08	OLIMPIADAS: JOGO DOS 7 ERROS.	10
13/08	MATEMÁTICA – ADIÇÃO.	11
13/08	MATEMÁTICA – ADIÇÃO.	12
14/08	MATEMÁTICA – FORMAS GEOMÉTRICAS.	13
14/08	MATEMÁTICA - SUBTRAÇÃO.	14
16/08	HISTÓRIA – DE OLHO NA IMAGEM.	15
16/08	HISTÓRIA – ATIVIDADES SOBRE AS IMAGENS.	16
17/08	HISTÓRIA – CALENDÁRIO.	17
17/08	HISTÓRIA – CALENDÁRIO.	18
18/08	LÍNGUA PORTUGUESA – HISTÓRIA EM QUADRINHOS.	19
18/08	LÍNGUA PORTUGUESA – HISTÓRIA EM QUADRINHOS (ZIRALDO).	20
19/08	LÍNGUA PORTUGUESA – INTERPRETAÇÃO DE TEXTOS	21
19/08	LÍNGUA PORTUGUESA – INTERPRETAÇÃO DE TEXTOS	22
20/08	LÍNGUA PORTUGUESA – INTERPRETAÇÃO DE TEXTOS	23
20/08	MATEMÁTICA – PROBLEMAS.	24
23/08	ARTES - FOLCLORE.	25
23/08	ARTES - FOLCLORE.	26
24/08	MATEMÁTICA - GRÁFICOS.	27
24/08	MATEMÁTICA - GRÁFICOS.	28
25/08	MATEMÁTICA – DIA DO SOLDADO: SEQUÊNCIA NUMÉRICA.	29
25/08	LÍNGUA PORTUGUESA – DIA DO SOLDADO: COMPLETE AS FRASES.	30
26/08	GEOGRAFIA – CLIMA / MEIO DE TRANSPORTE.	31
26/08	GEOGRAFIA – MEIOS DE COMUNICAÇÃO.	32
27/08	CIÊNCIAS – HÁBITOS DE HIGIENE.	33
27/08	CIÊNCIAS – RECICLAGEM.	34

E. M. PREFEITO SEME ISSA

PROFESSORA: JANILE CONSTANTINO


2º B

NOME: _____

DATA: 09/08/2021

DIA DOS PAIS

DESENHE VOCÊ NO FOGUETE, PINTE COM CAPRICHOS E DECORE



NOME: _____

DATA: 09/08/2021

LÍNGUA PORTUGUESA – DIA DOS PAIS

DIA DOS PAIS

RELACIONE OS NÚMEROS AOS NOMES COM PRESENTES PARA O PAPAI.



	GRAVATA
	BONÉ
	CAMISA
	SAPATO
	MEIA
	CUECA
	CARTEIRA
	CALÇA
	RELÓGIO
	CINTO

PROCURE OS NOMES DOS PRESENTES ACIMA

C	A	M	I	S	E	T	A	K	L	P	H	U	O
M	E	I	A	T	Y	B	O	N	É	I	X	F	G
C	V	S	A	P	A	T	O	H	I	O	S	E	R
M	G	R	A	V	A	T	A	J	Y	T	O	L	F
C	I	N	T	O	I	R	A	F	C	U	E	C	A
G	Y	C	A	L	Ç	A	F	K	Ç	W	Q	C	N
B	D	R	E	L	Ó	G	I	O	M	J	Z	D	R

E. M. PREFEITO SEME ISSA

PROFESSORA: JANILE CONSTANTINO

2º B

NOME: _____

DATA: 09/08/2021

LÍNGUA PORTUGUESA - OLIMPÍADAS

RESPONDA AS PERGUNTAS UTILIZANDO O BANCO DE PALAVRAS:

1. A PRIMEIRA OLIMPÍADA ACONTECEU NA _____.
2. O PRIMEIRO COLOCADO RECEBE A MEDALHA DE _____.
3. A _____ FICA ACES DURANTE TODA A DISPUTA DAS OLIMPÍADAS.
4. O TERCEIRO COLOCADO RECEBE A MEDALHA DE _____.
5. A OLIMPÍADA DE 2021 ESTÁ ACONTECENDO NO _____.
6. O ESPORTE EM QUE OS ATLETAS UTILIZAM UMA BICICLETA É O _____.
7. O SEGUNDO COLOCADO RECEBE A MEDALHA DE _____.
8. O ESPORTE EM QUE OS ATLETAS UTILIZAM UMA RAQUETE É O _____.
9. A DISPUTA DA MARATONA FAZ PARTE DO _____.
10. O ESPORTE EM QUE UMA REDE DIVIDE AS EQUIPES É O _____.

JAPÃO

TÊNIS

TOCHA

GRÉCIA

CICLISMO



ATLETISMO

VOLEIBOL

OURO

PRATA

BRONZE

EDUCAÇÃO FÍSICA- OLIMPÍADAS

GINÁSTICA ARTÍSTICA

"PULAR, VOAR... TUDO COM GRANDE BELEZA"

VAMOS COMPLETAR O NOME DAS MODALIDADES ABAIXO,
COLOCANDO AS LETRAS QUE FALTAM.

			
__RGOLAS	__ARRA __IXA	__AVALO __OM __LÇA	__OLO

		
__ARRAS __SSIMÉTRICAS	__RAVE	__ARRAS __ARALELAS

LÍNGUA PORTUGUESA - OLIMPÍADAS

VAMOS SEGUIR AS COORDENADAS E DESCOBRIR O NOME DO ESPORTE QUE A MÔNICA E A MAGALI ESTÃO PRATICANDO.



⊗	1	2	3	4
A	I	A	D	O
B	D	N	S	C
C	R	I	O	N
D	N	A	Z	O

1-D	2-A	1-B	4-D

3-B	1-A	2-B	4-B	1-C	4-A	4-C	2-C	3-D	2-D	3-A	3-C

"FICAR COM AS PERNAS FORA DA ÁGUA... E FAZER TUDO O QUE A PARCEIRA FIZER."

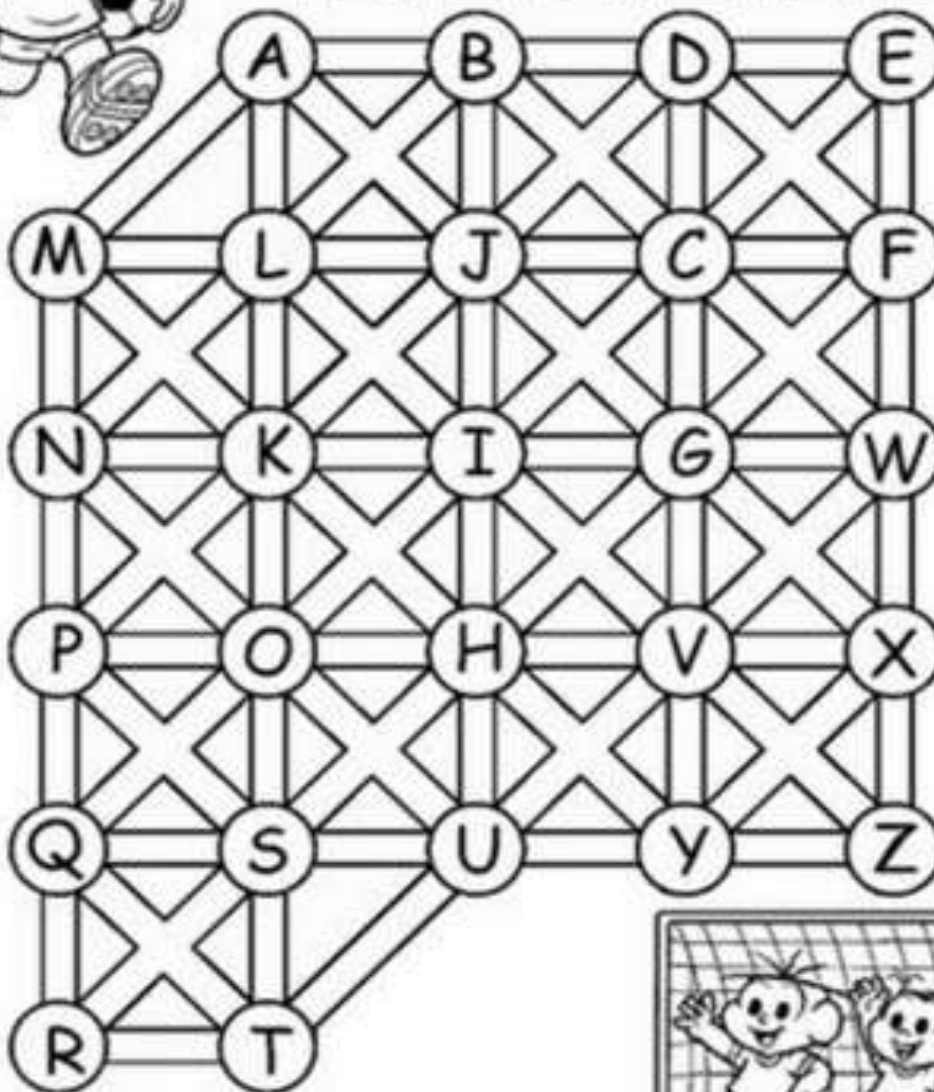
LÍNGUA PORTUGUESA - OLIMPÍADAS

FUTEBOL

"DRIBLAR E FAZER UM... GOOOOOOL."



O CASÇÃO VAI JOGAR FUTEBOL COM SUA TURMA NO CAMPINHO. VAMOS AJUDÁ-LO A ENCONTRAR SEUS AMIGOS SEGUINDO A TRILHA DO ALFABETO



LÍNGUA PORTUGUESA

Dia do Estudante – Dia 11 de Agosto

COMPLETE O DIAGRAMA

E	S	T	U	D	A	N	T	E
	S		U		A		T	
E		T		D		N		E
E	S		U				T	
	S			D		N		E
E		T			A		T	
	S		U	D			T	











MATEMÁTICA – OLIMPÍADAS

BASQUETE

"COM PRECISÃO, COLOCAR A BOLA NA CESTA."

VAMOS PINTAR AS BOLAS!



3	
5	
7	
9	
1	
4	
8	
6	
2	

E. M. PREFEITO SEME ISSA

PROFESSORA: JANILE CONSTANTINO

2º B


NOME: _____

DATA: 12/08/2021

VOLEI DE PRAIA

"IR BUSCAR UMA BOLA LONGE, SEM DEIXÁ-LA CAIR."

VAMOS DESCOBRIR AS 7 DIFERENÇAS!!




NOME: _____

DATA: 13/08/2021

MATEMÁTICA – ADIÇÃO

OBSERVE OS PONTOS QUE CADA CRIANÇA TEM, MONTE A CONTINHA E CALCULE.



Hércules

Tina

Trovão

Nina

Pontuação
de Hércules

$$\begin{array}{r} \square \\ + \square \\ \hline \square \end{array}$$

___ pontos.

Pontuação
de Tina

$$\begin{array}{r} \square \\ + \square \\ \hline \square \end{array}$$

___ pontos.

Pontuação
de Trovão

$$\begin{array}{r} \square \\ + \square \\ \hline \square \end{array}$$

___ pontos.

Pontuação
de Nina

$$\begin{array}{r} \square \\ + \square \\ \hline \square \end{array}$$

___ pontos.

E. M. PREFEITO SEME ISSA

PROFESSORA: JANILE CONSTANTINO


2º B

NOME: _____

DATA: 13/08/2021


MATEMÁTICA – ADIÇÃO

CALCULE E PINTE DE ACORDO COM A LEGENDA.




MATEMÁTICA – FORMAS GEOMÉTRICAS

PINTE: OS TRIÂNGULOS DE AMARELO, OS QUADRADOS DE AZUL, OS CÍRCULOS DE VERMELHO E OS RETÂNGULOS DE VERDE.



MATEMÁTICA – SUBTRAÇÃO

DESENHE, ASSINALE, CALCULE E PINTE.



HISTÓRIA

DE OLHO NA IMAGEM

MUITAS PESSOAS APROVEITAM O DESCANSO DO DOMINGO PARA FAZER ATIVIDADES AO AR LIVRE.

ASSIM COMO HÁ MUITAS MANEIRAS DE APROVEITAR O DOMINGO, HÁ TAMBÉM MANEIRAS DIFERENTES DE RETRATAR ESSE DIA.

OBSERVE ABAIXO AS IMAGENS 1 E 2. LEIA AS LEGENDAS.



► UMA TARDE DE DOMINGO NA ILHA DE GRANDE JATTE, DE GEORGES SEURAT, ÓLEO SOBRE TELA (205 CM X 305 CM), 1885. JATTE É UMA ILHA NO RIO SENA, NAS PROXIMIDADES DE PARIS, NA FRANÇA.



► PESSOAS PASSAM A TARDE NO PONTÃO DO LAGO SUL, ÀS MARGENS DO LAGO PARANOÁ, BRASÍLIA, DISTRITO FEDERAL, 2016.

HISTÓRIA

1 RESPONDA:

A) QUANDO A PINTURA (IMAGEM 1) FOI FEITA?

B) QUANDO A FOTOGRAFIA (IMAGEM 2) FOI TIRADA?

2 QUAIS SÃO AS SEMELHANÇAS E AS DIFERENÇAS ENTRE ESSAS DUAS IMAGENS?

SEMELHANÇAS	DIFERENÇAS

3 QUAL IMAGEM CHAMOU MAIS A SUA ATENÇÃO? POR QUÊ?

HISTÓRIA

▶ OS MESES E O ANO

VOCÊ SABE COMO NÓS ORGANIZAMOS O TEMPO DE UM ANO?

O DIA TEM
24 HORAS.

A SEMANA TEM
7 DIAS.

O MÊS TEM
30 OU 31 DIAS.


O ANO TEM
12 MESES.

1 VEJA NO CALENDÁRIO ABAIXO QUAIS SÃO OS MESES DO ANO E RESPONDA COM A AJUDA DO PROFESSOR:

- A) QUE MÊS VEM ANTES DE JULHO? C) EM QUE ANO ESTAMOS?
B) QUE MÊS VEM DEPOIS DE DEZEMBRO? D) QUAL FOI O ANO PASSADO?
E) QUAL SERÁ O PRÓXIMO ANO?

2 EM QUAIS MESES VOCÊ FREQUENTA A ESCOLA?

3 EM QUAIS MESES VOCÊ TEM FÉRIAS?



HISTÓRIA

O **CALENDÁRIO** NOS AJUDA A CONTAR A PASSAGEM DO TEMPO E A PLANEJAR NOSSAS ATIVIDADES DO DIA, DO MÊS E DO ANO.

NO CALENDÁRIO DO ANO DE 2019, ABAIXO, VOCÊ PODE VER QUE ALGUNS MESES TÊM 30 DIAS E OUTROS TÊM 31 DIAS.

- 1 QUANTOS MESES TEM O ANO? CONTE NO CALENDÁRIO A SEGUIR. _____
- 2 QUAIS SÃO OS MESES DO ANO QUE TÊM 30 DIAS?

- 3 QUAIS SÃO OS MESES DO ANO QUE TÊM 31 DIAS?

- 4 QUAL É O MÊS DO ANO QUE TEM O MENOR NÚMERO DE DIAS?

- 5 QUANTOS DIAS TEM O MÊS DE FEVEREIRO _____
- 6 EM QUAL MÊS TERMINA O ANO ESCOLAR? _____



LÍNGUA PORTUGUESA



PARA INICIAR

A SEGUIR, VOCÊ VAI CONHECER UMA HISTÓRIA EM QUADRINHOS SOBRE UM SEGREDO. E SE É SEGREDO... SERÁ QUE SEGREDO PODE SER CONTADO? O QUE PODE ACONTECER SE UM SEGREDO FOR ESPALHADO?

PARA DESCOBRIR O QUE ACONTECEU COM O SEGREDO, TENDE LER SOZINHO ESTA HISTÓRIA EM QUADRINHOS. SE PRECISAR DE AJUDA, PEÇA A UM COLEGA OU À PROFESSORA.

LEITURA: HISTÓRIA EM QUADRINHOS



LÍNGUA PORTUGUESA



ZIRALDO. AS MELHORES TIRADAS DO MENINO MALUQUINHO. SÃO PAULO: MELHORAMENTOS, 2000. P. 94.



SOBRE O AUTOR

O MINEIRO ZIRALDO ALVES PINTO É UM PREMIADO ESCRITOR DE LIVROS INFANTOJUVENIS. ENTRE SUAS OBRAS DESTACAM-SE O MENINO MALUQUINHO, O BICHINHO DA MAÇÃ E A TURMA DO PERERÊ.



LÍNGUA PORTUGUESA

INTERPRETAÇÃO DO TEXTO

ATIVIDADE ORAL E ESCRITA

1 DE QUEM ERA O SEGREDO E O QUE ACONTECEU NA HISTÓRIA?

2 QUEM FOI O PRIMEIRO AMIGO A OUVIR O SEGREDO?

3 COPIE DO PRIMEIRO QUADRINHO O PEDIDO QUE MALUQUINHO FAZ AO AMIGO.

4 O AMIGO ATENDEU AO PEDIDO? EXPLIQUE.

5 OBSERVE OUTRA VEZ ESTE QUADRINHO E RELEIA O BALÃO DE FALA.



BALÃO DE FALA INDICANDO A FALA DO MENINO MALUQUINHO.

A) O QUE SIGNIFICA **BZZ, BZZ, BZZ...** NESSE BALÃO DE FALA?

LÍNGUA PORTUGUESA

B) A EXPRESSÃO **BZZ, BZZ, BZZ...** APARECE VÁRIAS VEZES NA HISTÓRIA QUANDO UM PERSONAGEM CONTA ALGO PARA OUTRO. COMPLETE A SEQUÊNCIA COM O NOME DOS PERSONAGENS QUE A USAM.



6 OBSERVE A EXPRESSÃO DO ROSTO DE MALUQUINHO NO ÚLTIMO QUADRINHO DA HISTÓRIA. O QUE SERÁ QUE ELE PERCEBEU? CONVERSE COM OS COLEGAS E REGISTRE A RESPOSTA DE VOCÊS.



7 A HISTÓRIA MOSTRA QUE O SEGREDO ERA ENGRAÇADO. MARQUE UM X NAS EXPRESSÕES DAS FALAS QUE INDICAM ISSO.

- | | | |
|---|-------------------------------|---------------------------------|
| <input type="checkbox"/> BZZ, BZZ, BZZ... | <input type="checkbox"/> EPA! | <input type="checkbox"/> HEM? |
| <input type="checkbox"/> RÁIRÁIRÁ! | <input type="checkbox"/> UAU! | <input type="checkbox"/> RIIRI! |

LÍNGUA PORTUGUESA

- 8 RELEIA OS QUADRINHOS E RESPONDA: POR QUE AS PALAVRAS **UAU** E **EPA** ESTÃO ESCRITAS EM LETRAS BEM GRANDES? MARQUE UM **X** NO COM A RESPOSTA CERTA.



PARA INDICAR SOM BAIXO.

PARA INDICAR SUSSURRO.

PARA INDICAR SOM ALTO.

- 9 NO INÍCIO DA HISTÓRIA, MALUQUINHO PEDE A JUNIM QUE NÃO ESPALHE O SEGREDO.

A) RELEIA O QUADRINHO E VEJA O QUE ELE FALA PARA CAROL NO FINAL.



- B) O MENINO MALUQUINHO SE INTERESSA EM SABER SEGREDOS? O QUE DEMONSTRA EXISTIR OU NÃO ESSE INTERESSE?

NOME: _____

DATA: 20/08/2021

MATEMÁTICA - PROBLEMAS

Resolva os probleminhas abaixo:



VOVÓ MARIA FEZ 29 BOLINHOS. SEU NETO GABRIEL COMEU 7. QUANTOS BOLINHOS RESTARAM?

RESPOSTA: _____



A DIRETORA GOSTA DE COMER DUAS FRUTAS A TARDE E DUAS FRUTAS A NOITE. QUANTAS FRUTAS A DIRETORA COME POR DIA?

RESPOSTA: _____



UMA GALINHA BOTOU 12 OVOS, MAS 10 QUEBRARAM. COM QUANTOS OVOS ELA FICOU?

RESPOSTA: _____



FELIPE TINHA 13 BEXIGAS, GANHOU MAIS 5. COM QUANTAS BEXIGAS ELE FICOU?

RESPOSTA: _____

E. M. PREFEITO SEME ISSA

PROFESSORA: JANILE CONSTANTINO

2º B

NOME: _____

DATA: 23/08/2021

ARTES - FOLCLORE


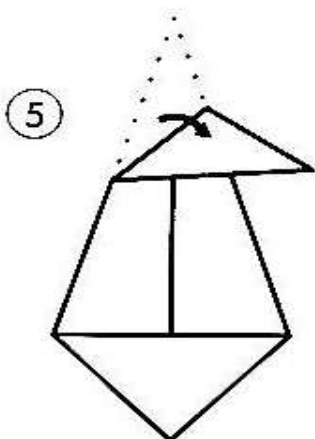
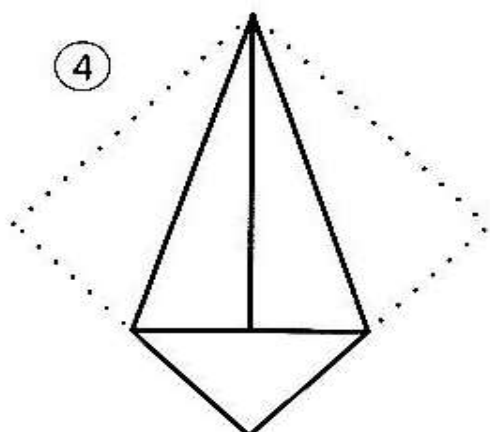
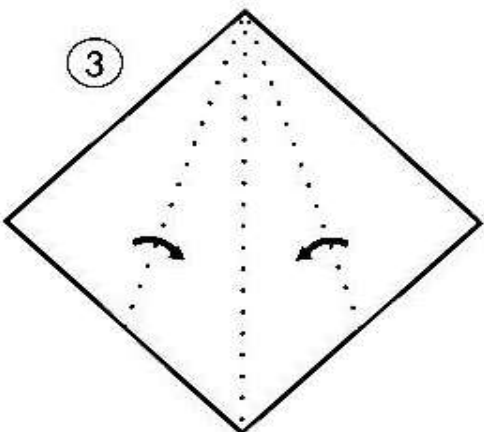
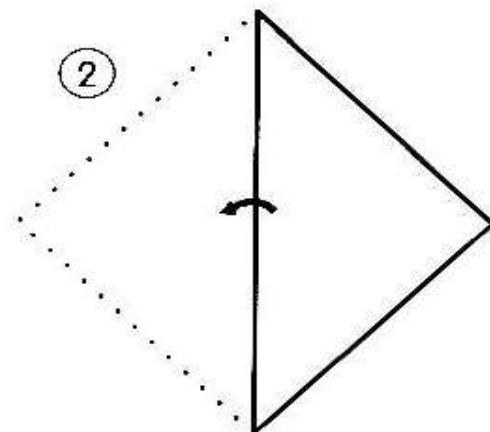
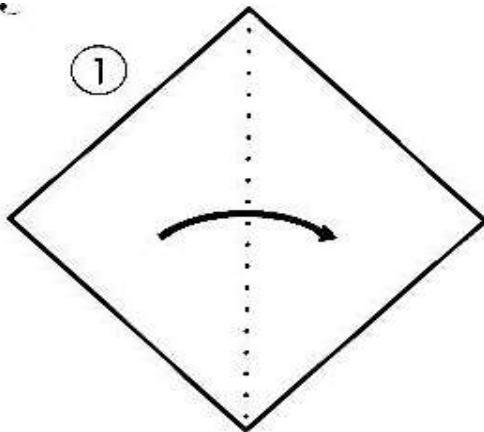
VAMOS FAZER UMA COLAGEM?

COMPLETE O DESENHO, COLANDO NA CAUDA DA IARA RASPINHAS DE LÁPIS OU PAPEL LAMINADO.



ARTES - FOLCLORE

DOBRADURA SACI, VAMOS FAZER SEGUINDO OS PASSOS ABAIXO.

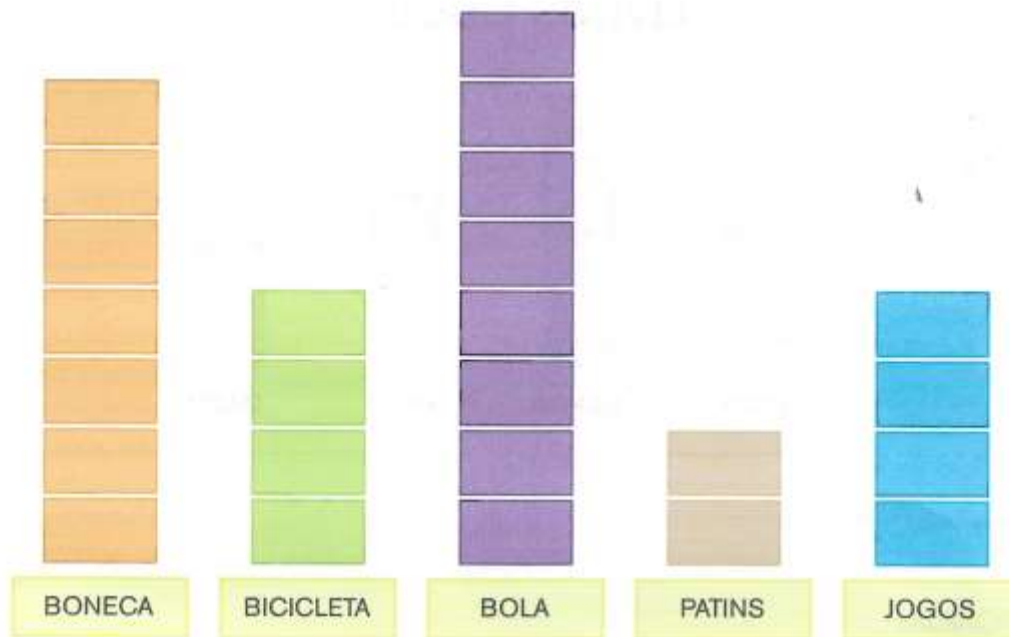


MATEMÁTICA - GRÁFICOS



ATIVIDADE 12.2

1. EM OUTRA TURMA, TAMBÉM FOI FEITA UMA VOTAÇÃO PARA SABER QUAIS SÃO OS BRINQUEDOS PREFERIDOS. OS RESULTADOS DESSA VOTAÇÃO ESTÃO APRESENTADOS A SEGUIR:



2. CADA CARTÃO REPRESENTA O VOTO DE UMA CRIANÇA. RESPONDA:

- A. QUANTAS CRIANÇAS VOTARAM EM BONECA? _____
- B. E EM BICICLETA? _____
- C. QUAL BRINQUEDO RECEBEU APENAS 2 VOTOS? _____
- D. QUANTAS CRIANÇAS PARTICIPARAM DA VOTAÇÃO? _____

MATEMÁTICA - GRÁFICOS

76

SEGUNDO ANO – CADERNO DO ALUNO – VOLUME 1

ATIVIDADE 12.3

1. QUATRO AMIGOS SE REUNIRAM PARA CONVERSAR SOBRE OS LIVROS QUE LERAM E DECIDIRAM MOSTRAR ESSAS INFORMAÇÕES NUM GRÁFICO DE COLUNAS. VEJA COMO FICOU:



Fonte: dados obtidos por Juliana

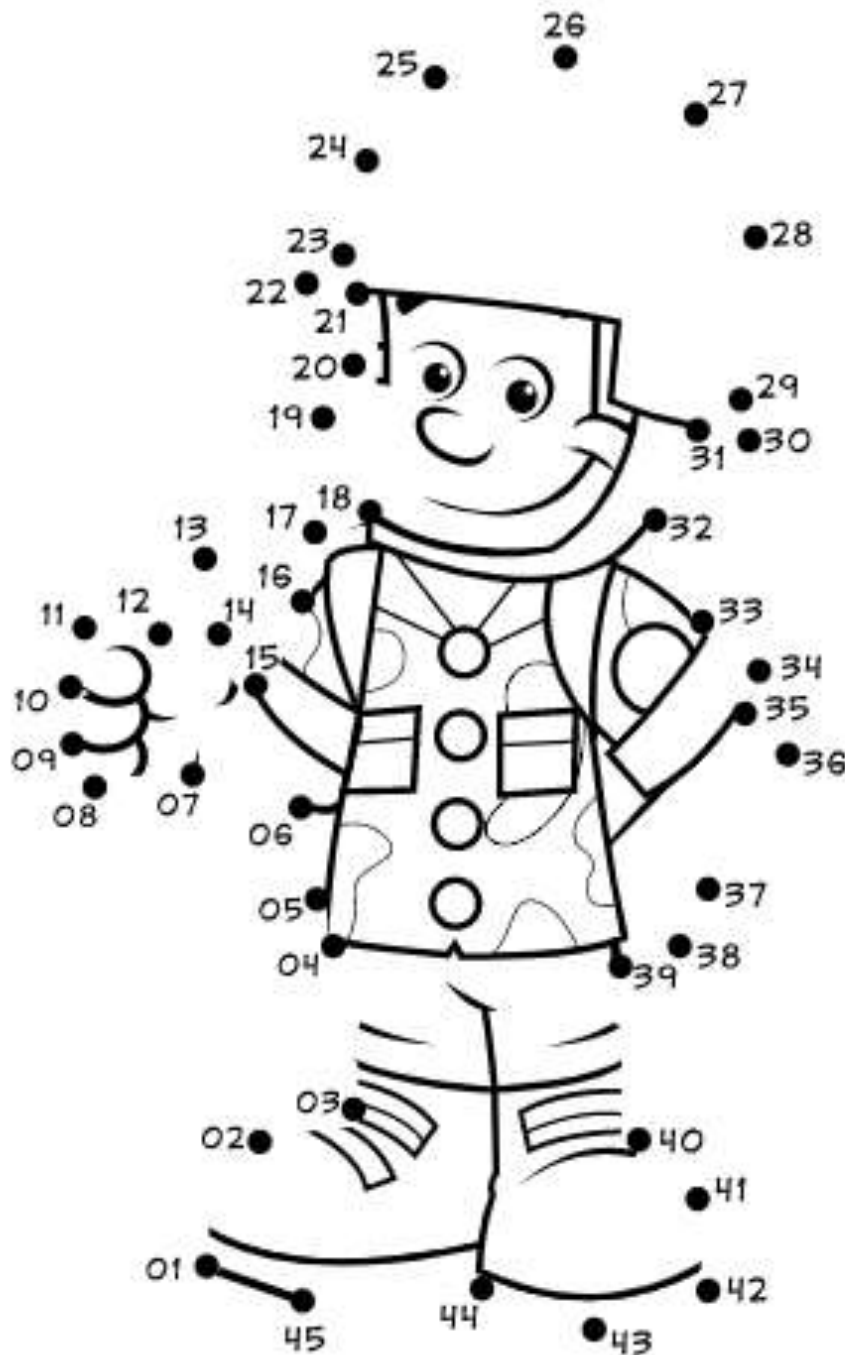
2. RESPONDA:

- A. QUAIS SÃO OS NOMES DESSES AMIGOS? _____

- B. QUANTOS LIVROS ENZO LEU? _____
- C. QUEM LEU MAIS LIVROS? _____
- D. QUE MENINA LEU MAIS LIVROS? _____
- E. QUANTOS LIVROS FÁBIO LEU A MAIS QUE IZABEL? _____
- F. QUEM LEU MAIS DE 6 LIVROS? _____

MATEMÁTICA – DIA DO SOLDADO

HOJE, DIA 25/08 É DIA DO SOLDADO. VAMOS LIGAR OS PONTOS, DE ACORDO COM A SEQUÊNCIA DE NÚMEROS E COLORIR O SOLDADO



LÍNGUA PORTUGUESA – DIA DO SOLDADO

MARCHA, SOLDADO

**MARCHA SOLDADO
CABEÇA DE PAPEL
SE NÃO MARCHAR DIREITO
VAI PRESO PRO QUARTEL.**

**O QUARTEL PEGOU FOGO.
O GUARDA DEU O SINAL:
- ACODE, ACODE, ACODE
A BANDEIRA NACIONAL.**



- Completar as frases abaixo de acordo com o texto:

Marcha

--	--	--	--	--	--	--	--

 (soldado)

Cabeça de

--	--	--	--	--	--

 (papel)

Se não

--	--	--	--	--	--	--	--

 direito
(marchar)

Vai

--	--	--	--	--	--

 pro
(preso)

--	--	--	--	--	--	--	--

(quartel)

GEOGRAFIA

1) Ir a praia é muito bom! Observe bem as imagens abaixo e pinte a figura com o clima mais apropriado para ir à praia:



CHUVA



FRIO



CALOR

2) Das opções abaixo, pinte as que você usaria em um dia bem **frio**.



Casaco



Biquini



Luvas



cachecol

GEOGRAFIA – ATIVIDADE 2

MEIOS DE TRANSPORTE

COMPLETE AS PALAVRINHAS COM AS LETRINHAS QUE ESTÃO FALTANDO:

TREM AVIÃO BICICLETA NAVIO CARRO



_ v _ a _



B _ _ i _ l _ t _



C _ _ r _



N _ v _ _



_ r _ m

GEOGRAFIA

Circule qual dos dois meios de comunicação abaixo transmite som e imagem.



TELEVISÃO



JORNAL

Agora desenhe um meio de comunicação que você costuma usar.

GEOGRAFIA

Ligue o meio de comunicação com quem o está usando:



CIÊNCIAS



COMO VOCÊ JÁ DEVE TER PERCEBIDO, NENHUM DE NÓS É IGUAL AO OUTRO, E ISSO TORNA TUDO MAIS DIVERTIDO!

NA IMAGEM AO LADO PODEMOS VER QUANTAS DIFERENÇAS ENTRE TANTAS PESSOAS EM NOSSAS VIDAS

1) ESCREVA ALGUMAS DIFERENÇAS QUE VOCÊ PERCEBEU NA IMAGEM.

2) CONVERSE COM OS ADULTOS DE SUA CASA E EXPLIQUE O QUE VOCÊ ENTENDE POR "NORMAL É SER DIFERENTE". REGISTRE AS CONCLUSÕES QUE VOCÊS CHEGARAM.

CIÊNCIAS

VAMOS PENSAR UM POUCO SOBRE NOSSOS HÁBITOS DE HIGIENE E COMPLETAR A CRUZADINHA.

③ Xampu

②

⑤

① S

② A

③ U

④ D

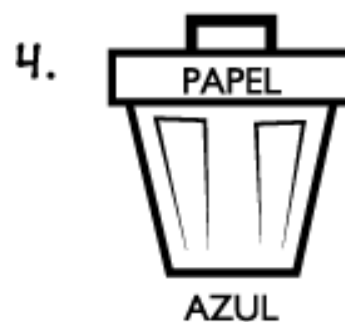
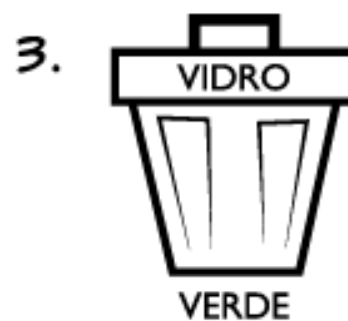
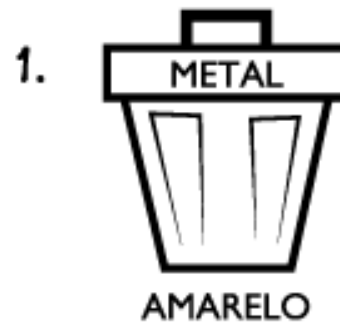


⑤ E

①

④

CIÊNCIAS

LIGUE CADA PRODUTO RECICÁVEL COM SUA LIXEIRA E PINTE-AS DE ACORDO COM A COR ABAIXO.



E. M. PREFEITO SEME ISSA

PROFESSORA: JANILE CONSTANTINO

2º B

NOME: _____

Fontes de consulta para a elaboração da 9ª apostila – 2º ano B

Livros Didáticos:

- APIS
- EMAI

Sites:

- <https://www.printerest.com.br>
- <https://compartilhandosaberesaberes.blogspot.com/>
- <https://mungfali.com/>
- <https://www.atividadesparaimprimir.com/>
- <http://notebookdaprof.blogspot.com/>
- <https://educacaoetransformacaooficial.blogspot.com/>
- [http:// www.cantinhodosaber.com.br](http://www.cantinhodosaber.com.br)
- <https://www.smartkids.com.br/>