



Prefeitura da Estância Turística de  
**IBIÚNA**  
TRANSFORMAÇÃO RESPONSÁVEL. CUIDANDO DE PESSOAS.



E.M “ZENI SOARES RAMALHO”

Atividades para estudo em Casa

10 º apostila

Período das atividades:30/08/2021 a 17/09/2021

Data da devolução:20/09/2021

Aluno (a):

Professora: Lucila Helena S.C. Germano

3º ano B

# Roteiro para realização das atividades

## Combinados das lições

- Lavar as mãos para fazer as lições;
- Escolher um lugar tranquilo e adequado para realizar as atividades;
- Ler com atenção;
- Fazer 2 atividades por dia, evitando assim o acúmulo;
- Fazer as tarefas com capricho e dedicação;
- Não amassar, não sujar e rasgar as atividades;
- Assistir aos links enviados pela professora no grupo de whatsApp;
- Em hipótese alguma deixar que outra pessoa escreva na sua apostila;
- Se tiver dúvidas perguntar para a professora.

**Lembre-se:**

**Você é capaz!!!**

**Eu acredito em você!!!**

E.M "ZENI SOARES RAMALHO"

LÍNGUA PORTUGUESA

1- LEIA O BILHETE COM ATENÇÃO E DEPOIS RESPONDA AS PERGUNTAS ABAIXO:

MAMÃE  
HOJE ACORDEI COM VONTADE DE TE  
ABRAÇAR, DE SENTAR NO SEU COLO  
COMO QUANDO ERA CRIANÇA E DE  
AGRADECER POR TUDO QUE FEZ POR  
MIM ATÉ HOJE.  
FELIZ DIA DAS MÃES!

DAIANA



A- QUEM ESCREVEU O BILHETE?

---

B- PARA QUEM O BILHETE FOI ESCRITO?

---

C- QUAL FOI O OBJETIVO DO BILHETE?

---

D- COMO FOI A DESPEDIDA DO BILHETE?




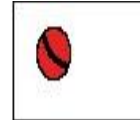
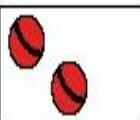
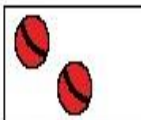
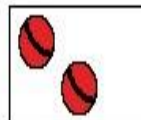
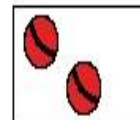
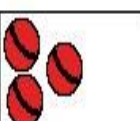
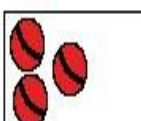
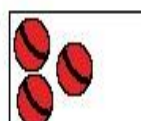
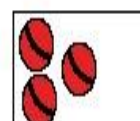

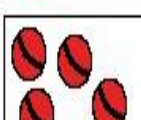
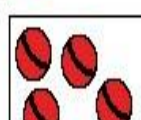
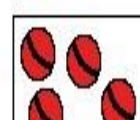
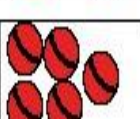

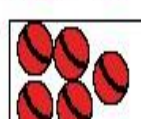

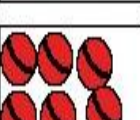

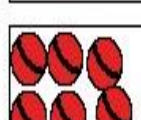
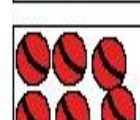
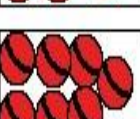


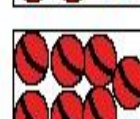
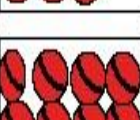







---

E- SE VOCÊ FOSSE ESCREVER UM BILHETE PARA SUA MÃE, COMO SERIA?

E. M "ZENI SOARES RAMALHO"

MATEMÁTICA

1) VAMOS COMPLETAR A TABUADA DO 4, USE OS DESENHOS AO LADO PARA CONFERIR OS RESULTADOS:

4	x	1	=					
4	x	2	=					
4	x	3	=					
4	x	4	=					
4	x	5	=					
4	x	6	=					
4	x	7	=					
4	x	8	=					
4	x	9	=					

E.M "ZENI SOARES RAMALHO"

MATEMÁTICA

COMPLETE A TABUADA DO 4, LEMBRANDO QUE EM CADA CESTA TEM 4 FRUTAS:

### Tabuada do 4

$1 \times 4 =$  \_\_\_\_\_ 

$2 \times 4 =$  \_\_\_\_\_ 

$3 \times 4 =$  \_\_\_\_\_ 

$4 \times 4 =$  \_\_\_\_\_ 


$5 \times 4 =$  \_\_\_\_\_ 


$6 \times 4 =$  \_\_\_\_\_ 

$7 \times 4 =$  \_\_\_\_\_ 

$8 \times 4 =$  \_\_\_\_\_ 

$9 \times 4 =$  \_\_\_\_\_ 

$10 \times 4 =$  \_\_\_\_\_ 

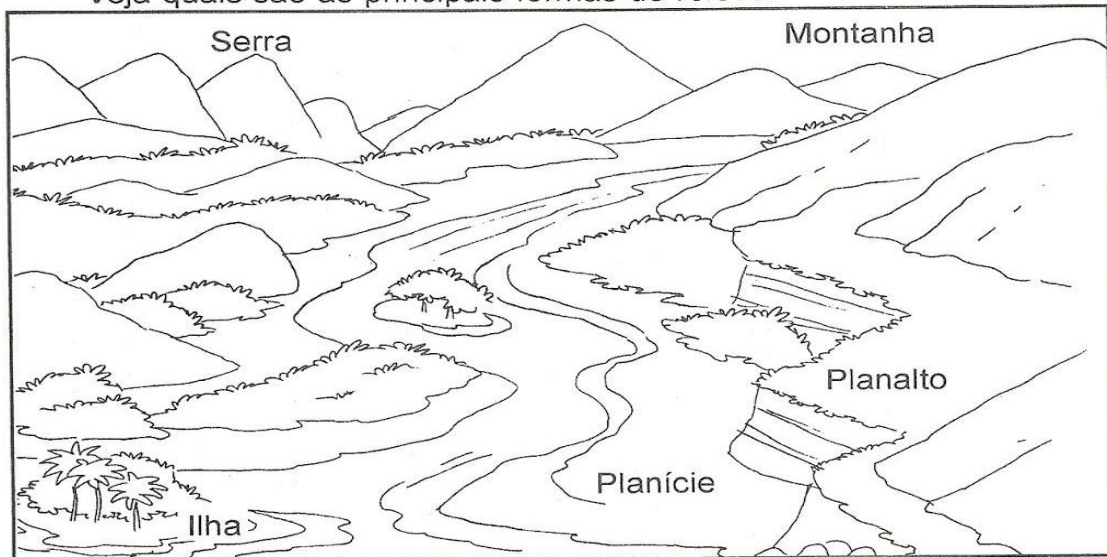


E.M "ZENI SOARES RAMALHO"

GEOGRAFIA

RELEVO É O CONJUNTO DE DIFERENTES FORMAS DA SUPERFÍCIE DA TERRA.

Veja quais são as principais formas de relevo:



- Planície: terreno plano e baixo.
- Planalto: terreno plano situado em lugar alto.
- Montanha: grande elevação de terra.
- Morro ou monte: pequena elevação de terra.
- Serra: conjunto de montanhas.
- Vale: espaço entre duas montanhas ou montes.
- Ilha: porção de terra cercada de água.

## Atividades




1 - Complete a cruzadinha, identificando as formas de relevo:

1 - Pequena elevação de terra.

2 - Terreno baixo e plano.

3 - Espaço mais baixo entre duas montanhas.

4 - Grande elevação de terra.



E. M "ZENI SOARES RAMALHO"

LÍNGUA PORTUGUESA

## BILHETE 1

Belinha,  
Passei na sua casa para contar o  
que aconteceu comigo ontem à noite.  
Telefone para mim hoje à tarde, que  
eu vou contar tudinho para você!  
Um beijinho da amiga Juliana.  
15/04/11

1- Marque a resposta certa:

Este gênero textual é um:

CARTÃO  AVISO  BILHETE  CONTO

2- O assunto principal do texto é para:

mostrar um brinquedo.  convidar para passear.  
 contar um acontecimento.

3- Quem escreveu o bilhete foi:

BELINHA  JULIANA  PAULA

4- Para quem ela escreveu?

JULIANA  BELINHA  PAULA

5- A data do bilhete é:

15 de junho de 2011  15 de janeiro de 2011.  
 15 de abril de 2011.

6- A palavra que indica o tempo do acontecido:

HOJE  ONTEM  AMANHÃ

7- O meio de comunicação usado foi:

CARTA  TELEGRAMA  TELEFONE

E. M "ZENI SOARES RAMALHO"

HISTÓRIA

### Independência do Brasil

A Independência do Brasil é um dos fatos históricos mais importantes de nosso país, pois marca o fim do domínio português e a conquista da autonomia política.

Muitas tentativas anteriores ocorreram e muitas pessoas morreram na luta por este ideal. Podemos citar o caso mais conhecido: Tiradentes. Foi executado pela coroa portuguesa por defender a liberdade de nosso país, durante o processo da Inconfidência Mineira.



<http://www.suapesquisa.com/independencia/>

1. O texto acima tem a finalidade de:

- Divertir o leitor       Informar o leitor  
 Dar uma notícia       Transmitir um ensinamento

2. No trecho "....pois marca o fim do domínio português."  
A qual país se refere a palavra português?

- Ao Brasil       A Portugal       Ao Paraguai

3. A expressão "autonomia política" significa que:

- O Brasil se tornara um país independente.  
 O Brasil continuaria obedecendo ordens vindas de Portugal.  
 O Brasil teria um novo presidente.

4. Pra você o que significa a palavra "Liberdade".

[https://3.bp.blogspot.com/-UuEiPCZs-](https://3.bp.blogspot.com/-UuEiPCZs-8w/Wa6GB4IU_BI/AAAAAAAAAJ2k/e1Ph8ls7TdwbKQyM7MGpdOGd4JAKMr2bQCLcBGAs/s1600/Slide5.JPG)

[8w/Wa6GB4IU\\_BI/AAAAAAAAAJ2k/e1Ph8ls7TdwbKQyM7MGpdOGd4JAKMr2bQCLcBGAs/s1600/Slide5.JPG](https://3.bp.blogspot.com/-UuEiPCZs-8w/Wa6GB4IU_BI/AAAAAAAAAJ2k/e1Ph8ls7TdwbKQyM7MGpdOGd4JAKMr2bQCLcBGAs/s1600/Slide5.JPG)



E. M "ZENI SOARES RAMALHO"

MATEMÁTICA

ATENÇÃO AO COMPLETAR A ATIVIDADE NÚMERO 1, VOCÊ TERÁ OS RESULTADOS DA TABUADA DO 5, NA ATIVIDADE 2.

## TABUADA DIVERTIDA

1- VAMOS CONTAR DE 5 EM 5?

1	2	3	4		6	7	8	9	
11	12	13	14		16	17	18	19	
21	22	23	24		26	27	28	29	
31	32	33	34		36	37	38	39	
41	42	43	44		46	47	48	49	

2- AGORA, OBSERVE A TABELA E COMPLETE A TABUADA DO 5.

5 X 1 = \_\_\_\_\_

5 X 10 = \_\_\_\_\_

5 X 2 = \_\_\_\_\_

5 X 3 = \_\_\_\_\_


5 X 4 = \_\_\_\_\_

5 X 5 = \_\_\_\_\_

5 X 7 = \_\_\_\_\_

5 X 8 = \_\_\_\_\_

5 X 9 = \_\_\_\_\_



E.M "ZENI SOARES RAMALHO"

CIÊNCIAS

## MAPA MUNDI E PLANISFÉRIO

DAR OS, Vital. Paisagem Brasileira. FTD.

A maior parte da superfície da terra está coberta de água. Água salgada: os oceanos.

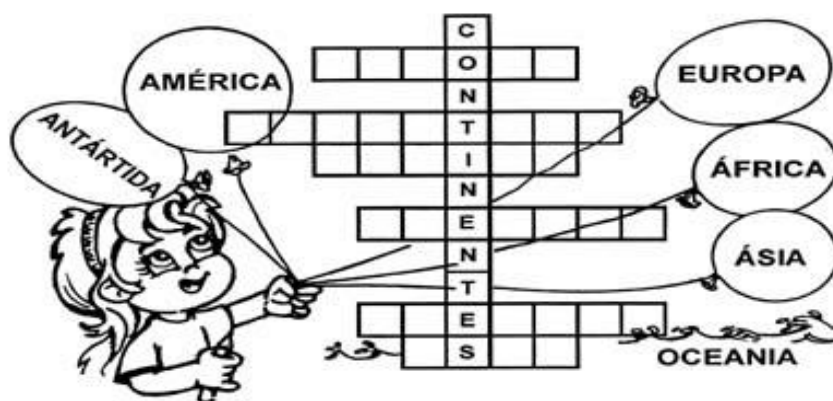
As águas que cobrem a Terra formam uma camada contínua. Mas é costume dividir essa camada em quatro grandes partes, isto é, em quatro oceanos: Pacífico Atlântico, Índico e Glacial Ártico. O maior de todos é o oceano Pacífico.

Todas as terras emersas, isto é, as terras aparecem fora das águas dos oceanos, estão agrupadas em seis partes chamadas continentes.

Os seis continentes da Terra são: Europa, Ásia, África, América, Oceania e Antártida.

Com exceção da Antártida, os continentes estão divididos em países. Cerca de 190 países.

A Antártida é um patrimônio de toda a humanidade, isto é, pertence a todos os habitantes da Terra. É o "continente branco", quase todo coberto de gelo. Por isso, a vida humana naquela região é muito difícil. Nela se encontram apenas algumas equipes de pesquisadores. Entre elas uma equipe de cientistas brasileiros. Mas a Antártida é uma região muito rica em espécies animais, como pingüins, leões-marinhos e focas.



E.M "ZENI SOARES RAMALHO"

LÍNGUA PORTUGUESA

ORTOGRAFIA



**DESCUBRA O SEGREDO DAS FRASES E ESCREVA-AS  
AO LADO DO QUADRO:**



**A)**

BRINCA	O	SOZINHO
MENINO	DE	BOLA.

**B)**

GANHOU	ÂNGELA	BRINCOS
DE	BRONZE.	UM PAR



**C)**

GOSTA	CÍNTIA	DE	ONÇAS.
SOBRE	COMPRAR	AS	REVISTA

**D)**

PALITO	É	PALHAÇO	
UM	E	ENGRAÇADO	ESPERTO!



E.M "ZENI SOARES RAMALHO"

ARTES

# VIVA A INDEPENDÊNCIA DO BRASIL!



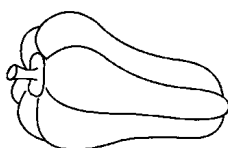

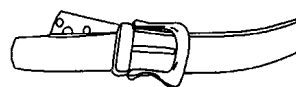
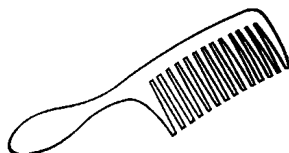



<https://1.bp.blogspot.com/-KhB7ryJmig/V8isjtN2TYI/AAAAAAAAfNA/cMqzSwdBbk4neY5fsIUQ-nKOFMYjZD6RgCLcB/s1600/INDEPENDENCIA.png>

E.M "ZENI SOARES RAMALHO"

LÍNGUA PORTUGUESA

ORTOGRAFIA

➔ **ESCREVA OS NOMES DOS DESENHOS:**



[https://soatividades.com/wp-content/uploads/2019/03/efai3091\\_alfabetizacao\\_ortografia\\_letra\\_an\\_en\\_in\\_on\\_un\\_escrever\\_nomes.png](https://soatividades.com/wp-content/uploads/2019/03/efai3091_alfabetizacao_ortografia_letra_an_en_in_on_un_escrever_nomes.png)

E.M "ZENI SOARES RAMALHO"

HISTÓRIA

# HINO DA INDEPENDÊNCIA DO BRASIL

TRECHO DA MÚSICA DE EVARISTO DA VEIGA

LETRA DE D. PEDRO I

JÁ PODEIS, DA PÁTRIA FILHOS,  
VER CONTENTE A MÃE GENTIL;  
JÁ RAIOU A LIBERDADE  
NO HORIZONTE DO BRASIL.



BRAVA GENTE BRASILEIRA!  
LONGE VÁ... TEMOR SERVIL:  
OU FICAR A PÁTRIA LIVRE  
OU MORRER PELO BRASIL.

VAMOS ENCONTRAR AS PALAVRAS SUBLINHADAS!

W	E	P	Á	T	R	I	A	R	T	Y	U	I
L	I	B	E	R	D	A	D	E	P	A	S	D
G	H	O	R	I	Z	O	N	T	E	H	J	K
Z	X	B	R	A	S	I	L	E	I	R	A	X
V	B	N	M	L	I	V	R	E	Q	A	Z	W
X	B	R	A	S	I	L	E	D	C	R	F	V

<https://atividadespedagogicas.net/wp-content/uploads/2012/02/hino-da-independencia-do-brasil.png>

E.M "ZENI SOARES RAMALHO"

MATEMÁTICA

TABUADA DO 5

1) COMPLETE DE 5 EM 5.

0									
---	--	--	--	--	--	--	--	--	--

2) LIGUE CORRETAMENTE:


$2 \times 5$	•	•	40	•	•	$5 + 5 + 5 + 5 + 5$
$6 \times 5$	•	•	25	•	•	$5 + 5$
$8 \times 5$	•	•	10	•	•	$5 + 5 + 5 + 5 + 5 + 5 + 5 + 5 + 5 + 5$
$10 \times 5$	•	•	5	•	•	$5 + 5 + 5 + 5 + 5 + 5 + 5 + 5$
$5 \times 5$	•	•	20	•	•	$5 + 5 + 5 + 5 + 5 + 5$
$1 \times 5$	•	•	35	•	•	$5 + 5 + 5 + 5$
$4 \times 5$	•	•	50	•	•	5
$7 \times 5$	•	•	30	•	•	$5 + 5 + 5 + 5 + 5 + 5 + 5$

E.M "ZENI SOARES RAMALHO"

CIÊNCIAS

OS CONTINENTES

*Encontre no caça palavras o nome dos seis continentes existentes no nosso planeta.*



AMÉRICA- EUROPA-ÁSIA-ÁFRICA-OCEANIA-ANTÁRTIDA

<https://escolaeducacao.com.br/wp-content/uploads/2018/06/ca%C3%A7a-palavras-geografia-continentes.jpg>



E.M "ZENI SOARES RAMALHO"

LÍNGUA PORTUGUESA

GÊNERO DO SUBSTANTIVO

Masculino / Feminino

Os substantivos podem ser masculinos ou femininos, conforme se possa colocar **O** ou **A** antes deles.

Exemplo:




A menina (está no feminino)



O menino (está no masculino)

♦ Resolva a cruzadinha colocando o feminino das palavras abaixo:

- 1- pato
- 2- leão
- 3- cavalo
- 4- pombo
- 5- macaco
- 6- rei
- 7- bode
- 8- boi
- 9- carneiro
- 10- galo



<https://i.pinimg.com/originals/8a/04/7c/8a047cebaa5da3c36d83c6f6c6c9d866.png>

[https://1.bp.blogspot.com/-0LDhm5rWt\\_k/V9vsHQjPsCI/AAAAAAAAAB90/nSLoREq47mM9SUu-gpfhAlmLHwqXVG0SQCLcB/s1600/Atividades%2Bmasculino%2Be%2Bfeminino%2Bensino%2Bfundamental%2B%25287%2529.jpg](https://1.bp.blogspot.com/-0LDhm5rWt_k/V9vsHQjPsCI/AAAAAAAAAB90/nSLoREq47mM9SUu-gpfhAlmLHwqXVG0SQCLcB/s1600/Atividades%2Bmasculino%2Be%2Bfeminino%2Bensino%2Bfundamental%2B%25287%2529.jpg)

E. M "ZENI SOARES RAMALHO"

ARTES

LEIA E PINTE OS DESENHOS COM CAPRICHOS.

## O que é Pátria?



E.M "ZENI SOARES RAMALHO"

LÍNGUA PORTUGUESA

GÊNERO DO SUBSTANTIVO: MASCULINO E FEMININO

1 - Pinte as palavras masculinas de azul e femininas de amarelo.

vaca	rei	menina	bode
ator	mamãe	cavalo	mulher
aluna	segro	abelha	amigo
príncipe	tia	galo	leoa

2- Classifique as palavras nos quadros:



E.M "ZENI SOARES RAMALHO"

MATEMÁTICA

- ☞ Raquel colocou 3 bombons em cada pacote.  
Quantos bombons há em 7 pacotes?



**Operação**

---

---

Resposta: \_\_\_\_\_

- ☞ Um cão tem 4 patas.  
Quantas patas tem 8 cães?




**Operação**

---

---

Resposta: \_\_\_\_\_

- ☞ Papai lê 2 folhas de um livro por hora.  
Quantas folhas do livro papai lerá em 5 horas?



**Operação**

---

---

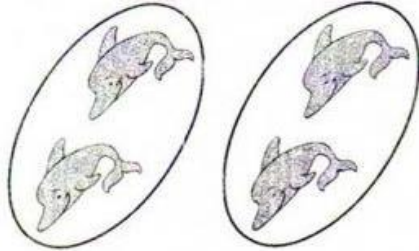
Resposta: \_\_\_\_\_

E.M "ZENI SOARES RAMALHO"

MATEMÁTICA

MULTIPLICAÇÃO


1. Observe as figuras e complete as operações:




a)  $2 + 2 = \dots\dots\dots$  ou  $2 \times 2 = \dots\dots\dots$



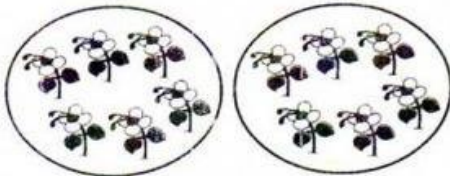
b)  $3 + 3 = \dots\dots\dots$  ou  $2 \times 3 = \dots\dots\dots$



c)  $2 \times 4 = \dots\dots\dots$



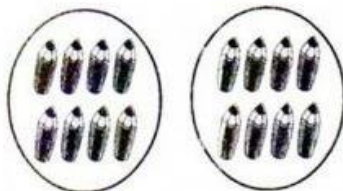
d)  $2 \times 5 = \dots\dots\dots$



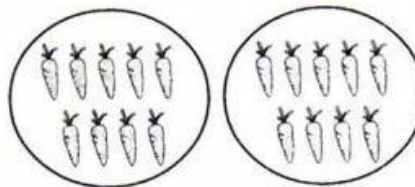
e)  $2 \times 6 = \dots\dots\dots$



f)  $2 \times 7 = \dots\dots\dots$



g)  $2 \times 8 = \dots\dots\dots$




h)  $2 \times 9 = \dots\dots\dots$

E.M "ZENI SOARES RAMALHO"

GEOGRAFIA

## Diagrama do relevo

♦ Encaixe as palavras no diagrama conforme o número de letras:



E.M "ZENI SOARES RAMALHO"

MATEMÁTICA

ARME E RESOLVA

$392 - 27$

<b>C</b>	<b>D</b>	<b>U</b>

$130 - 29$

<b>C</b>	<b>D</b>	<b>U</b>

$234 - 67$

<b>C</b>	<b>D</b>	<b>U</b>

$108 - 31$

<b>C</b>	<b>D</b>	<b>U</b>

$115 - 60$

<b>C</b>	<b>D</b>	<b>U</b>

$306 - 81$

<b>C</b>	<b>D</b>	<b>U</b>



$453 - 99$

<b>C</b>	<b>D</b>	<b>U</b>

$316 - 90$

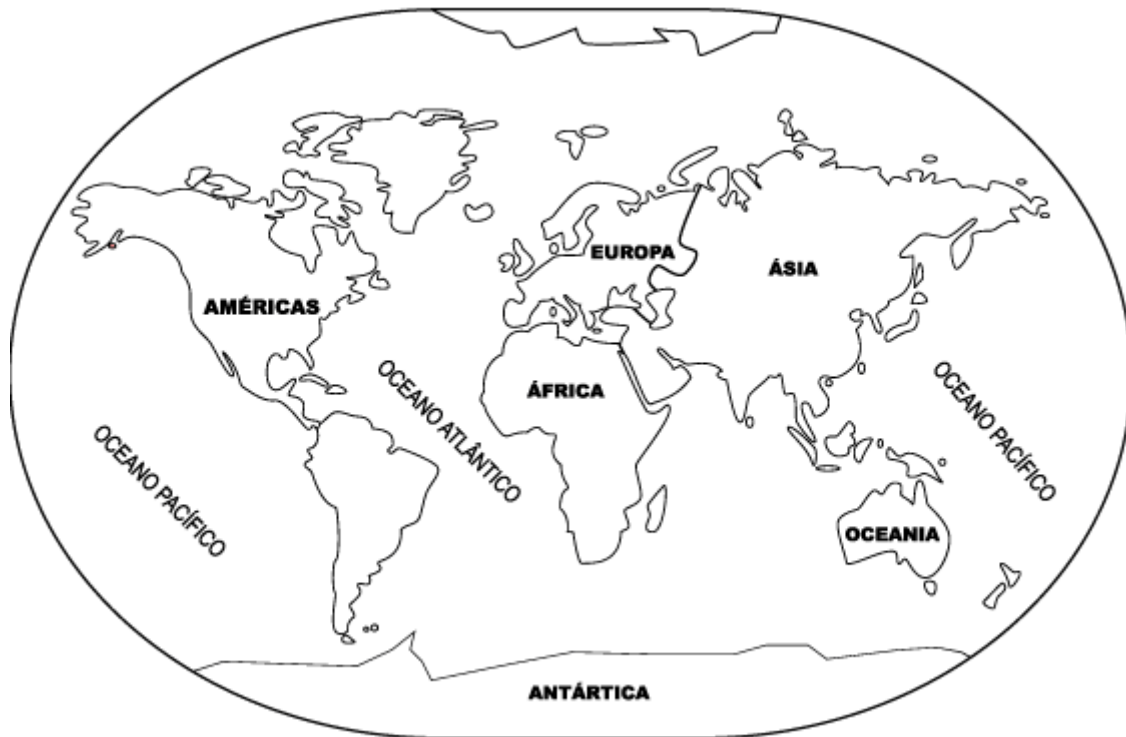
<b>C</b>	<b>D</b>	<b>U</b>

<http://1.bp.blogspot.com/-iFU6cwB5Dds/XDjshookmPI/AAAAAAAAANLw/hg8At0Z625Au0MITqSGituYWekWhvTGPQCK4BGAYYCw/s1600/Continhas%2Bcom%2Bcasinha%2BCDU%2B0menos.jpg>

E.M “ZENI SOARES RAMALHO”

CIÊNCIAS

PINTE OS CONTINENTES DE VERDE E OS OCEANOS DE AZUL.



ESCREVA ABAIXO OS NOMES DOS CONTINENTES E OCEANOS.

CONTINENTES	OCEANOS

<https://i.pinimg.com/originals/3b/19/ce/3b19ce5fb3aef4fc6f77edefa9965f10.png>



E. M "ZENI SOARES RAMALHO"

LÍNGUA PORTUGUESA

Ligue os bilhetes ao assunto



*Otávio,  
Obrigada pelos CDs  
que você enviou-me pela  
Dany.  
Breve os devolverei.  
03/04*

*Mayra*

Bilhete de pedido

*Lucas,  
Adorei seu carro novo!  
Você tem muito bom gosto.  
Parabéns pela escolha.  
21/07*

*Paula*

Bilhete de agradecimento

*Melissa,  
Mamãe pediu para você  
acordar o Marlon às seis e  
meia.*

*06/12*

*Beijão.*

*Marcelo*

Bilhete de elogio

Escreva um bilhete avisando para a mamãe que você foi brincar na casa de um colega.


<https://3.bp.blogspot.com/->

[Qela2vj\\_i7I/UCJo358xnul/AAAAAAAAALE/xjkmnIALy8s/s1600/Digitalizar0006-746497.jpg](https://3.bp.blogspot.com/-Qela2vj_i7I/UCJo358xnul/AAAAAAAAALE/xjkmnIALy8s/s1600/Digitalizar0006-746497.jpg)

E. M "ZENI SOARES RAMALHO"

ARTES

LEIA E PINTE COM CAPRICHOS.



[https://3.bp.blogspot.com/-5d3b-DWKliw/Tl6A7yw95QI/AAAAAAAAAC1w/aDJVUukTOSM/s1600/atividade semana da patria+%25283%2529.jpg](https://3.bp.blogspot.com/-5d3b-DWKliw/Tl6A7yw95QI/AAAAAAAAAC1w/aDJVUukTOSM/s1600/atividade%20semana%20da%20patria%25283%2529.jpg)