

E.M: "BAIRRO SAMANO JOSÉ GABRIEL PINTO"
ATIVIDADES REMOTAS – 10ª APOSTILA
DE 30 DE AGOSTO A 17 DE SETEMBRO DE 2021
1º ANO A
PROFESSORA: IARA ARAÚJO ALMEIDA
GESTORA: CLAUDINEIA VIEIRA ARANHA
COORDENADORA: TATIANA CARVALHO PIVETA



VIVA A INDEPENDÊNCIA DO BRASIL

ALUNO(A): _____

REFERÊNCIAS:

www.daniieducar.com.br

ideiacriativa.org


<https://educacaoetransformacaooficial.blogspot.com>

ATIVIDADES PARA OS DIAS 30 E 31 DE AGOSTO

NOME: _____

7 DE SETEMBRO

SETE DE SETEMBRO,
TÃO FESTIVA DATA,
FOI A INDEPENDÊNCIA
DESTA TERRA TÃO QUERIDA.



É UMA GRANDE DATA
PARA O MEU BRASIL,
QUE HOJE ESTÁ LIBERTO
E CHEIO DE ENCANTOS MIL.

VIVA, VIVA, VIVA A INDEPENDÊNCIA
DO BRASIL.

} BIS

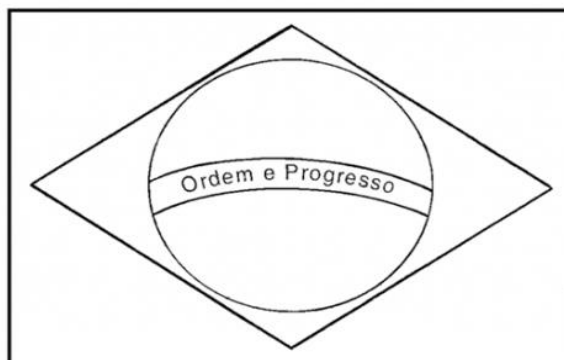
1) A que país se refere a música?

--	--	--	--	--	--

2) Completar:

B	R	A	S	I	L
	R		S		L
B		A		I	
B	R	A			
			S	I	L

7 DE SETEMBRO - INDEPENDÊNCIA DO BRASIL



ESSA É A BANDEIRA DO

AS CORES DA BANDEIRA SÃO:

QUANTAS CORES SÃO?

O QUE ESTÁ ESCRITO NA BANDEIRA?

CALENDÁRIO SETEMBRO - 2021

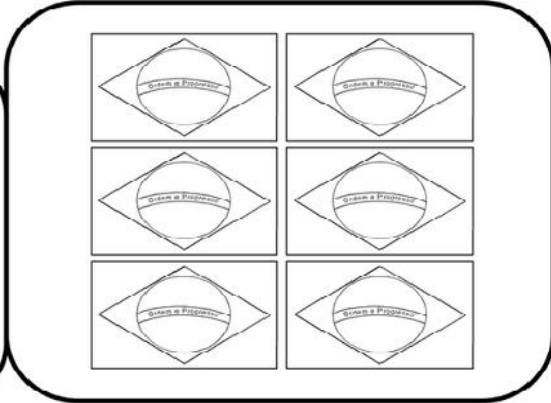
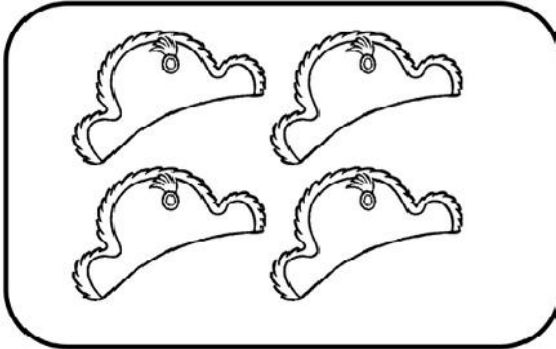


DOMINGO	SEGUNDA - FEIRA	TERÇA- FEIRA	QUARTA- FEIRA	QUINTA- FEIRA	SEXTA- FEIRA	SÁBADO
			1	2	3	4
5	6	7	8	9	10	11
12	13	14	15	16	17	18
19	20	21	22	23	24	25
26	27	28	29	30		


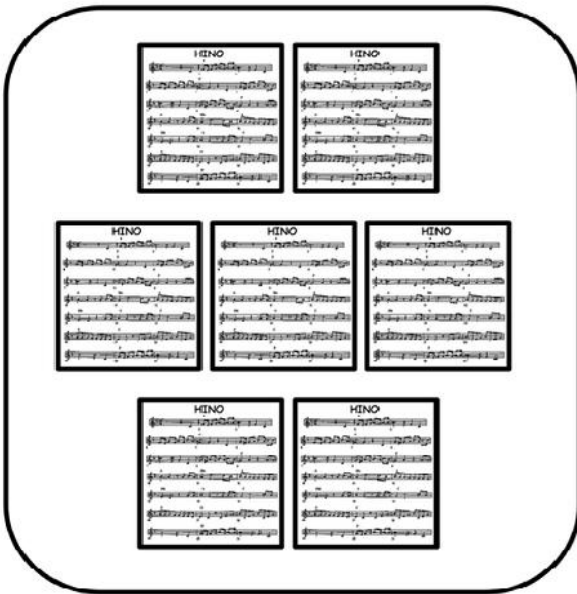
Aluno: _____



VAMOS LIGAR CADA CONJUNTO DE FIGURAS AO NÚMERO CORRESPONDENTE!




1 2 3 4 5 6 7 8 9



NOME

SUCCESSOR E ANTECESSOR

1 - COMPLETE COM OS NÚMEROS QUE VÊM ANTES E DEPOIS.



	2	
--	---	--

	5	
--	---	--

	15	
--	----	--

	19	
--	----	--

	22	
--	----	--

	29	
--	----	--

	25	
--	----	--

	40	
--	----	--

2 - COMPLETE AS SEQUÊNCIAS NUMÉRICAS .

a)

25					30
----	--	--	--	--	----

b)

11				15	
----	--	--	--	----	--

c)

5			8		
---	--	--	---	--	--



ATIVIDADES PARA OS DIAS 01, 02, 03, 08 E 09 DE SETEMBRO
NOME: _____

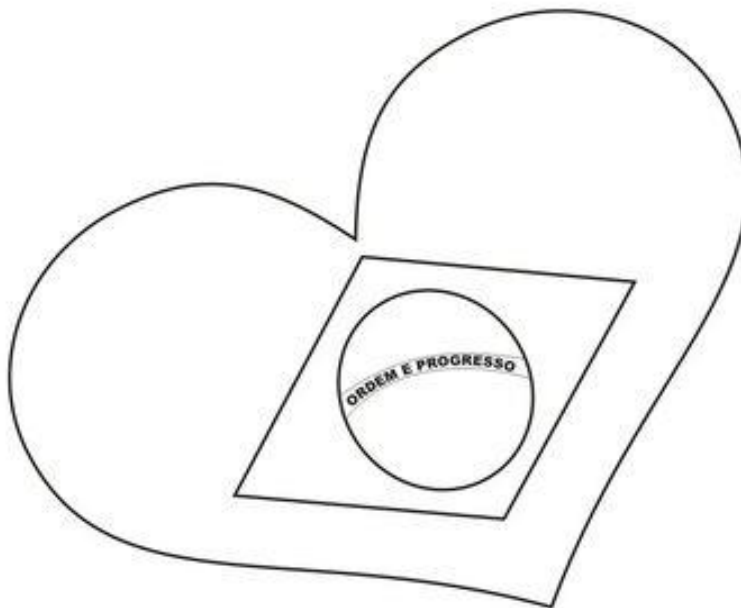


Atividade para Casa

Aluno (a) _____

Data __ / __ / ____.

PINTE E COLE ESTRELINHAS NO CÍRCULO



ESSE É O MEU PAÍS
SEM COMPARAÇÃO
JÁ TEM O FORMATO
DO CORAÇÃO

MOACIR FRANCO


RECORTE DO ALFABETO MÓVEL AS LETRAS DO NOME DE
NOSSO PAÍS E COLE ABAIXO.

A	B	C	D
E	F	G	H
I	J	K	L
M	N	O	P
Q	R	S	T
U	V	W	X
Y	Z		

NOME: _____

DATA: _____

LINGUAGEM ORAL E ESCRITA



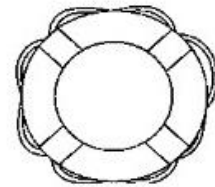
COMPLETE AS PALAVRAS COM **B**




___ **ANANA**



___ **OLA**




___ **OIA**



___ **OI**



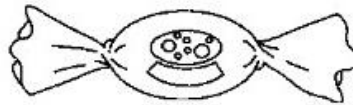
___ **ONECA**



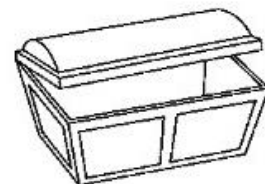
___ **ONÉ**




___ **ALDE**



___ **ALA**




___ **AÚ**



___ **OLO**



___ **ALÃO**



___ **ULE**

NOME: _____

DATA: _____

LINGUAGEM ORAL E ESCRITA



JUNTE A CONSOANTE COM AS VOGAIS E FORME AS SÍLABAS

B

A



E



I



O



U



NOME: _____

DATA: _____



LINGUAGEM ORAL E ESCRITA

PINTE SOMENTE OS DESENHOS
QUE INICIAM COM A MESMA SÍLABA.



NOME

SUCCESSOR E ANTECESSOR




1 - COMPLETE O QUADRO COM AS QUANTIDADES.



ANTES	QUANTIDADE	DEPOIS

2 - COMPLETE O QUADRO COM OS NÚMEROS.

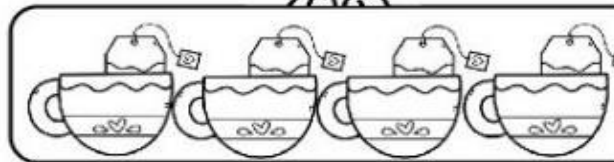

ANTECESSOR	NÚMERO	SUCCESSOR
	19	
	8	
		15
28		
	40	
49		



NOME

PROBLEMINHAS

1) ONTEM MAMÃE TOMOU 3 XÍCARAS DE CHÁ E PAPAÍ TOMOU 4 XÍCARAS. QUANTAS XÍCARAS DE CHÁ TOMARAM JUNTOS?





OPERAÇÃO

$$\square + \square = \square$$

RESPOSTA

_____ XÍCARAS.

2) MAMÃE E PAPAÍ COMERAM 4 BOLINHOS CADA UM. QUANTOS BOLINHOS COMERAM JUNTOS?



OPERAÇÃO

$$\square + \square = \square$$

RESPOSTA

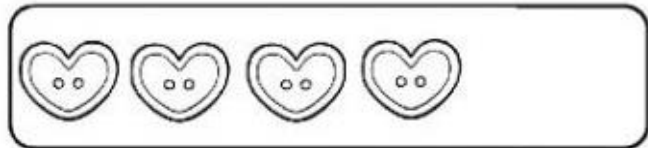
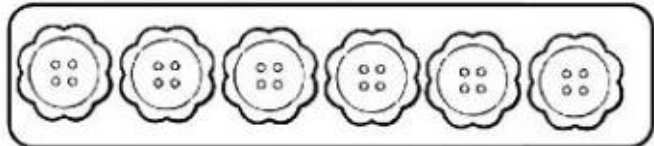
_____ BOLINHOS.

NOME

PROBLEMINHAS

LUANA E NOAH JUNTAM BOTÕES COLORIDOS EM POTES.

1) LUANA IRÁ COLOCAR EM SEU POTE 6 BOTÕES EM FORMA DE FLOR E 5 EM FORMA DE CORAÇÃO. QUANTOS BOTÕES ELA COLOCARÁ NO POTE?



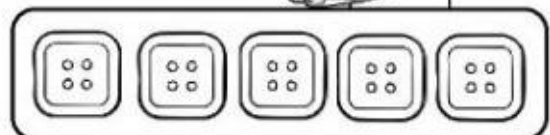
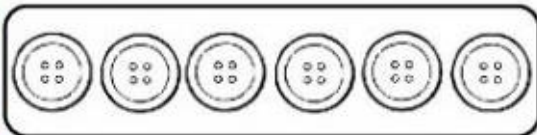
OPERAÇÃO

+ =

RESPOSTA

_____ BOTÕES.

2) NOAH COLOCARÁ EM SEU POTE 6 BOTÕES REDONDOS E 5 QUADRADOS. QUANTOS BOTÕES ELE COLOCARÁ NO POTE?



OPERAÇÃO

+ =

RESPOSTA

_____ BOTÕES.



ESCOLA: _____
TURNA: _____ **PROFESSOR(A):** _____
EU SOU: _____

1- COMPLETE A SEQUÊNCIA NUMÉRICA, RECORTE E COLE O NUMERAL QUE VEM ANTES, DEPOIS E ENTRE.

11 13

12 13

13 14

17 18

18 19

18 20

12 14

16 17




14	16	19	15
18	12	17	13

ATIVIDADES PARA OS DIAS 10, 13,14,16 E 17 DE SETEMBRO

NOME

MATEMÁTICA

www.morequina.com.br
atividades para crianças

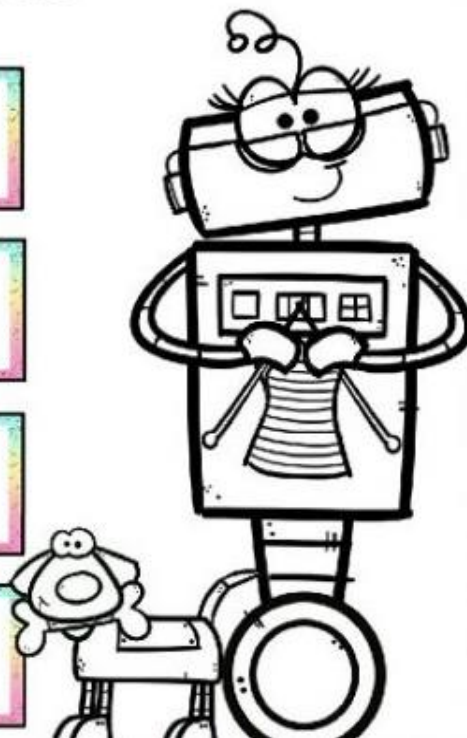


1) COMPLETE A SEQUÊNCIA NUMÉRICA.

1					7			
			14					
						28		

2) ESCREVA QUEM VEM ANTES E DEPOIS.

	14	
	9	
	30	
	19	



NOME: _____

DATA: _____ / _____ / _____



@damieducar

P R I M A V E R A

CONTE QUANTAS FOLHAS A LAGARTA LALA VAI COMER. ANOTE A QUANTIDADE.

@damieducar


1 2 3 4 5

COLOQUE OS NUMEROS QUE VOCÊ CONTOU DAS FOLHINHAS EM ORDEM CRESCENTE.

○ ○ ○ ○ ○


NOME: _____

DATA: _____ / _____ / _____




P R I M A V E R A

LIGUE CADA QUANTIDADE DE BOLINHAS NA ASINHA DAS BORBOLETAS EM O NÚMERO CORRESPONDENTE.




1
2
3
4
5
6
7
8
9
10



NOME: _____

DATA: _____ / _____ / _____



@damieducar

P R I M A V E R A

NA PRIMAVERA POSSO VER
ABELHAS, PASSARINHOS E BELAS BORBOLETAS
FLORES DE TODAS AS CORES
AZUL, AMARELAS E VIOLETAS

Dani Campos

@damieducar



QUANTAS FLORES ESTÃO NO JARDIM DA MAGALI?

QUANTAS ABELHAS APARECEM?



QUANTOS PASSARINHOS ESTÃO VOANDO?



CONTE COMIGO QUANTOS SÃO JUNTOS:




NOME: _____

DATA: _____ / _____ / _____

@damieducar

PRIMAVERA

COMPLETE O PONTILHADO DA ABELHA BELINDA E DEPOIS PINTE AS CORES QUE ESTÃO NA ASA E COLE LANTEJOULAS.



ESCOLA: _____

NOME: _____

DATA: ___/___/___

Alfabetizar com AMOR
www.amorensina.com.br

QUE BELA, A PRIMAVERA!

ISABEL CRISTINA SILVEIRA SOARES

PASSARINHOS COLORIDOS




MULTICORES BORBOLETAS

GRAMA E ÁRVORES VERDEJANTES

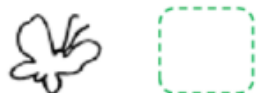

SALPICANTES VIOLETAS!



VIVA A PRIMAVERA!



AMORZINHO, OBSERVE O DESENHO, COLOQUE O NUMERAL CORRESPONDENTE E AS LETRAS FALTOSAS.



B _ RB _ L _ T _



P _ SS _ R _ NH _

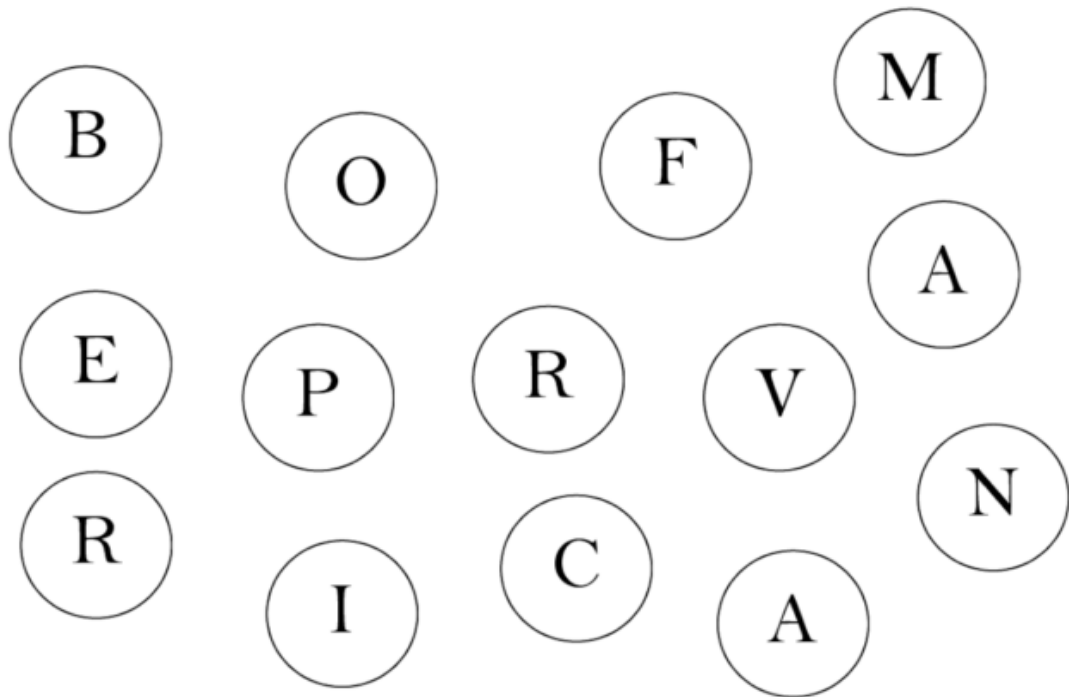


FL _ R



_ RV _ R _

PINTE OS CÍRCULOS QUE ESTÃO COM AS LETRAS DA PALAVRA "PRIMAVERA".



LEIA AS PALAVRAS ABAIXO E PINTE SOMENTE AQUELAS QUE FORAM FORMADAS COM AS LETRAS QUE TÊM NA PALAVRA:

PRIMAVERA

REMA	MAPA	EVA	RAIA
PARA	TAPETE	OVO	VEM
PIPOCA	BACIA	RALO	ÍMPAR
MARIA	VERA	RIMA	PASSARINHO
VASSOURA	ALICATE	VIOLETA	BORBOLETA
PRIMA	AVE	VIRA	VARA

Atividade Primaveril

PODERÃO ARRANCAR
TODAS AS FLORES, MAS
NÃO CONSEGUIRÃO
ACABAR COM A
PRIMAVERA.



1. ENCONTRE OS 4 ERROS.



MONTE O SEU QUEBRA-CABEÇA DA PRIMAVERA

Atividade Primaveril

PODERÃO ARRANCAR
TODAS AS FLORES, MAS
NÃO CONSEGUIRÃO
ACABAR COM A
PRIMAVERA.



1. VAMOS PINTAR, RECORTAR E MONTAR ?

