



PREFEITURA DA ESTÂNCIA TURÍSTICA DE
IBIÚNA
Por uma Ibiúna próspera. Investindo no presente, gerando o futuro.
SECRETARIA DE EDUCAÇÃO



Rua Raimundo Santiago, nº 27 - Centro
Telefone: (15) 3248-1292/e-mail: apoiopedagogicosmeibiuna@hotmail.com

E.M. Benedita Cordeiro Medelos

3º A 10ª apostila

Data de entrega: **30/08**

Devolução: **20/09**

Prof.ª Katia



NOME: _____

30/08/2021 a 17/09/2021

A VACA FILOMENA E A FORMIGA VIOLETA

Isabel Cristina Silveira Soares

A VACA FILOMENA
MORA NA VILA FORMOSA
A FORMIGA VIOLETA
MORA NA CERCA COR DE ROSA.



A VACA FILOMENA
COME AS UVAS DA VIDEIRA
A FORMIGA VIOLETA
COME AS FOLHAS DA ROSEIRA.

A VACA FILOMENA
COME E FICA A DESCANSAR
A FORMIGA VIOLETA
CORTA FOLHA A TRABALHAR.



A VACA NA VIDEIRA
E A FORMIGA NA ROSEIRA
CADA UMA CONTRIBUI
COM NATUREZA TÃO ORDEIRA!

NOME: _____

DATA: ___/___/___

INTERPRETANDO O POEMA

1) COMPLETE:

A) O NOME DA VACA É:

B) O NOME DA FORMIGA É:

2) RESPONDA.

A) ONDE MORA A VACA?

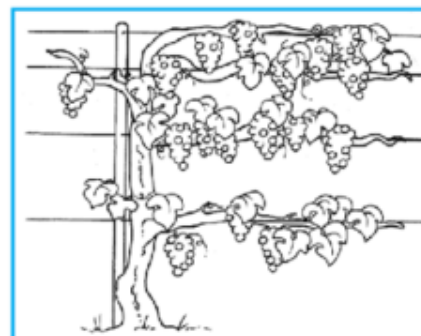
B) ONDE MORA A FORMIGA?

3) LIGUE CADA UMA AO SEU ALIMENTO.

VACA FILOMENA



FORMIGA VIOLETA



NOME: _____

DATA: ___/___/___



NA LOJA PERTO DA CASA DA MÔNICA, VENDE MÁSCARAS DE PROTEÇÃO. VEJA OS PREÇOS NA TABELA E RESPONDA AS PERGUNTAS A SEGUIR.

TABELA DE PREÇOS

 MÁSCARA DA MÔNICA	
 MÁSCARA DO BIDU	
 MÁSCARA DO CEBOLINHA	

A) QUAL A MÁSCARA DE MAIOR VALOR?

RESPOSTA: _____

B) QUAL A MÁSCARA DE MENOR VALOR?

RESPOSTA: _____

C) A MÔNICA COMPROU UMA MÁSCARA DO CEBOLINHA E UMA MÁSCARA DO BIDU. QUAL O VALOR QUE IRÁ PAGAR NA COMPRA DAS MÁSCARAS? MARQUE COM UM (X) A RESPOSTA CORRETA.

 R\$9,00 R\$ 5,00 R\$10,00

NOME: _____

DATA: ___/___/___

4) COMPLETE COM AS AÇÕES DE CADA.



FILOMENA ESTÁ



VIOLETA ESTÁ

5) COMPLETE OS PARES DE RIMAS.

FORMOSA RIMA COM

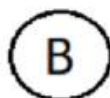
VIDEIRA RIMA COM

DESCANSAR RIMA COM

ROSEIRA RIMA COM

6) PINTE A LETRA INICIAL DE CADA PALAVRA

VIOLETA



FILOMENA



NOME: _____



DATA: ___/___/___

Atividade volta às aulas

AMIGUINHOS, OBSERVE A IMAGEM A SEGUIR E RESPONDA AS PERGUNTAS:



NA CENA, HÁ UMA FILA DE CRIANÇAS PARA LAVAR AS MÃOS. O ATO DE LAVAR É UMA MEDIDA PARA COMBATER O CORONAVIRUS NA NOSSA SALA DE AULA? PINTE O QUADRADO CORRESPONDENTE:



RISQUE A PRIMEIRA PESSOA DA FILA:

CIRCULE A ÚLTIMA PESSOA DA FILA:

FAÇA UM x NAS DUAS CRIANÇAS QUE ESTÃO NO MEIO DA FILA:

QUANTAS  MENINAS HÁ NA FILA? _____

QUANTOS  MENINOS HÁ NA FILA? _____



SE JUNTAR O NÚMERO DE  +  = MENINAS E MENINOS, QUANTAS CRIANÇAS TEMOS NA FILA? _____

NOME: _____


DATA: ___/___/___

LEIA E RESPONDA.

A VACA FILOMENA
COME CAPIM.



- * QUANTAS PALAVRAS TÊM NA FRASE? _____
- * PRIMEIRA PALAVRA? _____
- * ÚLTIMA PALAVRA? _____
- * NOME DA VACA? _____
- * A VACA FILOMENA COME _____




VACA

- * PRIMEIRA LETRA?
- * ÚLTIMA LETRA?
- * PRIMEIRA SÍLABA?
- * ÚLTIMA SILÁBA?

© 2014 T. L. L.

QUESTÃO 03

VEJA O CHAPEUZINHO DO ANIVERSÁRIO DA ELIZAMA.



QUAL DAS FIGURAS ABAIXO TEM A MESMA FORMA DO CHAPEUZINHO?



A)



B)




C)



D)

QUESTÃO 04

VANESSA E SEUS AMIGOS SAÍRAM PARA IR AO CIRCO E COMBINARAM QUE A PESSOA MAIS ALTA DO GRUPO COMPRARIA OS INGRESSOS NA BILHETERIA.



Tatiana

Marcelo

Amanda

Pedro

QUEM FOI COMPRAR OS INGRESSOS?

A) AMANDA

B) PEDRO

C) TATIANA

D) MARCELO

NOME: _____

DATA: ___/___/___

7) ENCONTRE NO DIAGRAMA AS PALAVRAS ABAXO.
 VACA – VILA – FORMIGA – FILOMENA – VIOLETA –
 FORMOSA – VIDEIRA – UVA – FOLHA – FICA – FORMOSA –

V	A	C	A	M	N	H	J	K	F	O	L	H	A	B	P	O	I	U	V
I	H	F	D	S	A	Q	W	E	T	Y	U	O	P	M	N	U	V	A	I
D	M	B	V	C	X	Z	A	S	V	I	L	A	Ç	L	K	J	H	V	D
V	I	O	M	J	N	F	O	R	M	I	G	A	V	I	L	M	N	B	E
F	I	L	O	M	E	N	A	V	I	L	T	B	V	M	O	P	E	V	I
I	L	T	V	I	O	L	E	T	A	V	D	R	A	F	I	L	O	N	R
C	K	J	H	G	F	D	D	R	F	F	O	R	M	O	S	A	B	V	A
A	M	V	N	I	N	A	V	O	F	O	L	H	A	M	A	C	I	A	O

8) FALE OS NOMES DOS DESENHOS EM VOZ ALTA E
 REGISTRE-OS NA COLUNA CORRETA.



PALAVRAS COM F

PALAVRAS COM V

NOME: _____ DATA: ___/___/___

OBSERVE OS BRINQUEDOS DO JOÃO E FAÇA O QUE SE PEDE:



CONTE E DESCUBRA O NÚMERO DE CADA BRINQUEDO ABAIXO:

	<input type="text"/>		<input type="text"/>		<input type="text"/>
	<input type="text"/>		<input type="text"/>		<input type="text"/>


KO:

OBSERVE A ESTANTE DE JOÃO E DESCUBRA O TOTAL DOS BRINQUEDOS ABAIXO:


DS

 +  _____ + _____ = _____	 +  _____ + _____ = _____
 +  _____ + _____ = _____	 +  _____ + _____ = _____

NOME: _____ DATA: ___/___/___



A VACA FILOMENA E A FORMIGA VIOLETA



1) COMPLETE



ESTE ANIMALZINHO É UMA _____.

SEU NOME É _____.



ESTE ANIMAL É UMA _____.

SEU NOME É _____.

2) VAMOS COMPLETAR AS PALAVRAS COM AS INICIAIS DE VIOLETA E FILOMENA.



__ADA



__INHO



__IVELA



__OGUEIRA



__ELA



__ESTIDO



__AGALUME



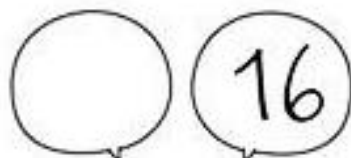
__OGUETE





COMPLETE A SEQUÊNCIA NUMÉRICA

0									
10									
20									
30									
40									

QUEM VEM ANTES?



QUEM VEM DEPOIS?

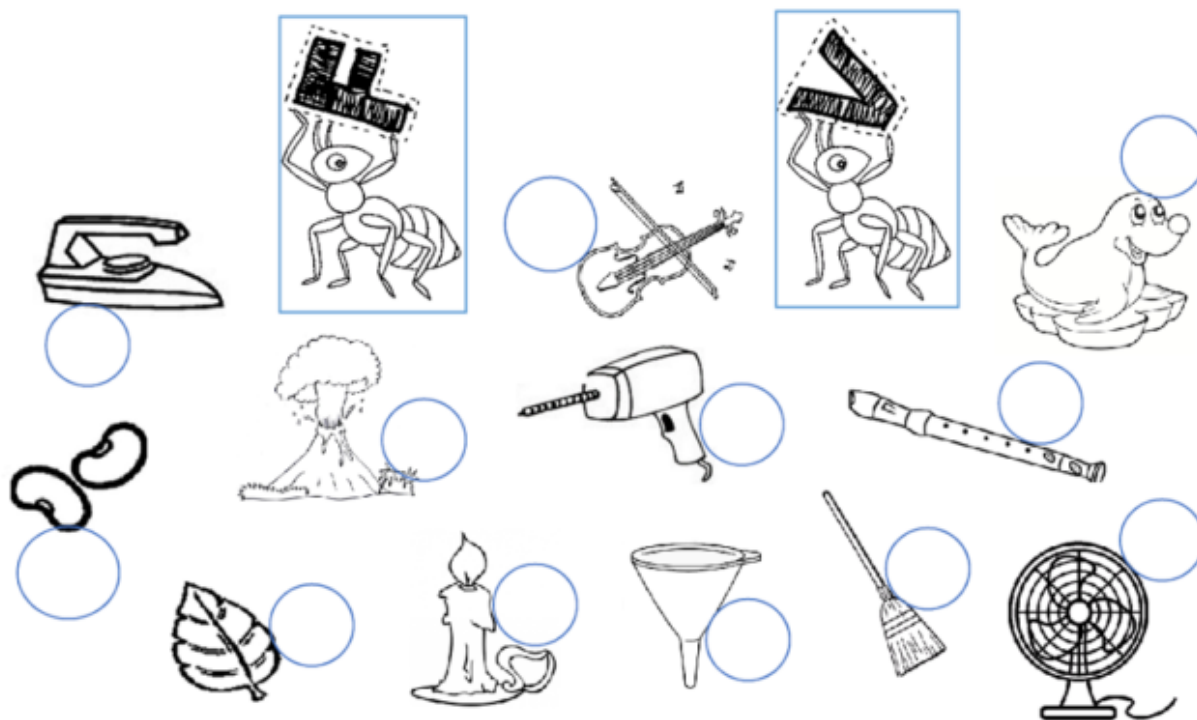


I
S
R
A
E
L
A

K
O
T
O
N
A

A VACA FILOMENA E A FORMIGA VIOLETA

- LIGUE OS DESENHOS DE ACORDO COM AS INICIAIS DE SEUS NOMES E NUMERE-OS CONFORME A PALAVRA.



1 - FEIJÃO

6 - FLAUTA

11 - VIOLINO

2 - FERRO

7 - FOLHA

12 - VULCÃO

3 - FUNIL

8 - VELA

4 - FURADEIRA

9 - VENTILADOR

5 - FOCA

10 - VASSOURA

NOME: _____

DATA: ___/___/___


CONTE E CLASSIFIQUE

QUANTOS SÃO?

LETRAS	NÚMEROS
<input type="text"/>	<input type="text"/>
VOGAIS	CONSOANTES
<input type="text"/>	<input type="text"/>

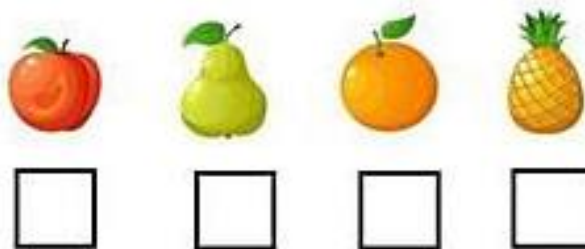
A ARTE DE ENSINAR E APRENDER

DONA LURDES SÓ SAI DE CASA PARA COMPRAR O NECESSÁRIO NO MERCADO. VEJA ALGUMAS FRUTAS QUE DONA LURDES COMPROU:



QUANTAS FRUTAS HÁ ACIMA? _____

AGORA INDIQUE A QUANTIDADE DE CADA TIPO DE FRUTA.



CHEGANDO EM CASA DONA LURDES LAVOU AS FRUTAS E AS COLOCOU EM UMA CESTA SOBRE A MESA. VEJA:



QUANTAS FRUTAS ESTÃO **FORA** DA CESTA?


ESCREVA O NOME DE UMA FRUTA QUE VOCÊ GOSTE:

**7 DE SETEMBRO
DIA DA INDEPENDÊNCIA DO BRASIL!
PINTE AS LETRAS QUE FORMAM A PALAVRA:**

BRASIL



ATIVIDADE



PINTE AS VOGAIS NO GRITO DE INDEPENDÊNCIA DO BRASIL.

INDEPENDÊNCIA OU MORTE!



MARQUE A EXPRESSÃO QUE INDICA COMO FICOU O POVO
BRASILEIRO NO DIA DA INDEPENDÊNCIA.



NOME: _____

DATA: ___/___/___

QUAL A INICIAL DESTA PALAVRA? ESCREVA

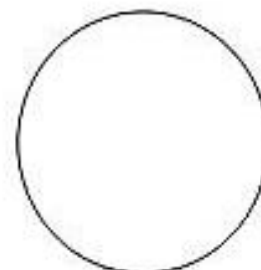
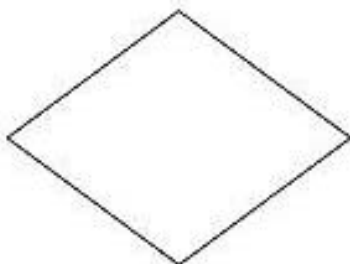
QUEM NASCE NO NOSSO PAÍS É... PINTE AS SEIS PRIMEIRAS LETRAS E VEJA A PALAVRA QUE FORMOU. ESCREVA

BRASILEIRO

QUANTAS LETRAS TEM A PALAVRA BRASIL. CIRCULE O NUMERAL CORRESPONDENTE.

5 6 7 8


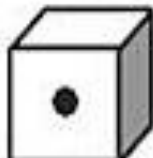
















PINTE AS FORMAS GEOMÉTRICAS DE ACORDO COM AS CORES DA NOSSA BANDEIRA.



Dani Educar

NOME: _____ DATA: ___/___/___

VAMOS COLORIR OS QUADRINHOS DE ACORDO COM A QUANTIDADE QUE CADA CRIANÇA OBTEVE AO JOGAR O DADO.


		<input type="text"/>	<input type="text"/>	
		<input type="text"/>	<input type="text"/>	
		<input type="text"/>	<input type="text"/>	
		<input type="text"/>	<input type="text"/>	
		<input type="text"/>	<input type="text"/>	
		<input type="text"/>	<input type="text"/>	

<https://graphicriver.net>



A VACA FILOMENA E A FORMIGA VIOLETA

- COMPLETE COM AS SÍLABAS FALTOSAS.



O		LHA

GA		TA

	A	DO



NA	

POL	

O	

U	



CA		LO

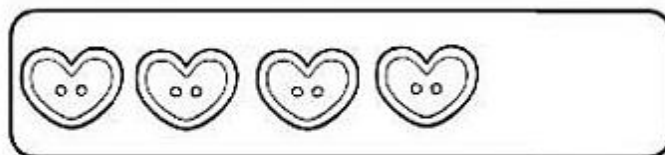
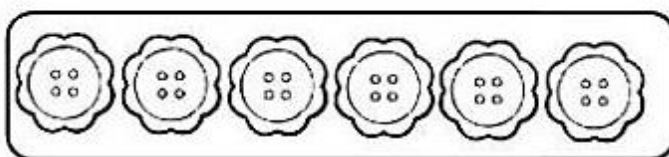
GRA		TA

GA		ÃO

PROBLEMINHAS

LUANA E NOAH JUNTAM BOTÕES COLORIDOS EM POTES.

1) LUANA IRÁ COLOCAR EM SEU POTE 6 BOTÕES EM FORMA DE FLOR E 5 EM FORMA DE CORAÇÃO. QUANTOS BOTÕES ELA COLOCARÁ NO POTE?



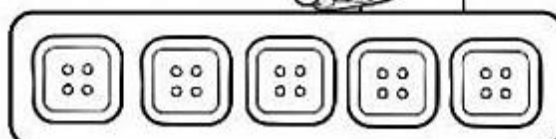
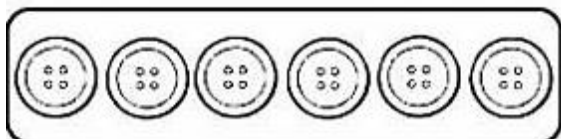
OPERAÇÃO

$$\square + \square = \square$$

RESPOSTA

_____ BOTÕES.

2) NOAH COLOCARÁ EM SEU POTE 6 BOTÕES REDONDOS E 5 QUADRADOS. QUANTOS BOTÕES ELE COLOCARÁ NO POTE?



OPERAÇÃO

$$\square + \square = \square$$

RESPOSTA

_____ BOTÕES.



A VACA FILOMENA E A FORMIGA VIOLETA



- PINTE AS PALAVRAS CORRETAS E REGISTRE-AS.



VULCÃO

FULCÃO



FOLANTE

VOLANTE



VESTIDO

FESTIDO



FIOLETA

VIOLETA



LUVA

LUFA



VOCA

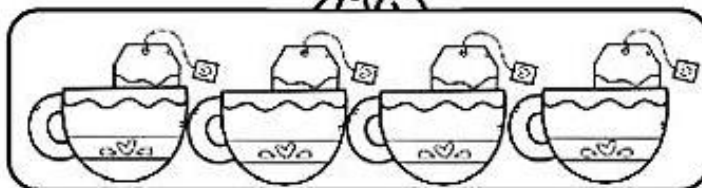
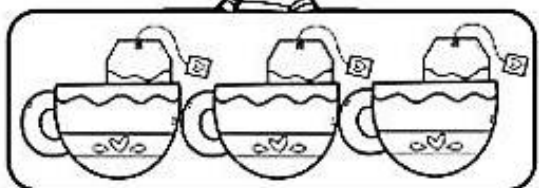
FOCA

NOME: _____

DATA: ___/___/___

PROBLEMINHAS

1) ONTEM MAMÃE TOMOU 3 XÍCARAS DE CHÁ E PAPAÍ TOMOU 4 XÍCARAS. QUANTAS XÍCARAS DE CHÁ TOMARAM JUNTOS?





OPERAÇÃO

$$\square + \square = \square$$

RESPOSTA

_____ XÍCARAS.

2) MAMÃE E PAPAÍ COMERAM 4 BOLINHOS CADA UM. QUANTOS BOLINHOS COMERAM JUNTOS?



OPERAÇÃO

$$\square + \square = \square$$

RESPOSTA

_____ BOLINHOS.

NOME: _____ DATA: ___/___/___

NAS IMAGENS ABAIXO, PODEMOS VER A DIVERSIDADES DE MATERIAIS QUE SÃO FEITOS OS OBJETOS QUE FAZEM PARTE DA VIDA COTIDIANA. A ESCOVA DE DENTES QUE É FEITA DE PLÁSTICO, A ALMOFADA DE TECIDO, O LÁPIS DE MADEIRA, ENTRE OUTROS.





PENSE NO SEU DIA A DIA, DESDE O MOMENTO EM QUE VOCÊ ACORDA ATÉ O MOMENTO EM QUE VOCÊ VAI DORMIR. LISTE 5 (CINCO) OBJETOS QUE VOCÊ USA DURANTE ESSE TEMPO E DE QUE MATERIAL ESSES OBJETOS SÃO FEITOS (METAL, PAPEL, VIDRO, PLÁSTICO, BORRACHA ETC).

Nº	OBJETO	DO QUE É FEITO? (MATERIAL)
01		
02		
03		
04		
05		

NOME: _____ DATA: ___/___/___

RECORTE AS FORMAS GEOMÉTRICAS ABAIXO, MONTE SUA BANDEIRA COLANDO NO PALITO. NÃO SE ESQUEÇA DE ENVIAR FOTOS NO GRUPO WHATSAPP.



REFERÊNCIAS

[www.https://amorensina.com.br](https://amorensina.com.br)

[www.https://artedeensinareaprender](https://artedeensinareaprender)

[www.https://educaçãotransformação.com.br](https://educaçãotransformação.com.br)

[www.https://cantinhoeducativo.com](https://cantinhoeducativo.com)

[www.https://ideiacriativa.com.br](https://ideiacriativa.com.br)

[www.https://revistanovaescola.com.br](https://revistanovaescola.com.br)

[www.https://katiатеixeira.com.br](https://katiатеixeira.com.br)

[www.https://SLIDEHARE.NET](https://SLIDEHARE.NET)

[www.https://atividadeparaeducadoresblogspot.com](https://atividadeparaeducadoresblogspot.com)