



PREFEITURA DA ESTÂNCIA TURÍSTICA DE
IBIÚNA
Por uma Ibiúna próspera. Investindo no presente, gerando o futuro.
SECRETARIA DE EDUCAÇÃO



Rua Raimundo Santiago, nº 27 - Centro
Telefone: (15) 3248-1292/e-mail: apoiopedagogicosmeibiuna@hotmail.com

E.M. Benedita Cordeiro Medelos

3º A 10ª apostila

Data de entrega: **30/08**

Devolução: **20/09**

Prof.^a Katia



NOME: _____

30/08/2021 a 17/09/2021

ROTEIRO DE ATIVIDADES DO LIVRO

- Tirar fotos de todas as atividades e enviar para correção;
- O livro **deve ficar em casa**, espero a colaboração de todos e cuidado com o material.
- Será enviado outro roteiro para utilização do livro com a próxima apostila.
- Tente seguir o cronograma.

	LIVRO APRENDER SEMPRE L.P.	LIVRO APRENDER SEMPRE MAT.
30/ 08	Pág.17 e 18	Pág.100 E 101
31/08	Pág. 19	Pág.102
01/09	Pág.20 e 21	Pág.103 E 104
02/09	Pág.22	Pág.105
03/09	Pág.23	Pág.106
08/09	Apostila	Pág.107
09/09	Apostila	Pág.108
10/09	Pág.24 e 25	Pág.109
13/09	Pág.26 e 27	Pág.110
14/09	Pág.28	Apostila
16/09	Pág.28 e 29 Aula 9	Apostila
17/09	Pág. 30 e 31	Apostila

NOME: _____ DATA: ____/____/____

Leitura informativa:

DIA DA PÁTRIA 7 DE SETEMBRO



D. Pedro I, ao chegar de Santos, encontrou, nas proximidades do riacho Ipiranga, emissários do Rio de Janeiro, que lhe traziam mensagens de Lisboa que exigiam seu imediato retorno a Portugal.

Com as mensagens, vinham cartas de José Bonifácio, de Dona Leopoldina e do deputado Antônio Carlos, onde pediam a reação do príncipe.

D. Pedro sentiu que era chegada a hora, e no mesmo local, a 7 de setembro de 1822, às margens do riacho Ipiranga, com o célebre brado:

– **“Independência ou morte”**, determinou o rompimento dos laços que prendiam o Brasil aos antigos colonizadores.

Por isso, 7 de setembro é dia de festa no Brasil.

Multi Pesquisa

NOME: _____ DATA: __/__/____

MARQUE COM UM X A RESPOSTA CERTA.

a) A nossa pátria chama-se:

Estados Unidos Brasil Portugal

b) A independência do Brasil foi proclamada no dia:

4 de março 10 de junho 7 de setembro

c) Quem proclamou a independência do Brasil foi:

D. Pedro I Pedro Álvares Cabral D. Manuel

d) Qual foi a frase que D. Pedro exclamou ao proclamar a independência do nosso Brasil.

- "Independência ou morte"
- "viva a pátria"
- "todos pelo Brasil"

NOME: _____ DATA: ____/____/____

LEIA O TEXTO E ENCONTRE AS PALAVRAS SUBLINHADAS NO QUADRO ABAIXO:

Quando eu crescer...
 Hei de ser muito valente.
 Das tropas irei à frente,
 Com passo nobre e viril!
 Diante do mundo inteiro,
 Hei de ser um brasileiro
 Capaz de honrar o Brasil!



M	N	J	K	L	I	Y	R	E	H	S	I	Y	R
F	G	H	J	K	L	Q	D	F	O	V	B	Q	D
A	B	N	I	N	O	P	Q	R	N	A	R	P	Q
M	N	J	K	L	I	Y	R	E	R	L	A	Y	R
F	C	R	E	S	C	E	R	F	A	E	S	Q	D
A	B	N	I	N	O	P	Q	R	R	N	I	P	Q
B	R	A	S	I	L	E	I	R	O	S	L	Y	R
F	G	H	J	K	L	Q	D	F	T	E	E	Q	D
A	B	N	I	V	A	L	E	N	T	E	I	P	Q
M	N	J	K	L	T	R	O	P	A	S	R	Y	R
F	G	H	J	K	L	Q	D	F	T	G	O	Q	D

NOME: _____ DATA: __/__/____

PINTE O ÓCULOS COM AS CORES DA BANDEIRA. RECORTE , PRENDA COM UM ELÁSTCO, TIRE UMA FOTO USANDO O ÓCULOS E MANDE NO GRUPO DO WHATSAPP.



NOME: _____ DATA: ____/____/____

Atividade Suzano

Nome: _____ data: _____

A Terra e o Universo

Você já ouviu dizer que alguém vive no mundo da Lua? O que será que isso significa?

E nós, em que mundo vivemos? O que sabemos sobre ele?

Quando você olha para o céu à noite, o que vê?

A Terra, a Lua e o Sol são astros, isto é, objetos que se movimentam no espaço. Os astros podem ter luz própria ou não. Quando têm luz própria são chamados de estrelas.

O Sol é uma estrela.


Os planetas, seus satélites naturais, como a Lua, os cometas e os asteroides são astros que não têm luz própria. Eles são iluminados pela luz que vem das estrelas.

O Sistema Solar

Vivemos no planeta Terra. Ele é um dos oito planetas que fazem parte do Sistema Solar.

Os outros planetas são:

Mercúrio, Vênus, Marte, Júpiter, Saturno, Urano e Netuno.



Planeta: astro que não tem luz própria e gira em torno de uma estrela.
O Sol e os oito planetas que fazem parte do Sistema Solar.

Todos esses planetas giram em torno do Sol.

Além do Sol e dos planetas, existem outros astros no Sistema Solar, como a Lua, por exemplo, que é o único satélite natural da Terra.

A maior parte da superfície da Terra é coberta por água.

Imagine a Terra dividida em 10 partes: 7 partes correspondem à água e somente 3 são formadas por terra emersa, isto é, que fica acima da água.


A Terra é um planeta iluminado pelo Sol.

NOME: _____ DATA: ____/____/____

Os asteroides são formados de rochas.

O Sol é uma estrela de grande importância porque ilumina e aquece a Terra e os outros planetas do Sistema Solar.

Estrela: astro dotado de luz própria, que pode ser observado como um ponto



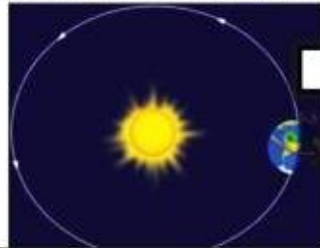
Os movimentos da Terra

A Terra realiza dois movimentos diferentes ao mesmo tempo. Ela gira em torno de si mesma, como um pião, levando aproximadamente 24 horas para completar uma volta. Esse movimento **chama-se rotação**, e é por causa dele que existem o dia e a noite.



@Atividades Suzano

No movimento de rotação, a Terra gira em torno de si mesma.



No movimento de translação, a Terra gira em torno do Sol.

O outro movimento chama-se translação. Nele a Terra gira em torno do Sol. Ela leva 365 dias e 6 horas para completar uma volta.

À medida que a Terra gira, o Sol ilumina parte da superfície terrestre. Dizemos que é dia nessa parte iluminada e noite na parte que não é iluminada.

Esse movimento da Terra pode nos passar a impressão de que é o Sol que se move no céu durante o dia e quando se "esconde" acontece a noite. Porém, é **a Terra que gira causando o dia e a noite**, embora não seja possível sentirmos esse movimento.

O eixo de rotação da Terra é inclinado, o que faz com que a incidência da luz solar não seja uniforme, **ocorrendo as quatro estações do ano: primavera, verão, outono e inverno.**

Um ano tem 365 dias e 6 horas. Essas seis horas acumuladas durante quatro anos dão origem a um novo dia, resultando assim no ano bissexto, que tem 366 dias, ou seja, a cada 4 anos temos um dia a mais. Por isso, quando o ano é bissexto o mês de fevereiro tem 29 dias.

NOME: _____ DATA: ___/___/___

Atividade Suzano



PRATICANDO



Responda às questões.

a) Em que astro vivemos?

b) Que tipo de astro é a Terra?

c) O que é um planeta?

d) De onde vem a luz que a Terra recebe?

e) Que tipo de astro é o Sol?

f) Quanto tempo a Terra leva para completar uma volta ao redor de si? Qual o nome desse movimento?

g) O que o movimento de rotação origina?

h) Quanto tempo a Terra leva para completar uma volta ao redor do Sol? Qual o nome desse movimento?





REFERÊNCIAS

<https://educacaoetransformacaooficial.blogspot.com/>

<https://atividadespedagogicasuzano.com.br/exercicio-de-ciencias-2/>

<https://br.pinterest.com/>