



E.M. "BAIRRO MANUEL CLEMENTE"

PROFESSORA: ANTONIA


1º ANO- A

ALUNO (A):

ATIVIDADES DO PERÍODO 30/08 A 17/09/2021

10ª APOSTILA

A BONECA – OBRA TARCILA DO AMARAL.



DATA DE ENTREGA 30/08
PRÓXIMA RETIRADA 20/09

ROTEIRO E REFERÊNCIAS ANEXOS

Roteiro de atividades		
DIA	DESCRIÇÃO	PÁGINA
	CAPA	01
	ROTEIRO DE ATIVIDADES.	02
30-08	TEXTO : LEILÃO DE JARDIM- LEITURA E REESCRITA DO MESMO.	03
30-08	CALAGRAFIA DOS NUMERAIS.	04
31-08	1- LEITURA DO TEXTO- IDENTIFICAR AS PALAVRAS; 2- SIGA O PONTILHADO, E 3- ESCREVA O NOME DAS FIGURAS.	05
31-08	COMPLETE OS NUMERAIS NA BARRIGA DO GATO.	06
01-09	FAMÍLIA SILÁBICA DO "M"- COMPLETE.	07
01-09	COMPLETE O CALENDÁRIO SEGUINDO O EXEMPLO ACIMA.	08
02-09	PINTE O QUE COMEÇA COM AS SÍLABAS DO "M".	09
02-09	COMPLETE COM OS NUMEROS VIZINHOS.	10
03-09	OBSERVE OS DESENHOS, MARQUE AS SÍLABAS INICIAIS E COMPLETE.	11
03-09	COMPLETE A SEQUÊNCIA NUMERICA.	12
08-09	CARTA ENGMÁTICA- DECIFRE-AS.	13
08-09	OBSERVE O DESENHO ACIMA DA INDEPENDÊNCIA E RESPONDA AS PERGUNTAS.	14
08-09	TEXTO SOBRE A INDEPENDÊNCIA: RESPONDA AS QUESTÕES.	15 E 16
08-09	COLORINDO A BANDEIRA DO BRASIL.	17
09-09	SIGA O PONTILHADO, IDENTIFIQUE AS PALAVRAS NO TEXTO E COMPLETE O NOME DAS FIGURAS.	18
09-09	GRÁFICO DOS BRINQUEDOS: COMPLETE.	19
09-09	LIGUE AS PARTES DO CORPO AOS SEUS NOMES.	20
10-09	COMPLETE AS PALAVRAS COM "M", ORGANIZE A FAMÍLIA SILÁBICA E AS COMPLETE.	21
10-09	RESOLVAS AS SUBTRAÇÕES.	22
13--9	PINTE A PALAVRA QUE REPRESENTA A FIGURA	23
13-09	NUMERAIS ORDINAIS	24
14-09	MONTE AS PALAVRAS E REESCREVA-AS	25
14-09	PINTAR DE ACORDO COM AS QUANTIDADES DE CADA FIGURA	26
16-09	FORME PALAVRAS DE ACORDO COM A NUMERAÇÃO	27
16-09	TREINANDO ADIÇÃO	28
16-09	LIGUE OS OBJETOS AS PARTES DO CORPO NAS QUAIS ELES SÃO USADOS	29
17-09	TROCA LETRA.	30
17-09	VAMOS SUBTRAIR	31



E.M. "BAIRRO MANUEL CLEMENTE".

IBIÚNA, 30 DE AGOSTO DE 2021.

PROFESSORA : ANTONIA

1º ANO A

ALUNO(A): _____

LÍNGUA PORTUGUESA

PINTE TODAS AS LETRAS **L** QUE APARECEM NO POEMA ABAIXO.

LEILÃO DE JARDIM

QUEM ME COMPRA UM JARDIM COM FLORES?
BORBOLETAS DE MUITAS CORES,
LAVADEIRAS E PASSARINHOS,
OVOS VERDES E AZUIS NOS NINHOS?
QUEM ME COMPRA ESTE CARACOL?
QUEM ME COMPRA UM RAIO DE SOL?
UM LAGARTO ENTRE O MURO E A HERA,
UMA ESTÁTUA DA PRIMAVERA?



(CECÍLIA MEIRELES)

AGORA REESCREVA O POEMA COMPLETANDO COM AS PALAVRAS QUE ESTÃO FALTANDO

QUEM ME COMPRA UM JARDIM COM _____?
BORBOLETAS DE MUITAS CORES,
_____ E PASSARINHOS,
OVOS VERDES E AZUIS NOS NINHOS?
QUEM ME COMPRA ESTE _____?
QUEM ME COMPRA UM RAIO DE _____?
UM _____ ENTRE O MURO E A HERA,
UMA ESTÁTUA DA PRIMAVERA?





E.M. "BAIRRO MANUEL CLEMENTE".

IBIÚNA, 30 DE AGOSTO DE 2021.

PROFESSORA : ANTONIA

1º ANO A

ALUNO(A): _____

MATEMÁTICA

CALIGRAFIA DOS NUMERAIS

1 2 3 4 5 6 7 8 9 10 11 12 13 14

1 2 3 4 5 6 7 8 9 10 11 12 13 14

15 16 17 18 19 20 21 22 23 24 25 26

15 16 17 18 19 20 21 22 23 24 25 26

27 28 29 30 31 32 33 34 35 36 37 38

27 28 29 30 31 32 33 34 35 36 37 38

39 40 41 42 43 44 45 46 47 48 49 50

39 40 41 42 43 44 45 46 47 48 49 50

51 52 53 54 55 56 57 58 59 60 61 62

51 52 53 54 55 56 57 58 59 60 61 62

63 64 65 66 67 68 69 70 80 90 100

63 64 65 66 67 68 69 70 80 90 100



E.M. "BAIRRO MANUEL CLEMENTE".

IBIÚNA, 31 DE AGOSTO DE 2021.

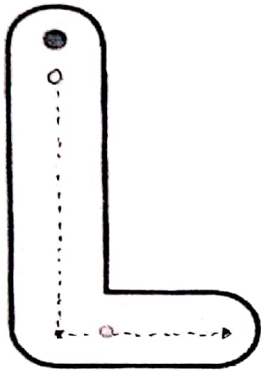
PROFESSORA : ANTONIA

1º ANO A

ALUNO(A): _____

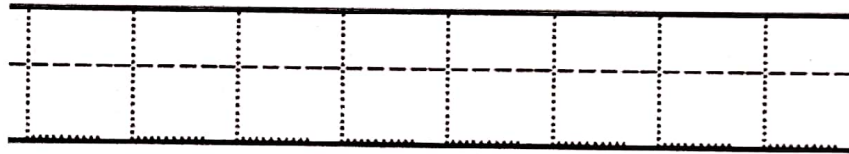
LÍNGUA PORTUGUESA

1. LEITURA DO TEXTO E IDENTIFICAR AS PALAVRAS COM AS INICIAIS L



TEM NO LIVRO E NO LÁPIS
NA LARANJA E NO LIMÃO
TEM NA LUVA E NA LUA
NA LAGARTA E NO LEÃO

2. SIGA O PONTILHADO



3. ESCREVA OS NOMES DAS FIGURAS





E.M. "BAIRRO MANUEL CLEMENTE".

IBIÚNA, 31 DE AGOSTO DE 2021.


PROFESSORA : ANTONIA

1º ANO A

ALUNO(A): _____

MATEMÁTICA

COMPLETE OS NÚMEROS COM LÁPIS DE COR.
PROCURE O NOME DE CADA NÚMERO E COPIE NA FRENTE.



DOZE - VINTE - TREZE - VINTE E NOVE - ONZE
DEZENOVE - QUATORZE - VINTE E QUATRO - QUINZE
VINTE CINCO - TRINTA - VINTE E OITO - DEZ
VINTE E TRÊS - VINTE E SETE - VINTE E DOIS
DEZESSETE - VINTE E UM - DEZOITO - VINTE E SEIS

[https://3.bp.blogspot.com/-](https://3.bp.blogspot.com/-8VFIBsWBDVE/WrL6mX5uRxl/AAAAAAAAfL4/QwF8E1s71QogNKdr4Vrkc2bhv7aWQhQaQCKgBGAs/s1600/COLE%25C3%2587%25C3%2583O%2BZIG%2BZIG%2BZAA%2BVOLUME%2BIII-1%2B01%2B67%2B3-8-2018.jpg)

[8VFIBsWBDVE/WrL6mX5uRxl/AAAAAAAAfL4/QwF8E1s71QogNKdr4Vrkc2bhv7aWQhQaQCKgBGAs/s1600/COLE%25C3%2587%25C3%2583O%2BZIG%2BZIG%2BZAA%2BVOLUME%2BIII-1%2B01%2B67%2B3-8-2018.jpg](https://3.bp.blogspot.com/-8VFIBsWBDVE/WrL6mX5uRxl/AAAAAAAAfL4/QwF8E1s71QogNKdr4Vrkc2bhv7aWQhQaQCKgBGAs/s1600/COLE%25C3%2587%25C3%2583O%2BZIG%2BZIG%2BZAA%2BVOLUME%2BIII-1%2B01%2B67%2B3-8-2018.jpg)



E.M. "BAIRRO MANUEL CLEMENTE".

IBIÚNA, 01 DE SETEMBRO DE 2021.

PROFESSORA : ANTONIA

1º ANO A

ALUNO(A): _____

LÍNGUA PORTUGUESA


FAMÍLIA SILÁBICA M

UNA A LETRA M COM CADA VOGAL E FORME AS SÍLABAS:

Diagram showing the letter M in a box on the left. Five arrows point from it to five boxes containing the vowels A, E, I, O, and U. To the right of each vowel box is an empty rectangular box for writing the syllable.

MA ME MI MO MU

1- COMPLETE AS PALAVRAS COM O SOM INICIAL:



RTELO



LANCIA



NHOCA



TO



LA



E.M. "BAIRRO MANUEL CLEMENTE".

IBIÚNA, 01 DE SETEMBRO DE 2021.

PROFESSORA : ANTONIA

1º ANO A

ALUNO(A): _____

MATEMÁTICA

SETEMBRO - 2021



07/09 - INDEPENDÊNCIA DO BRASIL						
D	S	T	Q	Q	S	S
			1	2	3	4
5	6	7	8	9	10	11
12	13	14	15	16	17	18
19	20	21	22	23	24	25
26	27	28	29	30		



DOMINGO	SEGUNDA-FEIRA	TERÇA-FEIRA	QUARTA-FEIRA	QUINTA-FEIRA	SEXTA-FEIRA	SABADO

USAR O CALENDÁRIO ACIMA PARA COMPLETAR O DE BAIXO (SETEMBRO).

https://1.bp.blogspot.com/-hF23XIU0sj/WjaOu_4XBMI/AAAAAAAAAZkE/misUF-MBXFkLQOurEI4TOjjA1dY2SPMBACEwYBhgL/s640/29.PNG



E.M. "BAIRRO MANUEL CLEMENTE".

IBIÚNA, 02 DE SETEMBRO DE 2021.

PROFESSORA : ANTONIA

1º ANO A

ALUNO(A): _____






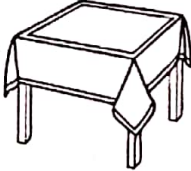














LÍNGUA PORTUGUESA

LINGUAGEM

FAMÍLIA SILÁBICA

M

PINTE O QUE COMEÇA COM:

MA				
ME				
MI				
MO				
MU				



E.M. "BAIRRO MANUEL CLEMENTE".

IBIÚNA, 02 DE SETEMBRO DE 2021.

PROFESSORA : ANTONIA

1º ANO A

ALUNO(A): _____

MATEMÁTICA

NÚMEROS VIZINHOS

Complete com os números vizinhos.

<p>58</p>	<p>20</p>
<p>42</p>	<p>90</p>
<p>31</p>	<p>75</p>

Adivinhe que número sou eu?

Fico entre 13 e 15 _____

Fico entre 35 e 37 _____

Fico atrás de 52 _____

Fico à frente de 67 _____

Responda:

Que número está entre 20 e 22? _____

Que número vem antes de 60? _____

Que número vem após 79? _____





E.M. "BAIRRO MANUEL CLEMENTE".

IBIÚNA, 03 DE SETEMBRO DE 2021.

PROFESSORA : ANTONIA

1º ANO A

ALUNO(A): _____

LÍNGUA PORTUGUESA

- AGORA OBSERVE OS DESENHOS, MARQUE AS SÍLABAS INICIAIS E COMPLETE.



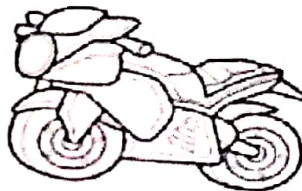
MA ME MI MO MU
NINO




MA ME MI MO MU
NHOCA



MA ME MI MO MU
LA



MA ME MI MO MU
TOCICLETA



MA ME MI MO MU
LHO



MA ME MI MO MU
RO



E.M. "BAIRRO MANUEL CLEMENTE".

IBIÚNA, 03 DE SETEMBRO DE 2021.

PROFESSORA : ANTONIA

1º ANO A

ALUNO(A): _____

MATEMÁTICA

1-) OS NÚMEROS DE 0 ATÉ 100.

1	2		4		6	7	8		10
	12			15	16			19	20
	22		24	25		27	28	29	
31	32	33		35		37		39	40
41		43		45	46	47			50
51		53	54		56		58	59	
		63	64		66	67		69	
71	72	73		75			78		80
81			84		86	87	88		90
	92	93	94	95			98	99	

2-) ESCREVA OS NÚMEROS QUE FALTAM.

- A. — — — —
- B. — — — —
- C. — — — —
- D. — — — —



E.M. "BAIRRO MANUEL CLEMENTE".

IBIÚNA, 08 DE SETEMBRO DE 2021.

PROFESSORA : ANTONIA

1º ANO A

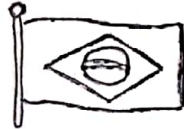
ALUNO(A): _____

LÍNGUA PORTUGUESA

CARTA ENIGMÁTICA

Escreva a palavra certa abaixo do desenho.

Nossa



é muito bonita.

Agora escreva a frase toda como ficou.



é o símbolo da



tria.

7 de _____ mbro é o Dia da Independência do _____



A  é um sím  da  ssa  tria.

Devemos ouvir os nosso Hinos de 



E.M. "BAIRRO MANUEL CLEMENTE".

IBIÚNA, 08 DE SETEMBRO DE 2021.

PROFESSORA : ANTONIA

1º ANO A

ALUNO(A): _____

MATEMÁTICA



**7 DE SETEMBRO
INDEPENDÊNCIA DO BRASIL!**



OBSERVE O DESENHO ACIMA E RESPONDA:

- 1- QUANTOS CAVALOS HÁ NO DESENHO? _____
- 2- QUANTAS CRIANÇAS ESTÃO EM CIMA DOS CAVALOS? _____
- 3- QUANTAS CRIANÇAS ESTÃO FORA DOS CAVALOS? _____
- 4- QUANTAS CRIANÇAS HÁ AO TODO NO DESENHO? _____



E.M. "BAIRRO MANUEL CLEMENTE".

IBIÚNA, 08 DE AGOSTO DE 2021.

PROFESSORA : ANTONIA

1º ANO A

ALUNO(A): _____

HISTÓRIA

LEIA ATENTAMENTE COM A AJUDA DE UM ADULTO E RESPONDA AS QUESTÕES.

INDEPENDÊNCIA DO BRASIL

O BRASIL ERA UMA COLÔNIA DE PORTUGAL E TODAS AS NOSSAS RIQUEZAS ERAM LEVADAS PARA LÁ. D. PEDRO I, MUITO AMIGO DOS BRASILEIROS LIBERTOU O BRASIL DE PORTUGAL, PROCLAMANDO NOSSA INDEPENDÊNCIA.

O GRITO DA INDEPENDÊNCIA DEU -SE NO DIA 7 DE SETEMBRO DE 1882, QUE FOI ÀS MARGENS DO RIO IPIRANGA COM O GRITO

"INDEPENDÊNCIA OU MORTE.



1) NOSSA PÁTRIA (PAÍS) CHAMA – SE:

- BRASIL
- PORTUGAL
- SÃO PAULO

2) A INDEPENDÊNCIA DO BRASIL FOI PROCLAMADA (DECLARADA) EM:

- 17 DE NOVEMBRO
- 21 DE ABRIL
- 7 DE SETEMBRO

3) QUEM PROCLAMOU (DECLAROU) A INDEPENDÊNCIA DO BRASIL FOI:

- PEDRO ÁLVARES CABRAL
- D. PEDRO I
- D. MANUEL



E.M. "BAIRRO MANUEL CLEMENTE".

IBIÚNA, 08 DE SETEMBRO DE 2021.


PROFESSORA : ANTONIA

1º ANO A

ALUNO(A): _____

ARTES

Vamos Colorir



**7 de Setembro -
Dia da Independência
do Brasil**



E.M. "BAIRRO MANUEL CLEMENTE".

IBIÚNA, 09 DE SETEMBRO DE 2021.

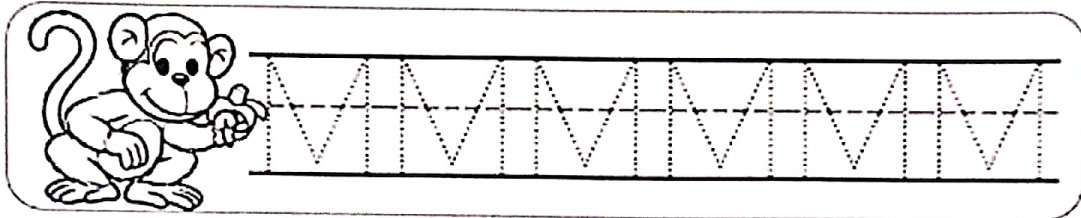
PROFESSORA : ANTONIA

1º ANO A


ALUNO(A): _____

LÍNGUA PORTUGUESA

1. SIGA O PONTILHADO









2. LEITURA DO TEXTO E IDENTIFICAR AS PALAVRAS COM AS INICIAIS M



O M ESTÁ NO MACACO
E NA MEIA DA MENINA
NA MANGA E NO MAMÃO
E NA MALA DA MARINA

3. COMPLETE OS NOMES DAS FIGURAS COM AS SÍLABAS

 TO TE	 LANCIA	 CA LO
 LA	 CA	 CARA LO



E.M. "BAIRRO MANUEL CLEMENTE".

IBIÚNA, 09 DE SETEMBRO DE 2021.

PROFESSORA : ANTONIA

1º ANO A






ALUNO(A): _____


MATEMÁTICA

O GRÁFICO DOS BRINQUEDOS

CECÍLIA RECEBEU ALGUNS BRINQUEDOS NOVOS PARA VENDER EM SUA LOJA. AJUDE-A A ANOTAR QUANTOS ELA TEM DE CADA UM DELES, SEGUNDO AS INSTRUÇÕES PARA FORMAR O GRÁFICO.

1. ESCOLHA UMA COR DIFERENTE PARA CADA BRINQUEDO.
2. PINTE OS QUADRINHOS DE ACORDO COM O NÚMERO DE VEZES QUE O BRINQUEDO APARECE.
3. RESPONDA AS PERGUNTAS SOBRE O GRÁFICO.



QUAL BRINQUEDO TEM MAIS?

QUAL BRINQUEDO TEM MENOS?



E.M. "BAIRRO MANUEL CLEMENTE".

IBIÚNA, 09 DE SETEMBRO DE 2021.

PROFESSORA : ANTONIA

1º ANO A

ALUNO(A): _____

CIÊNCIAS

Ligue as partes do corpo aos seus nomes e faça um lindo colorido:



MÃO

PERNA

OLHO

NARIZ

CABEÇA

BOCA



E.M. "BAIRRO MANUEL CLEMENTE".

IBIÚNA, 10 DE SETEMBRO DE 2021.

PROFESSORA : ANTONIA

1º ANO A

ALUNO(A): _____

LÍNGUA PORTUGUESA

1- COMPLETE AS PALAVRAS ARRASTANDO A LETRA **M** E, COM A AJUDA DE UM ADULTO, FAÇA A LEITURA.



___ ULHER

___ ARÇO

___ ÁGICA

___ ARAVILHOSA

___ USICAL

___ ATERNO

___ ILAGRE

___ OÇA

M M M M M M M M

2- ORGANIZE A FAMÍLIA SILÁBICA DO **M**.

MI ME


MÃO MA

MU MO

M						
----------	--	--	--	--	--	--

3- COMPLETE COM MA, ME, MI, MO, MU OU MÃO.

MA ME MI MO MU MÃO MA ME MI MO MU MÃO



___ LA



___ ÇÃ



___ IA



MA ___



___ SA



___ LHO



___ LA



___ RO



E.M. "BAIRRO MANUEL CLEMENTE".

IBIÚNA, 10 DE SETEMBRO DE 2021.









PROFESSORA : ANTONIA

1º ANO A

ALUNO(A): _____

MATEMÁTICA

Resolva.

Havia	Fugiram	Restaram
		$\begin{array}{r} 8 \\ - 4 \\ \hline 4 \end{array}$
		$\begin{array}{r} \text{---} \\ - \\ \hline \text{---} \\ \text{---} \end{array}$
		$\begin{array}{r} \text{---} \\ - \\ \hline \text{---} \\ \text{---} \end{array}$
		$\begin{array}{r} \text{---} \\ - \\ \hline \text{---} \\ \text{---} \end{array}$



E.M. "BAIRRO MANUEL CLEMENTE".

IBIÚNA, 13 DE SETEMBRO DE 2021.

PROFESSORA : ANTONIA

1º ANO A

ALUNO(A): _____


LÍNGUA PORTUGUESA

LINGUAGEM

FAMÍLIA SILÁBICA

M

PINTE A PALAVRA QUE REPRESENTA A FIGURA:



MAÇÃ

MACA

MALA



MEIA

MESA

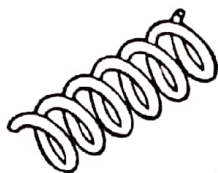
MEL



MISTO

MILHO


MICO



MOLA

MOTO


MOÇA



MOLA

MOTO

MOÇA



MÚSICA

MÚMIA

MURO



E.M. "BAIRRO MANUEL CLEMENTE".

IBIÚNA, 13 DE SETEMBRO DE 2021.

PROFESSORA : ANTONIA

1º ANO A


ALUNO(A): _____

MATEMÁTICA

NUMERAIS ORDINAIS

Os numerais ordinais são usados para indicar ordem, posição ou lugar.

Observe a fila da bilheteria para comprar o ingresso para o filme do Rei Leão.



✍ Responda:

a) Flávio é o _____ da fila.

b) Anita é a _____ da fila.

c) Inês é a _____ da fila.

Escreva o nome e marque um **x** na criança que tor a primeira da fila.

✍ Escreva o nome e pinte de azul a roupa da criança que for a quinta da fila.



E.M."BAIRRO MANUEL CLEMENTE".

IBIÚNA, 14 DE SETEMBRO DE 2021.

PROFESSORA : ANTONIA

1º ANO A

ALUNO(A): _____

LÍNGUA PORTUGUESA

MONTE AS PALAVRAS:

MA	+	LA	=		ME	+	DO	=	
MA	+	CA	=		MO	+	DO	=	
ME	+	LA	=		CA	+	MA	=	
MU	+	LA	=		CO	+	MA	=	
MI	+	LA	=		CO	+	ME	=	
MO	+	LA	=		CO	+	MI	=	
MAI	+	O	=		MI	+	MI	=	
MEI	+	A	=		MU	+	MU	=	



E.M. "BAIRRO MANUEL CLEMENTE".

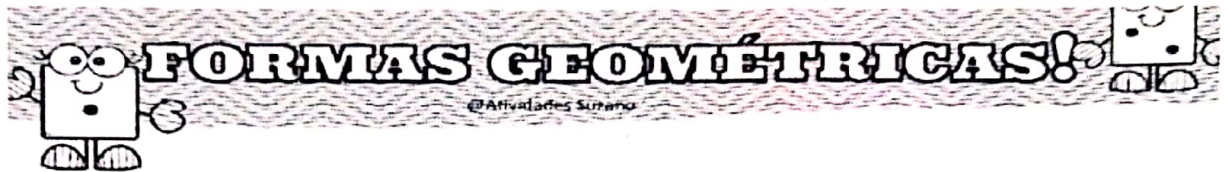
IBIÚNA, 14 DE SETEMBRO DE 2021.

PROFESSORA : ANTONIA
























1º ANO A

ALUNO(A): _____

MATEMÁTICA



Pinte de acordo com as quantidades de cada figura:

AS CORES PODEM SER ESCOLHIDAS PELO (A) ALUNO

<https://atividadespedagogicasuzano.com.br/wp-content/uploads/2018/04/formasgeometricas-page-00228129-1-724x1024.jpg>



E.M. "BAIRRO MANUEL CLEMENTE".

IBIÚNA, 16 DE SETEMBRO DE 2021.

PROFESSORA : ANTONIA

1º ANO A

ALUNO(A): _____

LÍNGUA PORTUGUESA



Mistura de Alegria

Formando palavras

M

Forme palavras de acordo com a numeração:



1 MA	2 DA	3 MI	4 LA	5 CA
6 ME	7 LO	8 CO	9 TE	10 A
11 LHA	12 TO	13 MO	14 LA	15 RI
16 MU	17 DO	18 TA	19 LHER	20 MAR

1+4

MALA

1+7+9

1+15+17

20+9+7

6+14+17

13+2

1+5+8

13+14

16+19

1+11+17

3+10+17

16+4



E.M. "BAIRRO MANUEL CLEMENTE".

IBIÚNA, 16 DE SETEMBRO DE 2021.

PROFESSORA : ANTONIA

1º ANO A

ALUNO(A): _____

MATEMÁTICA

TREINANDO ADIÇÃO

$$\begin{array}{r} 4 \dots\dots \\ + 1 \cdot \\ \hline \square \\ 5 \end{array}$$

$$\begin{array}{r} 2 \\ + 4 \\ \hline \square \end{array}$$

$$\begin{array}{r} 5 \\ + 1 \\ \hline \square \end{array}$$

$$\begin{array}{r} 6 \\ + 3 \\ \hline \square \end{array}$$

$$\begin{array}{r} 7 \\ + 2 \\ \hline \square \end{array}$$

$$\begin{array}{r} 5 \\ + 4 \\ \hline \square \end{array}$$

$$\begin{array}{r} 2 \\ + 6 \\ \hline \square \end{array}$$

$$\begin{array}{r} 4 \\ + 3 \\ \hline \square \end{array}$$

$$\begin{array}{r} 6 \\ + 1 \\ \hline \square \end{array}$$



E.M. "BAIRRO MANUEL CLEMENTE".

IBIÚNA, 16 DE SETEMBRO DE 2021.

PROFESSORA : ANTONIA


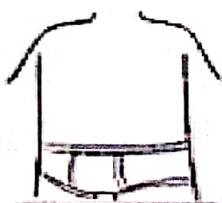




1º ANO A

ALUNO(A): _____

CIÊNCIAS

ONDE USAMOS?

RELIGUE OS OBJETOS ÀS PARTES DO CORPO NAS QUAIS ELES SÃO USADOS.

 CABEÇA	 BLUSA
 TRONCO	 TÊNIS
 MEMBROS SUPERIORES	 BONÉ
 MEMBROS INFERIORES	 RELÓGIO



E.M. "BAIRRO MANUEL CLEMENTE".

IBIÚNA, 17 DE SETEMBRO DE 2021.

PROFESSORA : ANTONIA

1º ANO A

ALUNO(A): _____

LÍNGUA PORTUGUESA



TROCA LETRA M

Troque as letras iniciais das palavras pela letra M.

BALA: MALA

TEIA: _____

GULA: _____

BOLA: _____

RATO: _____

GELADO: _____

CARINHO: _____

CÃO: _____

BAR: _____

CERCADO: _____

CORRE: _____


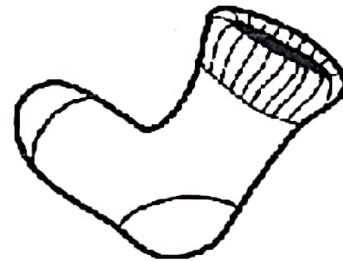
FIADO: _____

FUNDO: _____

COCHILA: _____

TANGA: _____

FILHO: _____



<https://3.bp.blogspot.com/->

HMV_kTns4il/WQjVp03wwNI/AAAAAAAAA3Ag/GmBx8OerFAYfZqoTvCOZhopzzVHOvft2QCLcB/s1600/atividade-alfabetiza%25C3%25A7%25C3%25A3o-troca-letra-imprimir-colorir-m.JPG



E.M. "BAIRRO MANUEL CLEMENTE".

IBIÚNA, 17 DE SETEMBRO DE 2021.


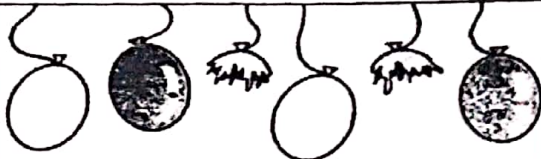




PROFESSORA : ANTONIA

1º ANO A

ALUNO(A): _____

MATEMÁTICA

Vamos subtrair?

 $7 - 1 = \boxed{6}$	 $6 - 2 = \boxed{}$
 $9 - 2 = \boxed{}$	 $9 - 4 = \boxed{}$
 $7 - 4 = \boxed{}$	 $5 - 2 = \boxed{}$