



E.M. BAIRRO MANUEL CLEMENTE.
PROFESSORA: JANETE
ALUNO: _____

3º ANO B

ATIVIDADES DO PERÍODO DE 30/08 à 17/09

10ª APOSTILA



ROTEIRO E REFERÊNCIAS EM ANEXO

DATA DA ENTREGA E PRÓXIMA RETIRADA: 20/09



E.M. BAIRRO MANUEL CLEMENTE.

PROFESSORA: JANETE

ALUNO: _____

3º ANO B

Roteiro de atividades

DIA	DESCRIÇÃO	PÁGINA
30/08	Leia a biografia do autor e pinte o desenho.	3
30/08	Calcule as adições.	4
31/08	Responda as perguntas e desenhe.	5
31/08	Leia os valores representados.	6
01/09	Leia e responda o enigma.	7
01/09	Calcular o valor dos produtos.	8
02/09	Leia o texto.	9
02/09	Resolver as situações-problema.	10
03/09	Responder as questões do texto.	11
03/09	Preencher o calendário do mês de outubro com as datas comemorativas.	12
08/09	Ler o texto e completar as frases lacunadas.	13
08/09	Resolva as situações-problema.	14
09/09	Complete a cruzadinha.	15
09/09	Efetue as adições de centenas.	16
10/09	Colorir, cortar e colar no lugar correto.	17
10/09	Completar o quadro numérico e o número sucessor e antecessor.	19
13/09	Responder as questões relacionadas ao texto do dia 02/09	20
13/09	Completar a sequência numérica.	21
14/09	Leia o texto e escreva frases.	22
14/09	Completar com números ordinais.	23
16/09	Coloque os nomes nos equipamentos esportivos.	24
16/09	Complete com números cardinais e ordinais.	25
17/09	Crie um título, observe as imagens e responda as perguntas.	26
17/09	Completar os ponteiros dos relógios.	27




E.M. BAIRRO MANUEL CLEMENTE.
PROFESSORA: JANETE
ALUNO: _____

3º ANO B

30/08/2021

Língua Portuguesa/Arte

Romero Britto (1963) é um pintor e escultor brasileiro, radicado em Miami, nos EUA, ficou famoso por sua arte pop de estilo alegre e colorida. É um dos artistas brasileiros mais bem sucedidos e prestigiados no exterior.





30/08/2021

Matemática

AGORA 😊
é com você !!!

PUBLICDOMANVECTORS.ORG



Resolva os cálculos, realizando os agrupamentos, quando necessário:

48
+17

57
+14

63
+27

72
+19

36
+38

29
+28

57
+46

78
+45

80
+27

95
+36

<https://br.pinterest.com/pin/32397716544623220/>





31/08/2021

Língua Portuguesa



Queremos saber um pouco mais de
você!

6 Qual a sua comida preferida?

Desenhe:

7 Qual a sua sobremesa preferida?

Desenhe:

8 Qual a sua brincadeira preferida?

Desenhe:

9 Qual o seu brinquedo preferido?

Desenhe:

10 Qual o seu desenho animado preferido? _____

Desenhe:

11 Qual o seu passeio preferido? _____

Desenhe:



31/08/2021

Matemática

BRINCANDO com a Matemática ■ ■ ■

TRABALHANDO COM VALORES EM DINHEIRO...

O pai de Calvin precisou de uma quantia para comprar a bicicleta. Ele juntou cédulas e moedas.

No Brasil, utilizamos o **REAL**. Chamamos de **CENTAVOS** os valores menores que um real.

CÉDULAS (NOTAS)

	R\$ 100,00
	R\$ 50,00
	R\$ 20,00
	R\$ 10,00
	R\$ 5,00
	R\$ 2,00

MOEDAS

	R\$ 0,05
	R\$ 0,10
	R\$ 0,25
	R\$ 0,50
	R\$ 1,00

Na escrita dos valores em dinheiro, separamos os reais dos centavos, utilizando vírgula: **R\$ 102,50**.

Escrita por extenso: cento e dois reais e cinquenta centavos.

A bicicleta custa R\$ 102,50.



1 Leia o valor representado abaixo:



NOTAS DE R\$ 10,00	MOEDAS DE R\$ 1,00
8	7

2 Escreva, por extenso, o valor, em dinheiro, representado nas imagens acima:

3 Complete:

- a) 8 notas de R\$ 10,00 equivalem a _____.
- b) 7 moedas de R\$ 1,00 equivalem a _____.

<https://br.pinterest.com/pin/658485162004243846/>



01/09/2021

Língua Portuguesa



Às vezes sou pulga,
sou **mosca** também,
que voa e se **esconde**
de medo e vergonha.

1 Descubra o enigma.

a) Eu sou uma brincadeira onde a gente corre e se esconde.

Meu nome é

___	CON	DE	___	CON	DE
-----	-----	----	-----	-----	----

b) Eu sou um animal que voa, faz um zumbido e incomoda muita gente.

Eu sou a

___	CA
-----	----

c) Eu sirvo para você subir e pegar as coisas que estão no alto.

Eu sou a

___	CA	DA
-----	----	----

d) Eu sirvo para você levar seus papéis para a escola.

Eu sou a

___	TA
-----	----

e) Quando eu faço aniversário, todos ficam esperando o convite para a minha

Eu sou a

___	TA
-----	----

2 Agora, encontre as palavras do enigma no caça-palavras.



Obrasleirinho.com.br

W	Q	D	F	G	Z	X	M	O	S	C	A	Ç	Z	R
R	T	A	P	A	S	T	A	Z	H	K	Q	P	S	O
Z	F	E	S	T	A	E	A	Q	R	H	K	P	Ç	X
A	Q	W	Z	X	E	S	C	A	D	A	H	Y	K	Ç
R	R	T	Y	K	H	A	P	Q	X	Z	Ç	G	G	H
E	S	C	O	N	D	E	-	E	S	C	O	N	D	E



<https://galeria.colorir.com>



<https://publicdomainvectors.org>



01/09/2021

Matemática

BRINCANDO com a Matemática

4 Na loja onde o pai de Calvin comprou a bicicleta, havia muitos brinquedos. Observe o preço de alguns dos brinquedos.



5 Calcule quanto o pai de Calvin gastaria se fosse comprar

a) uma boneca e uma bola: R\$ _____

b) uma boneca e uma piscina: R\$ _____

c) uma piscina e uma bola: R\$ _____

6 Calcule o troco na compra dos brinquedos representados abaixo.

COMPROU	PAGOU COM	RECEBEU DE TROCO
		R\$ _____
		R\$ _____



02/09/2021

Língua Portuguesa

Amiga de todas as horas

Bicicleta conduz ciclista a diversos lugares há mais de 220 anos

Ela é companheira de todas as horas. Durante as férias, vira o brinquedo favorito de muita criança. Leve e veloz: é a bicicleta.



Em janeiro, o garoto Bruno de 11 anos, deixa o videogame de lado e pedala quase todos os dias. “No videogame só tenho os mesmos jogos. Com a bicicleta, eu posso passear por lugares bem diferentes”, diz.

Alguns adoram a sensação de deslizar nas ruas com a “magrela”. “Quando eu ando de bicicleta, parece que estou flutuando na velocidade.”

“O vento batendo no rosto é gostoso”, diz Rocío de 9 anos, que sempre leva a cadela Lady na cestinha de sua bike.



Já Gabriel de 9 anos, prefere andar rapidamente na bicicleta.

“Gosto de acelerar bastante e de olhar para as pessoas”.

Outro que gosta de desafio é Murilo de 8 anos, “Acho legal pular em morros e rampas”, diz. Guilherme de 9 anos, segue com o amigo. “Quanto mais manobras a gente faz, dá mais frio na barriga!”

Para Carlinhos de 7 anos, o melhor de andar de bicicleta é fazer exercício. “A gente cresce e fica forte.”



Mas é preciso prestar bastante atenção por onde anda.

É por isso que capacete, joelheiras e cotoveleiras são acessórios importantes para você se proteger de tombos. [...]

Como todo amigo precisa de cuidado, não vale esquecer de tratar a bike com carinho. Vitor de 7 anos, dá a dica: “É sempre bom encher os pneus e limpar a bicicleta depois de passear”.





E.M. BAIRRO MANUEL CLEMENTE.
PROFESSORA: JANETE
ALUNO: _____

3º ANO B

02/09/2021

Matemática

BRINCANDO com a Matemática



https://www.pinterest.de/pin/363384263633015620/?pin_tur...



Calcule e responda:

a) Bruno tem 2 notas de R\$ 50,00. Qual o valor total que tem Bruno?

R: _____

b) Murilo tinha 1 nota de R\$ 20,00 e ganhou duas de R\$ 5,00. Com quanto Murilo ficou?

R: _____

c) Guilherme juntou, em seu cofrinho, 4 moedas de R\$ 1,00 e 6 moedas de R\$ 0,50. Quanto Guilherme tem em seu cofrinho?

R: _____

d) Dona Viviane foi ao supermercado com R\$ 200,00. Gastou R\$ 150,00. Quanto sobrou de dinheiro de Dona Viviane?

R: _____

e) Carlinhos levou 3 notas de R\$ 100,00 para comprar um skate na loja Compre Mais. O skate custa R\$ 150,00.

Ele precisou das 3 notas? _____

Quantas notas ele usou? _____

Quanto Carlinhos recebeu de troco? _____

MOSTRE COMO VOCÊ PENSOU.



03/09/2021

Língua Portuguesa

Conversando sobre o texto...



Complete de acordo com o texto:

- a) Título do texto: _____
- b) Assunto do texto: _____
- c) No trecho “Alguns adoram a sensação de deslizar nas ruas com a “magrela”., a palavra **magrela** se refere a _____
- d) No trecho “Quando eu ando de bicicleta, parece que **estou flutuando na velocidade.**”, significa que o menino está _____
- _____



Risque a resposta certa de acordo com o texto:

a) A companheira de todas as horas é



a bicicleta.



o videogame.



a joelheira.



o capacete.

b) O menino que troca o videogame pela bicicleta é o

Murilo.

Gabriel.

Bruno.

Carlinhos.

c) O menino Rocio leva na cestinha de sua bike a

garrafa com água.

cotoveleira de proteção.

mochila da escola.

cadela Lady.



03/09/2021

Matemática

RODA DE CONVERSA

Que tal conversar com seus familiares e colegas sobre os seus horários?
Será que todos vocês organizam o dia do mesmo jeito? Quanto tempo do dia dedicam para a diversão e para os estudos?

➔ Podemos utilizar as agendas e calendários, impressos ou digitais, também para anotar os compromissos semanais e as datas importantes mensais, como aniversários e eventos culturais.

1. Com a ajuda da sua professora ou do seu professor, preencha o calendário do próximo mês seguindo as seguintes orientações:

- Escreva as datas no lugar adequado.
- Escolha duas comemorações ou eventos importantes para sinalizar.
- Pinte essas datas e registre-as na legenda.

_____ (Mês) _____ (Ano)						
DOM	SEG	TER	QUA	QUI	SEX	SÁB
<input type="checkbox"/>	<input type="checkbox"/>	<input type="checkbox"/>	<input type="checkbox"/>	<input type="checkbox"/>	<input type="checkbox"/>	<input type="checkbox"/>
<input type="checkbox"/>	<input type="checkbox"/>	<input type="checkbox"/>	<input type="checkbox"/>	<input type="checkbox"/>	<input type="checkbox"/>	<input type="checkbox"/>
<input type="checkbox"/>	<input type="checkbox"/>	<input type="checkbox"/>	<input type="checkbox"/>	<input type="checkbox"/>	<input type="checkbox"/>	<input type="checkbox"/>
<input type="checkbox"/>	<input type="checkbox"/>	<input type="checkbox"/>	<input type="checkbox"/>	<input type="checkbox"/>	<input type="checkbox"/>	<input type="checkbox"/>
<input type="checkbox"/>	<input type="checkbox"/>	<input type="checkbox"/>	<input type="checkbox"/>	<input type="checkbox"/>	<input type="checkbox"/>	<input type="checkbox"/>

<input type="checkbox"/>	_____
<input type="checkbox"/>	_____

Minha avó coleciona calendários com ímãs de geladeira! Na verdade, ela coleciona vários tipos de objetos... Eu aprendi a colecionar pincéis com ela!





08/09/2021

Língua Portuguesa/História

História

O Brasil Império

► A Independência do Brasil



- D. João VI voltou para Portugal e deixou aqui seu filho D. Pedro, com apenas 22 anos.
- A corte portuguesa queria que o Brasil, que já era Reino Unido, voltasse à condição de Colônia.
- Eles lutaram para impedir que o Brasil voltasse a ser uma Colônia de Portugal: José Bonifácio, Cipriano Barata, Gonçalves Ledo e outros.
- Em 1821, Portugal exigiu que D. Pedro retornasse. Uma comissão entregou à D. Pedro um abaixo assinado com mais de oito mil assinaturas, pedindo que ficasse no Brasil.
- Ao receber o abaixo assinado, em 9 de janeiro de 1822 D. Pedro declarou: "Como é para o bem de todos e felicidade da Nação, estou pronto: diga ao povo que fico".
- 9 de janeiro Dia do Fico.

Atividades

❖ Complete as frases com as palavras entre parênteses.

• D. Pedro passou a governar o após a partida de D. João VI para (Portugal - Brasil)

• A intenção das de era fazer com que o voltasse à condição de (Brasil - colônia - Cortes - Portugal)

• O objetivo do Brasileiro era evitar que o voltasse à condição de colônia. (Partido - Brasil)



08/09/2021

Matemática



1. Resolva as situações-problemas utilizando o Quadro Valor de Lugar.

A) Daniel está colecionando o álbum de figurinhas do Campeonato Carioca. Ele já tem 47 figurinhas. Quantas figurinhas faltam para ele completar o seu álbum, se o total são 90 figurinhas?

Q.V.L	
DEZENA	UNIDADE

B) Em um campeonato de bolinhas de gude do seu bairro, Yan conseguiu ganhar 32 bolinhas de gude e Daniel, 19. Quantas bolinhas de gude Yan ganhou a mais que Daniel?

Q.V.L	
DEZENA	UNIDADE

C) Na loja de brinquedos *BrinCarioca*, havia 56 piões e 38 petecas. Quantos brinquedos havia no total?

Q.V.L	
DEZENA	UNIDADE



09/09/2021

Matemática

BRINCANDO COM
COM A MATEMÁTICA



1. Descubra diferentes adições para chegar ao total de 5 centenas, completando a tabela.

100 +	=	500
+ 200	=	500
300 +	=	500
+ 400	=	500
500 +	=	500



DESAFIO



Escreva por extenso as centenas abaixo e encontre-as no caça-palavras.

- 100 – _____
- 200 – _____
- 300 – _____
- 400 – _____
- 500 – _____

Q	U	A	T	R	O	C	E	N	T	O	S
U	A	E	T	R	I	O	R	L	H	G	R
A	E	D	U	Z	E	N	T	O	S	G	N
T	R	P	K	M	M	T	R	P	U	Q	E
R	T	R	E	Z	E	N	T	O	S	U	C
O	H	G	R	Q	A	E	U	I	O	A	E
R	T	B	N	M	L	U	T	O	I	R	M
Q	U	I	N	H	E	N	T	O	S	T	S

canva.com






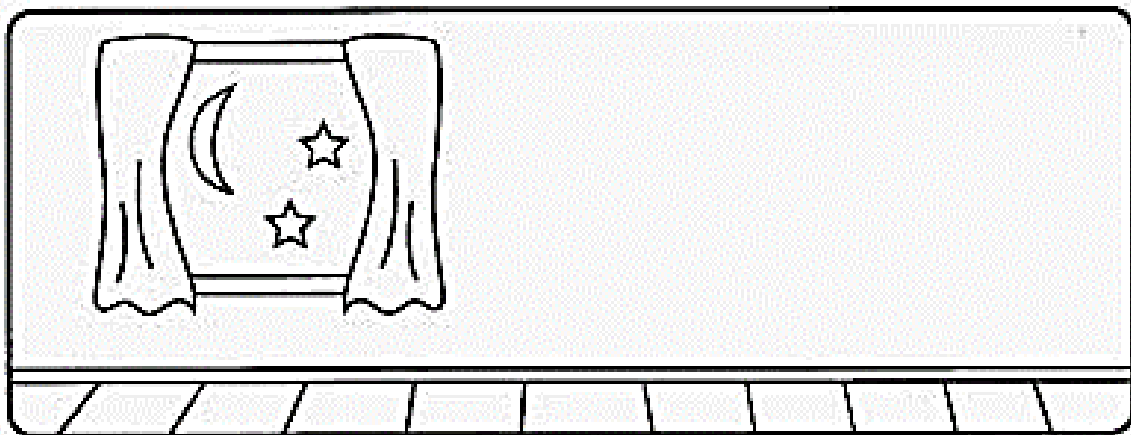


10/09/2021

Língua Portuguesa/Ciências

É DIA OU NOITE?

 PINTE AS CENAS, RECORTE AS FIGURAS ABAIXO E COLE-AS NOS QUADROS DE ACORDO COM ATIVIDADES QUE FAZEMOS DURANTE O DIA E À NOITE.





E.M. BAIRRO MANUEL CLEMENTE.
PROFESSORA: JANETE
ALUNO: _____

3º ANO B



10/09/2021

Matemática

BRINCANDO com a Matemática

Quadro da CENTENA.

1 Complete o quadro com os números que faltam.

1								9	
	12			15					
		23			26		28		
			34			37			
				45				49	
51					56				60
		63					68		
71				75				79	
	82					87			
91									100

2 Utilizando o quadro da CENTENA, escreva o **antecessor** e o **sucessor** dos seguintes números:

a) _____ 67 _____ b) _____ 90 _____ c) _____ 99 _____

3 O **antecessor** é o número que vem imediatamente _____.

4 O **sucessor** é o número que vem imediatamente _____.

5 Escreva, como lemos, os seguintes números:

a) 65 – _____

b) 34 – _____

c) 16 – _____



13/09/2021

Língua Portuguesa

Conversando sobre o texto...

3 Retire do texto "Amiga de todas as horas" o que dizem os meninos, abaixo:



Murilo _____



Guilherme _____

4 Leia o trecho abaixo:

"Quanto mais **manobras** a gente faz, dá mais **frio na barriga!**"

5 Escreva o sentido das expressões abaixo:

• manobras _____

• frio na barriga _____



6 Leia o trecho abaixo:

"Para Carlinhos de 7 anos, o melhor de andar de bicicleta é fazer exercício.

"A gente cresce e fica forte."

a) Você concorda com Carlinhos? Por quê?

7 Você acha importante usar acessório de segurança para andar de bicicleta? Por quê?





13/09/2021

Matemática

BRINCANDO com a Matemática

6 Ainda utilizando a tabela, marque, no quadro da CENTENA,

a) de **azul**: o número que vem imediatamente antes de 50.

b) de **amarelo**: o número que vem imediatamente depois de 69.

c) de **vermelho**: os números que estão entre sessenta e dois e sessenta e cinco.

7 Qual o sucessor de 19? _____

8 Complete as caixinhas, respeitando o comando:

2 a mais

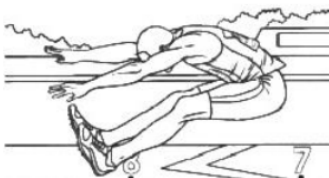
15	↪		↪		↪		↪		↪		↪	
----	---	--	---	--	---	--	---	--	---	--	---	--

3 a mais

40	↪		↪		↪		↪		↪		↪	
----	---	--	---	--	---	--	---	--	---	--	---	--

5 a mais

70	↪		↪		↪		↪		↪		↪	
----	---	--	---	--	---	--	---	--	---	--	---	--





14/09/2021

Língua Portuguesa

Conversando sobre o texto...



Velódromo Municipal do Rio é um velódromo localizado no Parque Olímpico na Barra da Tijuca, no Rio de Janeiro. O espaço foi construído para abrir as disputas de ciclismo de pista e patinação de velocidade.

A **BICICLETA** é um meio de transporte muito utilizado em alguns países. Um desses países é a Holanda.

O **CICLISMO** é um esporte praticado com a utilização da bicicleta e faz parte dos Jogos Olímpicos da Era Moderna desde a primeira edição.



1 Veja a imagem da menina e crie frases a partir do que você vê.

1 - _____

2 - _____





14/09/2021

Matemática

BRINCANDO com a Matemática



https://www.google.com.br/search?newwindow=1&btn=1094&btn=504&btn=edi&sr=AC78GNT_jm/NH-0w3JW10D1H3n5f9pik/K5A1574Z76876931&sa=1&el=U_VXZV6OP5e5OU7b5dUq4&kg=quadro-de-medalhas-solimpiadas-2016&aq=quadro-de-medalhas

1 Observe a imagem acima e responda:

- a) Os Estados Unidos ficou em _____ lugar.
- b) A Alemanha ficou em _____ lugar.
- c) A França ficou em _____ lugar.
- d) O Brasil ficou em _____ lugar.

2 Escreva por extenso os ordinais:

1.º		6.º	
2.º		7.º	
3.º		8.º	
4.º		9.º	
5.º		10.º	



16/09/2021

Língua Portuguesa

Quem não gosta de se exercitar? Praticar esportes é um hábito muito saudável! O esporte é importante para a saúde, para o bem-estar e nos ajuda a fazer amigos e a aprender a respeitar regras.

Devemos, no entanto, ter alguns cuidados quando praticamos esportes.



Leia, com os seus colegas, algumas dicas:

É importante fazer exercício de aquecimento antes de começar uma atividade esportiva, preparando o corpo para o esforço.



Em alguns esportes, é necessário o uso de equipamentos de proteção para evitar que os participantes se machuquem.



Agora, escreva os nomes de alguns equipamentos utilizados na prática de esportes:















16/09/2021

Matemática


BRINCANDO com a Matemática

Veja a chegada de uma corrida de carros!



Pinte os carros de corrida, sabendo que:

- O **CARRO VERMELHO** GANHOU A CORRIDA.
- O **CARRO AZUL** CHEGOU LOGO APÓS O **CARRO AMARELO**.



www.bestcoloringpagesforkids.com



Complete com **ordinais** e **cardinais**:

- a) O carro número 21 chegou em _____ lugar.
b) O carro número _____ chegou em 2º lugar.
c) O carro número 8 chegou em _____ lugar.



Complete com os ordinais correspondentes:

- a) primeiro _____ b) segundo _____ c) terceiro _____ d) quarto _____
e) quinto _____ f) sexto _____ g) sétimo _____ h) oitavo _____
i) nono _____ j) décimo _____




17/09/2021

Língua Portuguesa



Calvin ganhou uma bicicleta. Veja o que aconteceu.

Na história, não aparecem balões com a fala do personagem. Mas nós podemos compreendê-la através das imagens.



1 Veja as imagens e complete:

- a) No quadrinho 1, Calvin olha a _____.
- b) No quadrinho 2, Calvin se prepara para _____.

2 Responda:

- a) O que acontece no último quadrinho? _____
- _____
- b) Você acha que Calvin já sabe andar de bicicleta? Por quê?

c) Crie um título para a história e escreva no quadro pontilhado acima dos quadrinhos.



17/09/2021

Matemática

BRINCANDO com a Matemática

“Todo dia era a mesma coisa: era só o relógio apontar para o meio-dia que lá vinha o Beto”.



ATENÇÃO! O ponteiro *pequeno* marca as horas e o ponteiro *grande* marca os minutos.


1 VOLTA INTEIRA OU
1 HORA = 60 MINUTOS




MEIA VOLTA OU
MEIA HORA = 30 MINUTOS




Marque, nos relógios, os horários de Beto, de acordo com a sua linha do tempo:



Acorda
às 7 horas.



Chega à escola
às 8 horas.



Chega em casa
às 12 horas.

Referências

DIA		PÁGINA
30/08	Retirado de: https://recriandonaalfabetizacao.wordpress.com/2015/08/07/telas-do-romero-britto-para-colorir/	-----
30/08	Apostila do Município do Rio de Janeiro – 1º semestre – 3º ano	144
31/08	Apostila do Município do Rio de Janeiro – 1º semestre – 3º ano	9
31/08	Apostila do Município do Rio de Janeiro – 1º semestre – 3º ano	162
01/09	Apostila do Município do Rio de Janeiro – 1º semestre – 3º ano	10
01/09	Apostila do Município do Rio de Janeiro – 1º semestre – 3º ano	163
02/09	Apostila do Município do Rio de Janeiro – 1º semestre – 3º ano	154
02/09	Apostila do Município do Rio de Janeiro – 1º semestre – 3º ano	164
03/09	Apostila do Município do Rio de Janeiro – 1º semestre – 3º ano	155
03/09	Apostila do Município do Rio de Janeiro – 2º semestre – 3º ano	10
08/09	Retirado de: https://lereaprender.com.br/atividades-sobre-a-independencia-do-brasil-5o-ano/independencia-do-brasil/	-----
08/09	Apostila do Município do Rio de Janeiro – 2º semestre – 3º ano	31
09/09	Retirado de: https://www.soescola.com/2016/08/atividades-sobre-independencia-do-brasi.html	-----
09/09	Apostila do Município do Rio de Janeiro – 2º semestre – 3º ano	36
10/09	Retirado de: https://br.pinterest.com/pin/663436588844862613/	-----
10/09	Apostila do Município do Rio de Janeiro – 1º semestre – 3º ano	182
13/09	Apostila do Município do Rio de Janeiro – 1º semestre – 3º ano	156
13/09	Apostila do Município do Rio de Janeiro – 1º semestre – 3º ano	183
14/09	Apostila do Município do Rio de Janeiro – 1º semestre – 3º ano	157
14/09	Apostila do Município do Rio de Janeiro – 1º semestre – 3º ano	184
16/09	Apostila do Município do Rio de Janeiro – 1º semestre – 3º ano	158
16/09	Apostila do Município do Rio de Janeiro – 1º semestre – 3º ano	185
17/09	Apostila do Município do Rio de Janeiro – 1º semestre – 3º ano	159
17/09	Apostila do Município do Rio de Janeiro – 1º semestre – 3º ano	186