



Prefeitura da Estância Turística de

IBIÚNA

TRANSFORMAÇÃO RESPONSÁVEL. CUIDANDO DE PESSOAS.

Av. São Sebastião, 192. 4º Piso. Centro. Fones: (15) 3248 1292. 3248 1574. Email: apoiopedagogicosmeibiuna@hotmail.com



EM TEREZA FALCI

EM BAIRRO RECANTO PRIMAVERA

3º BIMESTRE

BLOCO 10 30/08 A 17/09



NOME: _____

PROFESSORA MIÚCHA

1º ANO

2021

ORIENTAÇÕES IMPORTANTES:

- ✓ **RESERVAR UM LUGAR LIMPO E TRANQUILO PARA REALIZAÇÃO DAS ATIVIDADES**
- ✓ **NÃO DEIXE AS ATIVIDADES ACUMULAREM, RESERVE UM TEMPO DIÁRIO**
- ✓ **AJUDAR NÃO É REALIZAR A ATIVIDADE PELA CRIANÇA! SE NECESSÁRIO SOLICITE AJUDA E LEMBRE-SE ESTOU A DISPOSIÇÃO PARA TIRAR DÚVIDAS, ME PROCURE NO WHATSAPP**
- ✓ **REALIZE SUAS ATIVIDADES COM CAPRICHOS!**
- ✓ **FIQUE DE OLHO NO GRUPO DE WHATSAPP, PARTICIPE!!!**

SUA PARTICIPAÇÃO É MUITO IMPORTANTE!!!

**LEMBRE-SE ESTAMOS JUNTOS POR UM BEM COMUM, O MELHOR PARA AS CRIANÇAS
INCENTIVE A LEITURA, LEIAM COM AS CRIANÇAS!**

**APROVEITEM CADA MOMENTO EM CASA, PARA QUE ELES PERCEBAM A IMPORTÂNCIA
DE ESTUDAR E TENHAM PRAZER EM REALIZAR SUAS ATIVIDADES**

AOS PAIS:

**OBRIGADA POR SUA DEDICAÇÃO E EMPENHO, SEM ISSO MEU TRABALHO SERIA
IMPOSSÍVEL!!!!**

PROFª MIÚCHA

ROTEIRO DE REALIZAÇÃO DAS ATIVIDADES NO LIVRO DIDÁTICO:

AVISO IMPORTANTE:

- ✓ **CUIDE DO SEU LIVRO**
- ✓ **MANTENHA-O LIMPO E SEM RASGAR**
- ✓ **A PROFEESORA ENVIOU SEU LIVRO EM UMA SACOLINHA E É NELA QUE SEU LIVRO DEVE RETORNAR PARA CORREÇÃO**
- ✓ **NÃO PERCA SEU LIVRO**

ATIVIDADES DESSE BLOCO:

- ✓ **LÍNGUA PORTUGUESA**

- **PÁGINAS 56**

ASSIM TAMBÉM APRENDO

- **PÁGINAS 57 E 61**

LEITURA DA HISTÓRIA EM QUADRINHOS

REALIZAR ATIVIDADES 1, 2, 3, 5 E 6

- **PÁGINAS 62**

LETRA B

REALIZAR AS ATIVIDADES DE 1 A 5 DA PAGINA 62

- **PÁGINAS 63 E 64**

REALIZAR AS ATIVIDADES 1 A 4

- **PÁGINAS 66**

ASSIM TAMBÉM APRENDO

- PÁGINAS 67 A 72

LEITURA DA HISTÓRIA EM QUADRINHOS

REALIZAR AS ATIVIDADES 1, 2, 3, 4, 5, 6, 7 E 8

✓ MATEMÁTICA

- PÁGINA 109

VAMOS VER DE NOVO?

REALIZAR ATIVIDADES 1, 2 E 3

- PÁGINA 110

REALIZAR ATIVIDADES 4, 5 E 6

- PÁGINAS 115 E 116

REALIZAR AS ATIVIDADES 1, 2, 3 E 4

- PÁGINAS 119 E 120

MANEIRAS DE EFETUAR A ADIÇÃO

REALIZAR ATIVIDADES 1, E 2

- PÁGINAS 121 E 122

REALIZAR ATIVIDADE 3, 4 E 5

- PÁGINAS 123 E 124

PROBLEMAS

REALIZAR AS ATIVIDADES 1, 2, 3, 4, 5 E 6

- PÁGINAS 141 143

GRANDEZAS E MEDIDAS NO DIA A DIA

REALIZAR ATIVIDADES 1, 2, 3, 4, 5 E 6

OBS: AGUARDE VÍDEO AULA EXPLICATIVA NO NOSSO GRUPO

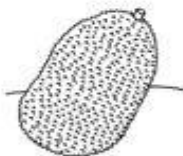

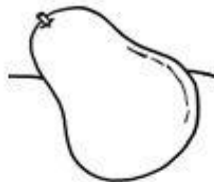
BONS ESTUDOS!!!!!!

NOME: _____

DATA

NOME: _____ DATA: __/__/__

RECORTE E COLE A PRIMEIRA LETRA DO NOME DAS FRUTAS.



M

L

A

J

C

B

M

L

A

U

C

P

NOME: _____

DATA _____

NOME: _____

DATA: _____

www.mestredosaber.com.br

ALIMENTAÇÃO SAUDÁVEL

PARA CRESCER FORTE E SAUDÁVEL É PRECISO COMER DIARIAMENTE ALIMENTOS COMO CEREAIS (ARROZ, MILHO), TUBÉRCULOS (BATATAS), RAÍZES (MANDIOCA, MACAXEIRA, AIPIM), CARNES E PEIXES, PÃES E MASSAS, DISTRIBUINDO ESSES ALIMENTOS NAS REFEIÇÕES E LANCHES AO LONGO DO DIA. ALÉM DE COMER LEGUMES E VERDURAS NAS DUAS PRINCIPAIS REFEIÇÕES DO DIA E FRUTAS NAS SOBREMESAS E LANCHES.

CIRCULE DE VERDE OS ALIMENTOS SAUDÁVEIS E CIRCULE DE VERMELHO OS ALIMENTOS QUE NÃO FAZEM BEM PARA A SAÚDE QUANDO CONSUMIDOS EM EXCESSO.



NOME: _____

DATA

NOME: _____

DATA: _____

www.mestredosaber.com.br

ALIMENTAÇÃO SAUDÁVEL

DESEMBARALHE AS SÍLABAS E ESCREVA O NOME DOS ALIMENTOS.



XE	PEI
----	-----




DA	SA	LA
----	----	----



MA	TE	TO
----	----	----



VA	U
----	---



RA	PE
----	----























JA	LA	RAN
----	----	-----





















NOME: _____

DATA _____

NOME: _____
 DATA: _____ www.mestredosaber.com.br


DESCUBRA OS NÚMEROS QUE ESTÃO NO LUGAR DOS SÍMBOLOS.

1	2	3		5			8		
11			14		16	17		19	20
21		23		25	26		28		30
31	32		34	35		37		39	40
41	42	43			46			49	50

	<input type="text"/>		<input type="text"/>		<input type="text"/>		<input type="text"/>
	<input type="text"/>		<input type="text"/>		<input type="text"/>		<input type="text"/>
	<input type="text"/>		<input type="text"/>		<input type="text"/>		<input type="text"/>
	<input type="text"/>		<input type="text"/>		<input type="text"/>		<input type="text"/>
	<input type="text"/>		<input type="text"/>		<input type="text"/>		<input type="text"/>

NOME: _____

DATA




- PÁGINAS 56

ASSIM TAMBÉM APRENDO

AGUARDE VÍDEO EXPLICATIVO NO GRUPO

NOME: _____

DATA



- **PÁGINA 109**

VAMOS VER DE NOVO?

REALIZAR ATIVIDADES 1, 2 E 3

AGUARDE VÍDEO AULA EXPLICATIVA NO GRUPO






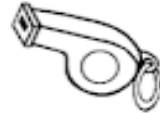






NOME: _____

DATA

Nome: _____ Data: __/__/____

- Complete o nome de cada desenho, com as vogais faltosas, e, copie-os:



 <table border="1"> <tr> <td>V</td> <td></td> <td></td> <td></td> </tr> </table>	V				 <table border="1"> <tr> <td>N</td> <td></td> <td>L</td> </tr> </table>	N		L	 <table border="1"> <tr> <td>L</td> <td>F</td> <td>N</td> <td>T</td> </tr> </table>	L	F	N	T
V													
N		L											
L	F	N	T										
 <table border="1"> <tr> <td>V</td> <td></td> <td>L</td> <td>H</td> </tr> </table>	V		L	H	 <table border="1"> <tr> <td>L</td> <td></td> <td>H</td> </tr> </table>	L		H	 <table border="1"> <tr> <td>P</td> <td></td> <td>T</td> </tr> </table>	P		T	
V		L	H										
L		H											
P		T											
 <table border="1"> <tr> <td>G</td> <td></td> <td>L</td> <td>H</td> </tr> </table>	G		L	H	 <table border="1"> <tr> <td>G</td> <td></td> <td>M</td> </tr> </table>	G		M	 <table border="1"> <tr> <td>S</td> <td>P</td> <td></td> <td>D</td> </tr> </table>	S	P		D
G		L	H										
G		M											
S	P		D										
 <table border="1"> <tr> <td>M</td> <td></td> <td></td> </tr> </table>	M			 <table border="1"> <tr> <td>V</td> <td></td> <td></td> </tr> </table>	V			 <table border="1"> <tr> <td>C</td> <td></td> <td>L</td> <td></td> <td>S</td> </tr> </table>	C		L		S
M													
V													
C		L		S									


NOME: _____

DATA

VAMOS LER JUNTINHOS!

A BOLA

OLHA A BOLA.
A BOLA QUE ROLA.
DE QUEM É A BOLA?
É DA CAROLA.
A BOLA ROLA.
ROLA E PULA.
ROLA QUE NEM MOLA.
PULA QUE NEM MULA.



PINTE A LETRA **B** TODA VEZ QUE VOCÊ ENCONTRAR NO TEXTO.

NOME: _____

DATA

INTERPRETAÇÃO DO TEXTO.

1. O TEXTO FALA SOBRE:



() BALA



() BOLA



() BOLO

2. A BOLA É DE:

() CARLA

() CAROLA


3. A BOLA:

() MOLA E PULA

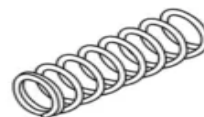
() ROLA E PULA

4. LIGUE:

ROLA QUE NEM ◦



PULA QUE NEM ◦



NOME: _____

DATA _____

MATEMÁTICA

COMPLETE O QUADRO COM OS NÚMEROS
QUE ESTÃO FALTANDO:

0	1		3		5	6			9
10	11					16			19
	21				25				29
30		32					37		

ESCREVA OS VIZINHOS DE CADA NÚMERO:

	21	
--	----	--

	6	
--	---	--

	15	
--	----	--

	26	
--	----	--

	3	
--	---	--

	33	
--	----	--

NOME: _____


DATA

ATIVIDADE

I. LEIA OS ANÚNCIOS E LIGUE NA MORADIA CORRESPONDENTE, OBSERVANDO AS CARACTERÍSTICAS DE CADA UMA.


VENDE-SE

APARTAMENTO DE 2 QUARTOS NO BAIRRO DAS FLORES
TEL: 928708127



ALUGA-SE

SOBRADO DE DOIS ANDARES MUITO ESPAÇOSO EM CARAPINA.
TEL: 29312983



VENDE-SE

CASA TÉRREA COM 3 QUARTOS E 2 BANHEIROS EM ANDRÉ CARLONI.
TEL: 92372663



2.ESCREVA O NOME DE CADA MORADIA:

MORADIA FEITA COM PALHA E FOLHAS USADA PELOS ÍNDIOS:

--	--	--

MORADIA CONSTRUIDA NA BEIRA DOS RIOS, APOIADA EM ESTACAS PARA PROTEGER A CASA DE ALAGAMENTOS.

--	--	--	--	--	--	--	--

PEQUENA MORADIA FEITAS COM BLOCOS DE GELO EM LUGARES MUITO FRIOS.

--	--	--	--

www.criarrecriarensinar.com

BANCO DE PALAVRAS ATIVIDADE 2


IGLU

PALAFITA

OCA

NOME: _____

DATA



- **PÁGINAS 57 E 61**

LEITURA DA HISTÓRIA EM QUADRINHOS

REALIZAR ATIVIDADES 1, 2, 3, 5 E 6


ENVIAR ÁUDIO CONTANDO

- **QUAL A HISTÓRIA EM QUE VOCÊ MAIS GOSTA**
- **SEUS PERSONAGEM PREFERIDOS**
- **RECONTANDO A HISTÓRIA EM QUADRINHOS “ENQUANTO VOCÊ DORMIA”**

AGUARDE VÍDEO AULA EXPLICATIVA NO GRUPO

NOME: _____

DATA



- **PÁGINA 110**

REALIZAR ATIVIDADES 4, 5 E 6

AGUARDE VÍDEO AULA EXPLICATIVA NO GRUPO

NOME: _____

DATA

ESCOLA: _____
DATA: ____ / ____ / ____
NOME: _____

LINGUAGEM

PINTE SOMENTE AS FIGURAS QUE COMECEM COM A LETRA **B**:



NOME: _____

DATA _____

CAÇA-FATOS

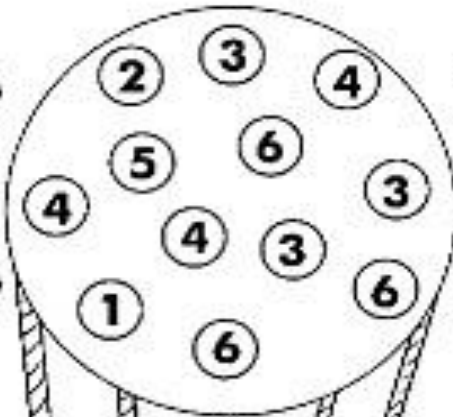
① RESOLVA OS FATOS E PINTE DA MESMA COR, NO BALÃO, OS RESULTADOS CORRESPONDENTES.

$4 + 2 = \dots\dots\dots$



$1 + 3 = \dots\dots\dots$

$6 - 2 = \dots\dots\dots$



$4 - 1 = \dots\dots\dots$

$5 + 1 = \dots\dots\dots$

$5 - 2 = \dots\dots\dots$

$5 - 3 = \dots\dots\dots$


$2 + 4 = \dots\dots\dots$

$2 + 2 = \dots\dots\dots$

$4 - 3 = \dots\dots\dots$

$6 - 3 = \dots\dots\dots$

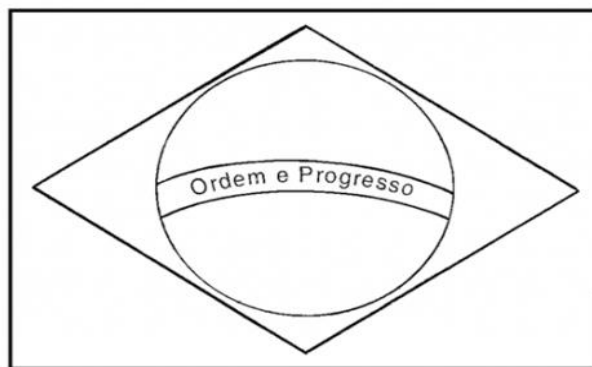
$3 + 2 = \dots\dots\dots$



NOME: _____

DATA

7 DE SETEMBRO - INDEPENDÊNCIA DO BRASIL



ESSA É A BANDEIRA DO

AS CORES DA BANDEIRA SÃO:

QUANTAS CORES SÃO?

O QUE ESTÁ ESCRITO NA BANDEIRA?

NOME: _____

DATA


DESCUBRA A FRASE DITA NO MOMENTO DA INDEPENDÊNCIA DO BRASIL

ENIGMA

ESCREVA A PRIMEIRA LETRA DE CADA FIGURA E DESCUBRA QUAL É A FRASE.



	N				E		D			N		
--	---	--	--	--	---	--	---	--	--	---	--	--



--	--



	O				E
--	---	--	--	--	---

NOME: _____

DATA

ILUSTRE A POESIA “O QUE É PÁTRIA?”

PÁTRIA É NOSSA TERRA	PÁTRIA SÃO NOSSAS FLORETAS, NOSSO VERDE	PÁTRIA É NOSSO CÉU AZUL, NOSSAS ESTRELAS, NOSSA LUA
PÁTRIA É NOSSO SOL RADIANTE	PÁTRIA SÃO NOSSOS RIOS, NOSSO MAR	PÁTRIA SÃO NOSSOS CAMPOS FLORIDOS
PÁTRIA SÃO NOSSOS PÁSSAROS MULTICORES	PÁTRIA É NOSSA GENTE PÁTRIA SOMOS TODOS NÓS	É TUDO QUE NOS RODEIA É TERNURA NO CORAÇÃO!

NOME: _____

DATA _____



VAMOS RESOLVER?

Visual representation of the addition 2 + 2 = 4 using cowgirl hats. Two hats are on the left, two on the right, and four are shown in the result area.

$$\square + \square = \square$$



Visual representation of the addition 4 + 4 = 8 using horses. Four horses are on the left, four on the right, and eight are shown in the result area.

$$\square + \square = \square$$




Visual representation of the addition 6 + 6 = 12 using blocks labeled 'HENQ'. Six blocks are on the left, six on the right, and twelve are shown in the result area.

$$\square + \square = \square$$

NOME: _____

DATA




- **PÁGINAS 115 E 116**

REALIZAR AS ATIVIDADES 1, 2, 3 E 4

AGUARDE VÍDEO AULA EXPLICATIVA NO GRUPO

NOME: _____

DATA



- **PÁGINA 62**

LETRA B

REALIZAR AS ATIVIDADES DE 1 A 5

AGUARDE VÍDEO AULA EXPLICATIVA NO GRUPO

NOME: _____

DATA

CUIDANDO DO CORPO



PARA CUIDAR DO NOSSO CORPO, É PRECISO ALIMENTAÇÃO SAUDÁVEL, HIGIENE PESSOAL, LAZER, DORMIR BEM E FAZER ATIVIDADE FÍSICA.

1. QUANTAS HORAS VOCÊ DORME POR DIA? _____

2. CITE UMA ATIVIDADE DE LAZER QUE VOCÊ PRÁTICA.

3. VOCÊ PRÁTICA ALGUMA ATIVIDADE FÍSICA? ONDE?


4. VOCÊ PRÁTICA ALGUM DESTES ESPORTES? QUAL?

- | | | | | | |
|--------------------------|----------|--------------------------|----------|--------------------------|-------|
| <input type="checkbox"/> | NATAÇÃO | <input type="checkbox"/> | FUTEBOL | <input type="checkbox"/> | VÔLEI |
| <input type="checkbox"/> | CAPOEIRA | <input type="checkbox"/> | BASQUETE | <input type="checkbox"/> | JUDÔ |
| <input type="checkbox"/> | CICLISMO | OUTRO. QUAL? _____ | | | |

5. CITE UMA BRINCADEIRA QUE PRECISAMOS MOVIMENTAR O CORPO PARA PRATICÁ-LA.

NOME: _____

DATA



- **PÁGINAS 119 E 120**


MANEIRAS DE EFETUAR A ADIÇÃO

REALIZAR ATIVIDADES 1, E 2

AGUARDE VÍDEO AULA EXPLICATIVA NO GRUPO

NOME: _____

DATA




- PÁGINAS 63 E 64

REALIZAR AS ATIVIDADES 1 A 4

AGUARDE VÍDEO AULA EXPLICATIVA NO GRUPO

NOME: _____

DATA




- **PÁGINAS 121 E 122**

REALIZAR ATIVIDADE 3, 4 E 5

AGUARDE VÍDEO AULA EXPLICATIVA NO GRUPO

NOME: _____

DATA



- PÁGINAS 123 E 124

PROBLEMAS

REALIZAR AS ATIVIDADES 1, 2, 3, 4, 5 E 6

AGUARDE VÍDEO AULA EXPLICATIVA NO GRUPO

NOME: _____

DATA

ESCOLA: _____
DATA: ____ / ____ / ____
NOME: _____

LINGUAGEM

FAMÍLIA SILÁBICA
B

CRUZADINHA

A crossword puzzle grid with 10 rows and 10 columns. The grid is partially filled with icons: a baby in the top-left, a bicycle in the top-middle, a doll in the top-right, a lollipop in the middle-right, a beach ball in the middle-middle, a bikini in the middle-left, a teapot in the bottom-middle, a beach hat in the bottom-left, and a watermelon in the bottom-left. The grid is designed for a word search activity.

- BICICLETA
- BONECA
- BALA
- BULE
- BEBÊ
- BOLA
- BIQUINI
- BONÉ
- BALEIA

NOME: _____

DATA

NOME: _____ DATA: ___ / ___ / ___


1.OBSERVE O GRÁFICO DE FRUTAS QUE CAIO COMPROU.



A)QUANTOS MAÇÃS?


B) QUANTAS LARANJAS?

C) QUANTAS BANANAS?



NOME: _____

DATA



- **PÁGINAS 66**

ASSIM TAMBÉM APRENDO

- **PÁGINAS 67 A 72**

LEITURA DA HISTÓRIA EM QUADRINHOS

REALIZAR AS ATIVIDADES 1, 2, 3, 4, 5, 6, 7 E 8

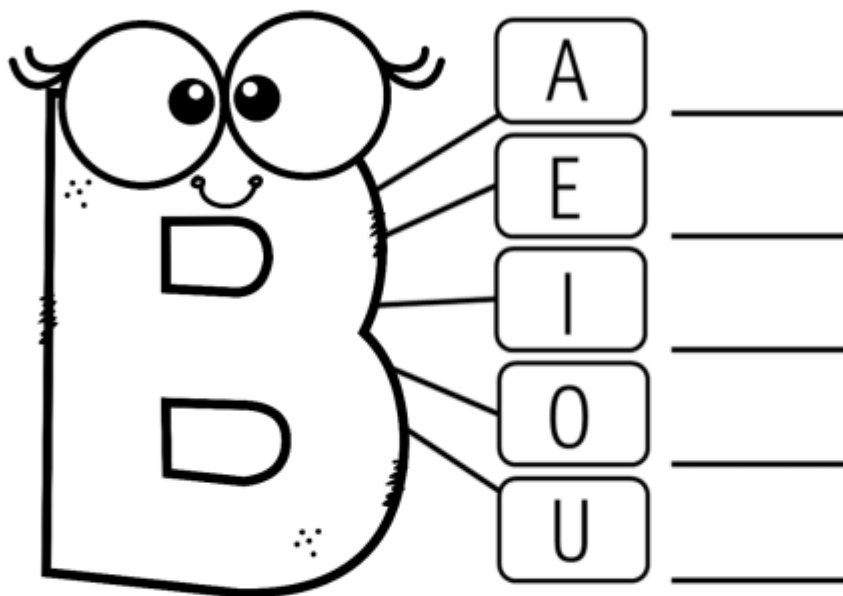
AGUARDE VÍDEO EXPLICATIVO NO GRUPO

NOME: _____

DATA


Nome: Data: ___/___/___

EU SOU A LETRA B
PARA VOCÊ PEQUENINHO
VOU ENSINAR MEUS PEDACINHOS.



COMPLETE AS PALAVRAS ABAIXO COM AS SÍLABAS:

BA – BE – BI – BO – BU – BÃO



[HTTPS://ATIVIDADESPARABAIXAR.COM/](https://atividadeparabaixar.com/)



NOME: _____









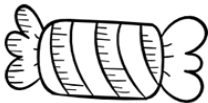
DATA

ESCOLA: _____

TURMA: _____ DATA: ____ / ____ / ____

ALUNO: _____

1- RECORTE E COLE A PALAVRA CORRESPONDENTE AO NOME DA FIGURA.


		
<input type="text"/>	<input type="text"/>	<input type="text"/>
		
<input type="text"/>	<input type="text"/>	<input type="text"/>
		
<input type="text"/>	<input type="text"/>	<input type="text"/>



BALEIA	BICO	SINO
BOLA	NAVIO	BALA
GIRAFIA	CASA	BOLO

NOME: _____

DATA



- **PÁGINAS 141 143**

GRANDEZAS E MEDIDAS NO DIA A DIA

REALIZAR ATIVIDADES 1, 2, 3, 4, 5 E 6



AGUARDE VÍDEO AULA EXPLICATIVA NO GRUPO

NOME: _____

DATA

NOME:

- Todas as figuras se repetem, menos uma, circule-a:



QUAL FIGURA NÃO SE REPETIU?

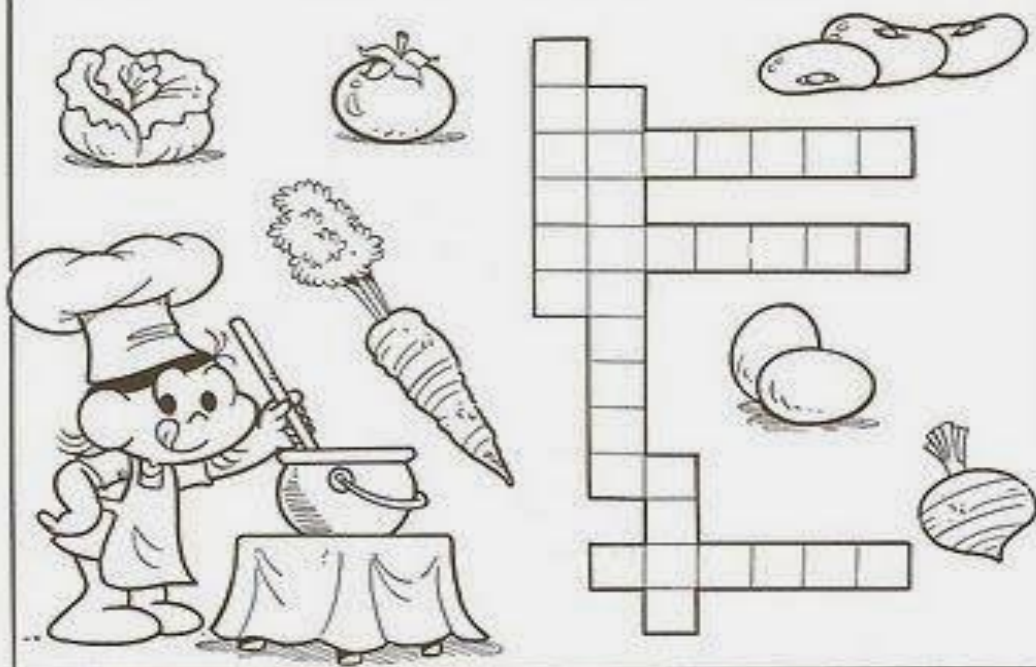
ESCREVA AQUI: _____

NOME: _____

DATA _____

6

E NCAIXE NO DIAGRAMA OS NOMES DOS ALIMENTOS ILUSTRADOS ABAIXO!



GOLOQUE AS LETRAS NOS LOCAIS INDICADOS E VEJA QUE TIPO DE AGUA DEVEMOS BEBER!



BIBLIOGRAFIA:

- www.pinterest.com.br
- LIVRO ÁPIS 1º ANO
- BLOGS PEDAGÓGICOS