



PREFEITURA DA ESTÂNCIA TURÍSTICA DE
IBIÚNA
Por uma Ibiúna próspera. Investindo no presente, gerando o futuro.



E.M. PREFEITO SEME ISSA

Aluno(a): _____

Ano: 1º ano B Bairro _____

Professor(a): Dalva Fone: _____

10ª APOSTILA 2021



- A apostila é referente aos dias: 30, 31/08, 01, 02, 03, 08, 09, 10, 13, 14, 16 e 17/09 = 12 dias.
- Esta APOSTILA deverá ser devolvida para correção **no dia 20/09 (SEGUNDA-FEIRA)**

Atenciosamente

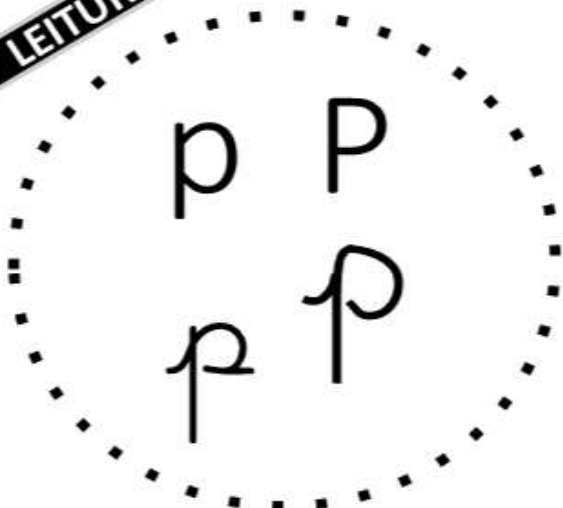
Equipe E.M “Prefeito Seme Issa”

USE O SEU CRACHÁ E ESCREVA SEU NOME COMPLETO NA LINHA ABAIXO:

NOME: _____

FICHA DE LEITURA

LEITURA



PATO

pa- pe- pi- po- pu
PA- PE- PI- PO- PU
pa- pe- pi- pe- pu
Pa- Pe- Pi- Pe-

PICO	POTE	PIRULITO
PATO	PESCA	PICADA
PÊRA	PAULA	PORCO
PUXA	PARA	PENTE
POÇO	PINO	POUCO

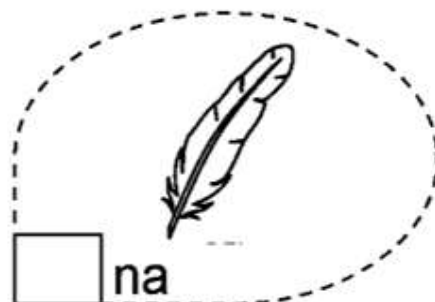
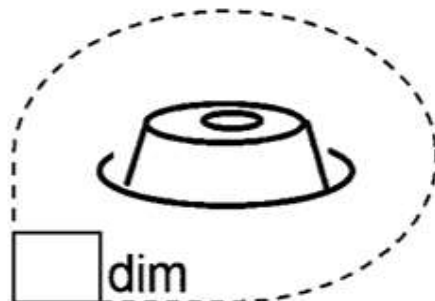

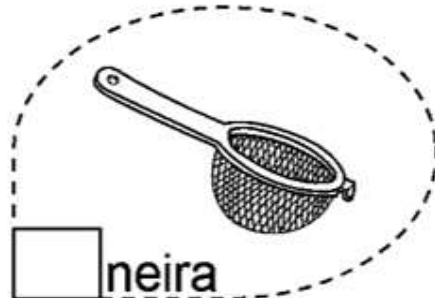
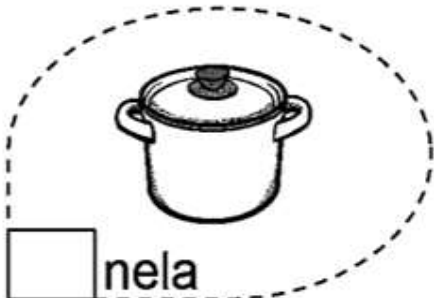
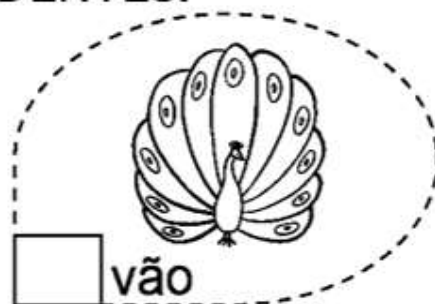
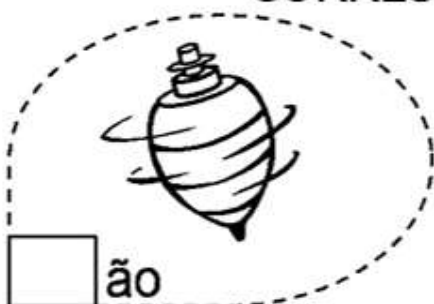
DONA PATA É UMA ÓTIMA MAMÃE.





PA PE PI PO PU PÃO

pa pe pi po pu pão

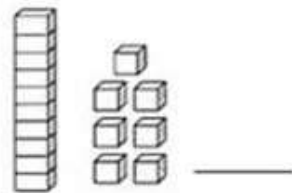
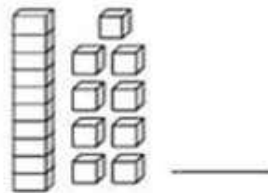
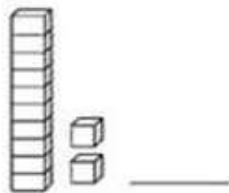
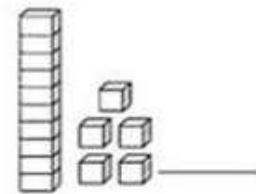
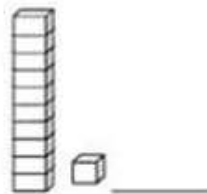
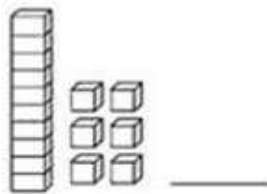
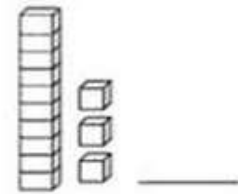
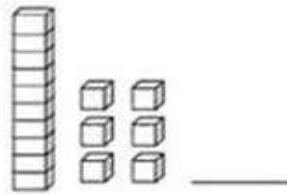
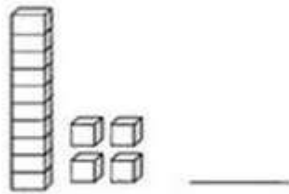
COMPLETE AS PALAVRAS COM AS SÍLABAS
CORRESPONDENTES.




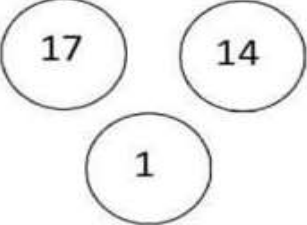
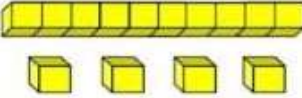
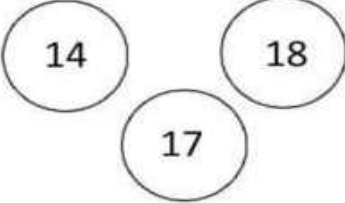
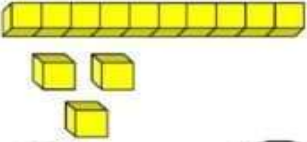
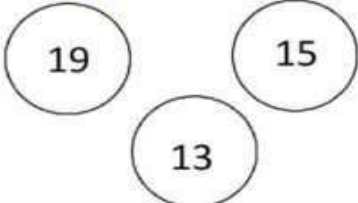
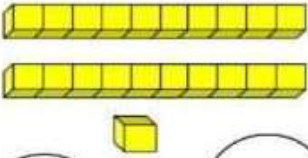
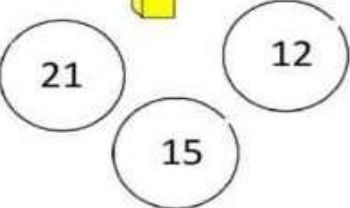
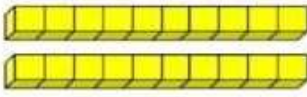
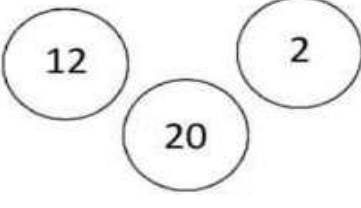
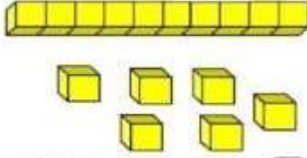
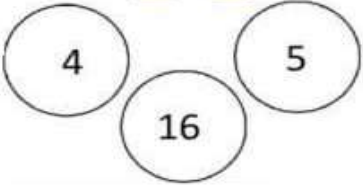
1) ESCREVA O NÚMERO CORRESPONDENTE AO MATERIAL DOURADO:

	UNIDADE	= 1
	DEZENA	= 10

→ 11



CONTAR O MATERIAL DOURADO E PINTAR O NUMERAL CORRESPONDENTE:

LÍNGUA PORTUGUESA: 31/08/2021

NOME: _____

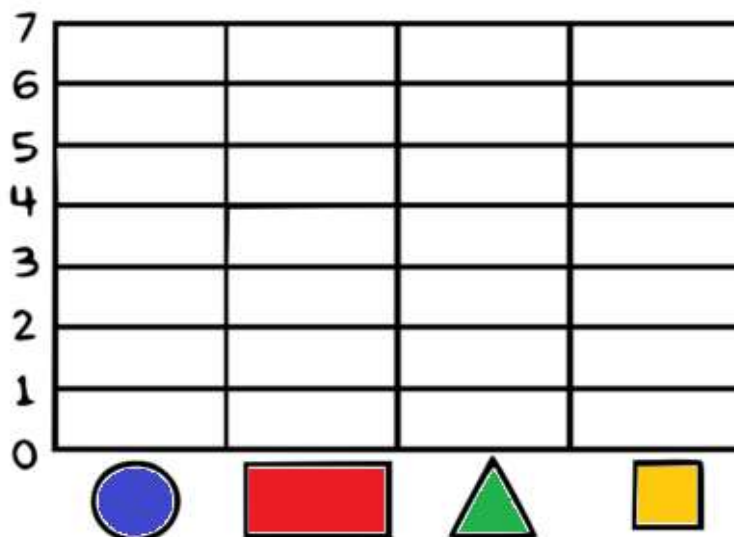

CACA-PALAVRAS



PIPOCA, PIADA, PIRULITO, PAPO,
PAPAI, PATA, PICOLÉ

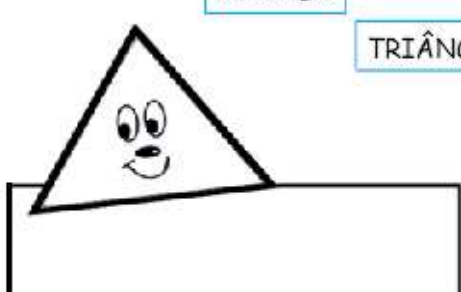
GRUPO MATERIAIS PEDAGÓGICOS

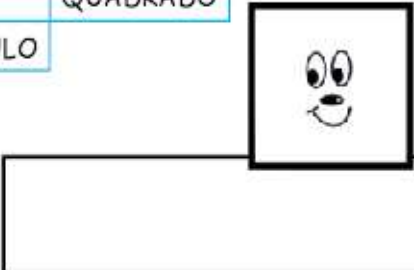
- REALIZE A CONTAGEM E PINTE O GRÁFICO ABAIXO DE ACORDO COM A LEGENDA.

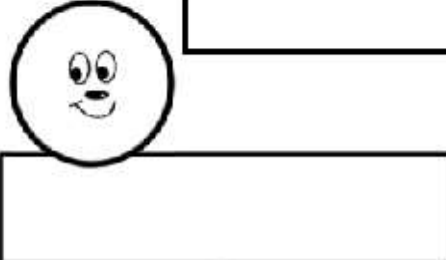


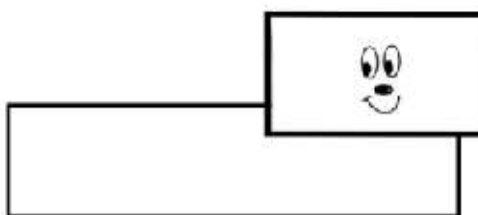
ESCREVA NO LUGAR!

RETÂNGULO
CÍRCULO QUADRADO
TRIÂNGULO





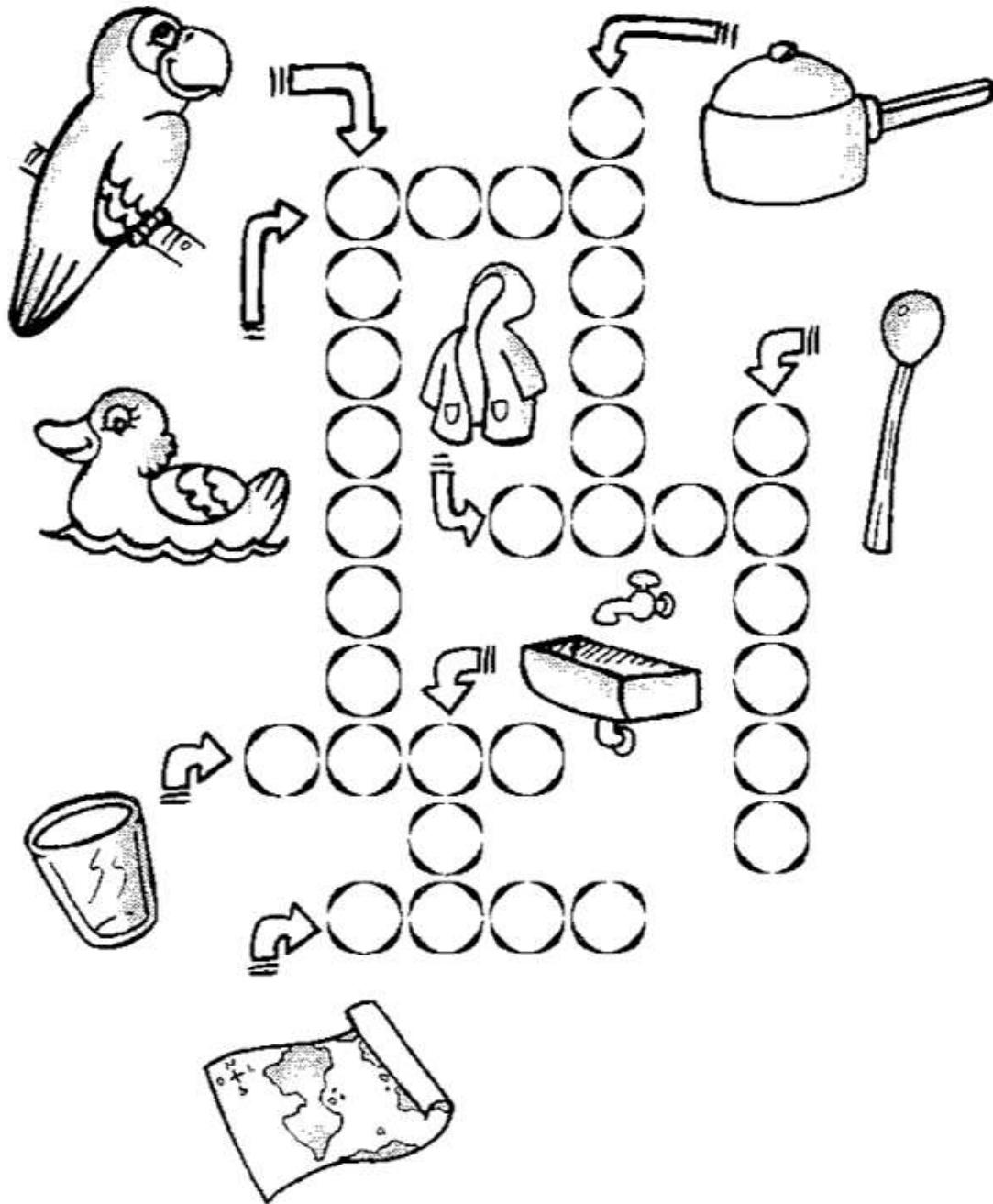




NOME: _____

PAPAGAIO	CAPA	PANELA	COPO
MAPA	PIA	PATO	PALITO

COMPLETE A CRUZADINHA:




GRUPO MATERIAIS PEDAGÓGICOS

MATEMÁTICA: 01/09/2021

NOME: _____

LEIA O TEXTO E CIRCULE AS PALAVRAS INICIADAS COM A LETRA P.



O P ESTÁ NA PIPA
NA PANELA E NO PÃO.
ESTÁ NO PATO E NO PULO
NA PIPOCA E NO PIÃO.

ATIVIDADE LEGAL

P

CIRCULE A PALAVRA DE ACORDO COM O NOME DE CADA FIGURA:

	PIPOCA PIPA PIANO		CÃO MÃO PÃO
	PETECA PENA PENTE		PENA PEIXE FEIXE
	PENA PELE PEGA		POTE PIPA PATO
	PACOTE PETECA PANELA		TIÃO LIMÃO PIÃO
	PAVIO PIANO PIPOCA		PARTE PORTA PORCO

HISTÓRIA/LÍNGUA PORTUGUESA: 02/09/2021

NOME: _____

7 DE SETEMBRO - INDEPENDÊNCIA DO BRASIL



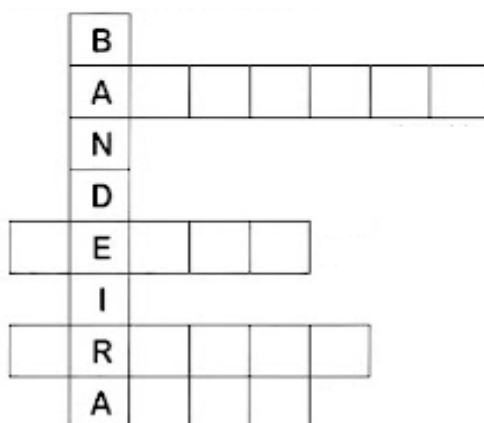
ESSA É A BANDEIRA DO

AS CORES DA BANDEIRA SÃO:

QUANTAS CORES SÃO?

O QUE ESTÁ ESCRITO NA BANDEIRA?

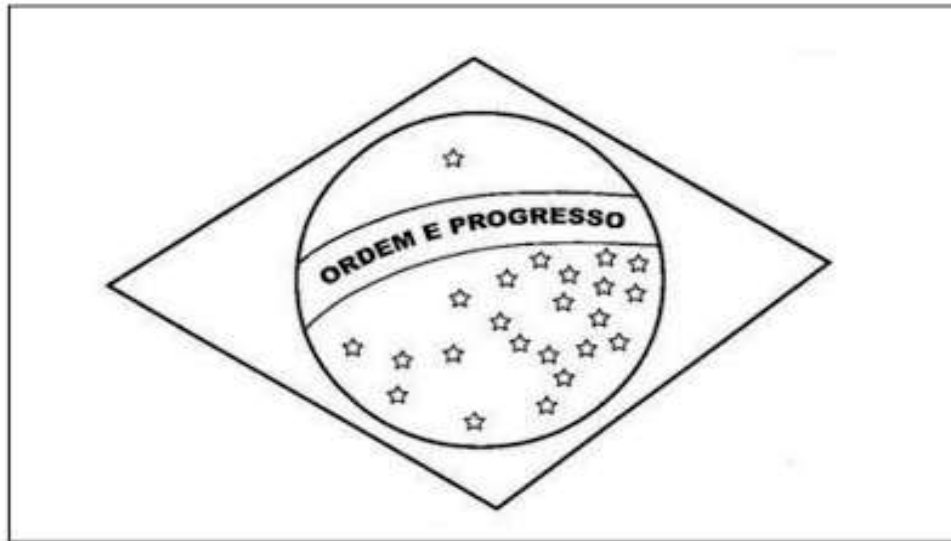
COMO JÁ VIMOS NA ATIVIDADE ANTERIOR AS CORES DA NOSSA BANDEIRA SÃO: VERDE, AMARELO, AZUL E BRANCO. COMPLETE A CRUZADINHA ABAIXO COM ESSAS CORES:



NOME: _____

SEMANA DA PÁTRIA!

AMOR! PINTE BEM BEM BONITO A BANDEIRA DA
NOSSA PÁTRIA



AGORA RECORTE LETRAS DE JORNAIS E/OU REVISTAS
E COLE FORMANDO O NOME DA NOSSA PÁTRIA.

--	--	--	--	--	--

LEIA E COLOQUE O NÚMERO DE LETRAS:

BRASILEIRO

PÁTRIA

PAÍS

JUSTIÇA

CRIANÇA





ESTA É SAMARA. ELA GOSTA MUITO DE BISCOITOS. SAMARA COME 3 BISCOITOS POR DIA.

ELA QUER SABER QUANTOS COMERÁ EM UMA SEMANA. VAMOS AJUDÁ-LA?

COMPLETE A TABELA DA SEMANA COM DESENHOS, DEPOIS RESPONDA.

 QUANTIDADE DE BISCOITO POR DIA DA SEMANA						
DOMINGO	SEGUNDA	TERÇA	QUARTA	QUINTA	SEXTA	SÁBADO

1 – QUANTOS BISCOITOS SAMARA COMERÁ EM UMA SEMANA?

2 – SE SUA MÃE A DEIXASSE COMER SÓ NO SÁBADO E DOMINGO, QUANTOS BISCOITOS ELA COMERIA?


RESOLVA AS ADIÇÕES:

$4 + 3 =$	$8 + 7 =$	$5 + 5 =$
$9 + 4 =$	$7 + 3 =$	$6 + 4 =$
$5 + 2 =$	$3 + 1 =$	$7 + 2 =$
$6 + 1 =$	$9 + 6 =$	$8 + 2 =$

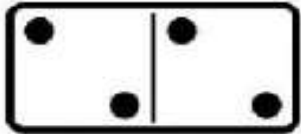
MATEMÁTICA: 08/09/2021

NOME: _____


SOMANDO COM AS PEÇAS DO DOMINÓ



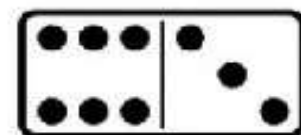
$$\boxed{4} + \boxed{6} = \boxed{10}$$



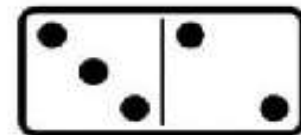
$$\boxed{} + \boxed{} = \boxed{}$$




$$\boxed{} + \boxed{} = \boxed{}$$




$$\boxed{} + \boxed{} = \boxed{}$$



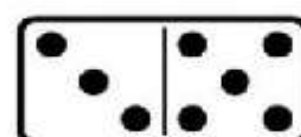
$$\boxed{} + \boxed{} = \boxed{}$$



$$\boxed{} + \boxed{} = \boxed{}$$




$$\boxed{} + \boxed{} = \boxed{}$$



$$\boxed{} + \boxed{} = \boxed{}$$

1- LEIA O PROBLEMINHA E CALCULE:



HAVIA NO CAMPO
___ CACHORRINHOS.

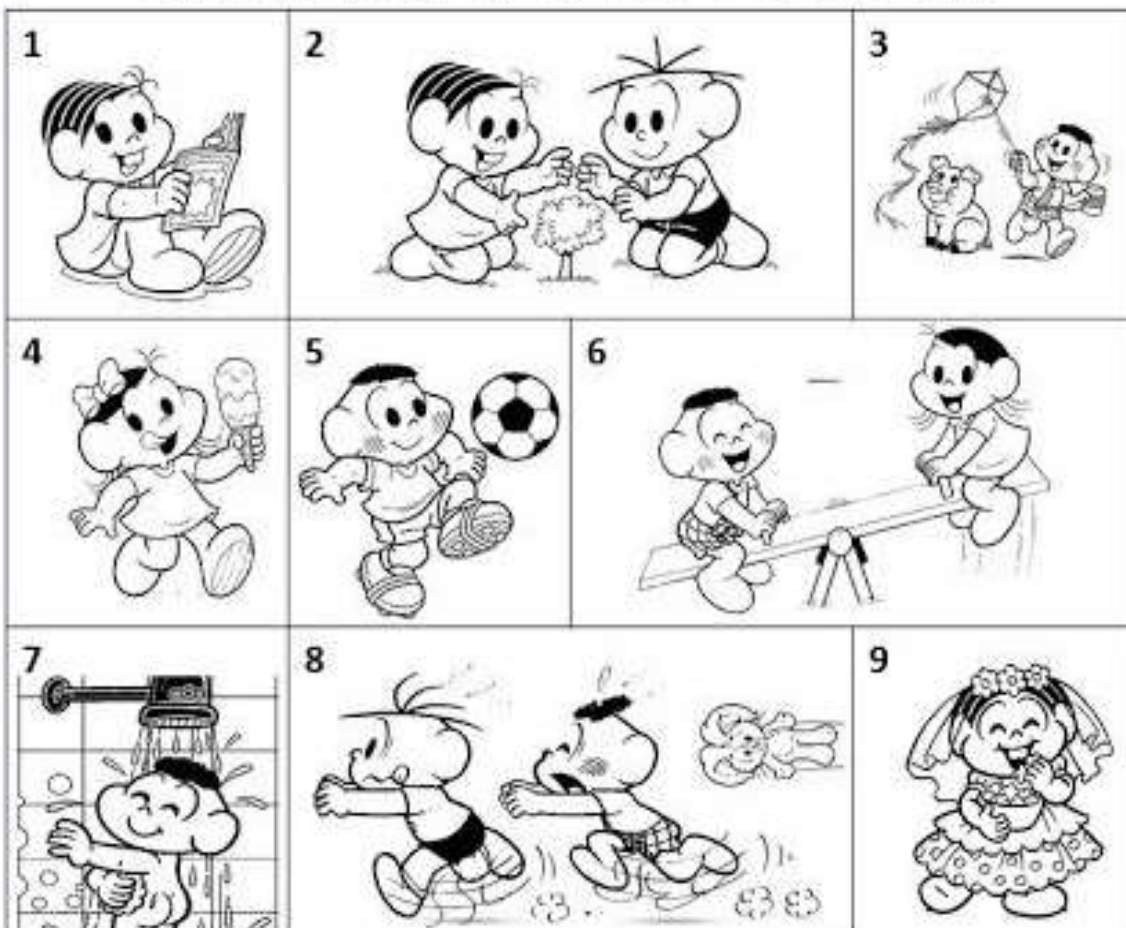
CHEGARAM MAIS ___
CARNEIRINHOS.

AGORA, EXISTEM ___ ANIMAIS
NO CAMPO.

LÍNGUA PORTUGUESA: 08/09/2021.

EM CADA CENA ABAIXO OS PERSONAGENS ESTÃO DESENVOLVENDO UMA AÇÃO, FAZENDO ALGUMA COISA:

OBSERVE CADA CENA, DEPOIS ENUMERE A FRASE CORRETA:



- O CASCÃO E A MAGALI ESTÃO BRINCANDO NA GANGORRA.
- A MÔNICA E O CEBOLINHA PLANTARAM UMA ÁRVORE.
- QUE SURPRESA! O CASCÃO TOMOU BANHO HOJE.
- A MAGALI COMPROU UM SORVETE ENORME.
- CASCÃO ADORA SOLTAR PIPA.
- A MÔNICA FOI A NOIVA DA FESTA JUNINA.
- O CEBOLINHA E O CASCÃO CORRERAM DA MÔNICA.
- A MÔNICA LÊ REVISTINHA TODOS OS DIAS.
- O CASCÃO É UM ÓTIMO JOGADOR DE FUTEBOL.

MATEMÁTICA: 09/09/2021

1 - OBSERVE A CASINHA E RESOLVA O QUE SE PEDE.



A) QUANTAS JANELAS TEM A CASINHA?

B) QUANTAS JANELAS TERIAM DUAS CASINHAS JUNTAS?

- () 9 () 11
() 8 () 10


C) QUANTAS JANELAS ESTÃO DO LADO DIREITO DA PORTA?

D) DESENHE MAIS DUAS JANELAS. QUANTAS SÃO AGORA?


E) AGORA, QUAL LADO TEM MAIS JANELAS?

- () DIREITO
() ESQUERDO

F) QUAL FORMA SE PARECE COM O TELHADO DA CASINHA? CIRCULE.



1- LEIA O PROBLEMINHA E CALCULE:




QUANTOS URSOS? _____

QUANTOS PATOS? _____

QUANTOS ANIMAIS VOCÊ ESTÁ VENDO? _____

NOME: _____


 PINTE, RECORTE AS FIGURAS ABAIXO E COM A AJUDA DO PESSOAL DE CASA COLE-AS NO QUADRO CORRESPONDENTE.

POMAR

HORTA

JARDIM

NÃO ESQUEÇA DE PINTAR ANTES DE RECORTAR PARA COLAR:




LÍNGUA PORTUGUESA: 10/09/2021.

NOME: _____

VAMOS LER AS PALAVRAS ABAIXO, E SEPARAR EM DUAS LISTAS COMO SE PEDE ABAIXO:



CACHORRO



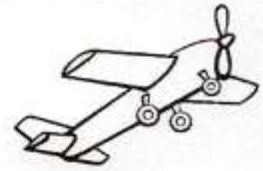
ROBÔ



LEÃO



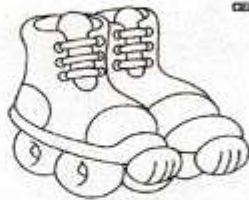
BONECA



AVIÃO



PEIXE



PATINS




PORCO



PIÃO



BICICLETA



GALINHA



GATO



CARRINHO




JOANINHA


ANIMAIS	BRINQUEDOS

MATEMÁTICA: 10/09/2021

COMPLETE A SEQUÊNCIA DOS NÚMEROS NOS VAGÕES DO TREM DO CEBOLINHA :



1- LEIA O PROBLEMINHA E CALCULE:



QUANTAS BOLAS? _____

QUANTOS ROBÔS? _____

QUANTOS BRINQUEDOS?


LÍNGUA PORTUGUESA: 13/09/2021.

USE O SEU CRACHÁ E ESCREVA SEU NOME COMPLETO NA LINHA ABAIXO:

NOME: _____

LEITURA

q Q
q Q



QUATI

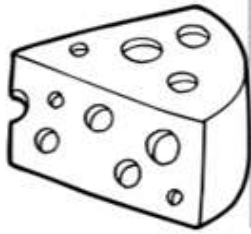
- qua- que- qui- quo
- QUA- QUE- QUI- QUO
- qua- que- qui- que
- Qua- Que- Qui- Que

QUATI	QUILO	QUALIDADE
QUERO	QUEDA	QUEIJO
QUOTA	QUITAR	QUIABO
QUASE	QUILOMBO	QUATRO

FABIO VIU UM QUATI NA ÁRVORE

GRUPO MATERIAIS PEDAGÓGICOS

LÍNGUA PORTUGUESA: 13/09/2021.



QUA

QUE

QUI

QUO

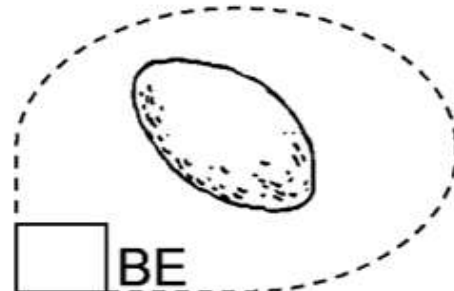
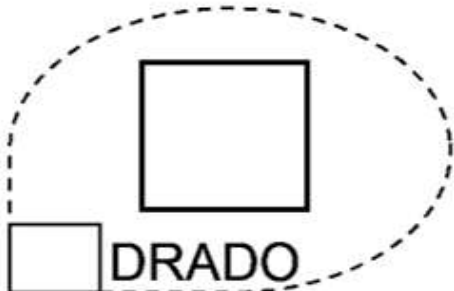
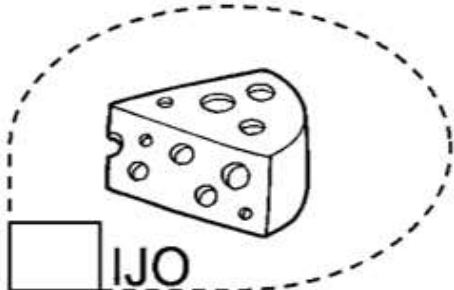
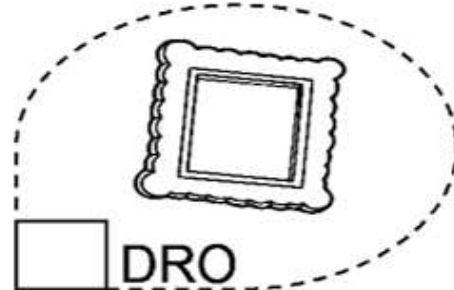
qua

que

qui


quo

COMPLETE AS PALAVRAS COM AS SÍLABAS
CORRESPONDENTES.



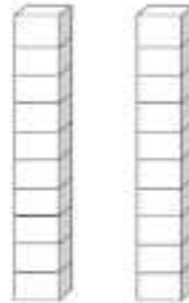
GRUPO MATERIAIS PEDAGÓGICOS

CONTANDO E CALCULANDO



1 - QUANTAS LARANJAS HÁ NA ÁRVORE?


2 - PINTE REPRESENTANDO ESTA QUANTIDADE.



3 - QUANTAS LARANJAS FALTAM PARA COMPLETAR 2 DEZENAS?

4 - MAMÃE COLHEU 8 LARANJAS PARA FAZER SUCO. QUANTAS LARANJAS SOBRARAM NA ÁRVORE?

1- LEIA O PROBLEMINHA E CALCULE:



QUANTOS IOIÓS? _____

QUANTAS BONECAS?

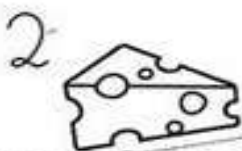
QUANTOS BRINQUEDOS?

NOME: _____

COMPLETE OS NOMES DAS FIGURAS COM QUA, QUE OU QUI



LE _____



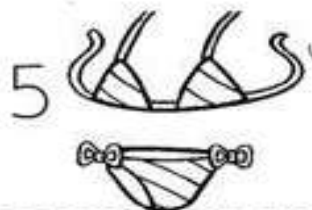
_____ IJO

3 **15**

_____ NZE



_____ NDIM



BI _____ NI



_____ DRO



_____ TI



_____ BE



_____ ABO



CA _____

LEIA AS PALAVRAS E PINTE A CORRETA QUE NOMEIA A IMAGEM:

15

QUATRO
QUATI
QUINZE

40

QUEIJO
QUARENTA
QUARTO

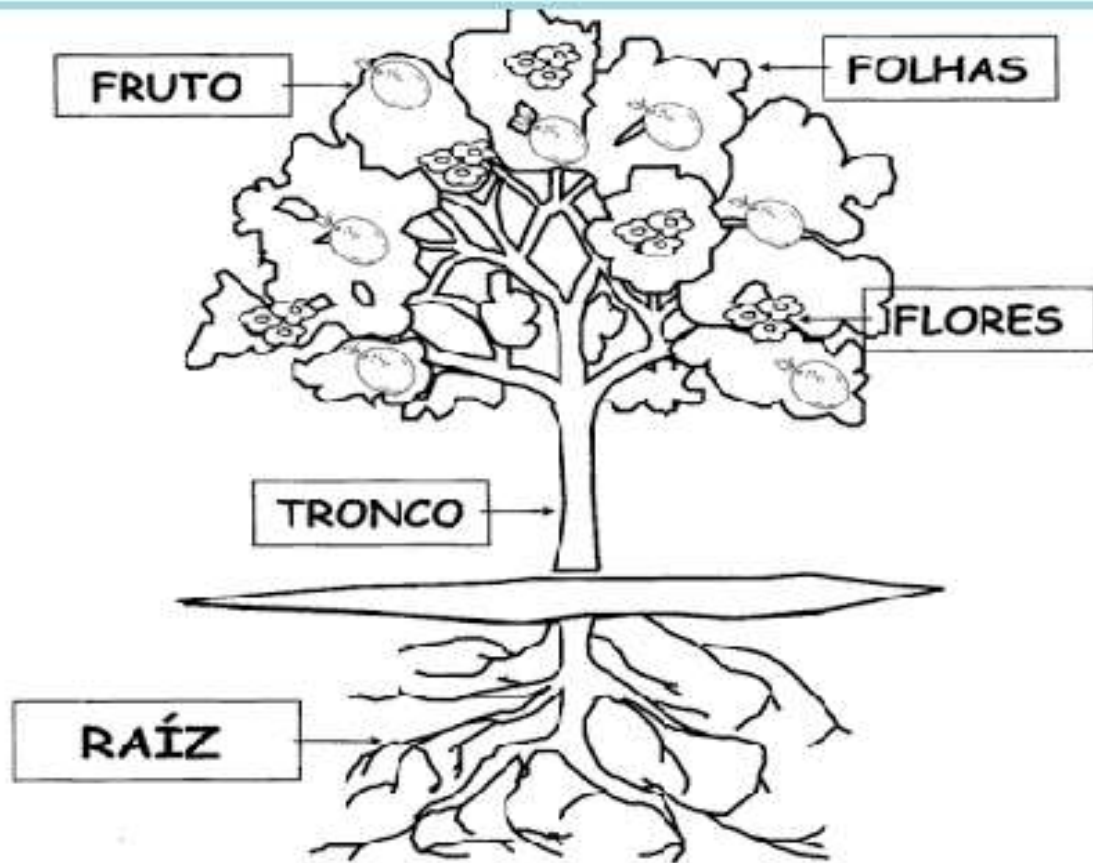
4

QUERO
QUITANDA
QUATRO



QUADRADO
QUANDO
QUEDA

OBSERVE A IMAGEM DE UMA ÁRVORE FRUTÍFERA, E COMO É COMPOSTA AS SUAS PARTES:



CRUZADINHA
PARTES DAS PLANTAS

A crossword puzzle grid with five numbered clues and their corresponding illustrations:

- 1**: Illustration of a leaf.
- 2**: Illustration of a tree trunk.
- 3**: Illustration of a round fruit.
- 4**: Illustration of a flower.
- 5**: Illustration of a root system.


The crossword puzzle grid consists of the following structure of empty cells:

- Across 1: 5 cells.
- Down 2: 5 cells.
- Across 3: 5 cells.
- Down 4: 5 cells.
- Down 5: 5 cells.

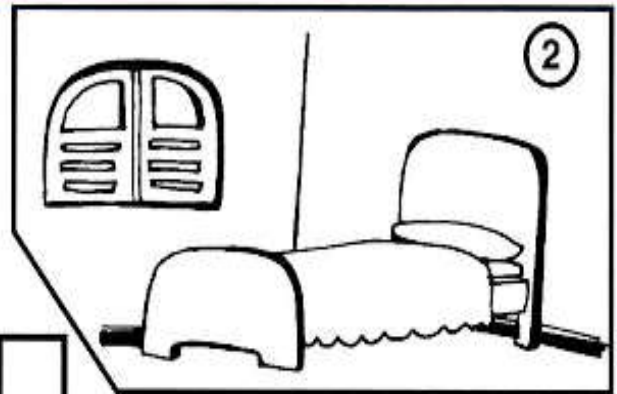
NOME: _____

PARTES DA CASA


COMPLETE OS QUADROS COM OS NOMES DOS CÔMODOS E ÁREAS DE UMA CASA DE ACORDO COM AS IMAGENS:



1 A




2 Q




3 O Z


4 H R



5 Q I L



6 G G M



MATEMÁTICA: 16/09/2021

SISTEMA MONETÁRIO:

OBSERVE AS QUANTIDADES E MARQUE O CERTO.



- 10 REAIS
- 12 REAIS
- 15 REAIS



- 7 REAIS
- 8 REAIS
- 9 REAIS



- 5 REAIS
- 11 REAIS
- 10 REAIS



- 14 REAIS
- 15 REAIS
- 10 REAIS



- 12 REAIS
- 11 REAIS
- 21 REAIS



- 19 REAIS
- 20 REAIS
- 30 REAIS



- 5 REAIS
- 6 REAIS
- 4 REAIS



- 13 REAIS
- 11 REAIS
- 12 REAIS

SOME AS NOTAS ABAIXO E DESCUBRA O VALOR:



+



=



+




=

LÍNGUA PORTUGUESA: 17/09/2021.



CORRE CUTIA



**CORRE CUTIA
NA CASA DA TIA**

CORRE CIPÓ



**NA CASA DA AVÓ
LENCINHO BRANCO**

CAIU NO CHÃO

**MOÇO BONITO
DO MEU CORAÇÃO**



COMPLETE :

CORRE _____
NA _____ DA _____
CORRE _____
NA CASA DA _____
_____BRANCO
CAIU NO _____
MOÇA BONITA
DO MEU _____

LEIA AS PALAVRAS E MARQUE X NA PALAVRA CORRETA:



- CUTIA
- COTA
- CUECA



- CAMA
- CASACO
- CASA



- AVÓ
- AVE
- ANEL



- TEIA
- TICO
- TIA



- CINEMA
- CIPÓ
- CAFÉ



- COLCHÃO
- CORAL
- CORAÇÃO

SÓLIDOS GEOMÉTRICOS:

LIGUE CADA OBJETO À FIGURA COM A QUAL ELA MAIS SE PARECE:



CUBO



CONE



ESFERA



PIRÂMIDE



CILINDRO



PARALELEPÍPEDO



EM UM GALINHEIRO HAVIAM 10 PINTINHOS.
NASCERAM MAIS 6. QUANTOS PINTINHOS HÁ
AGORA NO GALINHEIRO?

RESPOSTA: _____