



PREFEITURA DA ESTÂNCIA TURÍSTICA DE  
**IBIÚNA**  
Por uma Ibiúna próspera. Investindo no presente, gerando o futuro.



**E.M. PREFEITO SEME ISSA**

Aluno(a): \_\_\_\_\_

Ano: 2º Ano B          Bairro: \_\_\_\_\_

Professor(a): Janile          Fone: \_\_\_\_\_

## 10ª APOSTILA 2021



- A apostila é referente aos dias: 30, 31/08, 01, 02, 03, 08, 09, 10, 13, 14, 16 e 17/09 = 12 dias.
  - Esta APOSTILA deverá ser devolvida para correção **no dia 20/09 (SEGUNDA-FEIRA)**

Atenciosamente

Equipe E.M “Prefeito Seme Issa”

E. M. PREFEITO SEME ISSA

PROFESSORA: JANILE CONSTANTINO

2º B

NOME: \_\_\_\_\_

**ROTEIRO DAS ATIVIDADES DA 10ª APOSTILA DO 2º ANO B**

DATA	ATIVIDADE	PÁGINA
30/08	LÍNGUA PORTUGUESA – PRODUÇÃO E INTERPRETAÇÃO DE TEXTOS.	2
30/08	MATEMÁTICA – CONTAGEM	3
31/08	LÍNGUA PORTUGUESA – LEITURA: SETE DE SETEMBRO.	4
31/08	LÍNGUA PORTUGUESA – INTERPRETAÇÃO DE TEXTOS.	5
01/09	LÍNGUA PORTUGUESA – INTERPRETAÇÃO DE TEXTOS.	6
01/09	MATEMÁTICA – GRÁFICO	7
02/09	LÍNGUA PORTUGUESA – SINAIS DE PONTUAÇÃO.	8 e 9
02/09	MATEMÁTICA – SEQUÊNCIA NUMÉRICA	10
03/09	GEOGRAFIA – SIGNIFICADOS DA BANDEIRA DO BRASIL.	11
03/09	GEOGRAFIA – BANDEIRA BRASILEIRA	12
08/09	LÍNGUA PORTUGUESA – CAÇA PALAVRAS.	13
08/09	ARTES – QUEBRA CABEÇA.	14 e 15
09/09	CIÊNCIAS – PREVENÇÃO DENGUE.	16
09/09	CIÊNCIAS – PREVENÇÃO COVID-19.	17
10/09	MATEMÁTICA – SISTEMA MONETÁRIO.	18
10/09	MATEMÁTICA – HORAS.	19
13/09	MATEMÁTICA – SEQUÊNCIA NUMÉRICA.	20
13/09	MATEMÁTICA – PROBLEMAS.	21
14/09	LÍNGUA PORTUGUESA – CARTA ENIGMÁTICA.	22
14/09	HISTÓRIA – INDEPENDÊNCIA DO BRASIL	23
16/09	HISTÓRIA – CAÇA-PALAVRAS	24
16/09	EDUCAÇÃO FÍSICA – JOGOS INFANTIS	25
17/09	LÍNGUA PORTUGUESA – PRODUÇÃO DE TEXTOS	26

LÍNGUA PORTUGUESA

**O REI LEÃO**

O LEÃO É O REI DOS ANIMAIS.  
UM DIA O LEÃO CAIU NA REDE.  
O RATO ROEU A REDE.  
O LEÃO SAIU LOGO DA REDE.  
O RATO E O LEÃO, AGORA, SÃO AMIGOS.

*Graça Boquet*



COMPLETE:

- 1) O \_\_\_\_\_ É O \_\_\_\_\_ DOS \_\_\_\_\_.
- 2) CAIU NA \_\_\_\_\_.
- 3) O \_\_\_\_\_ ROEU A \_\_\_\_\_.
- 4) UM DIA O \_\_\_\_\_ CAIU.
- 5) O \_\_\_\_\_ SAIU LOGO DA \_\_\_\_\_.
- 6) O \_\_\_\_\_ E O \_\_\_\_\_, AGORA, SÃO \_\_\_\_\_.

CIRCULE, NO CAÇA, AS PALAVRAS QUE TERMINAM EM **ÃO** E, DEPOIS, ESCREVA-AS AO LADO.

J	A	L	E	M	Ã	O	N	H
P	R	B	N	J	O	Ã	O	F
Z	X	A	V	I	Ã	O	T	L
C	A	M	A	L	E	Ã	O	T

\_\_\_\_\_

\_\_\_\_\_


\_\_\_\_\_

\_\_\_\_\_

DATA: 30/08/2021

**MATEMÁTICA – CONTAGEM**

1- OBSERVE A IMAGEM DO QUADRO E RESPONDA COM ATENÇÃO



QUANTAS NÚVENS?

QUANTOS CÍRCULOS?

QUANTAS CASAS?

QUANTOS QUADRADOS?

QUANTAS ÁRVORES?

QUANTOS TRIÂNGULOS?

QUANTOS CARROS?

QUANTAS FLORES?

E. M. PREFEITO SEME ISSA

PROFESSORA: JANILE CONSTANTINO

2º B

NOME: \_\_\_\_\_

DATA: 31/08/2021

LÍNGUA PORTUGUESA

# SETE DE SETEMBRO

SETE DE SETEMBRO  
ÀS MARGENS DO RIO IPIRANGA  
UM GRITO DE LIBERDADE  
MARCOU NOSSA HISTÓRIA.

BRASIL DE D. PEDRO I  
NAÇÃO DE UM POVO GUERREIRO  
QUE LUTA E NÃO SE CANSA,  
SÓ QUE, HOJE, ÀS MARGENS DA ESPERANÇA.

Fernanda Ganbra  
Juliana Rondon



E. M. PREFEITO SEME ISSA

PROFESSORA: JANILE CONSTANTINO

2º B

NOME: \_\_\_\_\_

DATA: 31/08/2021

## LÍNGUA PORTUGUESA

Responda com atenção:

1- Qual é o nome da nossa Pátria?

2- Em que dia foi proclamada a independência do Brasil?

3- Quem proclamou a independência do Brasil foi:

( ) Os índios      ( ) Os negros      ( ) D. Pedro I

4- Complete o quadro abaixo:

Palavra	Nº de vogais	Nº de consoantes	Total de letras	Nº de sílabas	Sílaba inicial	Sílaba final
sete						
terra						
setembro						
Brasil						
margens						
guerreiro						
nação						
esperança						

5- Quantas palavras há na frase: "***Independência ou morte!***"!

E. M. PREFEITO SEME ISSA

PROFESSORA: JANILE CONSTANTINO

2º B

NOME: \_\_\_\_\_

DATA: 01/09/2021

## LÍNGUA PORTUGUESA

6- Marque a opção correta:

a) O Brasil é a nossa querida:

( ) Cidade

( ) Pátria

( ) Ilha

b) Dom Pedro I estava as margens do riacho:

( ) Portugal

( ) Liberdade

( ) Ipiranga

7-Complete:

B	R	A	S	I	L

8- Escreva uma palavra com cada letra da palavra BRASIL:

B

R

A

S

I


L

NOME: \_\_\_\_\_

DATA: 01/09/2021

## MATEMÁTICA

VAMOS CONHECER A PREFERÊNCIA DA TURMA:



QUAIS FORAM AS FRUTAS APRESENTADAS PARA A VOTAÇÃO?

\_\_\_\_\_

QUAL FOI A FRUTA QUE MAIS TEVE O VOTO DAS CRIANÇAS?

\_\_\_\_\_

QUAL FOI A FRUTA QUE MENOS VOTOS TEVE?

\_\_\_\_\_

QUAL FOI A QUANTIDADE DE VOTOS QUE A LARANJA RECEBEU?

\_\_\_\_\_



## LÍNGUA PORTUGUESA

<h1>SINAIS DE PONTUAÇÃO</h1> 		
 <p>O pássaro fugiu.</p>	<p>•</p> <p>PONTO FINAL</p>	Indica que a frase terminou.
 <p>Onde?</p>	<p>?</p> <p>PONTO DE INTERROGAÇÃO</p>	Indica uma pergunta.
 <p>Que vestido lindo!</p>	<p>!</p> <p>PONTO DE EXCLAMAÇÃO</p>	Indica surpresa, admiração, espanto.
 <p>O gato correu, subiu no telhado e miou.</p>	<p>,</p> <p>VÍRGULA</p>	Indica uma pausa na leitura. Na escrita é usada: nas datas; nos endereços; nas seqüências.
 <p>Ele fez piu... piu... piu...</p>	<p>...</p> <p>RETICÊNCIAS</p>	Pode indicar: um som que se prolonga; um pensamento que não foi completado.

TRABALHANDO COM OS SINAIS DE PONTUAÇÃO

- VAMOS PONTUAR AS FRASES.

1 - A MENINA CAIU DA ESCADA

2 - O GATO É MANCHADO

3 - CADÊ O BOLINHO QUE DEIXEI AQUI

4 - QUE MAÇÃ GOSTOSA

5 - VOCÊ GOSTA DE MAÇÃ



- PONTUE O TEXTO.

IARA FOI À CASA DE DIEGO

CHEGANDO LÁ  IARA PERGUNTOU

DIEGO  VAMOS BRINCAR

DIEGO ACEITOU O


CONVITE E FOI BRINCAR

COM IARA



### MATEMÁTICA

Ajude o bezerrinho a encontrar sua mãe passando pelo caminho com a sequência crescente de **10 em 10**.



E. M. PREFEITO SEME ISSA

PROFESSORA: JANILE CONSTANTINO

2º B

NOME: \_\_\_\_\_

DATA: 03/09/2021

## GEOGRAFIA

### SIGNIFICADOS DA BANDEIRA DO BRASIL

A BANDEIRA DO BRASIL É FORMADA POR UM RETÂNGULO VERDE, UM LOSANGO AMARELO NO CENTRO, UMA ESFERA AZUL CELESTE DENTRO DO LOSANGO, E UMA FAIXA BRANCA COM A FRASE "ORDEM E PROGRESSO".

NA BANDEIRA BRASILEIRA AINDA ESTÃO 27 ESTRELAS QUE REPRESENTAM OS 26 ESTADOS E O DISTRITO FEDERAL DO PAÍS.




**Ordem e Progresso** — Lema baseado nos estudos do filósofo francês fundador do positivismo, Augusto Comte

**Estrelas** — Representam os estados e o Distrito Federal do país

## GEOGRAFIA

Observe a imagem abaixo e complete:



a) Essa é a bandeira do:

b) As cores da bandeira são:

c) O que está escrito na bandeira?

E. M. PREFEITO SEME ISSA

PROFESSORA: JANILE CONSTANTINO

2º B

NOME: \_\_\_\_\_

DATA: 08/09/2021

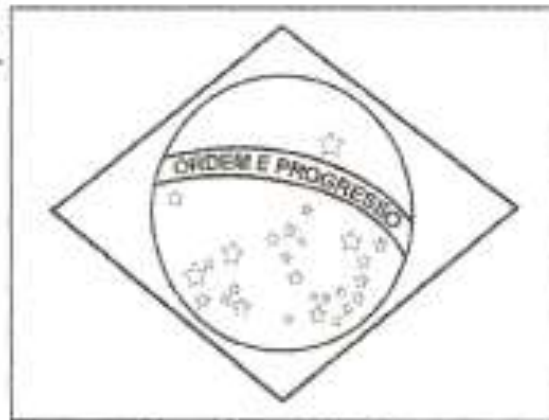
## LÍNGUA PORTUGUESA

ENCONTRE AS PALAVRAS DESTACADAS NO CAÇA-PALAVRAS

# HINO DA INDEPENDÊNCIA DO BRASIL

TRECHO DA MÚSICA DE: EVARISTO DA VEIGA  
LETRA: D. PEDRO I

JÁ PODEIS DA PÁTRIA FILHOS  
VER CONTENTE A MÃE GENTIL  
JÁ RAIOU A LIBERDADE  
NO HORIZONTE DO BRASIL



BRAVA GENTE BRASILEIRA  
LONGE VÁ TEMOR SERVIL  
OU FICAR A PÁTRIA LIVRE  
OU MORRER PELO BRASIL.

A F R E B R A S I L N R F G P  
F L T C A E Y N B B I L O P N  
A I L M P A T R I A L O N G E  
P V Y F R M V D A E K E I J B  
O R T N H O R I Z O N T E D C  
A E R E A D L I B E R D A D E  
B R A S I L E I R A O P A R E

E. M. PREFEITO SEME ISSA

PROFESSORA: JANILE CONSTANTINO


2º B

NOME: \_\_\_\_\_

DATA: 08/09/2021

## ARTES

PINTE, RECORTE, MONTE E COLE NA PRÓXIMA PÁGINA



E. M. PREFEITO SEME ISSA

PROFESSORA: JANILE CONSTANTINO


2º B

NOME: \_\_\_\_\_

COLE AQUI O QUEBRA-CABEÇAS



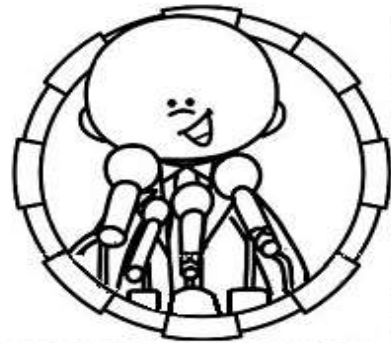
## CIÊNCIAS



### CIÊNCIAS

MARQUE O CERTO.

1 - UMA FORMA DE PREVENIR O CORONAVÍRUS É SEMPRE:



2 - DEVEMOS USAR LENÇOS:



( ) DE TECIDO




( ) DE PAPEL

3 - QUEM USOU O LENÇO DA FORMA ERRADA FOI:



**MATEMÁTICA**



**SÉRGIO**



**PAULA**



**HUGO**

Qual criança tem mais dinheiro? \_\_\_\_\_

Qual tem menos? \_\_\_\_\_

Quanto Paula tem? \_\_\_\_\_

Quanto Sérgio tem a mais que Paula? \_\_\_\_\_

Quanto têm os três meninos juntos? \_\_\_\_\_

O que você compraria se tivesse o dinheiro de Hugo?

\_\_\_\_\_

**MATEMÁTICA**

1- ESCREVA A HORA MARCADA EM CADA RELÓGIO.

**QUAL É A HORA?**



:00



:00



:00



:00




:00



:00



:00



:00



:00



:00

### MATEMÁTICA

Continue a sequência.

Em ordem crescente

10											
----	--	--	--	--	--	--	--	--	--	--	--

Agora escreva a mesma sequência em ordem decrescente.

--	--	--	--	--	--	--	--	--	--	--	--

Organize os números abaixo em ordem crescente.

120		42		20		200		75		30		150		40
-----	--	----	--	----	--	-----	--	----	--	----	--	-----	--	----

--	--	--	--	--	--	--	--	--	--	--	--	--	--	--

Continue as sequências:

5	10			25									
---	----	--	--	----	--	--	--	--	--	--	--	--	--

	6			18									
--	---	--	--	----	--	--	--	--	--	--	--	--	--

4			16			28							
---	--	--	----	--	--	----	--	--	--	--	--	--	--

E. M. PREFEITO SEME ISSA

PROFESSORA: JANILE CONSTANTINO

2º B

NOME: \_\_\_\_\_

DATA: 13/09/2021

## MATEMÁTICA

VAMOS RESOLVER OS PROBLEMINHAS MATEMÁTICOS?



1 - ROBERTA COMPROU 86 FIGURINHAS E GANHOU 25 DE SEU PRIMO. COM QUANTAS FIGURINHAS ROBERTA FICOU?

2 -. NA BIBLIOTECA DA ESCOLA HAVIA 19 LIVROS DE AVENTURA. OS ALUNOS RETIRARAM 5. QUANTOS LIVROS FICARAM?

3 -. ANDRÉ TINHA 18 BOLINHAS. DURANTE UM JOGO PERDEU 14. COM QUANTAS BOLINHAS FICOU?

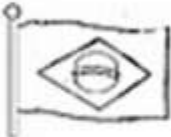
4 - CLÁUDIO COLHEU 37 MANGAS E LIA 15. QUANTAS MANGAS CLÁUDIO E LIA COLHERAM JUNTOS?

5 - EDUARDO TEM 13 SELOS E ALBERTO TEM 19 SELOS. QUANTOS SELOS TÊM EDUARDO E ALBERTO JUNTOS?



## LÍNGUA PORTUGUESA

### CARTA ENIGMÁTICA

Escreva a palavra certa abaixo do desenho.

Nossa  é muito bonita.  
\_\_\_\_\_

Agora escreva a frase toda como ficou.

A  é o símbolo da  tria.  
\_\_\_\_\_

7 de \_\_\_\_\_ mbro é o Dia da Independência do



A  é um sím  da  ssa  tria.  
\_\_\_\_\_

Devemos ouvir os nosso Hinos de



E. M. PREFEITO SEME ISSA

PROFESSORA: JANILE CONSTANTINO

2º B

NOME: \_\_\_\_\_

DATA: 14/09/2021

## HISTÓRIA

### INDEPENDÊNCIA

ISABEL CRISTINA SILVEIRA SOARES

VIVA A INDEPENDÊNCIA  
A INDEPENDÊNCIA DO BRASIL  
PAÍS QUE AINDA LUTA  
SOB O CÉU COR DE ANIL!

AINDA SOU CRIANÇA  
CRIANÇA QUE JÁ SABE,  
PARA O MUNDO MELHORAR  
QUE AMOR NUNCA ACABE!

POR ISSO VOU LUTAR  
LUTAR SEM PARAR  
POR UM PAÍS DE JUSTIÇA  
ONDE SEMPRE VOU AMAR!

♥ O NOME DO  
NOSSO PAÍS É:

♥ QUEM NASCE NO BRASIL

É:





## HISTÓRIA

Encontrem no diagrama as palavras destacadas abaixo:

Dom **PEDRO** I estava em São Paulo quando declarou a Independência do **BRASIL** no dia 7 de **SETEMBRO** de 1822.

Foi nas margens do rio **IPIRANGA** que gritou a famosa frase: Independência ou **MORTE**!



F	L	Q	N	Y	C	S	P	T
B	R	A	S	I	L	M	E	C
L	G	D	Z	F	T	G	D	Q
V	X	B	N	Q	J	G	R	H
S	E	T	E	M	B	R	O	H
C	C	G	G	O	D	X	B	Q
H	F	J	F	R	X	L	R	T
O	J	G	V	T	T	X	G	G
R	W	L	J	E	S	S	G	Q
H	I	P	I	R	A	N	G	A



© SMARTKIDS

**EDUCAÇÃO FÍSICA**

ESCREVA DENTRO DOS QUADROS OS NOMES DAS BRINCADEIRAS QUE APARECEM NAS IMAGENS:



NOME: \_\_\_\_\_

DATA: 17/09/2021

## LÍNGUA PORTUGUESA – PRODUÇÃO DE TEXTO

# COMO É O ANIMAL?


DESCREVA CADA ANIMAL RESPONDENDO AS QUESTÕES:

ESTE É O \_\_\_\_\_

ELE SE CHAMA \_\_\_\_\_

SEU CORPO É COBERTO DE \_\_\_\_\_

ELE GOSTA DE \_\_\_\_\_



ESTE É O \_\_\_\_\_

ELE VIVE \_\_\_\_\_

GOSTA DE COMER \_\_\_\_\_


SEU CORPO É COBERTO DE \_\_\_\_\_

ESTE É O \_\_\_\_\_

ELE VIVE \_\_\_\_\_

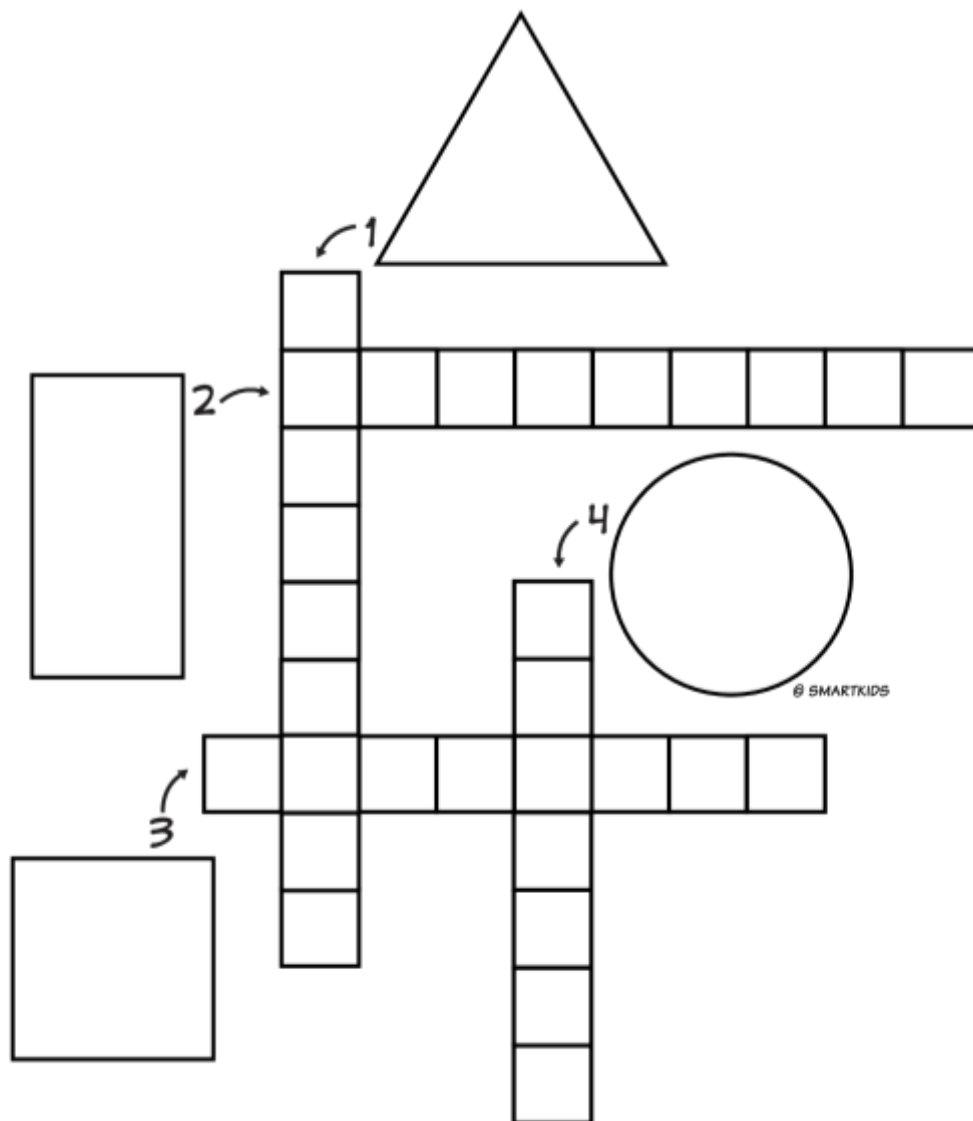
GOSTA DE COMER \_\_\_\_\_

SEU CORPO É COBERTO DE \_\_\_\_\_



### MATEMÁTICA

PREENCHA COM O NOME DE CADA FORMA GEOMÉTRICA NA CRUZADINHA:



E. M. PREFEITO SEME ISSA

PROFESSORA: JANILE CONSTANTINO

2º B

NOME: \_\_\_\_\_

**Fontes de consulta para a elaboração da 10ª apostila – 2º ano B**

**Sites:**

- <https://www.pinterest.com.br>
- <https://compartilhandosaberesaberes.blogspot.com/>
- <https://mungfali.com/>
- <https://www.atividadesparaimprimir.com/>
- <http://notebookdaprof.blogspot.com/>
- <https://educacaoetransformacaooficial.blogspot.com/>
- [http:// www.cantinhodosaber.com.br](http://www.cantinhodosaber.com.br)
- <https://www.smartkids.com.br/>
- <https://www.aartedeensinareaprender.com/>
- CONHECIMENTO E TRANSFORMAÇÃO:  
<https://www.facebook.com/mayrafreitascarvalho>

# JOGO DA MEMÓRIA

