




PREFEITURA DA ESTÂNCIA TURÍSTICA DE IBIÚNA
EM PROF. CALIL RAHAL NETO

Rua Projetada, 620 - Capim Azedo - Ibiúna - SP - Telefone: 3241-5917



10ª APOSTILA DE ESTUDOS ATIVIDADES NÃO PRESENCIAIS 3º BIMESTRE



ENSINO FUNDAMENTAL

ALUNO:

PROFESSORA: SIMONE PROENÇA

TURMA: 1ª ANO A

DATA DE DEVOLUÇÃO: 20/08/2021

E. M. "PROF. CALIL RAHAL NETO".

NOME: _____

PROFESSORA: SIMONE

TURMA: 1º ANO A

DATA: 30/08/2021



ATIVIDADE 1

HISTÓRIA

SEMANA DA PÁTRIA

O BRASIL FOI DESCOBERTO POR UM PORTUGUÊS, POR CAUSA DISSO, O BRASIL FICOU PERTENCENDO A PORTUGAL.

O PRÍNCIPE DOM PEDRO RECEBEU ALGUMAS CARTAS DE SUA ESPOSA, A PRINCESA LEOPOLDINA E DO 1º MINISTRO JOSÉ BONIFÁCIO. AS MENSAGENS INFORMAVAM NOVAS PRESSÕES DE PORTUGAL.

ENTÃO, DOM PEDRO DETERMINOU O ROMPIMENTO DOS LAÇOS COM PORTUGAL E, NO DIA 07 DE SETEMBRO, ÀS MARGENS DO RIO IPIRANGA, ELE GRITOU BRAVAMENTE: "INDEPENDÊNCIA OU MORTE".

DOM PEDRO TORNOU-SE O PRIMEIRO IMPERADOR DO BRASIL, COM O TÍTULO DE DOM PEDRO I. POR ESSE MOTIVO, DURANTE UMA SEMANA NO MÊS DE SETEMBRO, NÓS BRASILEIROS FESTEJAMOS OS HERÓIS DA INDEPENDÊNCIA.

MARQUE COM UM (X) A RESPOSTA CERTA.

- A. NOSSA PÁTRIA CHAMA-SE:
() BRASIL () PORTUGAL () SÃO PAULO
- B. A INDEPENDÊNCIA DO BRASIL FOI PROCLAMADA NO DIA:
() 17 DE NOVEMBRO
() 21 DE ABRIL
() 7 DE SETEMBRO
- C. QUEM PROCLAMOU A INDEPENDÊNCIA DO BRASIL FOI:
() PEDRO ÁLVARES CABRAL
() D. PEDRO I
() D. MANUEL

PINTE A FAIXA QUE CONTÉM A FRASE QUE D. PEDRO I EXCLAMOU QUANDO PROCLAMOU A INDEPENDÊNCIA DO BRASIL



INDEPENDÊNCIA OU MORTE!

VIVA A PÁTRIA

OS BRASILEIROS ESTÃO INDEPENDENTES!

E. M. "PROF. CALIL RAHAL NETO".

NOME: _____

PROFESSORA: SIMONE

TURMA: 1º ANO A

DATA: 30/08/2021

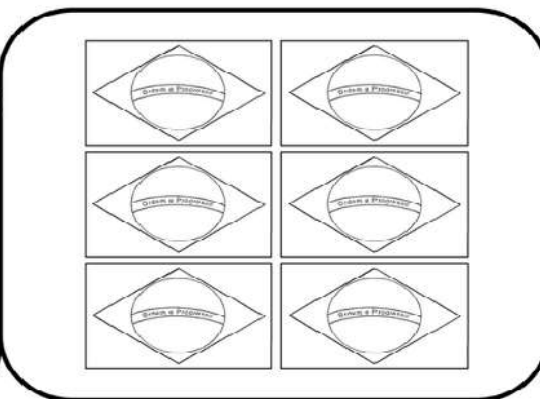
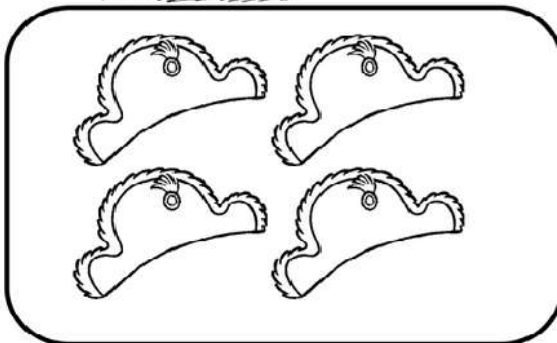


ATIVIDADE 2


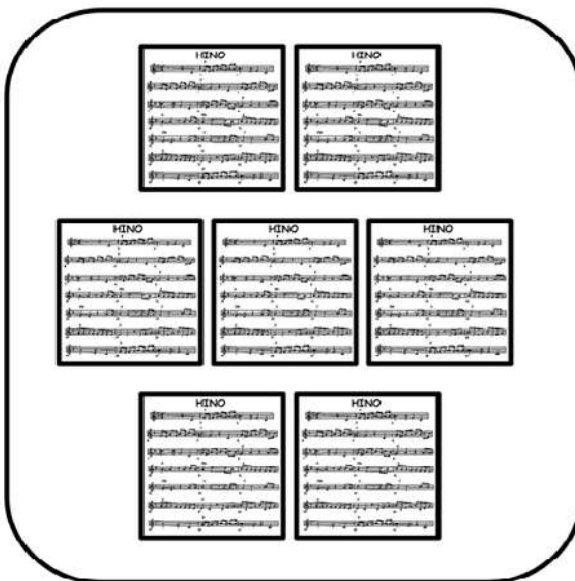
MATEMÁTICA



VAMOS LIGAR CADA CONJUNTO DE FIGURAS AO NÚMERO CORRESPONDENTE!



1 2 3 4 5 6 7 8 9



E. M. "PROF. CALIL RAHAL NETO".

NOME: _____

PROFESSORA: SIMONE

TURMA: 1º ANO A

DATA: 31/08/2021



ATIVIDADE 1

GEOGRAFIA

O que é Pátria?



NOSSA PÁTRIA SE CHAMA: _____

E. M. "PROF. CALIL RAHAL NETO".

NOME: _____

PROFESSORA: SIMONE

TURMA: 1º ANO A

DATA: 31/08/2021





ATIVIDADE 2

LÍNGUA PORTUGUESA

- CIRCULE NA MÚSICA O NOME DE SUA PÁTRIA, E
ESCREVA ABAIXO:

**EU TE AMO MEU BRASIL,
EU TE AMO!
MEU CORAÇÃO É VERDE,
AMARELO, BRANCO,
AZUL ANIL.**

- PINTE OS CORAÇÕES NAS CORES INDICADAS NA MÚSICA:



E. M. "PROF. CALIL RAHAL NETO".

NOME: _____

PROFESSORA: SIMONE

TURMA: 1º ANO A

DATA: 01/09/2021



ATIVIDADE 1

MATEMÁTICA

CALENDÁRIO SETEMBRO - 2021



DOMINGO	SEGUNDA - FEIRA	TERÇA- FEIRA	QUARTA- FEIRA	QUINTA- FEIRA	SEXTA- FEIRA	SÁBADO
			1			
				30		

E. M. "PROF. CALIL RAHAL NETO".

NOME: _____

PROFESSORA: SIMONE

TURMA: 1º ANO A

DATA: 01/09/2021



ATIVIDADE 2

CIÊNCIAS

VAMOS COLOCAR DENTRO DA MALA SOMENTE O QUE VOCÊ ACHA QUE CABE NO NOSSO BRASIL. O QUE NÃO CABE IREMOS DEIXAR DE FORA DO MAPA.

QUE CABE NO MEU BRASIL?

A large outline map of Brazil is shown. Inside the map, there are seven suitcases of various sizes and orientations, representing items to be placed within the country's borders.

AMOR MENTIRA FOME

RAIVA BONDADE PERDÃO

AMIZADE EGOÍSMO

E. M. "PROF. CALIL RAHAL NETO".

NOME: _____

PROFESSORA: SIMONE

TURMA: 1º ANO A

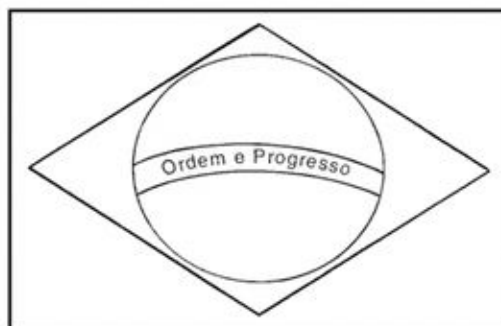
DATA: 02/09/2021



ATIVIDADE 1

LÍNGUA PORTUGUESA

7 DE SETEMBRO - INDEPENDÊNCIA DO BRASIL



ESSA É A BANDEIRA DO

AS CORES DA BANDEIRA SÃO:

QUANTAS CORES SÃO?

O QUE ESTÁ ESCRITO NA BANDEIRA?

E. M. "PROF. CALIL RAHAL NETO".

NOME: _____

PROFESSORA: SIMONE

TURMA: 1º ANO A

DATA: 02/09/2021



ATIVIDADE 2

MATEMÁTICA

VAMOS RESOLVER?



3 hats + 4 hats

$$\square + \square = \square$$

$$\square + \square = \square$$



4 horses + 4 horses

$$\square + \square = \square$$

$$\square + \square = \square$$



5 blocks + 4 blocks

$$\square + \square = \square$$

$$\square + \square = \square$$

E. M. "PROF. CALIL RAHAL NETO".

NOME: _____

PROFESSORA: SIMONE

TURMA: 1º ANO A

DATA: 03/09/2021




ATIVIDADE 1

LÍNGUA PORTUGUESA

O NOME DO HOMEM QUE DEU O GRITO DE INDEPENDÊNCIA ERA PEDRO. VOCÊ CONHECE ALGUÉM COM O MESMO NOME?

MARQUE COM UM X TODAS AS FIGURAS INICIADAS PELA LETRA P DE PEDRO.



E. M. "PROF. CALIL RAHAL NETO".

NOME: _____

PROFESSORA: SIMONE

TURMA: 1º ANO A

DATA: 03/09/2021



ATIVIDADE 2

ARTE

VAMOS COLORIR E RECORTAR A GRAVATA. DEPOIS, PEÇA AJUDA PARA UM FAMILIAR PARA COLOCAR O ELÁSTICO E ME MANDE UMA FOTO BEM BONITA USANDO A SUA PRODUÇÃO!



E. M. "PROF. CALIL RAHAL NETO".

NOME: _____

PROFESSORA: SIMONE

TURMA: 1º ANO A

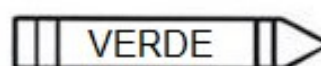
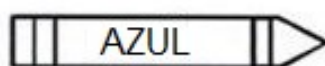
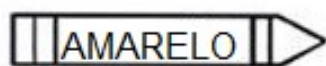
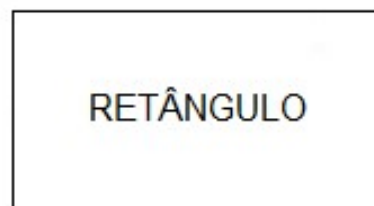
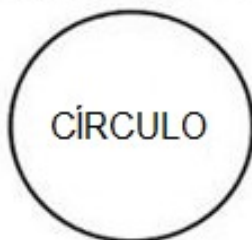
DATA: 08/09/2021




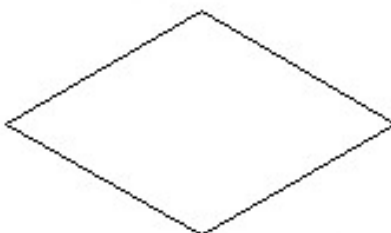



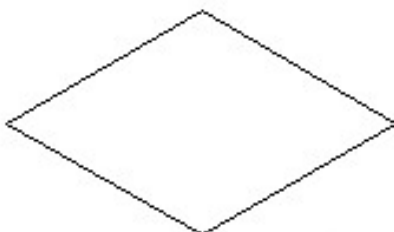
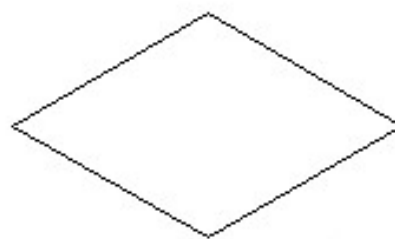

ATIVIDADE 1

MATEMÁTICA

Formas e Cores



PINTE OS LOSANGOS DE AMARELO, OS CÍRCULOS DE AZUL E OS RETÂNGULOS DE VERDE, COMO APARECEM NA NOSSA BANDEIRA:



E. M. "PROF. CALIL RAHAL NETO".

NOME: _____

PROFESSORA: SIMONE

TURMA: 1º ANO A

DATA: 08/09/2021



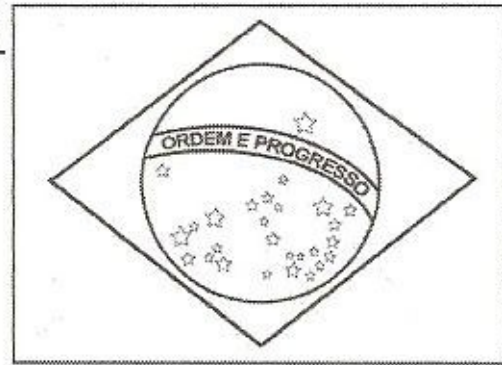
ATIVIDADE 2

LÍNGUA PORTUGUESA

HINO DA INDEPENDÊNCIA DO BRASIL

TRECHO DA MÚSICA DE: EVARISTO DA VEIGA
LETRA: D. PEDRO I

JÁ PODEIS DA PÁTRIA FILHOS
VER CONTENTE A MÃE GENTIL
JÁ RAIOU A LIBERDADE
NO HORIZONTE DO BRASIL



BRAVA GENTE **BRASILEIRA**
LONGE VÁ TEMOR SERVIL
OU FICAR A PÁTRIA LIVRE
OU MORRER PELO **BRASIL**.

ENCONTRE AS PALAVRAS GRIFADAS NO CAÇA – PALAVRAS:

A F R E B R A S I L N R F G P
F L T C A E Y N B B I L O P N
A I L M P Á T R I A L O N G E
P V Y F R M V D A E K E I J B
O R T N H O R I Z O N T E D C
A E R E A D L I B E R D A D E
B R A S I L E I R A O P A R E

E. M. "PROF. CALIL RAHAL NETO".

NOME: _____

PROFESSORA: SIMONE

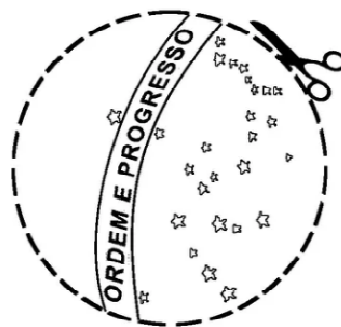
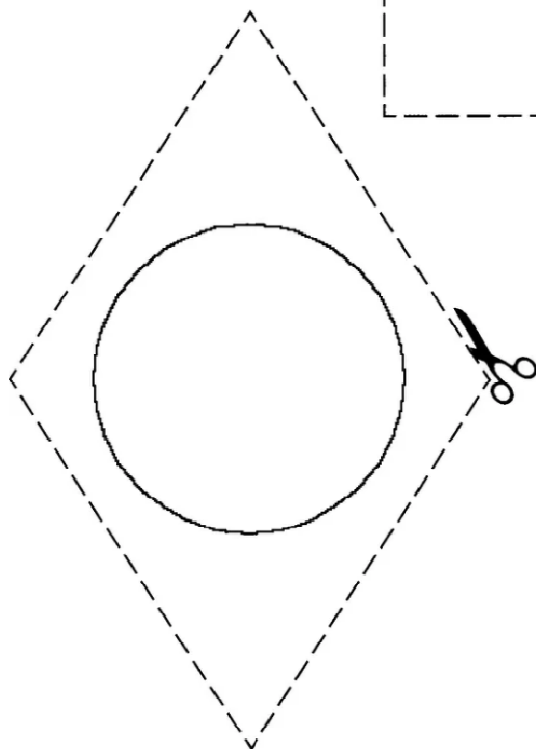
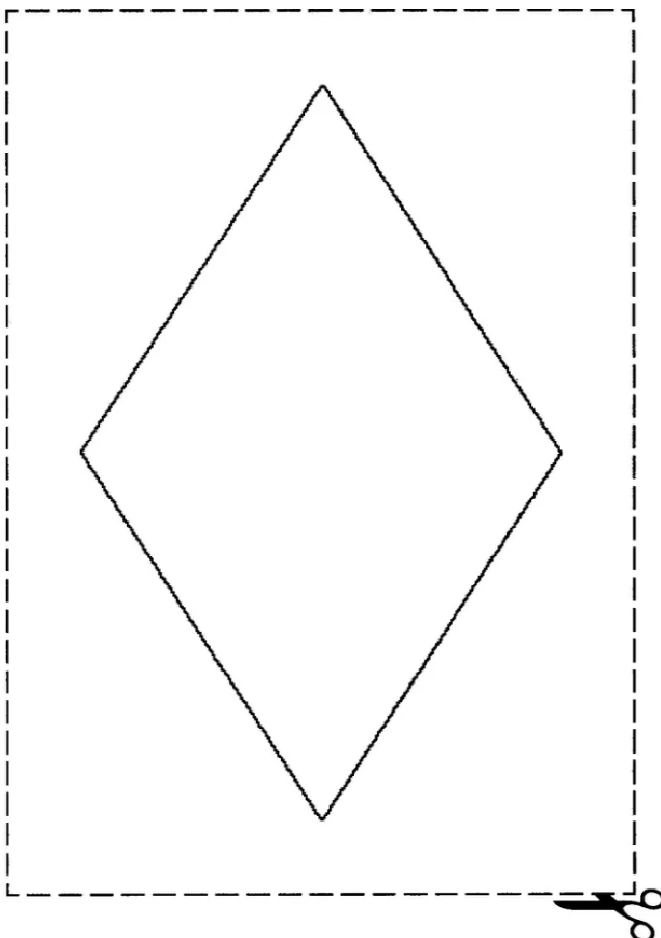
TURMA: 1º ANO A

DATA: 09/09/2021



ATIVIDADE 1: GEOGRAFIA

PINTE, RECORTE E MONTE A BANDEIRA E PEÇA AJUDA PARA UM FAMILIAR PARA COLAR NO PALITINHO. DEPOIS, TIRE UMA FOTO BEM LINDA E ENVIE PARA EU VER A SUA PRODUÇÃO!



E. M. "PROF. CALIL RAHAL NETO".

NOME: _____

PROFESSORA: SIMONE

TURMA: 1º ANO A


DATA: 09/09/2021




ATIVIDADE 2

MATEMÁTICA


ESCREVA O NUMERAL QUE CADA BANDEIRINHA REPRESENTA E FAÇA A SOMA. VEJA O MODELO:




$$8 + 1 = 9$$




$$\dots + \dots = \dots$$




$$\dots + \dots = \dots$$




$$\dots + \dots = \dots$$




$$\dots + \dots = \dots$$




$$\dots + \dots = \dots$$




$$\dots + \dots = \dots$$



$$\dots + \dots = \dots$$



$$\dots + \dots = \dots$$



$$\dots + \dots = \dots$$

E. M. "PROF. CALIL RAHAL NETO".

NOME: _____

PROFESSORA: SIMONE

TURMA: 1º ANO A

DATA: 10/09/2021



ATIVIDADE 1

LINGUA PORTUGUESA

7 DE SETEMBRO

SETE DE SETEMBRO,
DATA TÃO FESTIVA,
FOI A INDEPENDÊNCIA
DESTA TERRA TÃO QUERIDA.



QUAL É O NOME DO NOSSO PAÍS?

--	--	--	--	--	--

COMPLETAR:

B	R	A	S	I	L

RESPONDER:

QUAL É A PRIMEIRA LETRA?

--

QUAL É A ÚLTIMA LETRA?

--

QUANTAS LETRAS TÊM?

--

E. M. "PROF. CALIL RAHAL NETO".

NOME: _____

PROFESSORA: SIMONE

TURMA: 1º ANO A



DATA: 10/09/2021



ATIVIDADE 2

ARTE

PINTE O DESENHO E MONTE O QUEBRA-CABEÇA NA PRÓXIMA PÁGINA.



PÁGINA EXTRA PARA A COLAGEM DE ARTE

E. M. "PROF. CALIL RAHAL NETO".

NOME: _____

PROFESSORA: SIMONE

TURMA: 1º ANO A

DATA: 13/09/2021



ATIVIDADE 1


HISTÓRIA DIA DA ÁRVORE

FOI CRIADO EM HOMENAGEM A J. MORTON, MORADOR DE NEBRASCA, NOS ESTADOS UNIDOS, QUE INCENTIVAVA O PLANTIO DE ÁRVORES NAQUELE ESTADO. NO BRASIL A DATA PASSOU A SER CELEBRADA EM 1965. NAS REGIÕES NORTE E NORDESTE DO BRASIL, O DIA DA ÁRVORE É COMEMORADO NA ÚLTIMA SEMANA DE MARÇO QUANDO INICIA A ÉPOCA DAS CHUVAS NESTAS REGIÕES. É UMA DATA QUE VISA A CONSCIENTIZAÇÃO DE TODOS, NO SENTIDO DE PREVENIR O DESMATAMENTO E PREVINIR O DESMATAMENTO E ESTIMULAR O PLANTIO DE NOVAS ÁRVORES, BEM COMO A MANUTENÇÃO ADEQUADA DAQUELAS JÁ EXISTENTES.

O CUIDADO COM AS ÁRVORES É NECESSÁRIO, POIS DELAS TEMOS INÚMEROS BENEFÍCIOS: REFRESCA O AMBIENTE, MANTÉM A UMIDADE DO AR, DIMINUI A POLUIÇÃO, FILTRANDO A POEIRA E FULIGEM, ABSORVENDO O GÁS CARBÔNICO PROVENIENTE DA QUEIMA DOS COMBUSTÍVEIS, DIMINUEM AS FORÇAS DOS VENTOS E IMPEDEM QUE A CAMADA FÉRTIL DO SOLO SEJA CARREGADA, MANTÊM FIRME O SOLO NAS ENCOSTAS, AS MARGENS DOS RIOS E MANANCIAIS. ALGUMAS ÁRVORES PRODUZEM DELICIOSOS FRUTOS E INÚMEROS REMÉDIOS E CHÁS, FORNECEM A MADEIRA PARA FABRICAÇÃO DE ARTEFATOS, A POLPA PARA A FABRICAÇÃO DE PAPEL, ALÉM DE SERVIREM DE ABRIGO E REFÚGIO PARA ALGUNS ANIMAIS, QUE ALI FAZEM SUAS TOCAS E NINHOS.

ATIVIDADE

- 1- PINTA A ÁRVORE MAIOR. CIRCULE A ÁRVORE MENOR.



E. M. "PROF. CALIL RAHAL NETO".

NOME: _____

PROFESSORA: SIMONE

TURMA: 1º ANO A

DATA: 13/09/2021




ATIVIDADE 2

MATEMÁTICA

GRÁFICO

CADA QUADRINHO REPRESENTA UM ELEMENTO DA ÁRVORE. PINTE UM QUADRINHO PARA CADA ELEMENTO:



E. M. "PROF. CALIL RAHAL NETO".

NOME: _____

PROFESSORA: SIMONE

TURMA: 1º ANO A

DATA: 14/09/2021



ATIVIDADE 1

GEOGRAFIA


COM O TEXTO APRENDEMOS QUE AS REGIÕES NORTE E NORDESTE JÁ COMEMORARAM O DIA DA ÁRVORE EM MARÇO. PINTE ESSAS REGIÕES COM SUAS CORES PREFERIDAS.



E. M. "PROF. CALIL RAHAL NETO".

NOME: _____

PROFESSORA: SIMONE TURMA: 1º ANO A DATA: 14/09/2021



ATIVIDADE 2


LÍNGUA PORTUGUESA


DIA DA ÁRVORE

1- PROCURE E PINTE NO TEXTO:
A PALAVRA ÁRVORE

**A ÁRVORE É NOSSA AMIGA,
NELA PODEMOS CONFIAR.
NOS DÁ SOMBRA E ABRIGA,
PURIFICA O NOSSO AR.**

Liliane S. Monteiro



2- COMPLETE O QUADRO
COM AS LETRAS
FALTOSAS. 

3- AGORA, ESCREVA
A PALAVRA. 

 LETRA INICIAL: _____

 LETRA FINAL: _____

 VOGAIS: _____

 CONSOANTES: _____

 TOTAL DE LETRAS: _____

E. M. "PROF. CALIL RAHAL NETO".

NOME: _____

PROFESSORA: SIMONE





TURMA: 1º ANO A

DATA: 16/09/2021



ATIVIDADE 1
CIÊNCIAS
PARTES DA PLANTA

 LIGUE AS PARTES AO LUGAR ONDE ELA SE LOCALIZA NA PLANTA.



E. M. "PROF. CALIL RAHAL NETO".

NOME: _____


PROFESSORA: SIMONE

TURMA: 1º ANO A

DATA: 16/09/2021





ATIVIDADE 2
MATEMÁTICA



QUANTOS FRUTOS NA
ÁRVORE?

QUANTOS CAÍRAM?

QUANTOS FRUTOS AO TODO?



- QUANTAS ÁRVORES?

- QUANTAS FLORES EMBAIXO DE CADA ÁRVORE?

- QUANTAS FLORES NO TOTAL?

E. M. "PROF. CALIL RAHAL NETO".

NOME: _____

PROFESSORA: SIMONE

TURMA: 1º ANO A

DATA: 17/09/2021



ATIVIDADE 1
LÍNGUA PORTUGUESA

COMPLETE A CRUZADINHA ESCRREVENDO AS PARTES DAS PLANTAS.

CRUZADINHA
PARTES DAS PLANTAS

① ② ③ ④ ⑤

FOLHA

CAULE

FRUTO

FLOR

RAIZ

E. M. "PROF. CALIL RAHAL NETO".

NOME: _____

PROFESSORA: SIMONE

TURMA: 1º ANO A


DATA: 17/09/2021



ATIVIDADE 2

ARTE

VAMOS PINTAR A ÁRVORE DE ACORDO COM A LEGENDA:



1 → VERDE

2 → VERMELHO

3 → MARROM

REFERÊNCIAS DE PESQUISA

<https://www.educacaoetransformacao.com.br/atividade-independencia-do-brasil/>

https://atividadespedagogicasuzano.com.br/7-de-setembro-dia-da-independencia-do-brasil/quebra-cabeca-independencia-do-brasil-atividades-suzano_page-0001/

<https://br.pinterest.com/pin/578571883373333808/>

<https://cantinhodosaber.com.br/dia-da-independencia-do-brasil/atividades-para-o-dia-da-independencia-do-brasil/>

<https://www.ideiacriativa.org/2011/08/atividade-independencia-do-brasil-7-de.html>

<https://www.atividadeseducacaoinfantil.com.br/datas-comemorativas/atividades-independencia-brasil-colorir/>

<https://www.aartedeensinareaprender.com/2020/09/atividade-pronta-dia-da-arvore.html>

<https://mensagenseatividades.com/importancia-do-dia-da-arvore-vida-no-planeta-atividades/>

<https://amorensina.com.br/matematica-no-dia-da-arvore-1-ano-2-ano/>

<https://www.facebook.com/educaretransformar/posts/1799897293383823/>