

E.M. “Prof.<sup>a</sup> Inês Nunes Makiyama”

Aluno: \_\_\_\_\_

Prof.<sup>a</sup> Edilene Aparecida Gonçalves

Apostila-10

5º Ano-C

Referentes aos dias:30,31/08,01,02,03,08,09,10,13,14,16 e 17/09/2021.

Devolução: 20/09/2021



# CIDADANIA

**Cidadania é o conjunto de direitos e deveres exercidos por um indivíduo em sociedade.**

forteeducabras.com

Ninguém vive dentro de um casulo, não é? Estamos sempre cercados de pessoas: seu pai, sua mãe, seus avós, sua professora, amigos etc...

É que nós vivemos em sociedade. Para que todos se entendam existem leis que garantem os direitos: de ser livre, trabalhar, comer, ir à escola, se divertir etc...

Isso faz parte do que se chama cidadania, que é feita não só de direitos como deveres também. Para que você tenha seus direitos respeitados tem que respeitar os dos outros. Isso é ser cidadão.



fortesoescr's.com- texto adaptado

1) Explique o que é cidadania.

2) Registre as alternativas corretas:

Vivemos em sociedade e para que todos se entendam existem:

a)  Leis que garantem os deveres.

b)  Leis que garantem os direitos.

3) Podemos dizer que a cidadania não é feita só de direitos, mas também de:

a)  Ideias

b)  Deveres

c)  Missões



ESCOLA: \_\_\_\_\_

NOME: \_\_\_\_\_

DATA: \_\_\_\_/\_\_\_\_/\_\_\_\_



**ler!**

Observe atentamente a obra "A Família" de Tarsila do Amaral e responda:

A pintura mostra uma família que mora no campo ou na cidade?

Quantas pessoas compõem esta família?

Há apenas pessoas nesta foto? Quem mais aparece?

Você tem animal de estimação? Se tem, você o considera como membro da sua família ou não?

O que a menina de azul segura nas mãos?

Qual é o nome deste quadro?

Quem o pintou?



**Você sabe quem foi Tarsila do Amaral?**

Tarsila de Aguiar do Amaral foi uma pintora, desenhista e tradutora brasileira. Nasceu em São Paulo, no ano de 1886 e faleceu também em São Paulo, em 1973.



ESCOLA: \_\_\_\_\_

NOME: \_\_\_\_\_

DATA: \_\_\_\_/\_\_\_\_/\_\_\_\_

# CAÇA-PALAVRAS



Procure no diagrama abaixo os pronomes:

- EU
- TU
- ELE
- NÓS
- VÓS
- ELES



N	X	E	U	Z	V	G	H	S
I	P	M	C	P	X	R	N	E
H	V	W	T	U	C	X	Ó	G
H	I	N	L	H	T	N	S	T
V	E	Q	B	N	S	D	R	R
Ó	L	C	R	E	L	E	T	H
S	E	F	K	R	Q	R	Q	X
J	S	L	M	V	T	N	N	C

Pinte os verbos:

VERMELHO ► AÇÃO  
VERDE ► ESTADO  
AZUL ► FENÔMENOS DA NATUREZA

Fabiana **está** com calor.

João **estudou** para a prova.

O macaco **comeu** toda a banana.

Aninha **brincou** com Pedro ontem.

**Choveu** muito o verão passado.

Dudu **nada** muito rápido.



ESCOLA: \_\_\_\_\_

NOME: \_\_\_\_\_

DATA: \_\_\_\_/\_\_\_\_/\_\_\_\_



1-Observe os cartuns e escreva um comentário sobre eles.

---

---

---

---

---

---

---

---

---

---

2-Crie o seu cartum, utilizando um tema de sua preferência.



ESCOLA: \_\_\_\_\_

NOME: \_\_\_\_\_

DATA: \_\_\_\_/\_\_\_\_/\_\_\_\_

### A Independência do Brasil

- José de Bonifácio influenciou D. Pedro a ficar no Brasil.
- Ele recebeu o título de Patriarca da Independência.
- No dia 7 de setembro de 1822, quando voltava de Santos, as margens do riacho Ipiranga, descontente com as pressões vindas de Portugal, ao ler as cartas de sua esposa, D. Leopoldina e de José Bonifácio disse:

"Brasileiros: as Cortes de Lisboa querem escravizar-nos. De hoje em diante, nossas relações estão quebradas. Nenhum laço nos une mais. Estamos separados de Portugal. Independência ou morte!"



### Atividade

❖ Forme as palavras e ligue-as ao seu significado.

ção i tu ti Cons

tri ca ar pa

to cre de

Determinação escrita, emanada do chefe do Estado, ou de outra autoridade superior.

Lei fundamental e suprema de um Estado, que contém normas.

Chefe de família, entre os povos antigos.



ESCOLA: \_\_\_\_\_



NOME: \_\_\_\_\_

DATA: \_\_\_\_/\_\_\_\_/\_\_\_\_



Mistura de Alegria

# ALFABETIZAÇÃO



COMPLETE E COPIE AS PALAVRAS: **RA**

.....TO

.....LO

.....MO

.....SO

.....DIO

.....PAZ

.....BO

.....ÇÃO

.....IVA

.....ÍZ

.....IO

.....PA

.....LAR

.....SGA

.....FAEL

.....MPA



ESCOLA: \_\_\_\_\_

NOME: \_\_\_\_\_

DATA: \_\_\_\_/\_\_\_\_/\_\_\_\_

♥ OBSERVE A PALAVRA "**BRASIL**" E RESPONDA.

- QUANTAS VEZES VOCÊ ABRE A BOCA PARA FALAR ESTA PALAVRA?

- QUAL É O PRIMEIRO PEDACINHO DA PALAVRA?

CADA VEZ QUE VOCÊ ABRE A BOCA PARA FALAR AS PARTES DE UMA PALAVRA, ESTÁ FALANDO UMA **SÍLABA**. OS PEDACINHOS SÃO CHAMADOS DE **SÍLABAS**.

♥ AGORA LEIA E COLOQUE O NÚMERO DE SÍLABAS.

BRASILEIRO

PÁTRIA

PAÍS

JUSTIÇA

CRIANÇA



♥ LEIA E CIRCULE AS PALAVRAS QUE COMEÇAM COM A PRIMEIRA SÍLABA DA PALAVRA "**BRASIL**".

BRÓCOLIS – BRAÇO – BREJO – BRINCO – BRAVO – BRILHANTE

BRACELETE – BRUXA – BRAÇADEIRA – BRUNA – BRASÍLIA –


BRASÃO – BROTA – BRUNO – BRÍGIDA – BRENO – BRASA



ESCOLA: \_\_\_\_\_

NOME: \_\_\_\_\_

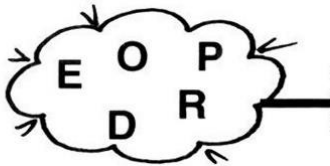
DATA: \_\_\_/\_\_\_/\_\_\_



(festa)



(Pátria)



(Pedro)



(vivas)



4) Completar o quadro com as letras faltosas:

P		R	T		G		L
A	L	E			I	A	
G	R		T				
V		V		S			
P	Á				I	A	

(Portugal)

(alegria)

(grito)

(vivas)

(Pátria)



ALUNO: \_\_\_\_\_

DATA: \_\_\_\_\_



@domitducart

# INDEPENDÊNCIA DO BRASIL



A FAMÍLIA DE D. PEDRO, QUERIA QUE O BRASIL  
PERTENCESSE A PORTUGAL  
ELE MONTOU EM SEU CAVALO COM SEUS  
CAVALEIROS E FOI ATÉ AS MARGENS DO RIO  
IPIRANGA EM SÃO PAULO E GRITOU:

\_\_\_\_\_



\_\_\_\_\_



ESCOLA: \_\_\_\_\_

NOME: \_\_\_\_\_

DATA: \_\_\_\_/\_\_\_\_/\_\_\_\_

Todas as palavras proparoxítonas são acentuadas. Cuidado! O acento pode ser agudo ou circunflexo.

♦ Acentue as palavras proparoxítonas abaixo.

transito	cocegas		
circulo	angulo		
petala	abobora		
quilometro	pessego		publico
ginastica	onibus		estomago
triangulo	silaba		unico



ALUNO: \_\_\_\_\_

DATA: \_\_\_\_\_



@domitducart

# INDEPENDÊNCIA DO BRASIL



A FAMÍLIA DE D. PEDRO, QUERIA QUE O BRASIL  
PERTENCESSE A PORTUGAL  
ELE MONTOU EM SEU CAVALO COM SEUS  
CAVALEIROS E FOI ATÉ AS MARGENS DO RIO  
IPIRANGA EM SÃO PAULO E GRITOU:



## **IMIGRAÇÃO JAPONESA**

**A IMIGRAÇÃO JAPONESA NO BRASIL TEM COMO MARCO INICIAL A CHEGADA DO NAVIO KASATO MARU, EM SANTOS, NO DIA 18 DE JUNHO DE 1908. DO PORTO DE KOBE A EMBARCAÇÃO TROUXE, NUMA VIAGEM DE 52 DIAS, OS 781 PRIMEIROS IMIGRANTES VINCULADOS AO ACORDO IMIGRATÓRIO ESTABELECIDO ENTRE BRASIL E JAPÃO, ALÉM DE 12 PASSAGEIROS INDEPENDENTES.**

1-QUANDO INICIOU A IMIGRAÇÃO JAPONESA?

2-QUAL O NOME DO NAVIO QUE TROUXE OS IMIGRANTES PARA O BRASIL?

3-QUANTOS DIAS FORAM DE VIAGEM?



E.M. "Prof.<sup>a</sup> Inês Nunes Makiyama"

Aluno: \_\_\_\_\_

**ATENÇÃO!!! POR FAVOR!!!**

**ESCREVA 5 TEMAS QUE VOCÊ ACHA LEGAL ESTUDARMOS.**

---

---

---

---

---

---

---



Nome \_\_\_\_\_

Observe o mapa do Brasil:



1. Pinte de verde o estado em que você mora.
2. Faça um x nos estados que compõem a região em que se encontra seu estado.
3. Identifique no mapa os estados da região Sul e pinte de verde.
4. Quantos estados compõem a República Federativa do Brasil?

\_\_\_\_\_

5. Qual o menor estado de nosso País?

\_\_\_\_\_

6. Localize e marque no mapa os estados banhados pelo Oceano Atlântico.
7. Quais estados fazem divisa com o Ceará?

\_\_\_\_\_





8. Contorne de caneta o maior estado do Brasil.






NOME: \_\_\_\_\_


**Características das Regiões**


<b>REGIÃO SUL</b>		<b>REGIÃO NORTE</b>	
<b>REGIÃO SUDESTE</b>		<b>REGIÃO NORDESTE</b>	


www.LIPITIPi.org


Relacione as imagens da coluna da esquerda com suas respectivas regiões:

a. 

b. 

c. 

d. 

e. 

1. Região Norte
2. Região Nordeste
3. Região Centro-Oeste
4. Região Sul
5. Região Sudeste



## FICHA DE CÁLCULO MENTAL

$220 + 40 =$ <input type="text"/>		$235 + 40 =$ <input type="text"/>
$340 + 50 =$ <input type="text"/>		$340 + 55 =$ <input type="text"/>
$410 + 60 =$ <input type="text"/>		$430 + 12 =$ <input type="text"/>
$520 + 70 =$ <input type="text"/>		$550 + 33 =$ <input type="text"/>
$610 + 80 =$ <input type="text"/>		$625 + 40 =$ <input type="text"/>

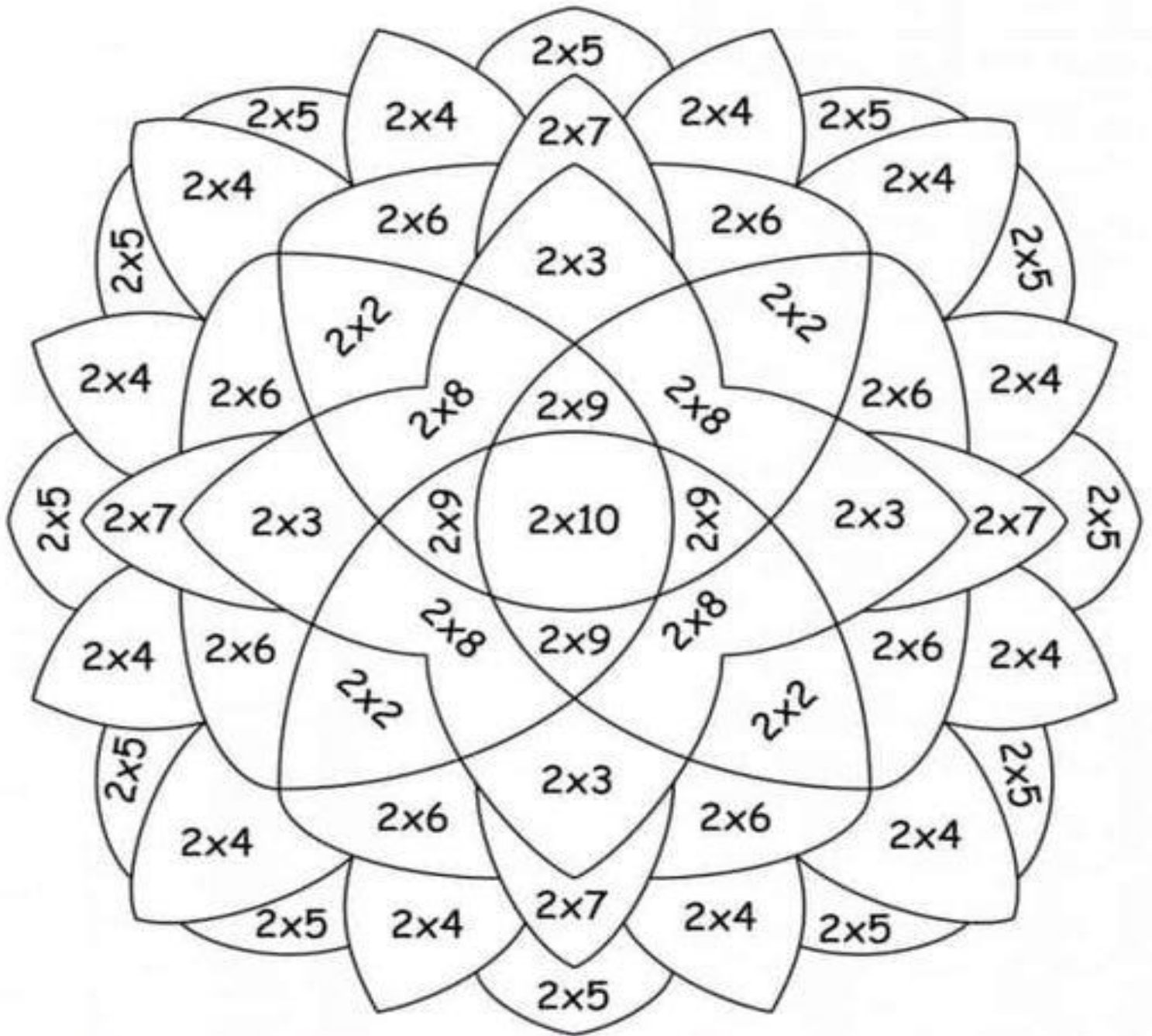
$240 - 10 =$ <input type="text"/>		$225 - 25 =$ <input type="text"/>
$340 - 20 =$ <input type="text"/>		$345 - 30 =$ <input type="text"/>
$450 - 30 =$ <input type="text"/>		$435 - 10 =$ <input type="text"/>
$550 - 40 =$ <input type="text"/>		$555 + 50 =$ <input type="text"/>
$670 - 50 =$ <input type="text"/>		$645 - 40 =$ <input type="text"/>

$7 \times 4 =$ <input type="text"/>		$3 \times 4 =$ <input type="text"/>
$3 \times 0 =$ <input type="text"/>		$4 \times 5 =$ <input type="text"/>
$4 \times 7 =$ <input type="text"/>		$4 \times 2 =$ <input type="text"/>
$3 \times 6 =$ <input type="text"/>		$5 \times 3 =$ <input type="text"/>
$7 \times 2 =$ <input type="text"/>		$6 \times 4 =$ <input type="text"/>

$2 \times 4 =$ <input type="text"/>		$5 \times 4 =$ <input type="text"/>
$4 \times 5 =$ <input type="text"/>		$7 \times 5 =$ <input type="text"/>
$1 \times 7 =$ <input type="text"/>		$8 \times 2 =$ <input type="text"/>
$5 \times 8 =$ <input type="text"/>		$9 \times 3 =$ <input type="text"/>
$7 \times 2 =$ <input type="text"/>		$6 \times 7 =$ <input type="text"/>



Nome \_\_\_\_\_





- 4
- 6
- 8
- 10
- 12
- 14
- 16
- 18
- 20



Nome \_\_\_\_\_

PINTE, RECORTE E BRINQUE



Nome \_\_\_\_\_

1. OBSERVE A SEQUÊNCIA E AJUDE MAGALI A DESCOBRIR QUAL O ÚLTIMO NÚMERO DO QUADRO.



40	110	180					?
----	-----	-----	--	--	--	--	---

- A) ( ) 460
- B) ( ) 520
- C) ( ) 320
- D) ( ) 530

2. NO DOMINGO GARFIELD COMEU 128 HAMBÚRGUERES E NA SEGUNDA 197. QUANTOS HAMBÚRGUERES A MAIS GARFIELD COMEU NA SEGUNDA?

- A) ( ) 68
- B) ( ) 69
- C) ( ) 57
- D) ( ) 325



3. O NÚMERO FORMADO POR 5 CENTENAS + 3 DEZENAS + 8 UNIDADES É...

- A) ( ) 532
- B) ( ) 385
- C) ( ) 538
- D) ( ) 836

4. A SOMA DOS NÚMEROS QUE ESTÃO NAS ESTRELAS É FORMADA POR...

- A) ( ) 6 DEZENAS E 2 UNIDADES
- B) ( ) 6 DEZENAS E 0 UNIDADES
- C) ( ) 5 DEZENAS E 8 UNIDADES
- D) ( ) 6 DEZENAS E 4 UNIDADES



NOME: \_\_\_\_\_ DATA: \_\_\_\_\_

# QUE HORAS SÃO?

CIRCULE A HORA MOSTRADA NO RELÓGIOS ABAIXO



10:00

9:00

8:00



1:30

3:30

4:30



5:00

12:00

3:00



4:00

3:00

9:00



1:30

12:30

6:30



2:30

3:30

3:00



8:30

9:30

10:30



3:00

2:00

1:00



Nome \_\_\_\_\_

$$\begin{array}{r} 320 \\ + 149 \\ \hline \end{array}$$

$$\begin{array}{r} 410 \\ + 235 \\ \hline \end{array}$$



$$\begin{array}{r} 314 \\ + 284 \\ \hline \end{array}$$

$$\begin{array}{r} 304 \\ + 120 \\ \hline \end{array}$$

$$\begin{array}{r} 710 \\ + 207 \\ \hline \end{array}$$

$$\begin{array}{r} 544 \\ + 204 \\ \hline \end{array}$$

$$\begin{array}{r} 609 \\ + 310 \\ \hline \end{array}$$

$$\begin{array}{r} 710 \\ + 158 \\ \hline \end{array}$$

$$\begin{array}{r} 714 \\ + 82 \\ \hline \end{array}$$

$$\begin{array}{r} 564 \\ + 122 \\ \hline \end{array}$$

$$\begin{array}{r} 133 \\ + 256 \\ \hline \end{array}$$

$$\begin{array}{r} 247 \\ + 120 \\ \hline \end{array}$$



NOME:

PROF.



Resolva os problemas.

## CÁLCULOS

No início do ano letivo a mãe de Priscila comprou para ela 17 lápis, se ela perdeu 5 lápis. Quantos lápis ela tem agora?



Lucas tem 11 anos, e um irmão mais novo que ele 3 anos. Quantos anos o irmão de Lucas tem?



Camila tem um aquário. Ela compra um peixe novo a cada novo mês do ano. Quantos anos ela levará para ter 36 peixes?




Júlia tem uma coleção de laços de cabelo. Ela tem 48 laços e quer divido-los igualmente com sua amiga Ana.

Com quantos laços cada uma ficará?

























ESCOLA \_\_\_\_\_  
 DATA \_\_\_\_\_ SÉRIE \_\_\_\_\_  
 PRO \_\_\_\_\_  
 ALUNO(A) \_\_\_\_\_



# Atividade

ESCREVA A FRAÇÃO CORRESPONDENTE:



Nome \_\_\_\_\_

## REFERÊNCIAS BIBLIOGRÁFICAS:

<https://br.depositphotos.com/stock-photos/mapa-brasil.html?qview=13825256>

<https://atividadespedagogicas.net/2019/05/atividades-sobre-a-regiao-norte-do-brasil.html>

<https://br.pinterest.com/pin/773634042226211348/>

<https://atividadespedagogicas.net/2014/12/avaliacoes-de-lingua-portuguesa-para-5o-ano.html>

<https://www.smartkids.com.br/atividade/pronomes-cacapalavras>

[https://www.google.com/search?q=atividades+com+r+2+ano&tbm=isch&ved=2ahUKEwis-urut8zyAhUtjZUCHSpEDVcQ2-cCegQIABAA&oq=atividades+com+r++2ano&gs\\_lcp=CgNpbWcQARgAMgYIABAHEB4yCAgAEAgQBxAeMgglABAIEAcQHjllCAAQCBAHEB4yCAgAEAgQBxAeMgglABAIEAcQHjllCAAQCBAHEB4yCAgAEAgQBxAeMgglABAIEAcQHjllCAAQCBAHEB4yCAgAEAgQBxAeMgglABAIEAcQHjllCAAQCBAHEB5QtvEJWNj4CWDbiApoAHAAeACAaWWIAaACkgEDMi4xmAEAoAEBqgELZ3dzLXdpei1pbWfAAQE&scient=img&ei=uVomYey5Ja2a1sQPqoi1uAU&bih=738&biw=1043#imgrc=PC-CCHOjv55zGM&imgdii=EUvFdB5uvDF3YM](https://www.google.com/search?q=atividades+com+r+2+ano&tbm=isch&ved=2ahUKEwis-urut8zyAhUtjZUCHSpEDVcQ2-cCegQIABAA&oq=atividades+com+r++2ano&gs_lcp=CgNpbWcQARgAMgYIABAHEB4yCAgAEAgQBxAeMgglABAIEAcQHjllCAAQCBAHEB4yCAgAEAgQBxAeMgglABAIEAcQHjllCAAQCBAHEB4yCAgAEAgQBxAeMgglABAIEAcQHjllCAAQCBAHEB5QtvEJWNj4CWDbiApoAHAAeACAaWWIAaACkgEDMi4xmAEAoAEBqgELZ3dzLXdpei1pbWfAAQE&scient=img&ei=uVomYey5Ja2a1sQPqoi1uAU&bih=738&biw=1043#imgrc=PC-CCHOjv55zGM&imgdii=EUvFdB5uvDF3YM)

[https://www.google.com/search?q=atividades+2+ano+sobre+a+indendencia&tbm=isch&ved=2ahUKEwjXi8WYsMzyAhUjipUCHXcgD5sQ2-cCegQIABAA&oq=atividades+2+ano+sobre+a+indendencia&gs\\_lcp=CgNpbWcQAzoECCMQJzoGCAAQCBAeOgQIABAYOgUIABCABDoLCAAQgAQsQMgqE6BAgAEB46BggAEAUQHjoHCCMQ6gIQzoiCAAQsQMgqE6CAgAEIAELEDQgQIABBDOgqIABCxAXCDARBDOgQIABADULkEWNzxAWDu9AFoB3AAeAOAAY0BiAHOK5IBBTM3LjIwmAEAoAEBqgELZ3dzLXdpei1pbWewAQrAAQE&scient=img&ei=rVImYZeBJKOU1sQP98C82Ak&bih=696&biw=1536#imgrc=o1K\\_elyR7OB9WM](https://www.google.com/search?q=atividades+2+ano+sobre+a+indendencia&tbm=isch&ved=2ahUKEwjXi8WYsMzyAhUjipUCHXcgD5sQ2-cCegQIABAA&oq=atividades+2+ano+sobre+a+indendencia&gs_lcp=CgNpbWcQAzoECCMQJzoGCAAQCBAeOgQIABAYOgUIABCABDoLCAAQgAQsQMgqE6BAgAEB46BggAEAUQHjoHCCMQ6gIQzoiCAAQsQMgqE6CAgAEIAELEDQgQIABBDOgqIABCxAXCDARBDOgQIABADULkEWNzxAWDu9AFoB3AAeAOAAY0BiAHOK5IBBTM3LjIwmAEAoAEBqgELZ3dzLXdpei1pbWewAQrAAQE&scient=img&ei=rVImYZeBJKOU1sQP98C82Ak&bih=696&biw=1536#imgrc=o1K_elyR7OB9WM)

<https://br.pinterest.com/pin/144185625561748465/>

<https://br.pinterest.com/pin/857091372831345341/>

<https://br.pinterest.com/pin/420031102749809763/>

<https://br.pinterest.com/pin/91620173651670163/>

<http://www.obmep.org.br/provas.htm>

<https://br.pinterest.com/pin/192317846576095909/>

<https://br.pinterest.com/pin/13159023897557564/>

[https://www.google.com/search?q=horas+atividades&sxsrf=ALeKk03gFznJ6pKkupPhpdKg4X5q8zMm9g:1629930659393&source=lnms&tbm=isch&sa=X&ved=2ahUKEwjKkNjvnM3yAhX-K7kGHVyVDLMQ\\_AUoAXoECAEQAw&biw=1536&bih=696&dpr=1.25#imgrc=SvV03kgmqS5djM](https://www.google.com/search?q=horas+atividades&sxsrf=ALeKk03gFznJ6pKkupPhpdKg4X5q8zMm9g:1629930659393&source=lnms&tbm=isch&sa=X&ved=2ahUKEwjKkNjvnM3yAhX-K7kGHVyVDLMQ_AUoAXoECAEQAw&biw=1536&bih=696&dpr=1.25#imgrc=SvV03kgmqS5djM)

[https://www.google.com/search?q=horas+atividades&sxsrf=ALeKk03gFznJ6pKkupPhpdKg4X5q8zMm9g:1629930659393&source=lnms&tbm=isch&sa=X&ved=2ahUKEwjKkNjvnM3yAhX-K7kGHVyVDLMQ\\_AUoAXoECAEQAw&biw=1536&bih=696&dpr=1.25#imgrc=SvV03kgmqS5djM](https://www.google.com/search?q=horas+atividades&sxsrf=ALeKk03gFznJ6pKkupPhpdKg4X5q8zMm9g:1629930659393&source=lnms&tbm=isch&sa=X&ved=2ahUKEwjKkNjvnM3yAhX-K7kGHVyVDLMQ_AUoAXoECAEQAw&biw=1536&bih=696&dpr=1.25#imgrc=SvV03kgmqS5djM)

<https://danieducar.com.br/atividades-de-matematica-situacao-problema/>

