

CADERNO INTERDISCIPLINAR 2º ANO



ESCOLA: "MARIA APARECIDA GABRIEL CARDOSO!"
NOME: _____

TURMA: 2º ANO A PROFESSORA: ANA MARIA

DATA: 30.10.8.1.2021

DATA: 30/08/2021

LÍNGUA PORTUGUESA/HISTÓRIA/GEOGRAFIA

1- COM AJUDA DE ALGUÉM, LEIA O POEMA VÁRIAS VEZES.
FAÇA TAMBÉM A LEITURA ASSISTINDO AO VÍDEO DA MÚSICA.

VÍDEO
ENVIADO
NO
GRUPO

GENTE TEM SOBRENOME

TODAS AS COISAS TÊM NOME:
CASA, JANELA E JARDIM.
COISAS NÃO TÊM SOBRENOME,
MAS A GENTE SIM.



TODAS AS FLORES TÊM NOME:
ROSA, CAMÉLIA E JASMIM
FLORES NÃO TÊM SOBRENOME,
MAS A GENTE SIM.



O CHICO É BUARQUE, O CAETANO É VELOSO
O ARY FOI BARROSO TAMBÉM.
ENTRE OS QUE SÃO JORGE
TEM UM JORGE AMADO
E UM OUTRO QUE É O JORGE BEN.
QUEM TEM APELIDO
DEDÉ, ZACHARIAS, MUSSUM E FAFÁ DE BELÉM.



TEM SEMPRE UM NOME
E DEPOIS DO NOME
TEM SOBRENOME TAMBÉM.



TODOS OS BRINQUEDOS TÊM NOME:
BOLA, BONECA E PATINS.
BRINQUEDOS NÃO TÊM SOBRENOME,
MAS A GENTE SIM.

COISAS GOSTOSAS TÊM NOME:
BOLO, MINGAU E PUDIM.
DOCES NÃO TÊM SOBRENOME,
MAS A GENTE SIM.

2- QUANTAS PALAVRAS FORMAM O TÍTULO DO POEMA? _____

3- QUANTOS VERSOS O POEMA TEM? _____

4- QUANTAS ESTROFES? _____

ESTROFES- NOME DADO A CADA GRUPO DE VERSOS QUE COMPÕEM UM POEMA.
VERSOS- SÃO AS LINHAS DO POEMA.


PROFESSORA: ANA MARIA

DATA 30/08/2021


ESCOLA: "MARIA APÁ GABRIEL CARDOSO"




5- ESCREVA OS NOMES DOS DESENHOS ABAIXO. ENCONTRE AS PALAVRAS NO POEMA.




6- LEIA A PALAVRA E FAÇA O DESENHO CORRESPONDENTE:



PATINS



BOLA



BONECA

7- PINTA A PALAVRA CORRETA DE ACORDO COM O DESENHO:





	BOLO	BULE	BANANA
	NAVIO	MACACO	MINGAU
	PANELA	PUDIM	BORBOLETA

8- OBSERVE A ORDEM DAS LETRAS DO ALFABETO.

A-B-C-D-E-F-G-H-I-J-K-L-M-N-O-P-Q-R-S-T-U-V-W-X-Y-Z

AGORA ORGANIZE OS NOMES DOS BRINQUEDOS ABAIXO SEGUINDO A ORDEM DO ALFABETO.



1-

4-

2-

5-

3-

6-

NOME: _____

TURMA: 2ª ANO A


PROFESSORA: ANA MARIA

DATA: 31/08/2021

ESCOLA: "MARIA APª GABRIEL CARDOSO"



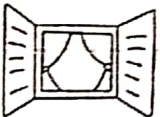
9- CIRCULE NA SEGUNDA COLUNA OS DESENHOS CUJOS NOMES TERMINEM COM O MESMO SOM DO NOME DO DESENHO EM DESTAQUE.



10- SEPRE AS SÍLABAS DAS PALAVRAS ESCRREVENDO CADA UMA EM UM QUADRINHO. EM SEGUIDA ESCREVA A PALAVRA COMPLETA NA LINHA.









NOME:

DATA: 31 / 08 / 2021

ADIÇÃO

$$\begin{array}{r} 23 \\ + 45 \\ \hline \end{array}$$

$$\begin{array}{r} 73 \\ + 24 \\ \hline \end{array}$$

$$\begin{array}{r} 52 \\ + 34 \\ \hline \end{array}$$

$$\begin{array}{r} 46 \\ + 13 \\ \hline \end{array}$$

$$\begin{array}{r} 39 \\ + 50 \\ \hline \end{array}$$

$$\begin{array}{r} 65 \\ + 32 \\ \hline \end{array}$$

$$\begin{array}{r} 15 \\ + 31 \\ \hline \end{array}$$


$$\begin{array}{r} 24 \\ + 24 \\ \hline \end{array}$$

$$\begin{array}{r} 82 \\ + 13 \\ \hline \end{array}$$

$$\begin{array}{r} 41 \\ + 36 \\ \hline \end{array}$$

$$\begin{array}{r} 53 \\ + 23 \\ \hline \end{array}$$

$$\begin{array}{r} 74 \\ + 12 \\ \hline \end{array}$$



31/08/2021

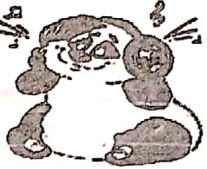
NÚMEROS



0 – ZERO	16 – DEZESSEIS	50 – CINQUENTA
1 – UM	17 – DEZESSETE	60 – SESSENTA
2 – DOIS	18 – DEZOITO	70 – SETENTA
3 – TRÊS	19 – DEZENOVE	80 – OITENTA
4 – QUATRO	20 – VINTE	90 – NOVENTA
5 – CINCO	21 – VINTE E UM	100 – CEM
6 – SEIS	22 – VINTE E DOIS	200 – DUZENTOS
7 – SETE	23 – VINTE E TRÊS	300 – TREZENTOS
8 – OITO	24 – VINTE E QUATRO	400 – QUATROCENTOS
9 – NOVE	25 – VINTE E CINCO	500 – QUINHENTOS
10 – DEZ	26 – VINTE E SEIS	600 – SEISCENTOS
11 – ONZE	27 – VINTE E SETE	700 – SETECENTOS
12 – DOZE	28 – VINTE E OITO	800 – OITOCENTOS
13 – TREZE	29 – VINTE E NOVE	900 – NOVECENTOS
14 – QUATORZE	30 – TRINTA	1.000 – MIL
15 – QUINZE	40 – QUARENTA	2.000 – DOIS MIL

NÃO DEVOLVA ESSA FOLHA - É PARA FICAR COM VOCÊ - GUARDE-A COM CARINHO PARA REALIZAR ALGUMAS ATIVIDADES.

NOME: _____ TURMA: 2ª ANO A
 PROFESSORA: ANA MARIA DATA: 01/09/2021
 ESCOLA: "MARIA APª GABRIEL CARDOSO."

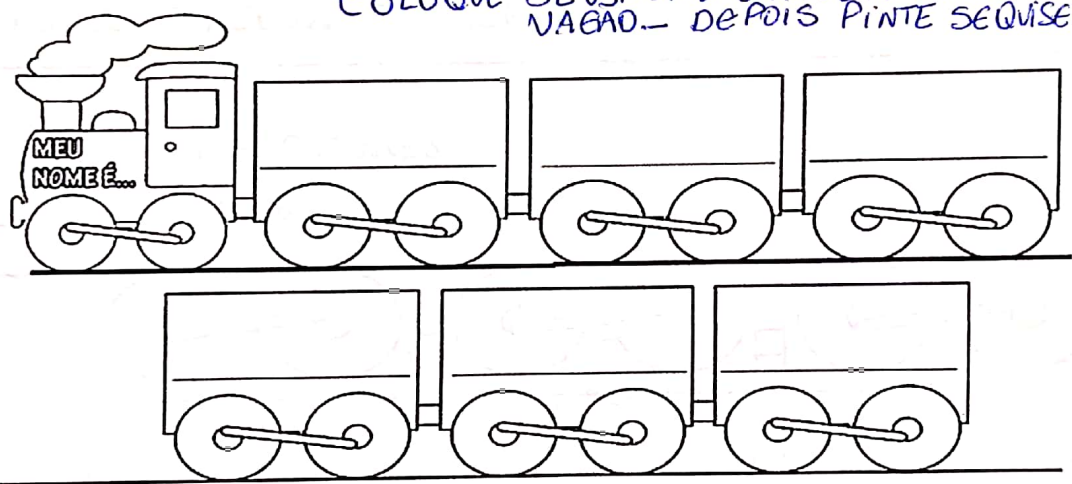


NOME E SOBRENOME

TODAS AS COISAS TÊM NOME,
 CASA, JANELA E JARDIM.
 COISAS NÃO TÊM SOBRENOME,
 MAS A GENTE SIM.

TODAS AS PESSOAS, AO NASCER, RECEBEM UM NOME. QUAL É O SEU NOME COMPLETO?

ESCREVA CADA PALAVRA DO SEU NOME DENTRO DE UM VAGÃOZINHO ABAIXO.
 COLOQUE SEU NOME COMPLETO EM CADA VAGÃO. — DEPOIS PINTE SE QUISER



PESQUISE COM SUA FAMÍLIA

- 1) QUEM ESCOLHEU SEU NOME?

- 2) POR QUE ESCOLHERAM ESSE NOME?

- 3) PESQUISE O SIGNIFICADO DO SEU NOME E ESCREVA ABAIXO.

AS PESSOAS TAMBÉM TÊM SOBRENOME.

QUAIS SÃO SEUS SOBRENOMES?

➡ **PINTE SOMENTE OS VAGÕES EM QUE ESTÃO ESCRITOS OS SEUS SOBRENOMES.**


Nome: _____

DATA: 01/09/2021

CALENDÁRIO SETEMBRO DE 2021



PINTE COMO
O DIA ESTÁ



COMPLETE O CALENDÁRIO

Dom	Seg	Ter	Quar	Qui	Sex	Sab
11	11	11	1			
				30	11	11


NOME: _____

TURMA: QUANDA

PROFESSORA: ANA MARIA

DATA: 02/09/2021

ESCOLA: "MARIA APÁ GABRIEL CARDOSO"



CIÊNCIAS











ENCONTRAMOS NO MEIO AMBIENTE SERES VIVOS E SERES NÃO VIVOS.

OS SERES VIVOS SÃO AQUELES QUE TÊM VIDA, COMO AS PLANTAS, OS ANIMAIS E AS PESSOAS.

ELES NASCEM, CRESCEM, SE REPRODUZEM E MORREM.

OS SERES NÃO VIVOS SÃO AQUELES QUE NÃO TEM VIDA, COMO A BORRACHA, A RÉGUA, A MESA, A PEDRA...

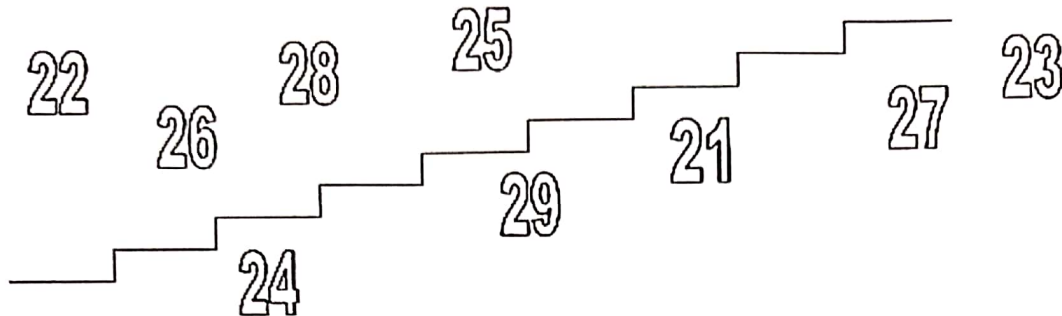
COMPLETE O QUADRO ABAIXO COM OS NOMES DOS SERES VIVOS E NÃO VIVOS QUE VOCÊ ENCONTRAR NO POEMA "GENTE TEM SOBRENOME". ILUSTRE CADA PALAVRA.

SERES VIVOS		SERES NÃO VIVOS	
			
_____	_____	_____	_____
			
_____	_____	_____	_____

DATA: 02/09/2021

MATEMÁTICA

1- ESCREVA OS NÚMEROS NA ESCADA EM ORDEM CRESCENTE.
(DO MENOR PARA O MAIOR)



2- ESCREVA O NÚMERO CORRESPONDENTE AO MATERIAL DOURADO:

ATENÇÃO!!

Dezena
10 UNIDADES

Unidade
1 UNIDADE

3- VAMOS BRINCAR NA RETA NUMÉRICA?
AJUDE AS CRIANÇAS A RESOLVEREM OS FATOS
DANDO PULINHOS NA RETA.




Aponte a câmera do celular para o QR e assista a uma explicação sobre o uso da reta numérica.

FAÇA IGUAL ↓

NA ADIÇÃO DAMOS PULINHOS PARA FRENTE.
 $5+3=8$
PRIMEIRO SÃO 5 PULINHOS NA RETA. DEPOIS MAIS 3 PULINHOS. CHEGANDO AO RESULTADO 8.

NA SUBTRAÇÃO DAMOS PULINHOS VOLTANDO ATÉ CHEGAR AO RESULTADO DA OPERAÇÃO.
OU SEJA, $(10-3=7)$ DEZ VOLTANDO TRÊS SERÁ IGUAL A SETE.



$4 + 5 = \square$

$3 + 4 = \square$

$6 + 2 = \square$

$9 - 5 = \square$

$10 - 3 = \square$


NOME: _____

TURMA: 2ª ANA

PROFESSORA: ANA MARIA

DATA: 03/09/2021

ESCOLA: "MARIA APª GABRIEL CARDOSO"



DU

EXEMPLO

CONTINUE

Matemática -

SUBTRAÇÃO - TIRAR
SUBTRAIR

$$\begin{array}{r} 46 \\ - 31 \\ \hline 15 \end{array}$$

$$\begin{array}{r} 22 \\ - 11 \\ \hline \end{array}$$

$$\begin{array}{r} 37 \\ - 01 \\ \hline \end{array}$$

$$\begin{array}{r} 55 \\ - 41 \\ \hline \end{array}$$

$$\begin{array}{r} 46 \\ - 31 \\ \hline \end{array}$$

$$\begin{array}{r} 53 \\ - 03 \\ \hline \end{array}$$

$$\begin{array}{r} 66 \\ - 15 \\ \hline \end{array}$$

$$\begin{array}{r} 17 \\ - 04 \\ \hline \end{array}$$

$$\begin{array}{r} 54 \\ - 40 \\ \hline \end{array}$$

$$\begin{array}{r} 61 \\ - 30 \\ \hline \end{array}$$

$$\begin{array}{r} 48 \\ - 01 \\ \hline \end{array}$$

$$\begin{array}{r} 21 \\ - 20 \\ \hline \end{array}$$

$$\begin{array}{r} 11 \\ - 11 \\ \hline \end{array}$$

$$\begin{array}{r} 26 \\ - 15 \\ \hline \end{array}$$

$$\begin{array}{r} 87 \\ - 37 \\ \hline \end{array}$$

$$\begin{array}{r} 42 \\ - 22 \\ \hline \end{array}$$

$$\begin{array}{r} 84 \\ - 72 \\ \hline \end{array}$$

$$\begin{array}{r} 96 \\ - 14 \\ \hline \end{array}$$

$$\begin{array}{r} 29 \\ - 15 \\ \hline \end{array}$$

$$\begin{array}{r} 68 \\ - 66 \\ \hline \end{array}$$

$$\begin{array}{r} 92 \\ - 92 \\ \hline \end{array}$$

$$\begin{array}{r} 21 \\ - 20 \\ \hline \end{array}$$

$$\begin{array}{r} 52 \\ - 31 \\ \hline \end{array}$$

$$\begin{array}{r} 67 \\ - 25 \\ \hline \end{array}$$

$$\begin{array}{r} 32 \\ - 01 \\ \hline \end{array}$$



DATA: 03/09/2021

EDUCAÇÃO FÍSICA


OLÁ ALUNOS, VAMOS CONTINUAR COM MUITO ENTUSIASMO E COM A PARTICIPAÇÃO DA SUA FAMÍLIA EM NOSSAS AULAS DE EDUCAÇÃO FÍSICA!

ATIVIDADE 1

AMARELINHA

OLHE O DESENHO A SEGUIR:

COM A AJUDA DOS SEUS RESPONSÁVEIS, PROCURE UM LUGAR SEGURO EM SUA CASA E FAÇA ESSE DESENHO DA IMAGEM AO LADO NO CHÃO COM O USO DE UM GRAVETO, CARVÃO, GIZ OU FITA CRÉPE. DEPOIS SE DIVIRTA BRINCANDO DE AMARELINHA COM SUA FAMÍLIA.



REGRAS

- 1- PEGUE UMA PEDRA PEQUENA OU TAMPINHA DE GARRAFA.
- 2- JOGUE O OBJETO NA CASA 1 E VÁ PULANDO DE CASA EM CASA, PARTINDO DA CASA 2 ATE O CÉU (CASA C).
- 3- SÓ PODE POR UM PÉ EM CADA CASA, QUANDO HOUVER UMA CASA DO LADO DA OUTRA PODE POR OS DOIS PÉS.
- 4- CHEGANDO A CASA C, O JOGADOR VIRA E VOLTA PULANDO DA MESMA MANEIRA, AO CHEGAR A CASA 2 ELE DEVE PEGAR A TAMPINHA E SAIR. ASSIM ATÉ JOGAR POR TODAS AS CASAS.

ATENÇÃO: VOCÊ NÃO PODE: PISAR NA LINHA E NEM NA CASA ONDE ESTÁ A TAMPINHA, É PRECISO ACERTA A TAMPINHA NA CASA, E NÃO SE ESQUEÇA DE PEGAR A TAMPINHA NA VOLTA.

FAÇA UM VÍDEO DA BRINCADEIRA E ENVIE NO GRUPO, SE POSSÍVEL. OU TIRE FOTO.



ESCOLA: "MARIA AP^A GABRIEL CARDOSO"

ALUNO(A): _____

DATA: 08/09/2021 TURMA: 2º ANO A

PROF^A ANA MARIA




VIVA A INDEPENDÊNCIA DO BRASIL!
VAMOS COLORIR?



Leitura informativa: DATA: 08/10/2021
DIA DA PÁTRIA
7 DE SETEMBRO

LER

Nesse dia
foi enviado
um vídeo
sobre a
Independência
do Brasil.



D. Pedro I, ao chegar de Santos, encontrou, nas proximidades do riacho Ipiranga, emissários do Rio de Janeiro, que lhe traziam mensagens de Lisboa que exigiam seu imediato retorno a Portugal.

Com as mensagens, vinham cartas de José Bonifácio, de Dona Leopoldina e do deputado Antônio Carlos, onde pediam a reação do príncipe.

D. Pedro sentiu que era chegada a hora, e no mesmo local, a 7 de setembro de 1822, às margens do riacho Ipiranga, com o célebre brado:

– **“Independência ou morte”**, determinou o rompimento dos laços que prendiam o Brasil aos antigos colonizadores.

Por isso, 7 de setembro é dia de festa no Brasil.

Multi Pesquisa

DATA: 08/09/2021

MARQUE COM UM (X) A RESPOSTA CERTA.

A. NOSSA PÁTRIA CHAMA-SE:

BRASIL | | PORTUGAL | | SÃO PAULO

B. A INDEPENDÊNCIA DO BRASIL FOI PROCLAMADA NO DIA:

17 DE NOVEMBRO

21 DE ABRIL

7 DE SETEMBRO


C. QUEM PROCLAMOU A INDEPENDÊNCIA DO BRASIL FOI:

PEDRO ÁLVARES CABRAL

D. PEDRO I

D. MANUEL

FINTE A FAIXA QUE CONTÉM A FRASE QUE D. PEDRO I EXCLAMOU QUANDO PROCLAMOU A INDEPENDÊNCIA DO BRASIL



INDEPENDÊNCIA OU MORTE!

VIVA A PÁTRIA

OS BRASILEIROS ESTÃO INDEPENDENTES!


NOME: _____ TURMA: 2ª ANO A
PROFESSORA: ANA MARIA DATA: 08/09/2021
ESCOLA: "MARIA APÁ GABRIEL CARDOSO"




JOGO DOS 7 ERROS Kids

FAÇA UM X NOS ERROS DO QUADRO 2

1




2




© SMARTKIDS

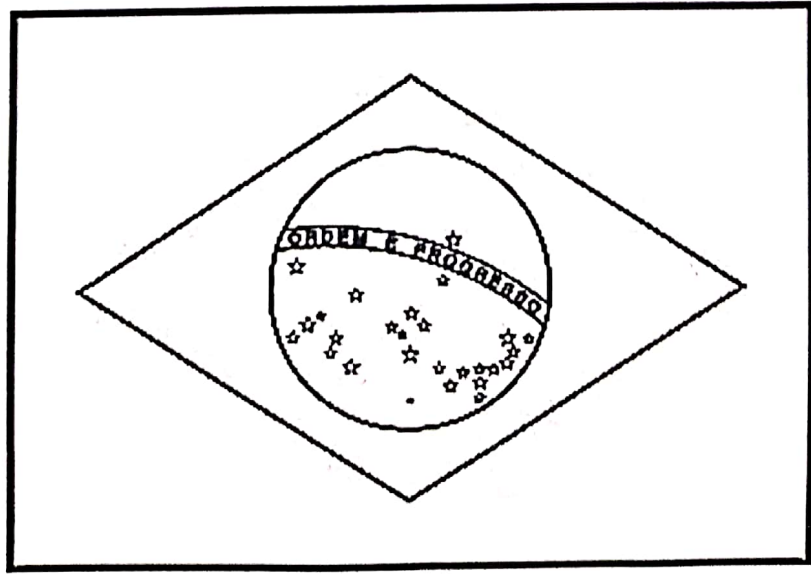
NOME: _____ TURMA: ORANOA
 PROFESSORA: ANA MARIA DATA: 09/08/2021
 ESCOLA: "MARIA APÁ GABRIEL CARDOSO"



1. MARQUE UM "X" NO PEDAÇO QUE FOI RETIRADO DO CÍRCULO:



2. PINTÉ A BANDEIRA NACIONAL COM AS SEGUINTE CORES: VERDE, AMARELO, AZUL E BRANCO:

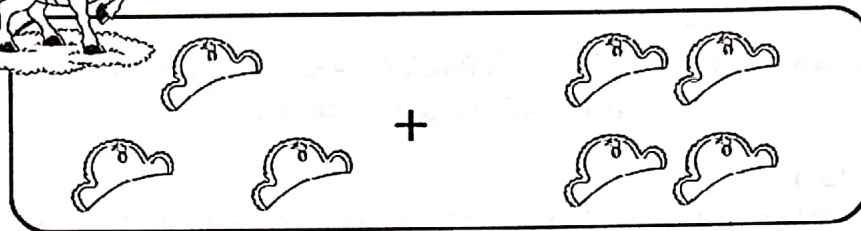


Escola: MARIA APARECIDA GABRIEL CARDOSO


Data: 09/08/2021 Turma: 2º ANO A EducacaoeTransformacao.com.br

Aluno: _____

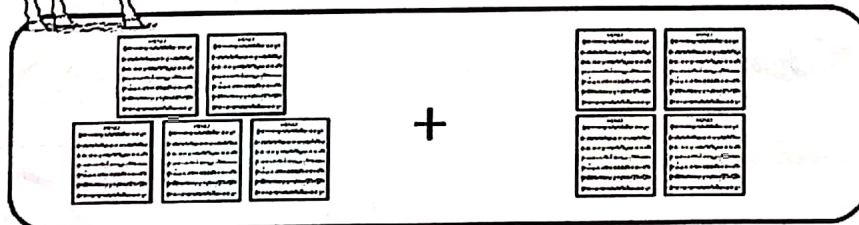
VAMOS RESOLVER?



$$\square + \square = \square$$

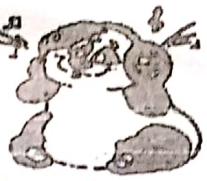


$$\square + \square = \square$$



$$\square + \square = \square$$

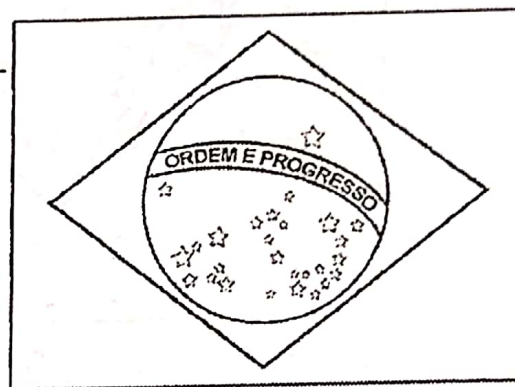
NOME: _____ TURMA: 2^o ANO A
 PROFESSORA: ANA MARIA DATA: 10/08/2021
 ESCOLA: "MARIA AP^a GABRIEL CARDOSO."



HINO DA INDEPENDÊNCIA DO BRASIL

TRECHO DA MÚSICA DE: EVARISTO DA VEIGA
LETRA: D. PEDRO I

JÁ PODEIS DA PÁTRIA FILHOS
VER CONTENTE A MÃE GENTIL
JÁ RAIOU A LIBERDADE,
NO HORIZONTE DO BRASIL



BRAVA GENTE BRASILEIRA
LONGE VÁ TEMOR SERVIL
OU FICAR A PÁTRIA LIVRE
OU MORRER PELO BRASIL.

ENCONTRE AS PALAVRAS GRIFADAS NO CAÇA – PALAVRAS: E CÍRCULO
OU PINTE


A F R E B R A S I L N R F G P
 F L T C A E Y N B B I L O P N
 A I L M P A T R I A L O N G E
 P V Y F R M V D A E K E I J B
 O R T N H O R I Z O N T E D C
 A E R E A D L I B E R D A D E
 B R A S I L E I R A O P A R E

DATA: 10/09/2021

LEVE DOM PEDRO I
ATÉ AS MARGENS DO RIO IPIRANGA.

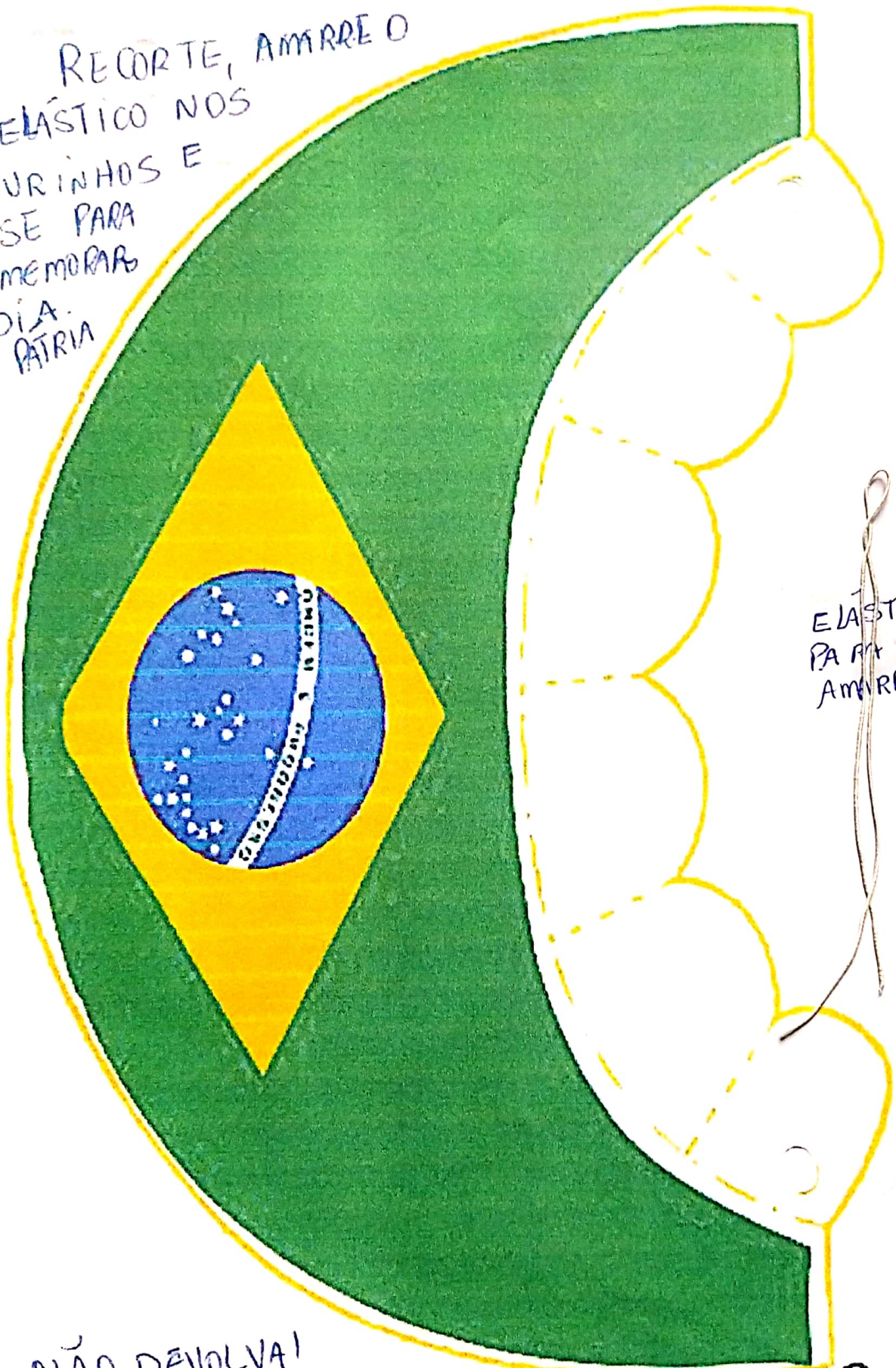


Pequenos Grandes Pensantes



PEQUENOS GRANDES PENSANTES

RECORTE, AMARRE O
ELÁSTICO NOS
FURINHOS E
USE PARA
COMEMORAR
O DIA
DA PÁTRIA



ELÁSTICO
PARA
AMARRAR

NÃO DEVOLVA!
É PARA FICAR COM
VOCÊS! MANDE FOTO USANDO, SE POSSÍVEL.

ESCOLA: MARIA AP^ª GABRIEL CARDOSO!

NOME: _____

DATA: 13 / 09 / 2021

PROF^ª ANA MARIA



Amorensina.com.br
Alfabetizar com Amor



ALFABETIZANDO

MACACA MARIA

ISABEL CRISTINA S. SOARES (AUTORA)

MACACA MARIA
AMIGA DA SOFIA
COMIA BANANA
DE NOITE E DE DIA!
SALTAVA OS GALHOS
DE BARRIGA VAZIA
COLHIA AS FRUTAS
E PUNHA NA BACIA!
MACACA MARIA
AMIGA DA SOFIA
NA PANELA COZIA
AO MEIO DIA!




Amorensina.com.br
Alfabetizar com Amor

www.amorensina.com.br - Todos os direitos reservados ©

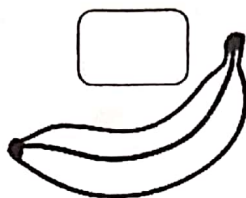
13/09/2021

1 - MARQUE AS RESPOSTAS CERTAS.


A) MACACA MARIA COME:



MELANCIA




BANANA

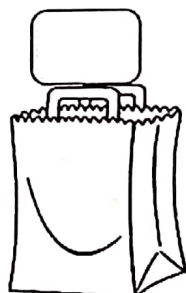


BATATA


B) MACACA MARIA COLOCAVA AS BANANAS QUE COLHIA NA:



XÍCARA



SACOLA

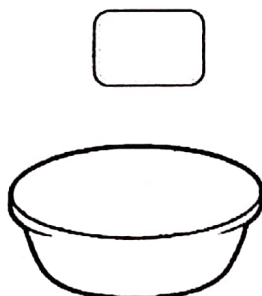


BACIA

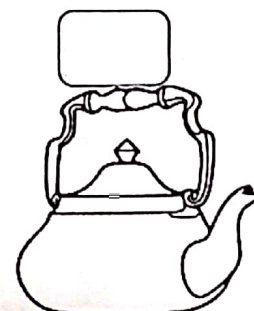
C) ONDE MACACA SOFIA COZINHAVA SEU ALIMENTO?



PANELA




BACIA



CHALEIRA

AVALIAÇÃO DE MATEMÁTICA



NOME:

PROFESSOR(A):

TURMA:

13/09/2021

(EF01MA01) 1. ESSE É O BOLO DE ANIVERSÁRIO DE ANDRÉ.



MARQUE O NÚMERO QUE INDICA QUANTOS ANOS ANDRÉ ESTÁ FAZENDO.


A		4
---	--	---

C		8
---	--	---

B		7
---	--	---

D		6
---	--	---

2. (EF01MA01) - VEJA ABAIXO O RESULTADO DE UMA CORRIDA.



COMPLETE A TABELA COM A POSIÇÃO DE CHEGADA DE CADA UM.

NOME	POSIÇÃO
MIGUEL	
SÁVIO	
PEDRO	


NOME: _____

TURMA: 2ª ANA

PROFESSORA: ANA MARIA

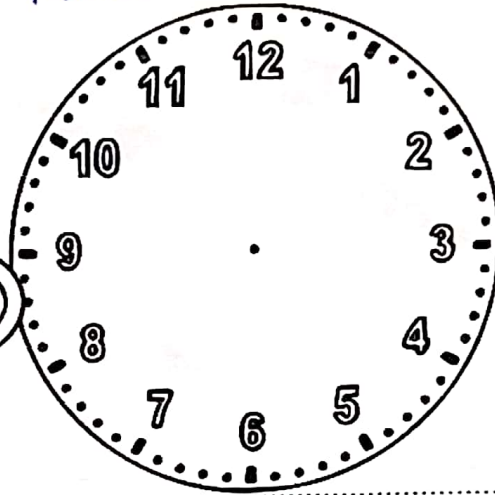

DATA: 14/09/2021

ESCOLA: "MARIA APÁ GARDIEL CARDOSO"



2 - COM AJUDA DOS FAMILIARES, COLOQUE OS PONTEIROS MARCANDO A HORA EM QUE MACACA MARIA COZINHAVA.

C PONTEIRO PEQUENO MARCA HORAS
PONTEIRO GRANDE MARCA MINUTOS



3 - ENCONTRE NO DIAGRAMA OS NOMES DOS DESENHOS.



MALA




MAPA



MACACA

MA	LA	DA	MI	LA	MA	ÇÃ
PO	E	TA	MI	NHO	CA	VA
LI	MA	PA	MAR	TE	LO	BO
PO	PA	LU	RA	MA	MÃO	LA
QUE	AS	NO	SA	PA	TI	NHO
U	VA	MA	CA	CA	A	PO



MAÇÃ




MAMÃO


14/09/2021


(EF01MA10) - 3. COMPLETE A SEQUÊNCIA COM OS NÚMEROS QUE FALTAM.


0	1	2				6
7				11		13
14		16		18		20


(EF01MA06) 4 - CALCULE OS RESULTADOS DOS FATOS.


$2+4=$ 


$3+3=$ 


$4+2=$ 

$4+4=$ 

$3+5=$ 


$6+3=$ 

$4+5=$ 

$5+5=$ 

(EF01MA08) 5. MIGUEL E PEDRO COMPRARAM CARRINHOS.

MIGUEL COMPROU:



PEDRO COMPROU:



QUANTOS CARRINHOS OS DOIS COMPRARAM JUNTOS?


A		4
---	--	---

C		8
---	--	---

B		7
---	--	---

D		6
---	--	---

(EF01MA15) 06 - OBSERVE AS IMAGENS A SEGUIR. CONTORNE A QUE MOSTRA A PESSOA MAIS ALTA. *CIRQUE OU PINTE*



NOME: _____


TURMA: QUANDA

PROFESSORA: ANA MARIA DATA: 16/09/2021



ESCOLA: "MARIA AP. GABRIEL CARDOSO"





4 - OBSERVE O DESENHO E ESCREVA O NOME.



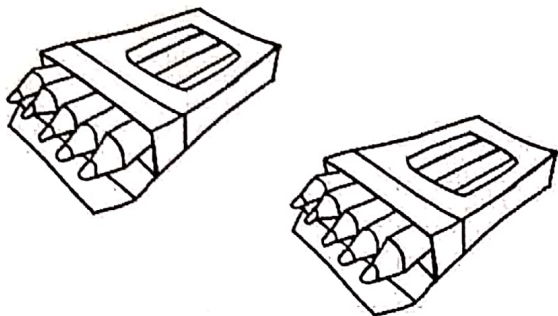
5 - CIRCULE OS DESENHOS CUJOS NOMES COMEÇAM COMO BANANA.



6 - ESCREVA OS NOMES DOS DESENHOS.



(EF01MA02) 07. SAULO ARRUMOU SEUS LÁPIS DE COR EM 2 CAIXAS CONTENDO A MESMA QUANTIDADE EM CADA UMA.



QUANTOS LÁPIS SAULO TEM?

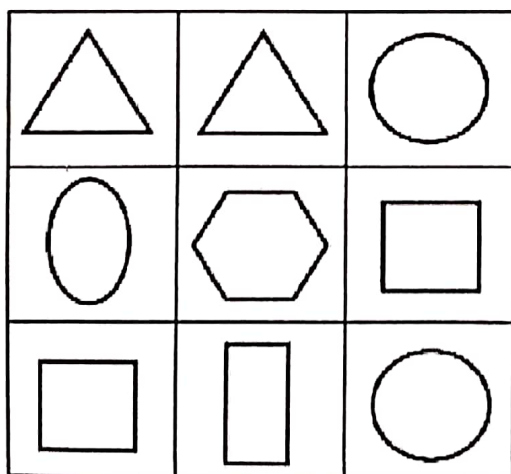
A		5
---	--	---

C		12
---	--	----

B		9
---	--	---

D		10
---	--	----

(EF01MA14) 08. MARQUE UM X NA QUADRADO.



16/09/2021

(EF01MA18) 09. OBSERVE O CALENDÁRIO ABAIXO:

ABRIL 2019

Domingo	Segunda	Terça	Quarta	Quinta	Sexta	Sábado
	1	2	3	4	5	6
7	8	9	10	11	12	13
14	15	16	17	18	19	20
21	22	23	24	25	26	27
28	29	30	31			

DIA 22 DE ABRIL CAIU EM QUE DIA DA SEMANA?

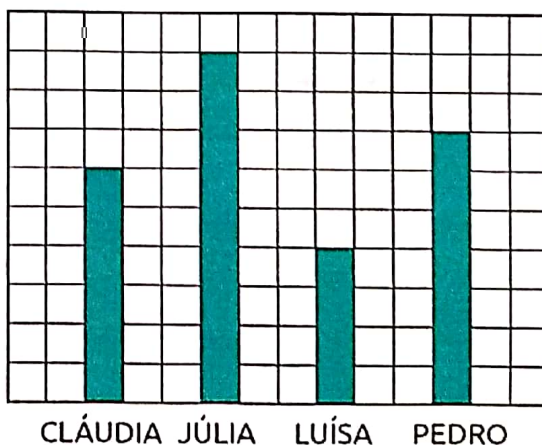
A		SEGUNDA - FEIRA
---	--	-----------------

B		TERÇA - FEIRA
---	--	---------------

		QUARTA - FEIRA
--	--	----------------

		QUINTA - FEIRA
--	--	----------------

(EF01MA21) 10. LUCIANA E SEUS AMIGOS FIZERAM UM GRÁFICO COM A QUANTIDADE DE LIVROS QUE CADA UM LEU.



QUEM LEU MAIS LIVROS?

--

NOME: _____ TURMA: 2ª ANA
PROFESSORA: ANA MARIA DATA: 17/09/2021
ESCOLA: "MARIA APª GABRIEL CARDOSO"



FAZENDO COMPRAS


PINTE AS CÊDULAS QUE VOCÊ VAI USAR PARA COMPRAR OS ITENS ABAIXO.



R\$ 4,00



R\$ 7,00



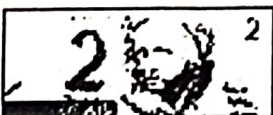



R\$ 2,00



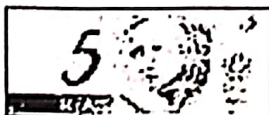
REFRIGERANTE



OVO DE PÁSCOA



PICOLÉ



17/09/2021

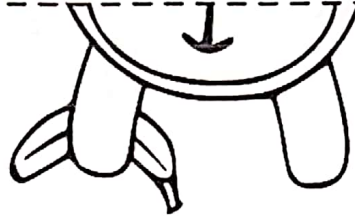
7 - RECORTE E MONTE NA FOLHA DE SULFITE DO VERSO (ATRAS) - NA ORDEM DO TEXTO

MACACA MARIA

AMIGA DA SOFIA

NA PANELA COZIA

AO MEIO DIA!



MACACA MARIA


ISABEL CRISTINA S. SOARES

SALTAVA OS GALHOS

DE BARRIGA VAZIA

COLHIA AS FRUTAS

E PUNHA NA BACIA!



MACACA MARIA

AMIGA DA SOFIA

COMIA BANANA

DE NOITE E DE DIA!



OBSERVAÇÃO: OLHE NO TEXTO ANTERIOR 13/09 DEPOIS LEIA SE CONSEGUIR.

 Amorensina.com.br
Alfabetizar com Amor

www.amorensina.com.br - Todos os direitos reservados ©

QUEM CONSEGUIR LER ALGUMA
PALAVRA OU PARTE DO TEXTO
ME ENVIE UM VIDEO SE POSSIVEL

ATIVIDADES DIFERENCIADAS

ESCOLA: "MARIÁ APARECIDA GABRIEL CARDOSO"

DATA: 13 / 09 / 2021 2º ANO A

NOME: _____

1) COMPLETE A TABELA COM OS NÚMEROS QUE FALTAM:

1	<input type="text"/>	<input type="text"/>	<input type="text"/>	5	<input type="text"/>	<input type="text"/>	<input type="text"/>	9	10
11	12	<input type="text"/>	<input type="text"/>	<input type="text"/>	<input type="text"/>	<input type="text"/>	18	<input type="text"/>	20
21	<input type="text"/>	<input type="text"/>	<input type="text"/>	25	<input type="text"/>	<input type="text"/>	<input type="text"/>	<input type="text"/>	30
31	32	<input type="text"/>	<input type="text"/>	<input type="text"/>	<input type="text"/>	<input type="text"/>	38	<input type="text"/>	40
41	<input type="text"/>	<input type="text"/>	<input type="text"/>	45	<input type="text"/>	<input type="text"/>	<input type="text"/>	<input type="text"/>	50

2) ESCREVA OS NÚMEROS ABAIXO POR EXTENSO:

12 -

25 -

29 -

36 -

38 -

41 -

43 -

50 -

ATIVIDADES DIFERENCIADAS

DATA 14 / 09 / 2021.

NOME

ATIVIDADES

LIGUE OS NUMERAIS AO MODO COMO OS LEMOS.

15

ZERO

10

QUATRO

8

DEZ

7

DEZESSEIS

4

CINCO

16

SETE

0

QUINZE

5







OITO

amomatematicainfantil.blogspot.com



NA LOJA PERTO DA CASA DA MÔNICA, VENDE MÁSCARAS DE PROTEÇÃO. VEJA OS PREÇOS NA TABELA E RESPONDA AS PERGUNTAS A SEGUIR.

TABELA DE PREÇOS

 MÁSCARA DA MÔNICA	
 MÁSCARA DO BIDU	
 MÁSCARA DO CEBOLINHA	

A) QUAL A MÁSCARA DE MAIOR VALOR?

RESPOSTA: _____

B) QUAL A MÁSCARA DE MENOR VALOR?

RESPOSTA: _____

C) A MÔNICA COMPROU UMA MÁSCARA DO CEBOLINHA E UMA MÁSCARA DO BIDU. QUAL O VALOR QUE IRÁ PAGAR NA COMPRA DAS MÁSCARAS? MARQUE COM UM (X) A RESPOSTA CORRETA.

() R\$9,00

() R\$ 5,00

() R\$10,00

FONTES

Caderno Interdisciplinar 2º ANO

Educação e transformação oficial.blogspot.com

profisãomestre.com.br

bp.blogspot.com

atividadespara imprimir.com

www.continhoeducativo.com.br

www.nossoclubinho.com.br

Pequenos grandes pensantes

SmartKids.com.br

www.Ensinando com carinho.com.br

Amoresensina.com.br

Atividades Pedagógicas Suzano

Dani educar

www.misturadadealegria.blogspot.com.br

LIVRO ÁPIS 2º ANO - LÍNGUA PORT. PÁGS: 54, 55, 56, 59, 60, 61, 62, 63 e 64 (Atividades diferenciadas)