

E.M. "Vereador Lourival Correia de Araújo"

Nome: \_\_\_\_\_

10º Remessa: referentes ao dia 30,31/08 e 01, 02,03,08,09,10,13,14,16 e 17/09.



DATA : 30/08/2021



## **A INDEPENDÊNCIA DO BRASIL**

ANTES DE PARTIR PARA PORTUGAL, DOM JOÃO VI ESVAZIOU OS COFRES DO BANCO DO BRASIL, LEVANDO QUASE TODO O OURO PARA PORTUGAL E DEIXOU DOM PEDRO COMO PRÍNCIPE REGENTE. OS PORTUGUESES, PORÉM, NÃO GOSTARAM DA PERMANÊNCIA DE DOM PEDRO NO BRASIL POIS QUERIAM QUE O BRASIL VOLTASSE A POSIÇÃO DE COLÔNIA.

OS BRASILEIROS ELABORARAM, ENTÃO, UM DOCUMENTO, ASSINADO POR MILHARES DE PESSOAS PEDINDO A SUA PERMANÊNCIA NO BRASIL. DOM PEDRO SE MOSTROU FAVORÁVEL À SOLICITAÇÃO:

- "COMO É PARA O BEM DE TODOS E FELICIDADE GERAL DA NAÇÃO, DIGA AO POVO QUE FICO."

ESTA DECLARAÇÃO DE DOM PEDRO FOI FEITA NO DIA 09 DE JANEIRO DE 1822. DATA QUE FICOU CONHECIDA COMO O DIA DO FICO.

DIAS DEPOIS, DOM PEDRO FORMOU SEU MINISTÉRIO, NOMEANDO PARA MINISTRO DO REINO JOSÉ BONIFÁCIO DE ANDRADA E SILVA.

COMO AS AMEAÇAS DE PORTUGAL CONTINUARAM, DOM PEDRO QUE FORA CONTROLAR CONFLITOS ENTRE BRASILEIROS E PORTUGUESES NA PROVÍNCIA DE SÃO PAULO, ANUNCI-OU, ÀS MARGENS DO RIACHO IPIRANGA, EM SÃO PAULO, NO DIA 07 DE SETEMBRO DE 1822:

"BRASILEIROS, AS CORTES DE LISBOA QUEREM ESCRAVIZAR-NOS. DE HOJE EM DIANTE, NOSSAS RELAÇÕES ESTÃO QUEBRADAS, NENHUM LAÇO NOS UNE MAIS, ESTAMOS SEPARADOS DE PORTUGAL."

E.M. "Vereador Lourival Correia de Araújo"

Nome: \_\_\_\_\_

PUXANDO A ESPADA GRITOU:  
"INDEPENDÊNCIA OU MORTE!"  
NO DIA 12 DE OUTUBRO DE 1822, DOM PEDRO FOI ACLAMADO IMPERADOR DO BRASIL COM O NOME DE DOM PEDRO I.

### **INTERPRETAÇÃO DE TEXTO:**

**1. O QUE DOM JOÃO VI FEZ QUANDO FOI PARA PORTUGAL?**

---

---

**2. QUEM DOM JOÃO VI DEIXOU COMO PRÍNCIPE REGENTE?**

---

---

**3. QUEM FOI NOMEADO POR DOM PEDRO COMO MINISTRO DO REINO?**

---

---

**4. QUANDO FOI ACEITA FICOU CONHECIDA A DECLARAÇÃO DE DOM PEDRO?**

---

---

**5. EM QUE DIA, MÊS E ANO FOI DECLARADA A INDEPENDÊNCIA DO BRASIL?**

---

---

E.M. "Vereador Lourival Correia de Araújo"

Nome: \_\_\_\_\_

DATA : 31/08/2021

A palavra independência é polissílaba, ou seja, é uma palavra que tem mais de quatro sílabas. Classifique as palavras abaixo quanto ao número de sílabas: (*monossílaba, dissílaba, trissílaba e polissílaba*)

Felicidade \_\_\_\_\_

Brasil \_\_\_\_\_

Setembro \_\_\_\_\_

A palavra margens está no plural. Procure no texto outras 3 palavras que também estejam no plural e escreva-as abaixo:

Complete as palavras abaixo com S ou SS:

E.....VAZIOU      QUA.....E      PORTUGUE.....E.....

VOLTA.....E      PO.....IÇÃO      BRA.....ILEIRO.....

A.....INADO      PE.....QA.....      NO.....A.....

10. Qual frase Dom Pedro anunciou aos brasileiros às margens do Rio Ipiranga?

---

---

---

---

# ANTECESSOR E SUCESSOR

COMPLETE OS QUADROS ABAIXO:

ANTECESSOR	-1
	280
	321
	648
	968
	455
	741

SUCESSOR	+1
263	
852	
693	
334	
298	
328	

DEZ ANTES		DEZ DEPOIS
139	140	
	265	
	611	
	587	
	222	



DATA : 01/09/2021

7 de setembro



Independência do Brasil

Já podeis, da Pátria filhos,  
Ver contente a mãe gentil;  
Já raiou a liberdade  
No horizonte do Brasil.

Brava gente brasileira!  
Longe vá... temor servil:  
Ou ficar a pátria livre  
Ou morrer pelo Brasil.

Trecho do Hino da Independência

Copie a primeira estrofe do Hino da Independência  
com letra cursiva:

---

---

---

---

---

---

---

Copie os verbos do texto: (Lembrando que VERBO é TODA AÇÃO)

---

---

---


Leia o texto e encontre as palavras sublinhadas no quadro abaixo:

Quando eu crescer...  
 Hei de ser muito valente.  
 Das tropas irei à frente,  
 Com passo nobre e viril!  
 Diante do mundo inteiro,  
 Hei de ser um brasileiro  
 Capaz de honrar o Brasil!



M	N	J	K	L	I	Y	R	E	H	S	I	Y	R
F	G	H	J	K	L	Q	D	F	O	V	B	Q	D
A	B	N	I	N	O	P	Q	R	N	A	R	P	Q
M	N	J	K	L	I	Y	R	E	R	L	A	Y	R
F	C	R	E	S	C	E	R	F	A	E	S	Q	D
A	B	N	I	N	O	P	Q	R	R	N	I	P	Q
B	R	A	S	I	L	E	I	R	O	S	L	Y	R
F	G	H	J	K	L	Q	D	F	T	E	E	Q	D
A	B	N	I	V	A	L	E	N	T	E	I	P	Q
M	N	J	K	L	T	R	O	P	A	S	R	Y	R
F	G	H	J	K	L	Q	D	F	T	G	O	Q	D

DATA : 02/09/2021

 Relacione a segunda coluna de acordo com a primeira.

❖ As cores da nossa Bandeira representam:

1 verde

2 amarelo

3 azul


4 branco

nosso ouro

nosso céu

a paz

nossas matas

 Marque a frase correta:

❖ O que está escrito na nossa Bandeira?

Ordem e Construção

Ordem e Progresso

Ordem e Paz

❖ As estrelas representam:

as cidades

os Estados brasileiros

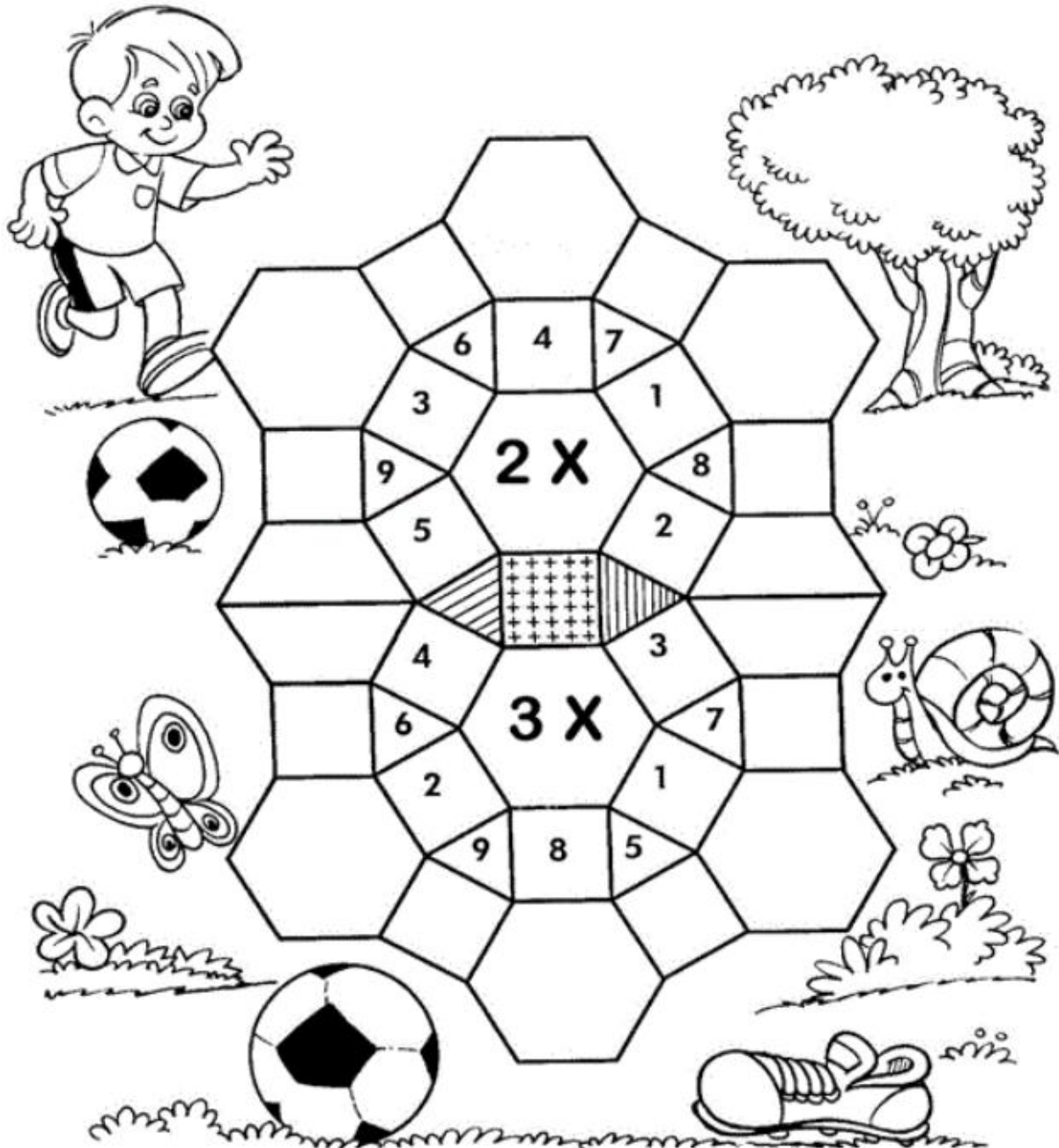
as Forças Armadas





Vamos multiplicar:

Complete o mosaico:



E.M. "Vereador Lourival Correia de Araújo"

Nome: \_\_\_\_\_

DATA : 03/09/2021

Map of Brazil showing the five regions and their constituent states:

- REGIÃO NORTE (Green):** RORAIMA, AMAPÁ, AMAZONAS, PARÁ, ACRE, RONDÔNIA.
- REGIÃO NORDESTE (Orange):** MARANHÃO, CEARÁ, PIAUÍ, BAHIA, RIO GRANDE DO NORTE, PARAÍBA, PERNAMBUCO, ALAGOAS, SERGIPE.
- REGIÃO CENTRO-OESTE (Yellow):** MATO GROSSO, MATO GROSSO DO SUL, GOIÁS.
- REGIÃO SUDESTE (Blue):** TOCANTINS, MINAS GERAIS, SÃO PAULO, ESPÍRITO SANTO, RIO DE JANEIRO.
- REGIÃO SUL (Pink):** PARANÁ, RIO GRANDE DO SUL, SANTA CATARINA.

COMPLETE O QUADRO COM O NÚMERO DE ESTADOS DE CADA REGIÃO:

REGIÃO	NÚMERO DE ESTADOS
NORTE	
NORDESTE	
CENTRO-OESTE	
SUDESTE	
SUL	



E.M. "Vereador Lourival Correia de Araújo"

Nome: \_\_\_\_\_

DATA : 08/09/2021

**MARQUE COM UM X A RESPOSTA CERTA.**

**a) A nossa pátria chama-se:**

(    ) Estados Unidos      (    ) Brasil      (    ) Portugal

**b) A independência do Brasil foi proclamada no dia:**

(    ) 4 de março      (    ) 10 de junho      (    ) 7 de setembro

**c) Quem proclamou a independência do Brasil foi:**

(    ) D. Pedro I      (    ) Pedro Álvares Cabral      (    ) D. Manuel

**d) Qual foi a frase que D. Pedro exclamou ao proclamar a independência do nosso Brasil.**

- (    ) "Independência ou morte"
- (    ) "viva a pátria"
- (    ) "todos pelo Brasil"



**1** Escreva os números por extenso e coloque-os nas ordens corretas.

		<b>C</b>	<b>D</b>	<b>U</b>
128	→ Cento e vinte e oito	1	2	8
87	→ _____			
137	→ _____			
37	→ _____			
8	→ _____			
135	→ _____			
179	→ _____			
153	→ _____			
104	→ _____			
26	→ _____			
92	→ _____			
154	→ _____			
159	→ _____			
163	→ _____			
158	→ _____			
2	→ _____			
93	→ _____			
138	→ _____			
157	→ _____			
85	→ _____			
0	→ _____			
177	→ _____			

Maria Rita levou seus filhos: Ana Clara, 8 anos; Rodrigo, 11 anos; Mariana, 2 anos; e Luís, 4 anos, ao médico para saber se eles estão se desenvolvendo e crescendo adequadamente para a idade. Observe a cena a seguir e responda:



a) Qual é a criança mais alta?

\_\_\_\_\_

b) Qual é a criança mais baixa?

\_\_\_\_\_

c) Quem é mais alto: Luís ou Mariana?

\_\_\_\_\_

d) E você, sabe qual é a sua altura?

\_\_\_\_\_

e) Quando você nasceu, qual era a sua altura?

Pergunte para a mamãe ou para o responsável por você.

\_\_\_\_\_

f) Das pessoas de sua casa, quem tem a menor altura?


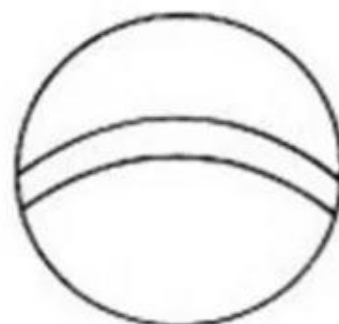

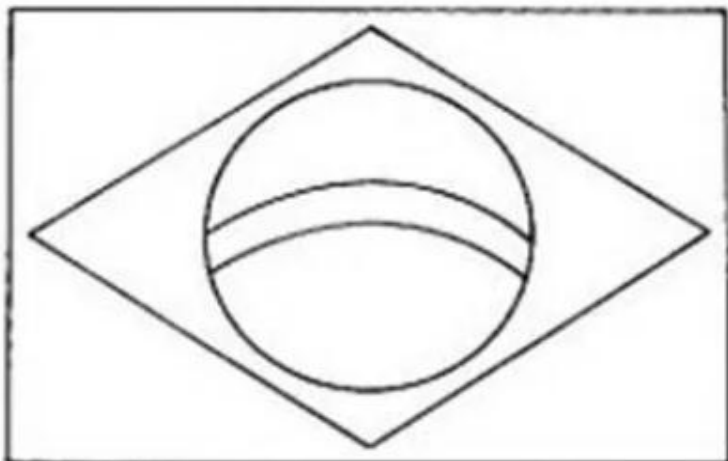
\_\_\_\_\_

E.M. "Vereador Lourival Correia de Araújo"

Nome: \_\_\_\_\_



# Vamos colorir:



E.M. "Vereador Lourival Correia de Araújo"

Nome: \_\_\_\_\_

DATA : 10/09/2021

**Escreva 2 palavras com cada letra da palavra BRASIL.**

B	
R	
A	
S	
I	
L	



# CALENDÁRIO



## SETEMBRO

DOM	SEG	TER	QUA	QUI	SEX	SAB

Complete o calendário e responda as perguntas abaixo:

1. O mês de setembro é composto por quantos dias?

\_\_\_\_\_

2. Qual dia da semana se comemora o dia da Independência?

\_\_\_\_\_

3. Quantas quartas-feiras tem o mês de setembro?

\_\_\_\_\_

4. Qual dia da semana se inicia o mês de setembro?

\_\_\_\_\_

E.M. "Vereador Lourival Correia de Araújo"

Nome: \_\_\_\_\_

DATA : 13/09/2021

Observe o gráfico e responda:



ORGANIZE OS DADOS DO GRÁFICO NA TABELA ABAIXO:

ESTADOS	PARTICIPAÇÃO
SÃO PAULO	
RIO DE JANEIRO	
BAHIA	
ACRE	

RESPONDA ÀS QUESTÕES:

QUAL REGIÃO TEVE MAIOR PARTICIPAÇÃO? \_\_\_\_\_

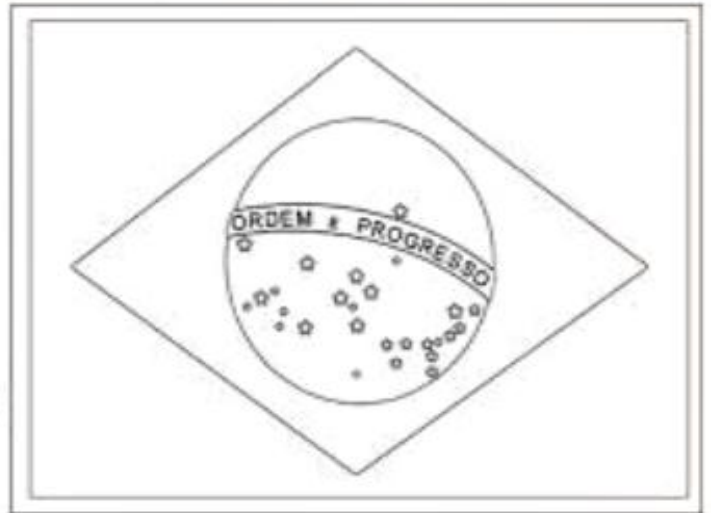
QUAL A SOMA DAS DUAS ESCOLAS COM MENOR Nº DE PARTICIPAÇÃO? \_\_\_\_\_

QUAL FOI A DIFERENÇA DA ESCOLA DE SÃO PAULO PARA O ACRE? \_\_\_\_\_

QUAL A SOMA DAS DUAS ESCOLAS COM MAIOR Nº DE PARTICIPAÇÃO? \_\_\_\_\_

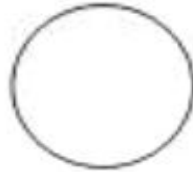
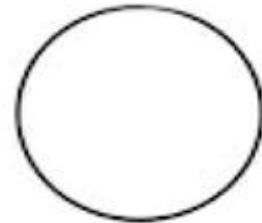
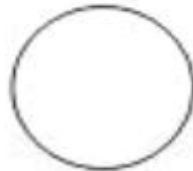
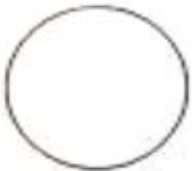
## FORMAS GEOMÉTRICAS:

### SEMANA DA PÁTRIA - 7 DE SETEMBRO



ESSA É A BANDEIRA DO

PINTE AS CORES DA BANDEIRA DO NOSSO PAÍS:



AS FORMAS GEOMÉTRICAS QUE APARECEM NA NOSSA BANDEIRA SÃO ESCREVA:



DATA : 14/09/2021

Dia 7 de setembro é comemorado a **INDEPENDÊNCIA DO BRASIL.**

1- Estes são duas estrofes do Hino da Independência.



Já podeis, da Pátria filhos,  
Ver contente a mãe gentil;  
Já raiou a liberdade  
No horizonte do Brasil.

Brava gente brasileira!  
Longe vá... temor servil:  
Ou ficar a pátria livre  
Ou morrer pelo Brasil.

Trecho do Hino da Independência

a) Nas estrofes acima aparecem duas palavras que rimam com **Brasil**, copie-as:

b) Pinte de verde o substantivo próprio que nomeia o nosso país e escreva -o:

c) Copie das estrofes acima três substantivos comuns:

2- complete o quadro abaixo retirando palavras das estrofes:

Palavras com quatro sílabas.	Palavras com três sílabas	Palavras com duas sílabas	Palavra que tem s com som de z

3- Quantos versos tem cada estrofe neste trecho do hino ? \_\_\_\_\_

4-Copie o primeiro verso do segundo estrofe:

5-Pinte de amarelo no segundo verso da primeira estrofe a palavra sinônima de alegre/feliz.



E.M. "Vereador Lourival Correia de Araújo"

Nome: \_\_\_\_\_

**COMPLETAR O QUADRO NUMÉRICO.**

## QUADRO DA FAMÍLIA DOS 500

500									
510									
520									
530									
540									
550									
560									
570									
580									
590									

# História

## O Brasil Império

### ► A Independência do Brasil



- D. João VI voltou para Portugal e deixou aqui seu filho D. Pedro, com apenas 22 anos.
- A corte portuguesa queria que o Brasil, que já era Reino Unido, voltasse à condição de Colônia.
- Eles lutaram para impedir que o Brasil voltasse a ser uma Colônia de Portugal: José Bonifácio, Cipriano Barata, Gonçalves Ledo e outros.
- Em 1821, Portugal exigiu que D. Pedro retornasse. Uma comissão entregou à D. Pedro um abaixo assinado com mais de oito mil assinaturas, pedindo que ficasse no Brasil.
- Ao receber o abaixo assinado, em 9 de janeiro de 1822 D. Pedro declarou: "Como é para o bem de todos e felicidade da Nação, estou pronto: diga ao povo que fico".
- 9 de janeiro Dia do Fico.

### Atividades

❖ Complete as frases com as palavras entre parênteses.

• D. Pedro passou a governar o ..... após a partida de D. João VI para ..... (Portugal - Brasil)

• A intenção das ..... de ..... era fazer com que o ..... voltasse à condição de ..... (Brasil - colônia - Cortes - Portugal)

• O objetivo do ..... Brasileiro era evitar que o ..... voltasse à condição de colônia. (Partido - Brasil)

PROCURE NO CACA-PALAVRAS AS PALAVRAS EM DESTAQUE:

1. Quem descobriu o Brasil *CABRAL*
2. O Brasil era colônia de *PORTUGAL*.
3. Quem era o rei de Portugal em 1808: *D. JOÃO VI*
4. Quem proclamou a Independência do Brasil *foi D. PEDRO I.*
5. Qual mês Dom Pedro I proclamou a Independência do Brasil? *SETEMBRO*



E.M. "Vereador Lourival Correia de Araújo"

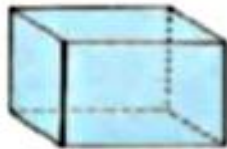
Nome: \_\_\_\_\_

DATA : 17/09/2021

## SÓLIDOS GEOMÉTRICOS

As figuras abaixo são sólidos geométricos. Tratam-se do cubo, do cilindro, do cone, da esfera, da pirâmida e do paralelepípedo.

### Sólidos Geométricos



**cubo**



**paralelepípedo**



**esfera**



**cilindro**



**cone**



**pirâmide**

Os sólidos que têm superfície curva são chamados de corpos redondos.

Os sólidos que têm superfície plana são chamados de poliedros.

1) Com qual sólido geométrico se parece?



se parece com: \_\_\_\_\_



se parece com: \_\_\_\_\_



se parece com: \_\_\_\_\_



se parece com: \_\_\_\_\_



se parece com: \_\_\_\_\_

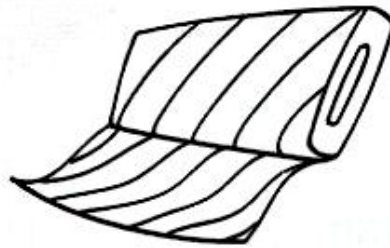


se parece com: \_\_\_\_\_

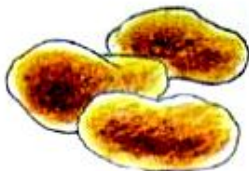
1. Circule o instrumento usado para medir o peso das coisas e das pessoas.



2. Pinte os produtos que compramos por quilo.



3. Ligue os produtos aos instrumentos que usamos para comprá-los.



E.M. "Vereador Lourival Correia de Araújo"

Nome: \_\_\_\_\_

## BIBLIOGRAFIA

- ✓ <https://www.google.com/url?sa=i&url=https%3A%2F%2Flereaprender.com.br%2Fatividades-sobre-a-independencia-do-brasil-5o-ano%2F&psi>.
- ✓ Blog educação e Transformação;
- ✓ EMAI volume I e II; adaptação
- ✓ Após 3º ano.
- ✓ Pinterest
- ✓ <https://www.google.com/url?sa=i&url=https%3A%2F%2Fatividadespedagogicas.net%2F2012%2F02%2Fatividades-e-cruzadinhas-sobre-a-independencia-do-brasil.htm>.



E.M. "Vereador Lourival Correia de Araújo"

Nome: \_\_\_\_\_