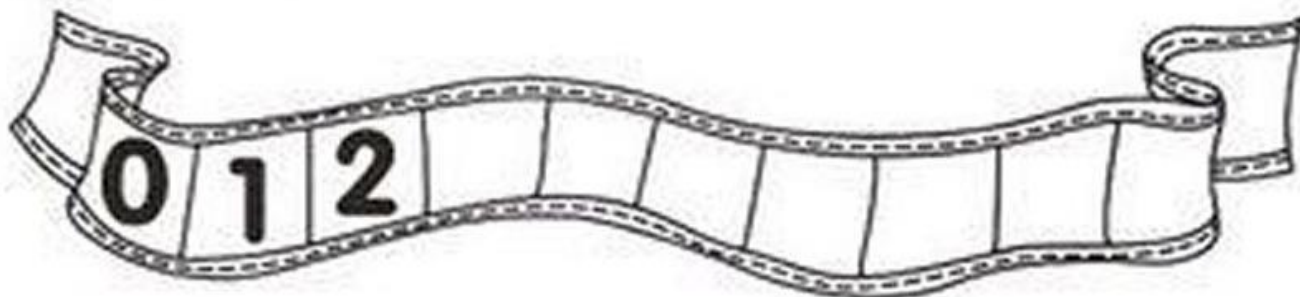



QUAL É A SEQÜÊNCIA?

1 COMPLETE AS SEQÜÊNCIAS NUMÉRICAS ABAIXO DE ACORDO COM O QUE SE PEDE.

A) DE 1 EM 1



B) DE 2 EM 2



C) DE 3 EM 3



Multiplicação – Adição de parcelas iguais



Nasceram 4 flores em cada vaso.




Quantas flores há nos 3 vasos?

Adição $4 + 4 + 4 = 12$


Multiplicação $3 \times 4 = 12$

Lê-se 3 vezes 4 é igual a 12

No total há 12 flores.



Completa



$$1 + \square + \square + \square = \square$$

4 vezes _____ é igual a _____


$$\square \times \square = \square$$



$$\square + \square + \square = \square$$

_____ vezes _____ é igual a _____


$$\square \times \square = \square$$



$$4 + \square + \square + \square = \square$$

4 vezes _____ é igual a _____

$$4 \times 4 = \square$$



$$\square + \square + \square = \square$$

_____ vezes _____ é igual a _____

$$\square \times \square = \square$$

NOÇÕES DE POSIÇÃO E LOCALIZAÇÃO

MARQUE UM X NO ITEM COM A RESPOSTA CORRETA.

JOGADOR QUE ESTÁ DO LADO DIREITO DE MARCOS É:

WILTON KENDALL

O GAROTO ESTÁ COM QUAL PERNA ENGESSADA?

ESQUERDA DIREITA



QUANDO DESEJAMOS IR A ALGUM LUGAR, OU INDICAR UM CAMINHO, USAMOS AS EXPRESSÕES:



À ESQUERDA



À DIREITA



PARA CIMA





PARA BAIXO

VOCÊ É DESTRO OU CANHOTO?

AS PESSOAS DESTRAS FAZEM A MAIOR PARTE DE SUAS ATIVIDADES COM O LADO **DIREITO** DO CORPO. JÁ OS CANHOTOS, COM O LADO **ESQUERDO**.
E VOCÊ? É DESTRO OU CANHOTO?



8 - OS DIAS DA SEMANA TÊM UMA ORDEM. ENUMERE, RECORTE E COLE DE ACORDO.



SEGUNDA-FEIRA

SEXTA-FEIRA

QUARTA-FEIRA

SÁBADO

TERÇA-FEIRA

QUINTA-FEIRA

DOMINGO



UMA SÉRIE NA NETFLIX TEM 14 EPISÓDIOS NA PRIMEIRA TEMPORADA E 19 NA SEGUNDA. A SÉRIE TÊM QUANTOS EPISÓDIOS AO TODO?

aprenderebrincar.com

RESPOSTA: _____



A MÃE DE DANI CONVIDOU 35 AMIGOS PARA SUA FESTA DE ANIVERSÁRIO. MAS 12 NÃO PUDERAM IR. QUANTOS AMIGOS FORAM?

aprenderebrincar.com

RESPOSTA: _____



CARLOS FOI PESCAR COM SEU PAI. ELES PEGARAM 14 PEIXES AO TODO. CARLOS PEGOU 5. QUANTOS PEIXES SEU PAI PESCOU?

aprenderebrincar.com

RESPOSTA: _____



HELOISA ESTÁ LENDO UM LIVRO COM 64 PÁGINAS. ELA JÁ LEU 11. QUANTAS PÁGINAS AINDA FALTAM?

aprenderebrincar.com

RESPOSTA: _____

Sistema Monetário

OBSERVE A QUANTIA DE CADA CRIANÇA E RESOLVA.

LUANA



DAVI



1 - QUEM TEM MAIS DINHEIRO?

2 - QUANTO TEM DAVI?

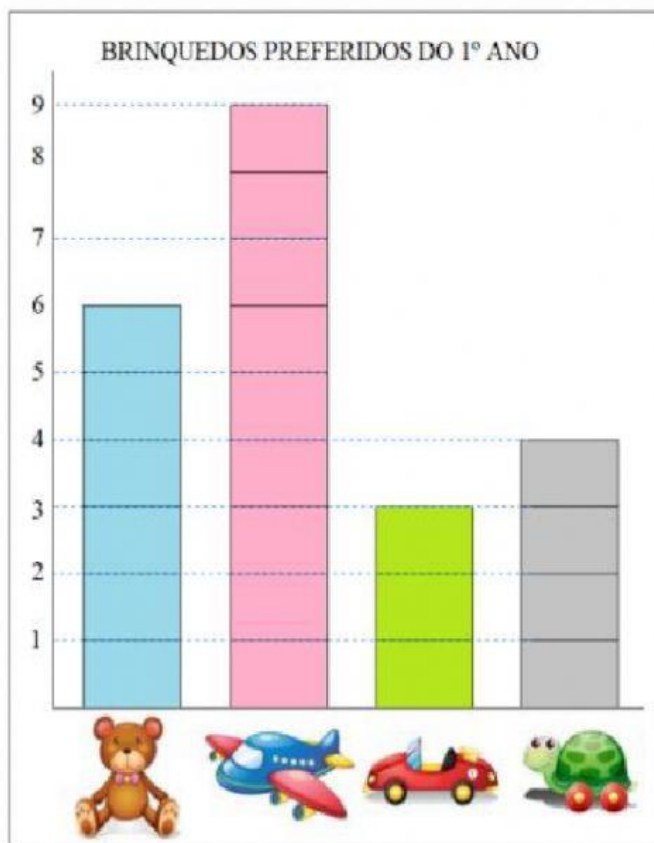
3 - QUANTO TEM LUANA TEM A MAIS QUE DAVI?

4 - QUANTO FALTA PARA DAVI COMPLETAR



?

OS ALUNOS DO PRIMEIRO ANO FIZERAM UMA PESQUISA SOBRE QUAIS ERAM OS BRINQUEDOS PREFERIDOS DA TURMA, COM AS RESPOSTAS ELES MONTARAM UM GRÁFICO.



COM AS INFORMAÇÕES DO GRÁFICO VAMOS COMPLETAR A TABELA ABAIXO E RESPONDER ALGUMAS PERGUNTAS.

1- COMPLETE A TABELA COM O NÚMERO DE CRIANÇAS QUE ESCOLHERAM CADA BRINQUEDO.

BRINQUEDO	NÚMERO DE CRIANÇAS
URSO	
AVIÃO	
CARRO	
TARTARUGA	

2- QUAL FOI O BRINQUEDO MAIS VOTADO?

3- QUAL A DIFERENÇA DE VOTOS ENTRE O URSO E O CARRO?

4- QUANTAS CRIANÇAS PARTICIPARAM DA PESQUISA?





Geografia

► A comunidade onde vivemos


Leia:

Geralmente, as **pessoas** procuram viver **em grupo** e gostam da companhia dos familiares e dos amigos.

Um **grupo de pessoas** que vivem em um mesmo local, trabalhando, divertindo-se ou realizando atividades juntas forma uma **comunidade**.

Em uma comunidade as pessoas dependem umas das outras.

► Cite algumas formas de colaborar com a sua comunidade:



AR, ÁGUA E SOLO

O nosso planeta, apesar de ser chamado Terra, é formado de três grandes componentes indispensáveis à sobrevivência de todos os seres vivos: a água, o ar e o solo.

Cada um desses componentes possui características próprias e ambientes bem distintos entre si, que se tornam importantes reservatórios necessários à vida.

A inter-relação entre o solo, a água e o ar é grande, de modo que, quando algo acontece com um deles, acaba afetando o outro.



LIGUE-SE NESTA!

- 1) Faça uma pesquisa sobre importância da água, do solo e do ar em nossa vida e anote no seu respectivo quadro.

ÁGUA

É IMPORTANTE
PORQUE:

AR

É IMPORTANTE
PORQUE:

SOLO


É IMPORTANTE
PORQUE:








COISAS DA NATUREZA

1 Encaixe as palavras do quadro no diagrama.

 Dica: Observe a figura e a quantidade de letras.

água – chuva – sol – frutas
terra – animais – plantas



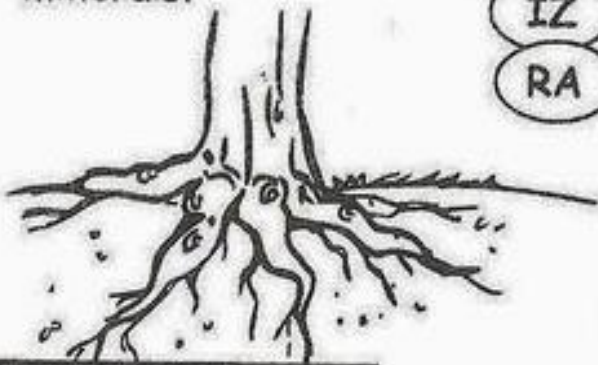
							
							
							
							
							
							
							

Ciências Naturais

► Partes das plantas

► Descubra as partes e escreva.

♦ Fixa a planta no solo. Também retira da terra água e sais minerais.



IZ

RA

♦ Sustenta os galhos com as folhas, flores e os frutos.



LE

CAU


♦ São responsáveis pela reprodução de muitas plantas. São elas que originam os frutos.



RES

FLO

♦ Contêm as sementes, que darão origem a outras plantas.



TOS

FRU

♦ Produzem o alimento da planta.



LHAS

FO


AS PLANTAS

O conjunto de plantas de uma região é chamado de **flora**.
As plantas também são seres vivos. Veja como elas são diferentes umas das outras.

Vamos conhecer algumas plantas?




Árvores



Flores



Gramma




Verduras

COMO NASCEM OS ANIMAIS

OVÍPAROS: São animais que botam ovos e dos ovos nascem seus filhotes.


• Observe os desenhos e conte o que aconteceu.



✎ Escreva nomes de dois animais que nascem de ovos.

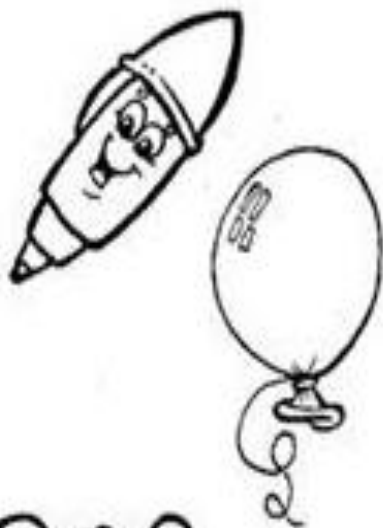
VIVÍPAROS: São animais que desenvolvem e nascem de dentro da barriga da mãe.

• Observe as cenas e diga o que aconteceu.



✎ Escreva nomes de outros animais que nascem da barriga da mãe.

PROCURE NO QUADRO ABAIXO NOMES DE SERES VIVOS E DOS SERES NÃO-VIVOS CONFORME OS DESENHOS.



G	A	T	O	E	P	F	G	H
I	J	C	A	N	E	T	A	K
L	M	N	O	P	D	Q	R	S
C	A	C	H	O	R	R	O	U
B	A	L	Ã	O	A	V	X	Y
W	B	O	N	E	C	A	Z	A
C	D	S	A	P	O	E	F	G
H	I	M	E	N	I	N	A	J
K	L	M	N	O	P	Q	R	S

(menina - gato - caneta - pedra - cachorro - balão - boneca - sapo)



ESCREVA OS NOMES DOS SERES VIVOS: _____

ESCREVA OS NOMES DOS SERES NÃO-VIVOS: _____

Ciências

SERES VIVOS E SERES NÃO VIVOS

Encontramos no Meio Ambiente seres vivos e seres não vivos.

Os **seres vivos** são aqueles que têm vida, como as plantas, os animais e as pessoas. Eles nascem, crescem, se reproduzem e morrem.




Os **seres não vivos** são aqueles que não passam pelo processo de nascer, crescer, reproduzir e morrer. Eles apenas existem na natureza ou foram feitos pelo homem.

Exemplo: Rochas, água, nuvem e todos os objetos a nossa volta.



TRAVA - LÍNGUA

1- PROCURE E CIRCULE, TODAS AS PALAVRAS COMEÇADAS COM R



O RATO ROEU
A ROUPA DO REI
DE ROMA



2- AGORA COMPLETE O TEXTO COM AS PALAVRAS FALTOSAS:

O ROEU A ROUPA


DO DE

3- ESCREVA 3 PALAVRAS INICIADAS PELA LETRA R:

FAMÍLIA SILÁBICA DO R.

RA RE RI RO RU RÃO

COMPLETE AS PALAVRAS COM A SÍLABA INICIAL.




____ NOCERONTE



____ MÉDIO



____ DA



____ TO



____ MO



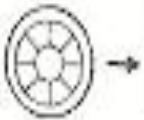
____ DIO



____ POSA



CRUZADINHA LETRA R



			L						
			E						
			T						
			R						
			A						
			A						

RODO	RALO	RÁDIO	RIO	RODA	RUA
RATO	REDE	ROBÔ	ROUPA		

DESAFIO

PINTE O QUE É PEDIDO EM CADA GRUPO.



NOME DE UMA COR	MEIO DE COMUNICAÇÃO	CONTO DE FADA
RODO	RUA	RABANETE
ROXO	RAIO	RAPUNZEL
ROMA	RÁDIO	RELÓGIO
NOME DE UM ALIMENTO	NOME DE PESSOA	NOME DE FRUTA
RIACHO	RONALDO	ROMÃ
RÁPIDO	REDE	ROCHA
REPOLHO	RETA	RIO

AGORA É A SUA VEZ. ESCREVA O QUE SE PEDE ABAIXO. LEMBRE-SE DE QUE TODAS AS RESPOSTAS DEVEM COMEÇAR COM A LETRA R.







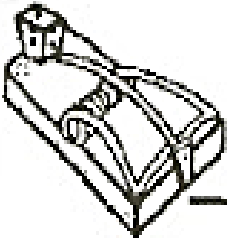
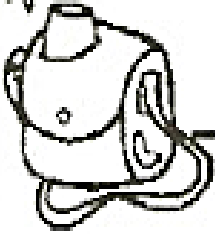

NOME DE UM MATERIAL ESCOLAR

NOME DE UMA PESSOA

NOME DE UM BICHO

NOME DE UM LUGAR

Escreva os nomes dos desenhos.



1 - PINTE AS SÍLABAS E ESCREVA O NOME DAS FIGURAS.



CO	TA	LO
BA	RO	RA



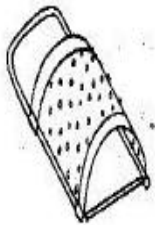
MI	RE	CA
LÓ	LA	GIO



MO	CA	RE
FE	BI	VA



DO	CO	ZA
TE	LE	RO




SA	RA	LU
LO	BI	PO



RÁ	JI	RU
CA	DIO	FE



SO	RA	BU
JE	TO	LA



RON	TE	RI
CE	NO	MI



DU	RE	CA
GA	SA	DOR



SA	VI	BE
CO	RO	CA

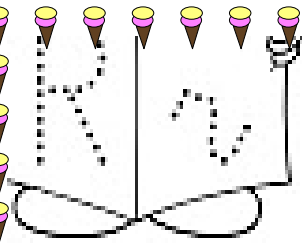


LA	DA	RO
JO	LE	TI





RE	CA	JA
BI	NE	DE

De olho na Consoante R

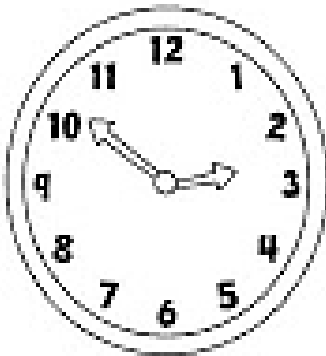


A ROSINHA É MUITO LINDA
PARECE UMA PRINCESINHA.
E VESTIDA DESSE JEITO,
FICOU MESMO UMA GRACINHA.


Gi Barbosa



1. AS CONSOANTES ESCAPARAM DAS PALAVRAS. ENCONTRE-AS E COMPLETE.



_____ ELÓGIO



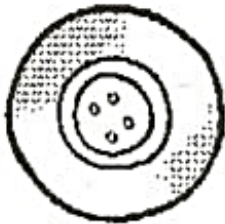
CO _____ AÇÃO



_____ ATO

2. RECORTE E COLE 3 PALAVRAS ONDE APARECE A CONSOANTE R.

DITADO RECORTADO



--	--	--	--



--	--	--	--



--	--	--	--

RODA

RÁDIO

REDE

RAMO

ROUPA

REMO

RIO

REI

RATO

RABO

RALO

RODO

R r

SOU UM RATINHO
MUITO GULOSO
COMO DE TUDO
QUE É GOSTOSO

(MELODIA POMBINHA BRANCA)



1. COMPLETE COM A LETRA R E LEIA:

___ ATO

___ IO


___ UA

___ EMO


___ ETA




2. COMPLETE A PALAVRA COM A CONSOANTE QUE FALTA E DESENHE.



___ ODA



___ OCHA



___ ITA

EM CLÉLIA CARMELO DA SILVA

ATIVIDADES 10

3º BIMESTRE

2º ANO B

PROFESSORA LUCIANA CARDOSO DOMINGUES

AGOSTO 30 e 31.

SETEMBRO 01, 02, 03, 08, 09, 10, 13,14, 16 e 17.

DEVOLUÇÃO 20/09/2021

