


Interpretando texto:


 <p>O cravo ficou doente. A rosa foi visitar. O cravo teve um desmaio. A rosa pôs-se a chorar.</p>	<p style="text-align: center;">O cravo e a rosa</p> <p>O cravo brigou com a rosa Debaixo de uma sacada. O cravo saiu ferido E a rosa despedaçada.</p> <p>A rosa tratou do cravo Com muita dedicação. O cravo abraçou a rosa, Agradecido de coração.</p>
---	--

➤ Qual é o título do texto?

➤ O cravo brigou com quem?

➤ Na briga o cravo ficou ferido e a rosa ficou como?

➤ Quem são?



IBIÚNA, 30 DE AGOSTO DE 2021

- Complete com as palavras que estão faltando:

O cravo brigou com a _____.

Debaixo de uma sacada.

O cravo ficou _____.

E a rosa, _____.

O cravo ficou _____.

A rosa foi visitar.

O cravo teve um _____.

E a rosa pôs-se a _____.

- Escreva um final para esta música, os personagens ficaram amigos?
Escreva sua opinião.

- Quantos versos possui: _____
➤ Quantas estrofes: _____

- Copie do texto palavras com:

BR	CR	GR	TR
-----------	-----------	-----------	-----------

IBIÚNA, 31 DE AGOSTO DE 2021

❖ Componha os números abaixo:

$10 + 1 = \underline{10}$	$20 + 6 =$	$30 + 9 =$
$40 + 3 =$	$50 + 3 =$	$60 + 5 =$
$70 + 1 =$	$80 + 5 =$	$90 + 2 =$
$80 + 2 =$	$20 + 1 =$	$40 + 1 =$
$100 + 20 + 9 =$	$100 + 50 + 3 =$	$200 + 90 + 5 =$
$200 + 40 + 2 =$	$300 + 50 + 1 =$	$300 + 20 + 5 =$
$400 + 30 + 4 =$	$500 + 70 + 7 =$	$600 + 90 + 8 =$
$700 + 80 + 6 =$	$700 + 50 + 6 =$	$800 + 90 + 1 =$
$900 + 10 + 1 =$	$900 + 30 + 9 =$	$900 + 40 + 4 =$

❖ Decomponha os números abaixo:

$12 = \underline{10 + 2}$	$16 =$	$35 =$
$45 =$	$51 =$	$64 =$
$75 =$	$89 =$	$91 =$
$83 =$	$24 =$	$42 =$
$118 =$	$142 =$	$287 =$
$241 =$	$355 =$	$326 =$
$433 =$	$576 =$	$675 =$
$782 =$	$759 =$	$890 =$
$923 =$	$938 =$	$991 =$

LETRA H E DÍGRAFOS LH NH CH

- Leia as palavras do quadro:

HOMEM	CACHORRO	MINHOCA	HORTA
	OLHO	CHUCHU	NINHO
HORA	ORELHA	GALINHA	ALHO

- Copie as palavras separando em sílabas:

HOMEM	CACHORRO	MINHOCA	HORTA

OLHO	CHUCHU	NINHO

HORA	ORELHA	GALINHA	ALHO

- Pinte as palavras que começam com a letra "H".
- Copie as palavras em que a letra "H" não apresenta som.

- Escreva as palavras separando em "NH-CH-LH":

NH	LH	CH

LH - NH - CH

➤ Escreva as letras que estão faltando. Em seguida pinte as letras corretas:



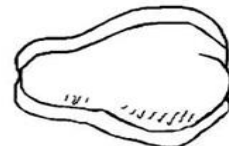
ABE____A

NH	LH	CH
----	----	----



MI____OCA

NH	LH	CH
----	----	----



____U____U

NH	LH	CH
----	----	----



GALI____A

NH	LH	CH
----	----	----



CA____ORRO

NH	LH	CH
----	----	----



NI____O

NH	LH	CH
----	----	----



____UVA

NH	LH	CH
----	----	----



O____O

NH	LH	CH
----	----	----




A____O

NH	LH	CH
----	----	----



JOANI____A

NH	LH	CH
----	----	----



____AVE

NH	LH	CH
----	----	----




COE____O

NH	LH	CH
----	----	----

1 – Complete o mês abaixo.

CALENDÁRIO



ANO: _____

MÊS: _____

DOMINGO	SEGUNDA - FEIRA	TERÇA - FEIRA	QUARTA- FEIRA	QUINTA- FEIRA	SEXTA- FEIRA	SÁBADO

2 – Responda as questões.

- Escreva qual mês você completou:
 - Este mês é de que ano?
 - Qual é o primeiro dia do mês?
 - Quantos dias tem este mês?
 - Quantos dias tem uma semana?
 - Quais são os dias da semana?
-

IBIÚNA, 02 DE SETEMBRO DE 2021

○ TEMPO NO DIA A DIA

1 - DESENHE E ESCREVA O QUE VOCÊ FEZ, O QUE ESTÁ FAZENDO E O QUE IRÁ FAZER:

MANHÃ	TARDE	NOITE

MANHÃ

TARDE

NOITE

RESOLVA OS PROBLEMAS:



➤ QUANTOS SÃO UMA DÚZIA?

➤ QUANTOS SÃO DUAS DÚZIA?

➤ QUANTOS SÃO TRÊS DÚZIA?

RESPOSTA: _____

➤ HEITOR COMPROU UMA DÚZIA DE FLORES, MAS DEU DE PRESENTE PARA SUA FAMÍLIA 6. QUANTOS RESTARAM?

RESPOSTA: _____

IBIÚNA, 03 DE SETEMBRO DE 2021

POEMA:

SETE DE SETEMBRO

**SETE DE SETEMBRO
ÀS MARGENS DO RIO IPIRANGA
UM GRITO DE LIBERDADE
MARCOU NOSSA HISTÓRIA.**

Juliana Gandra

**BRASIL DE D. PEDRO I
NAÇÃO DE UM POVO GUERREIRO
QUE LUTA E NÃO SE CANSA,
SÓ QUE, HOJE, ÀS MARGENS DA ESPERANÇA.**



1- Ache na cruzadinha ao lado as palavras escondidas



2- Agora escreva as palavras que você encontrou aqui:

- 1- _____
- 2- _____
- 3- _____
- 4- _____
- 5- _____
- 6- _____

3- Escolha três palavras e escreva uma frase com cada uma delas:

IBIÚNA, 08 DE SETEMBRO DE 2021

SÍLABA TÔNICA

A sílaba tônica é a sílaba mais forte dentro de uma palavra.

Oxítona: As palavras são oxítonas quando a última sílaba da palavra é a sílaba tônica: Exemplos: café, baú, arroz, assim, feliz, guaraná...

Paroxítonas: As palavras são paroxítonas quando a penúltima sílaba da palavra é a sílaba tônica:

Exemplos: açúcar, bônus, ímpar, júri, menino, tênis, vírus...

Proparoxítonas: As palavras são proparoxítonas quando a antepenúltima sílaba da palavra é a sílaba tônica:

Exemplos: âncora, ótimo, página, época, único, xícara...

➤ Vamos classificar as seguintes palavras. Veja o exemplo:

PALAVRA	SÍLABAS	SÍLABA TÔNICA	CLASSIFICAÇÃO
Separação	Se-pa-ra-ção	ção	oxítona
sabão			
Guaraná			
Pé			
Exercícios			
Vovó			
Sílaba			
Menina			
Pirulito			
Ônibus			
Pássaro			
Animal			

IBIÚNA, 08 DE SETEMBRO DE 2021

➤ Leia as palavras abaixo:

LÍ	QUI	DO	A	BA	CA	XI	JÚ	RI	PA	RA	BÉNS
SÁ	BA	DO	TE	LE	FO	NE	SÓ	TÃO	JA	CA	RÉ
PLÁS	TI	CO	NO	VI	DA	DE	VÍ	RUS	CA	MI	NHÃO

a) Pinte as sílabas que são pronunciadas mais fortemente?

b) Copie as palavras de acordo com a posição da sílaba tônica.

ÚLTIMA SÍLABA ÓXITONAS	PENÚLTIMA SÍLABA PARÓXITONA	ANTEPENÚLTIMA SÍLABA PROPARÓXITONA

c) Observe as palavras, estão faltando os acentos (^ e ´). Descubra qual está faltando em cada palavra e coloque no lugar certo.

ONIBUS	ANIVERSARIO	NOTICIAS	FACIL	VIRUS
ALBUM	IMPAR	TORAX	BEBE	VOCE
CANCER	BONUS	ESTOMAGO	LAMPADA	TENIS

IBIÚNA, 09 DE SETEMBRO DE 2021

❖ Sistema monetário.


The diagram illustrates the Brazilian monetary system with the following items:

- Coins:**
 - RS 0,05 (Cinco centavos) - Silver coin
 - RS 0,10 (Dez centavos) - Silver coin
 - RS 0,25 (Vinte e cinco centavos) - Gold coin
 - RS 0,50 (Cinquenta centavos) - Silver coin
 - RS 1,00 (Um real) - Yellow and silver coin
- Banknotes:**
 - RS 2,00 (Dois reais) - Blue banknote
 - RS 5,00 (Cinco reais) - Purple banknote
 - RS 10,00 (Dez reais) - Red banknote
 - RS 20,00 (Vinte reais) - Orange banknote
 - RS 50,00 (Cinquenta Reais) - Yellow banknote
 - RS 100,00 (Cem Reais) - Light blue banknote


❖ Desenhe como você pagaria:




85,00



1,20



450,00



IBIÚNA, 09 DE SETEMBRO DE 2021

COMPLETE A TABUADA ABAIXO:

$1 \times 1 = \dots$

$1 \times 2 = \dots$

$1 \times 3 = \dots$

$1 \times 4 = \dots$

$1 \times 5 = \dots$

$1 \times 6 = \dots$

$1 \times 7 = \dots$

$1 \times 8 = \dots$

$1 \times 9 = \dots$

$1 \times 10 = \dots$

$2 \times 1 = \dots$

$2 \times 2 = \dots$

$2 \times 3 = \dots$

$2 \times 4 = \dots$

$2 \times 5 = \dots$

$2 \times 6 = \dots$

$2 \times 7 = \dots$

$2 \times 8 = \dots$

$2 \times 9 = \dots$

$2 \times 10 = \dots$

$3 \times 1 = \dots$

$3 \times 2 = \dots$

$3 \times 3 = \dots$

$3 \times 4 = \dots$

$3 \times 5 = \dots$

$3 \times 6 = \dots$

$3 \times 7 = \dots$

$3 \times 8 = \dots$

$3 \times 9 = \dots$

$3 \times 10 = \dots$

$4 \times 1 = \dots$

$4 \times 2 = \dots$

$4 \times 3 = \dots$

$4 \times 4 = \dots$

$4 \times 5 = \dots$

$4 \times 6 = \dots$

$4 \times 7 = \dots$

$4 \times 8 = \dots$

$4 \times 9 = \dots$

$4 \times 10 = \dots$

$5 \times 1 = \dots$

$5 \times 2 = \dots$

$5 \times 3 = \dots$

$5 \times 4 = \dots$

$5 \times 5 = \dots$

$5 \times 6 = \dots$

$5 \times 7 = \dots$

$5 \times 8 = \dots$

$5 \times 9 = \dots$

$5 \times 10 = \dots$

$6 \times 1 = \dots$

$6 \times 2 = \dots$

$6 \times 3 = \dots$

$6 \times 4 = \dots$

$6 \times 5 = \dots$

$6 \times 6 = \dots$

$6 \times 7 = \dots$

$6 \times 8 = \dots$

$6 \times 9 = \dots$

$6 \times 10 = \dots$

$7 \times 1 = \dots$

$7 \times 2 = \dots$

$7 \times 3 = \dots$

$7 \times 4 = \dots$

$7 \times 5 = \dots$

$7 \times 6 = \dots$

$7 \times 7 = \dots$

$7 \times 8 = \dots$

$7 \times 9 = \dots$

$7 \times 10 = \dots$

$8 \times 1 = \dots$

$8 \times 2 = \dots$

$8 \times 3 = \dots$

$8 \times 4 = \dots$

$8 \times 5 = \dots$

$8 \times 6 = \dots$

$8 \times 7 = \dots$

$8 \times 8 = \dots$

$8 \times 9 = \dots$

$8 \times 10 = \dots$

$9 \times 1 = \dots$

$9 \times 2 = \dots$

$9 \times 3 = \dots$

$9 \times 4 = \dots$

$9 \times 5 = \dots$

$9 \times 6 = \dots$

$9 \times 7 = \dots$

$9 \times 8 = \dots$

$9 \times 9 = \dots$

$9 \times 10 = \dots$

$10 \times 1 = \dots$

$10 \times 2 = \dots$

$10 \times 3 = \dots$

$10 \times 4 = \dots$

$10 \times 5 = \dots$

$10 \times 6 = \dots$


$10 \times 7 = \dots$

$10 \times 8 = \dots$

$10 \times 9 = \dots$

$10 \times 10 = \dots$

Interpretando texto:




A ESTRELA
(Manuel Bandeira)


Vi uma estrela tão alta,
Vi uma estrela tão fria!
Vi uma estrela luzindo
Na minha vida vazia.

Era uma estrela tão alta!
Era uma estrela tão fria!
Era uma estrela sozinha
Luzindo no fim do dia.

Por que da sua distância
Para a minha companhia
Não baixava aquela estrela?
Por que tão alto luzia?

E ouvi-a na sombra funda
Responder que assim fazia
Para dar uma esperança
Mais triste ao fim do meu dia.



 WWW.PEQUENOSGRANDESPENSANTES.COM.BR

➤ Esse tipo de texto é:

() Poesia

() Fábula

() Carta

() Receita

➤ Quantas estrofes tem essa poesia?

➤ Escreva quantos versos tem?

➤ Procure no texto as palavras que rimam com:

- Fria – _____


IBIÚNA, 10 DE SETEMBRO DE 2021


➤ Qual é o nome do autor do texto:


➤ Procure no texto e complete as frases com as palavras que estão faltando:

- Era uma estrela _____
- Era uma estrela _____
- Era uma estrela _____
- Luzindo no _____

➤ Crie uma frase para cada imagem abaixo:









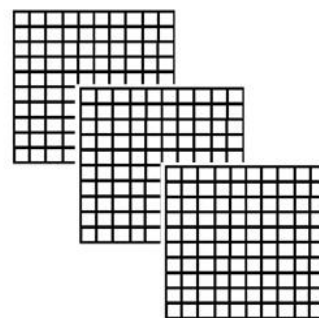
IBIÚNA, 13 DE SETEMBRO DE 2021

➤ Complete a tabela com os números que estão faltando:

300			303				307	308	309
310			313	314					
					325	326	327	328	329
330	331	332	333	334					
340									
350	351	352			355	356	357	358	359
								368	369
370			373	374			377		
380	381	382							389
390				394	395	396	397	398	399

➤ Escreva os números a seguir em algarismos:

- Trezentos
- Trezentos e um
- Trezentos e vinte e oito
- Trezentos e trinta e quatro
- Trezentos e quarenta e dois
- Trezentos e cinquenta
- Trezentos e oitenta e dois
- Trezentos e noventa e três



300
3 centenas

➤ Escreva o antecessor(antes) e o sucessor(depois) dos números abaixo:

	301	
--	-----	--

	348	
--	-----	--

	312	
--	-----	--

	356	
--	-----	--

	330	
--	-----	--

















	387	
--	-----	--

















	322	
--	-----	--

	392	
--	-----	--

IBIÚNA, 13 DE SETEMBRO DE 2021

CENTENAS, DEZENAS E UNIDADES COM A FAMÍLIA DO 300 (TREZENTOS)


300	301	302	303	304	305	306	307	308	309
310	311	312		314	315	316		318	319
320	321		323	324		326	327		329
330		332	333		335	336	337	338	339
340	341		343	344	345		347	348	349
	351	352	353	354		356	357	358	
360	361	362	363	364	365	366	367	368	369
370		372	373	374	375	376		378	379
380	381	382		384	385	386	387	388	389
390	391	392	393	394	395		397	398	399

	<input type="text"/>		<input type="text"/>		<input type="text"/>		<input type="text"/>
	<input type="text"/>		<input type="text"/>		<input type="text"/>		<input type="text"/>
	<input type="text"/>		<input type="text"/>		<input type="text"/>		<input type="text"/>
	<input type="text"/>		<input type="text"/>		<input type="text"/>		<input type="text"/>

IBIÚNA, 14 DE SETEMBRO DE 2021

DIÁRIO

1 – Observe a capa do livro e responda as questões:



ZIRALDO. Diário da julieta: as histórias mais secretas da Menina Maluquinha. São Paulo: Global,2010

a) Qual é o título do livro?

b) Qual é o subtítulo?

c) Qual é o nome do autor?

d) Qual é o nome da editora desse livro?

e) Qual é a personagem principal desta história?

f) Qual é o ano de publicação? _____

g) Aonde foi publicado? () Rio de Janeiro () São Paulo

h) Geralmente os diários são: () Públicos () Secretos

R OU RR


➤ Escreva as letras que estão faltando. Em seguida pinte as letras corretas:



GUIA__A

R

RR



CA__O

R

RR



JA__A

R

RR



MACA__ÃO

R

RR



JACA__É

R


RR



CACHO__O

R


RR



BESOU__O

R


RR



CA__TEI__A

R

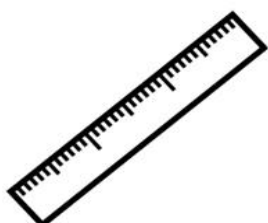
RR



CA__OÇA

R

RR



__ÉGUA

R

RR



CADEI__A

R

RR



__AQUETE

R

RR

IBIÚNA, 16 DE SETEMBRO DE 2021

ELEMENTOS GEOGRÁFICOS CONTIDOS NA RUA

- IDENTIFIQUE NO QUADRO A SEGUIR, ALGUMAS CARACTERÍSTICAS E ELEMENTOS GEOGRÁFICOS DA SUA RUA:

LARGA		COM POSTES E ILUMINAÇÃO	
ESTREITA		COM PRÉDIOS	
COM MERCADO		TRANQUILA	
MOVIMENTADA		COM ESCOLAS	
COM VÁRIAS MORADIAS		LONGA	
SEM ASFALTO		COM LOJAS	
CURTA		ASFALTADA	

- ESCREVA ABAIXO CARACTERÍSTICAS DE SUA RUA:

- VOCÊ CONHECE ALGUÉM QUE MORA NA SUA RUA? ESCREVA ABAIXO:

- DESENHE COMO É A SUA RUA:



IBIÚNA, 16 DE SETEMBRO DE 2021

Palavras com “BRA, BRE, BRI, BRO, BRU, BRÃO”



PESQUISE MAIS PALAVRAS COM ESTAS SÍLABAS E
ESCREVA ABAIXO:

S OU SS

➤ Escreva a letra que está faltando. Em seguida pinte as letras corretas:



VA ___ OURA

S	SS
---	----



VA ___ O

S	SS
---	----



___ ACOLA

S	SS
---	----




PÁ ___ ARO

S	SS
---	----



GIRA ___ OL

S	SS
---	----



RO ___ A

S	SS
---	----



CA ___ A

S	SS
---	----



ME ___ A

S	SS
---	----



PÊ ___ EGO

S	SS
---	----



TRAVE ___ EIRO

S	SS
---	----



CARRO ___ EL

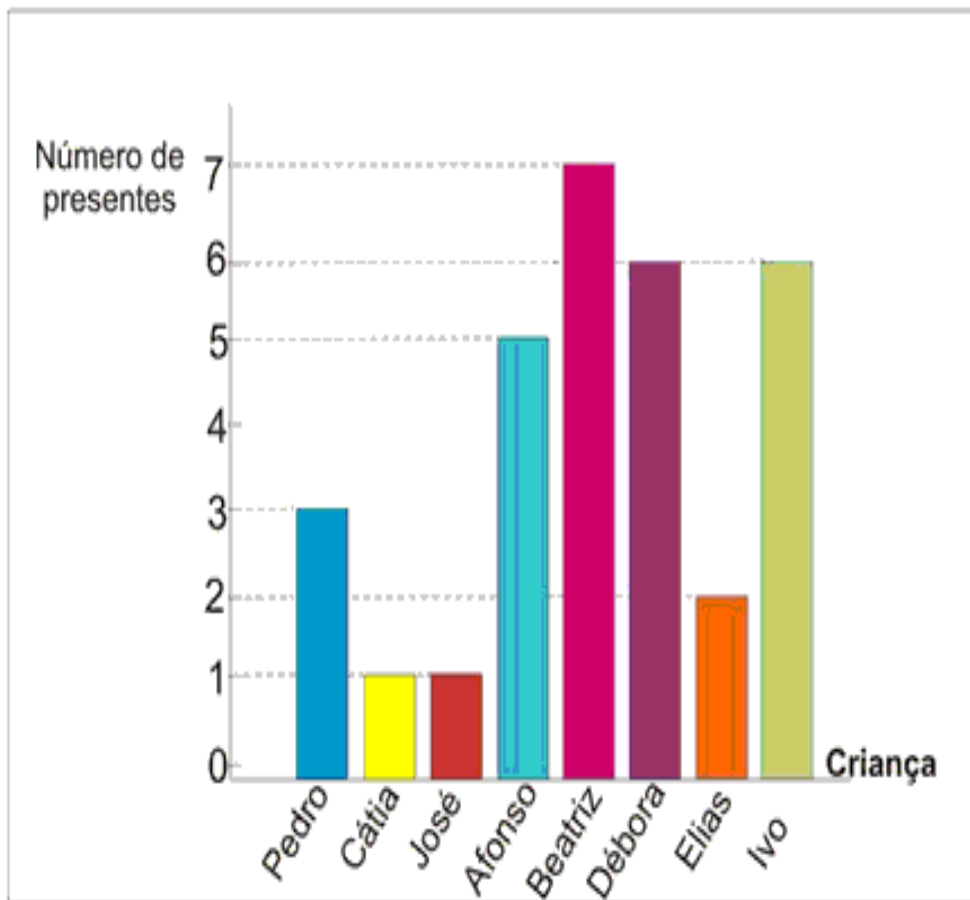
S	SS
---	----



TE ___ OURA

S	SS
---	----

1. O gráfico corresponde ao número de presentes que cada criança ganhou no Natal do ano passado. Observe - o e responda as questões.



a) Qual criança ganhou mais presentes?

b) Quais crianças ganharam menos presentes?

c) Quantos presentes Beatriz e Ivo ganharam juntos?

d) Quais crianças ganharam a mesma quantidade de presentes?



REFERÊNCIAS

SITES:

- ✓ <https://www.educacaoetransformacao.com.br/wp-content/uploads/2017/09/atividades-de-matematica-3-ano-grafico.png>
- ✓ <https://amorensina.com.br/independencia-poema-e-atividades-3-ano/>
- ✓ <http://www.professorzezinhoramos.com/2013/07/tabuada-para-imprimir.html>
- ✓ www.mestredosaber.com.br
- ✓ @atividadaesanosiniciais

PDF:

- ✓ atividades domiciliares PDF apostila IV 3ºano- Ensino Fundamental- Prefeitura Municipal de São Vicente;
- ✓ atividades domiciliares PDF apostila V 3ºano- Ensino Fundamental-Prefeitura Municipal de São Vicente;
- ✓ PDF – apostila de atividades ABC21
- ✓ PDF- apostila de matemática- alfabetinho ABC -atividades para alfabetização