

IBIÚNA, 30 DE AGOSTO DE 2021

O CRAVO E A ROSA

O CRAVO BRIGOU COM A ROSA.
DEBAIXO DE UMA SACADA.

O CRAVO SAIU FERIDO
E A ROSA DESPEDAÇADA.



O CRAVO FICOU DOENTE.

A ROSA FOI VISITAR.

O CRAVO TEVE UM DESMAIO.

A ROSA PÔS – SE A CHORAR.

IBIÚNA, 30 DE AGOSTO DE 2021

LEIA E RESPONDA:

QUEM BRIGOU COM A ROSA?

QUEM SAIU FERIDO?


QUEM SAIU DESPEDAÇADA?

QUEM FICOU DOENTE?

QUEM FOI VISITAR?

QUEM TEVE UM DESMAIO?

QUEM COMEÇOU A CHORAR?



QUAL É O RESULTADO?

1 – RESOLVA AS OPERAÇÕES DE SUBTRAÇÃO E, DEPOIS PINTE O RESULTADO CERTO:

10 - 1	8
	9
	10

10 - 7	17
	3
	4

8 - 8	16
	0
	18

16 - 2	10
	14
	12

19 - 1	16
	20
	18

7 - 6	18
	13
	12

12 - 3	7
	9
	8

10 - 9	1
	2
	3

6 - 6	19
	0
	12

10 - 4	10
	4
	6

10 - 10	1
	00
	2

15 - 5	12
	10
	15


11 - 11	00
	22
	23










11 - 6	11
	6
	5

12 - 12	00
	24
	22



CONTE E ESCREVA A QUANTIDADE DE CADA IMAGEM



	<input type="text"/>		<input type="text"/>		<input type="text"/>
	<input type="text"/>		<input type="text"/>		<input type="text"/>
	<input type="text"/>		<input type="text"/>		<input type="text"/>


LH - NH - CH

➤ Escreva as letras que estão faltando. Em seguida pinte as letras corretas:



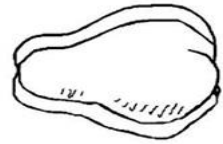
ABE__A

NH	LH	CH
----	----	----



MI__OCA

NH	LH	CH
----	----	----



__U__U

NH	LH	CH
----	----	----



GALI__A

NH	LH	CH
----	----	----



CA__ORRO

NH	LH	CH
----	----	----



NI__O

NH	LH	CH
----	----	----



__UVA

NH	LH	CH
----	----	----



O__O

NH	LH	CH
----	----	----




A__O

NH	LH	CH
----	----	----



JOANI__A

NH	LH	CH
----	----	----



__AVE

NH	LH	CH
----	----	----



COE__O

NH	LH	CH
----	----	----

REFERÊNCIAS

Sites:

- ✓ <https://amorensina.com.br/>
- ✓ @atividadesanosiniciais

PDF:

- ✓ atividades 3ºano PDF prefeitura municipal de Fundão estado do espirito santo, secretária municipal de educação e sistema municipal de ensino 2021. 1º Bloco de atividades ensino fundamental I;
- ✓ atividades domiciliares PDF apostila II 3ºano- Ensino Fundamental- Prefeitura Municipal de São Vicente;

IBIÚNA, 01 DE SETEMBRO DE 2021

1 – Complete o mês abaixo.

CALENDÁRIO



ANO: _____

MÊS: _____

DOMINGO	SEGUNDA - FEIRA	TERÇA - FEIRA	QUARTA- FEIRA	QUINTA- FEIRA	SEXTA- FEIRA	SÁBADO

2 – Responda as questões.

a. Escreva qual mês você completou:

b. Este mês é de que ano?

c. Qual é o primeiro dia do mês?

d. Quantos dias tem este mês?

e. Quantos dias tem uma semana?

f. Quais são os dias da semana?

○ TEMPO NO DIA A DIA

1 - DESENHE E ESCREVA O QUE VOCÊ FEZ, O QUE ESTÁ FAZENDO E O QUE IRÁ FAZER:

MANHÃ	TARDE	NOITE

MANHÃ

TARDE

NOITE

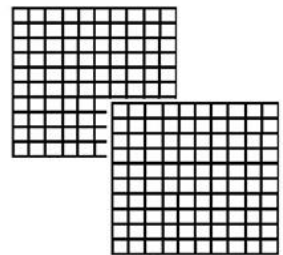
IBIÚNA, 02 DE SETEMBRO DE 2021

➤ Complete a tabela com os números que estão faltando:

200			203				207	208	209
210			213	214					
					225	226	227	228	229
230	231	232	233	234					
240									
250			253	254	255				259
								268	269
270			273	274			277		
	281	282							289
290				294	295	296	297	298	299

➤ Escreva os números a seguir em algarismos:

- Duzentos
- Duzentos e quatro
- Duzentos e trinta e oito
- Duzentos e quarenta e dois
- Duzentos e cinquenta e nove
- Duzentos e setenta e três
- Duzentos e oitenta e cinco
- Duzentos e noventa e nove



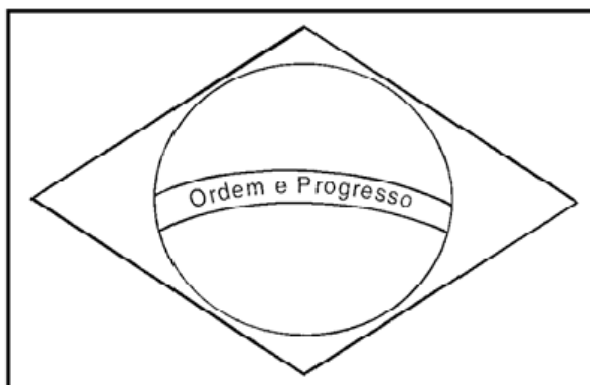
200
2 centenas

➤ Escreva o antecessor(antes) e o sucessor(depois) dos números abaixo:

<input type="text"/>	203	<input type="text"/>
<input type="text"/>	255	<input type="text"/>
<input type="text"/>	262	<input type="text"/>
<input type="text"/>	277	<input type="text"/>

<input type="text"/>	286	<input type="text"/>
<input type="text"/>	289	<input type="text"/>
<input type="text"/>	290	<input type="text"/>
<input type="text"/>	299	<input type="text"/>

7 DE SETEMBRO - INDEPENDÊNCIA DO BRASIL



ESSA É A BANDEIRA DO

AS CORES DA BANDEIRA SÃO:

QUANTAS CORES SÃO?

O QUE ESTÁ ESCRITO NA BANDEIRA?

HINO DA INDEPENDÊNCIA DO BRASIL

TRECHO DA MÚSICA DE EVARISTO DA VEIGA

LETRA DE D. PEDRO I

JÁ PODEIS, DA PÁTRIA FILHOS,
VER CONTENTE A MÃE GENTIL;
JÁ RAIOU A LIBERDADE
NO HORIZONTE DO BRASIL.



BRAVA GENTE BRASILEIRA!
LONGE VÁ... TEMOR SERVIL:
OU FICAR A PÁTRIA LIVRE
OU MORRER PELO BRASIL.

VAMOS ENCONTRAR AS PALAVRAS SUBLINHADAS!

W	E	P	Á	T	R	I	A	R	T	Y	U	I
L	I	B	E	R	D	A	D	E	P	A	S	D
G	H	O	R	I	Z	O	N	T	E	H	J	K
Z	X	B	R	A	S	I	L	E	I	R	A	X
V	B	N	M	L	I	V	R	E	Q	A	Z	W
X	B	R	A	S	I	L	E	D	C	R	F	V

Aumentativo: ão

1 – Leia e pinte a palavra que indica algo grande.

CACHORRÃO

SAPATÃO

2 – Pinte a parte igual das palavras abaixo.

JANELÃO

PEZÃO

DADÃO

CABELÃO

Observe que as palavras terminam com a terminação -ÃO, isso quer dizer que as palavras indicam algo GRANDE.

Lembrando que existem várias terminações para explicar quando é algo grande, mas hoje vamos aprender as palavras que terminam com ão.

Vamos conhecer outras palavras que não indicam algo grande, mas terminam com ão.

3 – Assinale as palavras com a terminação -ão que não indica, algo pequeno.

() IRMÃO () SABÃO () MACARRÃO


4 – Escreva os aumentativos das palavras abaixo. Veja o modelo:

Dado grande: Dadão

Carro grande:	
Gato grande:	
Peixe grande:	
Livro grande:	
Menino grande:	
Nariz grande:	
Casa grande:	
Sapato grande:	
Sacola grande:	
Bola grande:	

5 – Reescreva as frases substituindo os desenhos por palavras aumentativas:

• O  pulou na lagoa •



• O  é bonito •

• O  é da menina •

• O  gosta de leite •

• O  é pequeno •

6 – Escreva o aumentativo das imagens abaixo:



OBSERVE A QUANTIA DE CADA CRIANÇA E RESOLVA.

LUANA



DAVI



1 - QUEM TEM MAIS DINHEIRO?

2 - QUANTO TEM DAVI?

3 - QUANTO TEM LUANA TEM A MAIS QUE DAVI?

CONTINHAS DE ADIÇÃO

D	U
3	7
+ 1	3

D	U
2	2
+ 3	4

D	U
4	5
+ 5	2

D	U
7	9
+ 1	0

D	U
6	5
+ 2	1



D	U
8	6
+ 1	3

D	U
7	0
+ 2	0

D	U
6	4
+ 1	4

D	U
2	9
+ 2	0

D	U
5	6
+ 3	1

D	U
4	2
+ 4	0



D	U
7	2
+ 1	0

D	U
3	8
+ 1	1

D	U
6	0
+ 1	4

danieducar

ESCREVA O NOME DE CADA ANIMAL ABAIXO:



ANTECESSOR (ANTES) SUCESSOR (DEPOIS)

1 – ESCREVA O ANTECESSOR DOS NÚMEROS ABAIXO:

_____14

_____47

_____17

_____51

_____19

_____62

_____27

_____73

_____30

_____89

_____31

_____97

2 – ESCREVA O SUCESSOR DOS NÚMEROS ABAIXO:

17_____

72_____

24_____

83_____

39_____

89_____

41_____

93_____

52_____



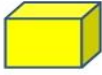













97_____

















68_____

99_____



DESCUBRA NO QUADRO QUAIS NÚMEROS QUE ESTÃO FALTANDO:


100	101	102	103	104	105	106	107	108	109
110	111	112		114	115	116		118	119
120	121		123	124		126	127		129
130		132	133		135	136	137	138	139
140	141		143	144	145		147	148	149
	151	152	153	154		156	157	158	
160	161	162	163	164	165	166	167	168	169
170	171	172	173	174	175	176		178	179
180	181	182		184	185	186	187	188	189
190		192	193	194	195		197	198	199

	<input type="text"/>		<input type="text"/>		<input type="text"/>		<input type="text"/>
	<input type="text"/>		<input type="text"/>		<input type="text"/>		<input type="text"/>
	<input type="text"/>		<input type="text"/>		<input type="text"/>		<input type="text"/>
	<input type="text"/>		<input type="text"/>		<input type="text"/>		<input type="text"/>

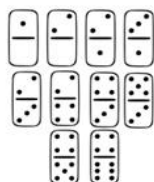
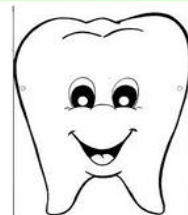
DA – DE – DI – DO – DU - DÃO:



DIAMAN_____



DUM_____



PESQUISE MAIS PALAVRAS COM ESSAS SÍLABAS E COPIE ABAIXO:

ESCOLHA UMA DESTAS PALAVRAS E CRIE UMA FRASE:

R OU RR


➤ Escreva as letras que estão faltando. Em seguida pinte as letras corretas:



GUIA__A

R

RR



CA__O

R

RR



JA__A

R

RR



MACA__ÃO

R

RR



JACA__É

R


RR



CACHO__O

R


RR



BESOU__O

R


RR



CA__TEI__A

R


RR



CA__OÇA

R

RR



__ÉGUA

R

RR



CADEI__A

R

RR



__AQUETE

R

RR

IBIÚNA, 16 DE SETEMBRO DE 2021

ELEMENTOS GEOGRÁFICOS CONTIDOS NA RUA

- IDENTIFIQUE NO QUADRO A SEGUIR, ALGUMAS CARACTERÍSTICAS E ELEMENTOS GEOGRÁFICOS DA SUA RUA:

LARGA		COM POSTES E ILUMINAÇÃO	
ESTREITA		COM PRÉDIOS	
COM MERCADO		TRANQUILA	
MOVIMENTADA		COM ESCOLAS	
COM VÁRIAS MORADIAS		LONGA	
SEM ASFALTO		COM LOJAS	
CURTA		ASFALTADA	

- ESCREVA ABAIXO CARACTERÍSTICAS DE SUA RUA:


- VOCÊ CONHECE ALGUÉM QUE MORA NA SUA RUA? ESCREVA ABAIXO:

- DESENHE COMO É A SUA RUA:




IBIÚNA, 16 DE SETEMBRO DE 2021

1 – Observe com atenção os valores dos brinquedos abaixo.



RS 2,00



RS 0,50




RS 15,00



RS 9,00



RS 2,00



RS 5,00

2 – Escreva o valor de cada brinquedo:

- Qual é o valor da boneca?
- Qual é o valor do dado?
- Qual é o valor do apito?
- Qual é o valor da pipa?
- Qual é o valor do bola?
- Qual é o valor do balão?

3 – Responda as questões:

- Qual dos brinquedos é o mais caro?
- Qual dos brinquedos é o mais barato?
- Quais brinquedos tem o mesmo valor?

4 – Vamos calcular!

$$\text{Whistle} + \text{Kite} = \text{Box}$$

$$2 + 5 =$$

$$\text{Doll} + \text{Balloon} = \text{Box}$$

$$9 + 2 =$$

COMPLETE AS FRASES USANDO O NOME DE CADA IMAGEM:

➤ LEONIR GOSTA DE JOGAR _____.



➤ KETHLYN GOSTA DE BRINCAR DE PASSAR O _____.



➤ SOFIA FOI PASSEAR COM SUA _____.



➤ EDUARDO PLANTOU UMA _____.



➤ FELIPE ESCREVEU EM SEU _____.



➤ JONAS CORREU PARA A _____.





➤ AMANDA CAIU NA _____.



IBIÚNA, 17 DE SETEMBRO DE 2021

GA – **GE** – **GI** – GO – GU – GÃO:



GUS _____



PESQUISE MAIS PALAVRAS COM ESSAS SÍLABAS E COPIE ABAIXO:

ESCOLHA UMA DESTAS PALAVRAS E CRIE UMA FRASE:
