



ATIVIDADES







1) Marque as horas pedidas nos relógios abaixo:

				
1 hora e 30 minutos	3 horas	9 horas	6 horas e 30 minutos	14 horas e meia

2) Observe os relógios que marcam o início da atividade realizada por Mariane e a hora em que ela terminou:

INÍCIO	TÉRMINO	a) Qual o horário em que Mariane começou a sua atividade?
		b) Em que horário ela terminou?
		c) Quanto tempo durou a atividade de Mariane?

3) Quantas horas são?

					
<input type="text"/>	<input type="text"/>	<input type="text"/>	<input type="text"/>	<input type="text"/>	<input type="text"/>

4) Complete a sequência:

1ª sequência

50

250

300

500

2ª sequência

110

120

3ª sequência

15

20


5) Complete a sequência:

				<input type="text"/>	<input type="text"/>	<input type="text"/>	<input type="text"/>	<input type="text"/>	<input type="text"/>	
--	---	---	---	----------------------	----------------------	----------------------	----------------------	----------------------	----------------------	---

CRUZADINHA

• Complete a cruzadinha, escrevendo as palavras que completam as frases abaixo:

1. Anel de casamento ou noivado.
2. Lugar onde o palhaço trabalha.
3. Dar soluços.
4. Diminutivo de moça.
5. Fruto da macieira.
6. Instrumento usado para pesar.
7. Líquido que se usa para retirar o esmalte das unhas.
8. Lugar onde vamos para assistir a um filme.
9. Mulher que faz ou vende doces.
10. O contrário de áspero.
11. O filho mais novo.
12. O mesmo que saboroso, gostoso.
13. O que não está errado.
14. O terceiro dia da semana.
15. Onde se localizam as estrelas.
16. Perguntar o preço.
17. Pessoa que tem dentes grandes.
18. Que foi apanhada pelo caçador.
19. Telefone portátil que levamos para todo lugar.
20. Usa-se para limpar o nariz.



NOME: _____

Avaliação Diagnóstica de Geografia

1) Observe o mapa e responda:



1) Em quantas regiões está dividida o Brasil? E quais são elas?

2) Qual é o estado e a Capital que você mora?

3) Qual é o estado brasileiro com a maior extensão territorial? E com a menor?

4) Qual é a maior região brasileira em extensão territorial? E a menor região?

5) Qual estado está situada a sede, a capital do governo brasileiro?



ALUNO: _____ DATA: _____

PROF^a _____ SÉRIE: _____

COMPOSIÇÃO E DECOMPOSIÇÃO

1. Decomponha os seguintes números:

a) $1.585 =$ _____

b) $1.059 =$ _____

c) $2.440 =$ _____

d) $5.329 =$ _____

e) $8.801 =$ _____

f) $9.999 =$ _____

g) $3.718 =$ _____

h) $6.840 =$ _____

i) $7.504 =$ _____

j) $5.225 =$ _____

l) $4.063 =$ _____

m) $2.597 =$ _____

3. Componha os seguintes números:

a) $1.000 + 1.000 + 400 + 30 + 20 + 8 =$ _____

b) $3.000 + 3.000 + 100 + 10 + 20 + 5 +$ _____

c) $4.000 + 1.000 + 400 + 500 + 10 + 2 =$ _____

d) $2.000 + 1.000 + 500 + 100 + 40 =$ _____

e) $5.000 + 2.000 + 400 + 400 + 3 =$ _____

f) $3.000 + 1.000 + 50 + 10 + 10 + 9 =$ _____

g) $4.000 + 3.000 + 1.000 + 7 =$ _____



NOME: _____ DATA: ____/____/____

1- Leia a tirinha:



2- Responda.

a) A tirinha está fazendo referência a qual Conto de Fadas?

b) Que elementos te levaram a resposta a "a"?

c) Por que motivo Cebolinha se chama de inteligente?

d) O reflexo do espelho foi muito rápido na resposta e saiu correndo. Por quê?

3- Copie da tirinha:

a) Um pronome pessoal do caso reto: _____

b) Um pronome possessivo: _____

4- Corrija a frase:

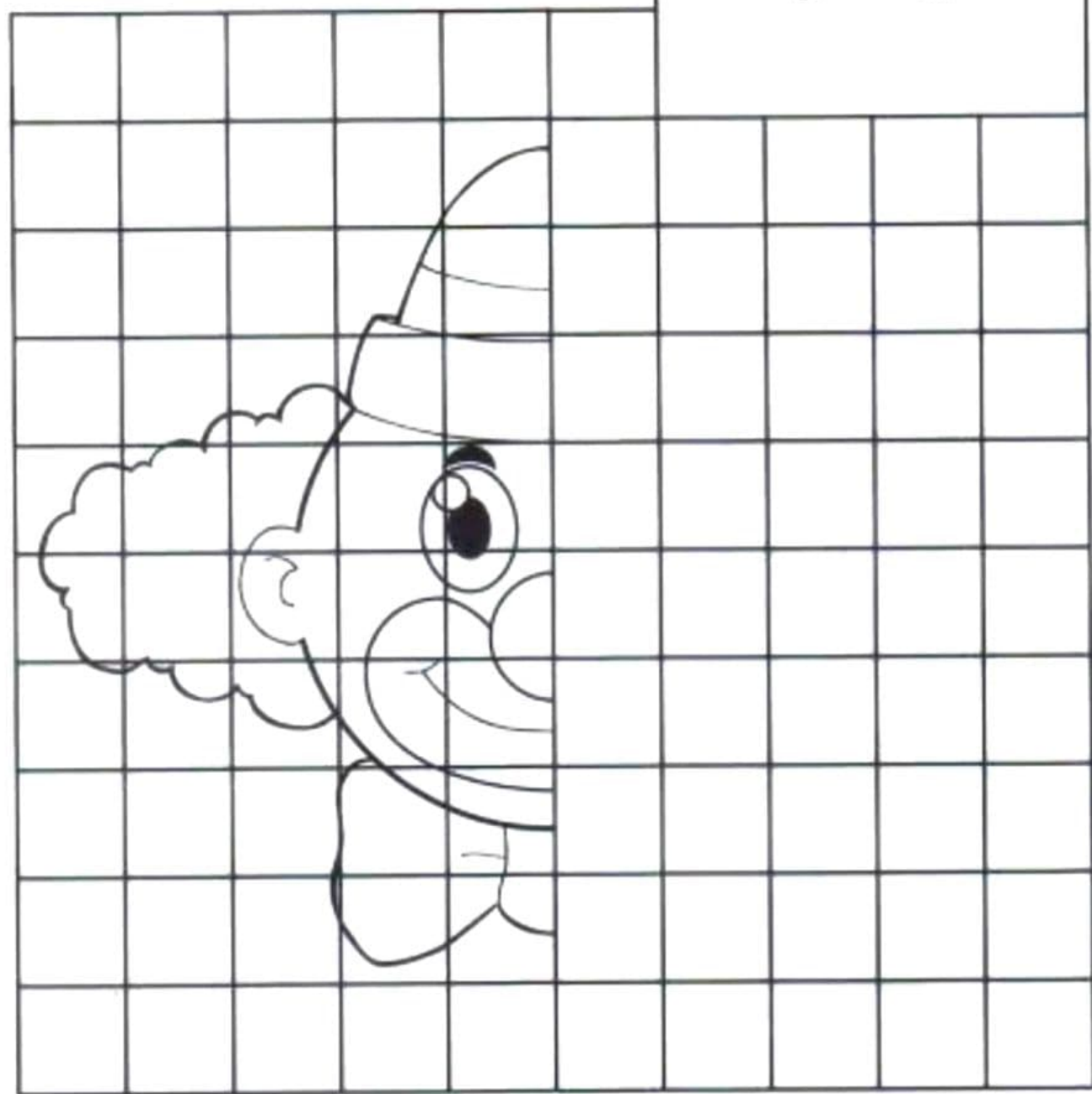
"Boa soltell"



COMPLETANDO

OBSERVE O MODELO. DEPOIS,
COMPLETE O DESENHO.

PALHAÇO



NOME: _____

DATA: ____/____/____

121

10:42 ✓

Aluno: _____



Vamos Dividir!



$9 \overline{) 3}$

$63 \overline{) 3}$

$157 \overline{) 3}$

$699 \overline{) 3}$

$933 \overline{) 3}$

$995 \overline{) 3}$

$320 \overline{) 3}$

$405 \overline{) 3}$

$546 \overline{) 3}$

$650 \overline{) 3}$

$729 \overline{) 3}$

$801 \overline{) 3}$

$729 \overline{) 2}$

$515 \overline{) 2}$

$920 \overline{) 2}$

Produção Textual

Vamos contar uma história seguindo um roteiro. O roteiro nos ajuda a organizar melhor as ideias. Não esqueça o título

- ✓ Quem são essas crianças?
- ✓ Como elas são?
- ✓ O que elas estão fazendo?
- ✓ O que vai acontecer?
- ✓ Como a história vai terminar?



E.M "PROF. YOLANDA AGOSTINHO DE LIMA"

MINHAS ATIVIDADES

NOME: _____

10ª REMESSA: 3º BIMESTRE

DIAS 30/08 ao 17/09/2021

ENTREGAR À ESCOLA DIA 20/09/21

PROF.: JANETE SOARES MENDES

TURMA: 4º ANO A



2021

BOM TRABALHO!