

E.M. JOÃO CARDOSO DE MORAES

APOSTILA N° 10

Atividades Remotas



inspirationporaluciana.com.br

ALUNO (A): _____
ESCOLA: _____
PROFESSOR: Tatiane Olanik

AS BORBOLETAS

BRANCAS
AZUIS
AMARELAS
E PRETAS
BRINCAM
NA LUZ
AS BELAS
BORBOLETAS



BORBOLETAS BRANCAS
SÃO ALEGRES E FRANCAS.



BORBOLETAS AZUIS
GOSTAM MUITO DE LUZ.



AS AMARELINHAS
SÃO TÃO BONITINHAS.

E AS PRETAS ENTÃO...
OH! QUE ESCURIDÃO!

MORAES VINICIUS DE



"A PROFESSORA ANDA MEIO MALUQUINHA E COMETEU SETE ERROS AO DIGITAR A POESIA "AS BORBOLETAS" ERROS. SEJA UM BOM DETETIVE E DESCUBRA QUAIS SÃO:

AS BORBOLETAS

BRANCAS
AZUIS
AMARELAS
E PRETAS
GIRAM
NA LUZ
AS BONITAS
BORBOLETAS



MARIPOSAS BRANCAS
SÃO FELIZES E FRANCAS.



BORBOLETAS AZUIS
GOSTAM MUITO DE SOL.

AS AMARELINHAS
SÃO TÃO PEQUENINHAS.



E AS NEGRAS ENTÃO...
OHI QUE ESCURIDÃO!

COMPLETE A POESIA COM AS PALAVRAS QUE FALTAM:

BRANCAS

AMARELAS

E _____

BRINCAM

NA LUZ

AS _____



BORBOLETAS _____

SÃO _____ E FRANCAS

_____ AZUIS

GOSTAM MUITO

DE _____



AS _____

SÃO TÃO _____

E AS _____ ENTÃO

OHI QUE _____



VINÍCIUS DE MORAES

TROQUE OS NÚMEROS PELAS SÍLABAS E FORME PALAVRAS:

1	2	3	4	5	6	7	8	9	10
BO	LA	LO	TA	CA	JU	MA	PA	RO	VE

1 E 2 _____

2 E 4 _____

7 E 4 _____

7 E 8 _____

5 E 6 _____

8 E 4 _____

10 E 2 _____

9 E 2 _____

1 E 5 _____

INTERPRETAÇÃO DE TEXTO

RESPONDA AS QUESTÕES ABAIXO, DE ACORDO COM O TEXTO LIDO

1) QUAL É O TÍTULO DO TEXTO?

2) QUEM É O AUTOR?

3) ESSE TEXTO É:

() PARLENDAS () TRAVA LÍNGUA () POESIA () LISTA

4) QUAIS SÃO AS CORES DAS BORBOLETAS CITADAS NO TEXTO?

5) COMO É A BORBOLETA AMARELA?

6) DESCREVA A BORBOLETA BRANCA.

7) A BORBOLETA AZUL GOSTA DE _____

8) AS BORBOLETAS GIRAM EM TORNO DE QUÊ?

9) ESCREVA UMA LISTA DE CORES DE BORBOLETAS.

TRAVA LÍNGUAS

_ALÔ, O TATU TAI?
_ NÃO, O TATU NÃO TÁ.
_ MAS A MULHER DO TATU TANDO É MESMO
QUE O TATU TÁ.



GATO ESCONDIDO
COM RABO DE FORA
TÁ MAIS ESCONDIDO
QUE RABO ESCONDIDO
COM GATO DE FORA.



A PATA PEPITA PÔS UM PRATO DE SOPA NA PIA.
O PATO PENETRA PEGOU A SOPA PRA COMER COM
PÃO.
A PATA PEPITA PIANDO, PEDIA:
___ PEGUEM O PATO PAPÃO!



SARA SILVER

OLHA O SAPO DENTRO DO SACO
O SACO COM O SAPO DENTRO
O SAPO BATENDO PAPO
E O PAPO SOLTANDO VENTO.



LEIA O TRAVA LÍNGUA COM ATENÇÃO

A PATA PEPITA PÔS UM PRATO DE SOPA NA PIA.

O PATO PENETRA PEGOU A SOPA PRA COMER COM PÃO.

A PATA PEPITA PIANDO, PEDIA:

___ PEGUEM O PATO PAPÃO!



SARA SILVER

COMPREENSÃO TEXTUAL

1) CIRCULE NO TEXTOS TODAS AS PALAVRAS COM P E COPIE AQUI:

_____	_____	_____
_____	_____	_____
_____	_____	_____
_____	_____	_____
_____	_____	_____

2) INVENTE UM TÍTULO PARA O TRAVA LINGUA.

R: _____

3) QUEM SÃO OS PERSONAGENS?

R: _____

4) QUEM É O AUTOR?

R: _____

5) O QUE A PATA PEPITA COLOCOU NA PIA?

R: _____

6) POR QUE O PATO PEGOU A SOPA?

R: _____

7) COPIE DO TEXTO O QUE A PATA PEPITA PEDIA PIANDO.

8) SE VOCÊ FOSSE A PATA PETITA , O QUE IRIA FAZER COM O PATO LADRÃO?

9) ESCREVA **SEIS** NOMES DE PESSOAS QUE COMECEM COM A **LETRA P**

_____	_____
_____	_____
_____	_____

LEIA OS TRAVAS LÍNGUAS E COMPLETE AS PALAVRAS QUE ESTÃO FALTANDO

OLHA O SAPO DENTRO DO _____


O SACO COM O _____ DENTRO

O SAPO BATENDO _____

E O PAPO _____ VENTO.



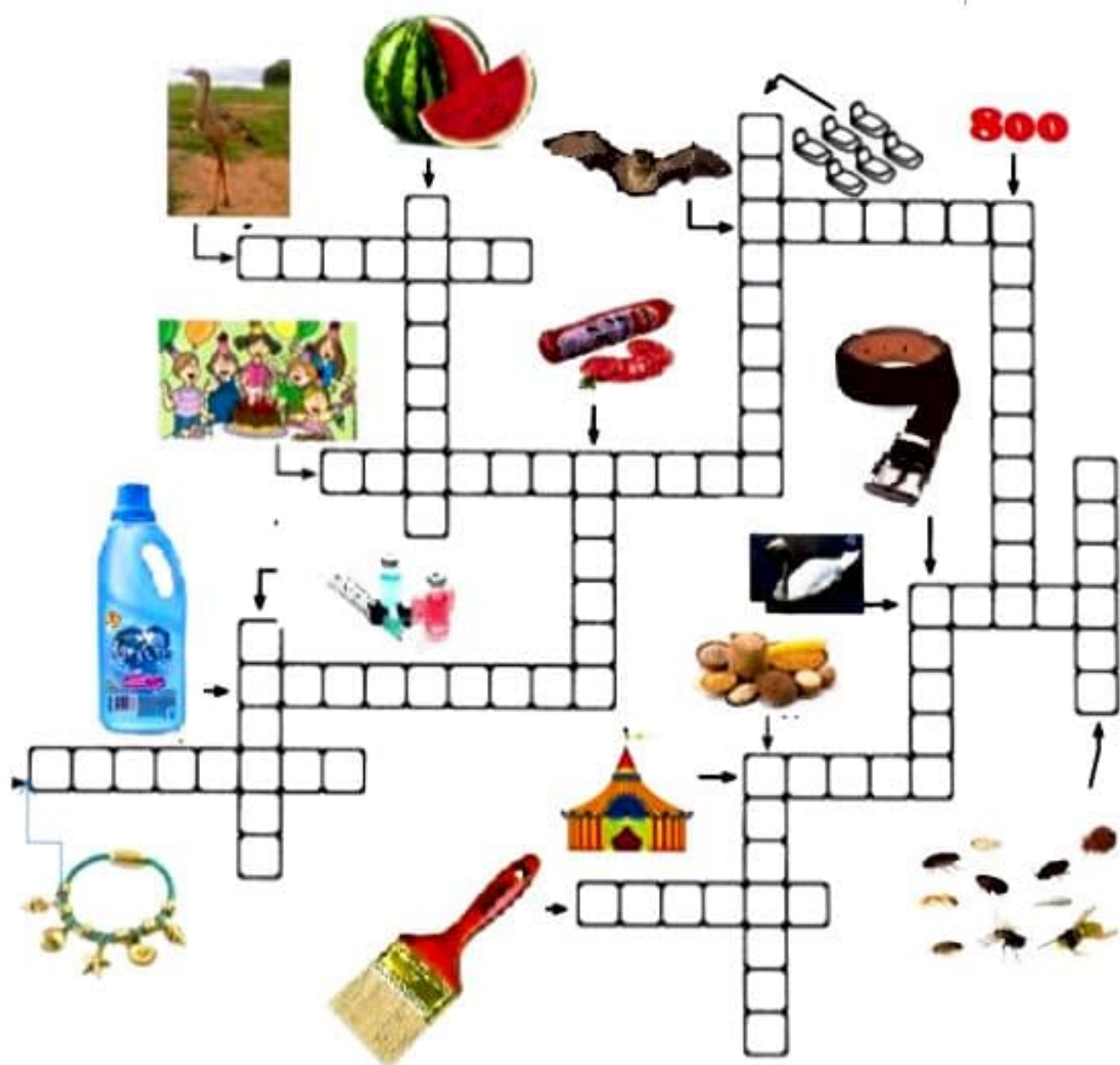
NOMEIE AS FIGURAS UTILIZANDO S OU SS



ORTOGRAFIA S OU C

PREENCHA A CRUZADINHA DE NOMEANDO AS FIGURAS

DICA : AS PALAVRAS TEM C OU S



COMPLETE COM C OU S OS NOMES DAS FIGURAS DA CRUZADINHA

PUL__EIRA
 AMA__IANTE
 __IRCO
 IN__ETOS
 ANIVER__ÁRIO

PIN__EL
 __ALAME
 __INTO
 MOR__EGO
 __ERIEMA

__ISNE
 __EREAIS
 OITO__ENTOS
 __EMITÉRIO
 MELAN__IA
 __EMITÉRIO

ESCOLA: _____

NOME: _____

DATA: ____/____/____

SEGUNDA TERÇA QUARTA QUINTA SEXTA



MATEMÁTICA

- Pinte, em cada grupo, as fichas de acordo com o fato.



6

6×2

$3 + 3$

1×6

3×2

$1 + 1 + 5$

2×4

$2 + 2 + 2$

2×5

$10 + 0$

5×4

$5 + 5$

10

$4 + 4 + 2$

5×2

$10 - 2$



18

3×6

$1 + 8$

6×3

6×2

$6 + 6 + 6$

2×9

$10 + 8$

3×7

1×8

$10 + 11$

$9 + 6$

21

$7 + 7 + 7$

7×4

7×3



4 - DESAFIO DOS GATINHOS.



A) EU ME CHAMO GENIVALDO E SOU O MAIS GORDINHO. EU SOU O NÚMERO:

B) EU ME CHAMO CHAREL E SOU A METADE DE UMA DEZENA. SOU O NÚMERO:

C) EU ESTOU ENTRE GENIVALDO E CHAREL. SOU O NÚMERO:

D) EU ME CHAMO OSCAR E SOU O RESULTADO DE $10 - 1$. EU SOU O NÚMERO:

E) EU ME CHAMO PEPEU E SOU O RESULTADO DE $8 - 2$. EU SOU O NÚMERO:

F) EU SOU O GOLIAS. SOU O MENOR NÚMERO:


G) EU SOU O CANTOR.  SOU O NÚMERO:

H) ESTOU ENTRE CANTOR E OSCAR. SOU O NÚMERO:

I) EU SOU O CLÓVIS E ESTOU ATRÁS DE TODOS:

J) EU SOU O DOBRO DE GENIVALDO. SOU O NÚMERO:

Nome: _____



DESAFIO

Responda as perguntas
e vença o desafio!




1. QUANTAS DEZENAS TEM NO NÚMERO 231? _____
2. O NÚMERO 632 TEM 3 CENTENAS? _____
3. QUANTAS CENTENAS TEM O NÚMERO 324? _____
4. QUAL VALOR DO 9 NO NÚMERO 592? _____
5. QUANTAS UNIDADES TEM O NÚMERO 627? _____
6. QUANTAS DEZENAS TEM O NÚMERO 498? _____
7. O NÚMERO 987 TEM 8 DEZENAS? _____
8. QUANTAS CENTENAS TEM O NÚMERO 129? _____
9. QUAL VALOR DO 7 NO NÚMERO 721? _____
10. QUANTAS UNIDADES TEM O NÚMERO 345? _____

Escola: _____

Data: _____ Turma: _____ **ENSINOJA.COM**

Aluno: _____



$$\begin{array}{r} 45 \\ + 43 \\ \hline \end{array}$$

$$\begin{array}{r} 38 \\ + 21 \\ \hline \end{array}$$

$$\begin{array}{r} 67 \\ + 32 \\ \hline \end{array}$$

$$\begin{array}{r} 55 \\ + 14 \\ \hline \end{array}$$

$$\begin{array}{r} 36 \\ + 61 \\ \hline \end{array}$$

$$\begin{array}{r} 73 \\ + 10 \\ \hline \end{array}$$

$$\begin{array}{r} 58 \\ + 31 \\ \hline \end{array}$$

$$\begin{array}{r} 23 \\ + 72 \\ \hline \end{array}$$

$$\begin{array}{r} 64 \\ + 15 \\ \hline \end{array}$$

$$\begin{array}{r} 71 \\ + 17 \\ \hline \end{array}$$

$$\begin{array}{r} 66 \\ + 30 \\ \hline \end{array}$$

$$\begin{array}{r} 24 \\ + 63 \\ \hline \end{array}$$

$$\begin{array}{r} 75 \\ + 22 \\ \hline \end{array}$$

$$\begin{array}{r} 35 \\ + 41 \\ \hline \end{array}$$

$$\begin{array}{r} 25 \\ + 52 \\ \hline \end{array}$$

$$\begin{array}{r} 83 \\ + 10 \\ \hline \end{array}$$

$$\begin{array}{r} 44 \\ + 3 \\ \hline \end{array}$$

$$\begin{array}{r} 26 \\ + 33 \\ \hline \end{array}$$

$$\begin{array}{r} 34 \\ + 65 \\ \hline \end{array}$$

$$\begin{array}{r} 37 \\ + 40 \\ \hline \end{array}$$

$$\begin{array}{r} 74 \\ + 21 \\ \hline \end{array}$$

$$\begin{array}{r} 53 \\ + 36 \\ \hline \end{array}$$

$$\begin{array}{r} 28 \\ + 70 \\ \hline \end{array}$$

$$\begin{array}{r} 81 \\ + 16 \\ \hline \end{array}$$

$$\begin{array}{r} 60 \\ + 29 \\ \hline \end{array}$$



Preço	Paguei com	Recebi de troco
 <p>R\$ 25,00</p>	<p>R\$ 50,00</p>	<p>() R\$ 15,00</p> <p>() R\$ 75,00</p> <p>() R\$ 3,00</p> <p>() R\$ 25,00</p>
 <p>R\$ 68,00</p>	<p>R\$ 80,00</p>	<p>() R\$ 22,00</p> <p>() R\$ 13,00</p> <p>() R\$ 148,00</p> <p>() R\$ 12,00</p>
 <p>R\$ 19,00</p>	<p>R\$ 20,00</p>	<p>() R\$ 1,00</p> <p>() R\$ 11,00</p> <p>() R\$ 39,00</p> <p>() R\$ 2,00</p>
 <p>R\$ 86,00</p>	<p>R\$ 100,00</p>	<p>() R\$ 186,00</p> <p>() R\$ 14,00</p> <p>() R\$ 86,00</p> <p>() R\$ 26,00</p>

ALUNO: _____


TURMA: _____ DATA: ____ / ____ / ____

PROBLEMAS DE MULTIPLICAÇÃO


1- SE EU DER 3 BALAS PARA 3 CRIANÇAS, QUANTOS BALAS PRECISAREI?




2- SE EM UM PRATO TEM 7 BISCOITOS, QUANTOS BISCOITOS CABEM EM 2 PRATOS?



3- SE UMA CAIXA TEM 8 OVOS. QUANTOS OVOS HÁ EM 2 CAIXAS?



Vamos calcular



1. Resolva as operações abaixo:

$$\begin{array}{r} 17 \\ - 12 \\ \hline \end{array}$$

$$\begin{array}{r} 17 \\ - 17 \\ \hline \end{array}$$

$$\begin{array}{r} 0 \\ - 0 \\ \hline \end{array}$$

$$\begin{array}{r} 12 \\ - 11 \\ \hline \end{array}$$

$$\begin{array}{r} 15 \\ - 15 \\ \hline \end{array}$$

$$\begin{array}{r} 13 \\ - 12 \\ \hline \end{array}$$

$$\begin{array}{r} 18 \\ - 14 \\ \hline \end{array}$$

$$\begin{array}{r} 14 \\ - 14 \\ \hline \end{array}$$

$$\begin{array}{r} 11 \\ - 11 \\ \hline \end{array}$$

$$\begin{array}{r} 11 \\ - 0 \\ \hline \end{array}$$

$$\begin{array}{r} 19 \\ - 15 \\ \hline \end{array}$$

$$\begin{array}{r} 19 \\ - 13 \\ \hline \end{array}$$

$$\begin{array}{r} 19 \\ - 12 \\ \hline \end{array}$$

$$\begin{array}{r} 12 \\ - 0 \\ \hline \end{array}$$

$$\begin{array}{r} 16 \\ - 15 \\ \hline \end{array}$$

$$\begin{array}{r} 17 \\ - 0 \\ \hline \end{array}$$

$$\begin{array}{r} 17 \\ - 14 \\ \hline \end{array}$$

$$\begin{array}{r} 14 \\ - 12 \\ \hline \end{array}$$

$$\begin{array}{r} 16 \\ - 11 \\ \hline \end{array}$$

$$\begin{array}{r} 19 \\ - 14 \\ \hline \end{array}$$



NOME: _____

DATA: / /

@clickeducativos

ATIVIDADES DE MATEMÁTICA - 3º ANO

1. ESCREVA POR EXTENSO:

- A) 127: _____
- B) 181: _____
- C) 203: _____
- D) 275: _____
- E) 300: _____
- F) 378: _____
- G) 412: _____

2. DECOMPONHA CONFORME O EXEMPLO:

- A) 131: Uma centena, três dezenas e uma unidade.
- B) 166: _____
- C) 190: _____
- D) 204: _____
- E) 279: _____
- F) 299: _____
- G) 300: _____
- H) 345: _____
- I) 379: _____
- J) 397: _____
- K) 431: _____



Escola: _____

Data: _____ Turma: _____

Aluno: _____

Meio ambiente

1. Pinte de azul os quadrinhos com as atitudes corretas para o meio ambiente e de amarelo os com as atitudes incorretas.

Jogar lixo nas ruas.

Separar o lixo para que possa ser reciclado.


Jogar garrafas e latas nas águas dos rios.

Economizar energia elétrica, apagando luzes e tomando banhos rápidos.

Caçar animais.

Economizar água fechando bem as torneiras.

2. Desenhe o meio ambiente preservado.



A TERRA



Este planeta que amamos,
Há milhões de anos, formado,
É o nosso planeta Terra,
Planeta por nós habitado.

Mas o planeta chamado,
De belo planeta azul,
Está cinzento, está cansado,
Está sujo de norte a sul.

Os homens não têm cuidado,
Das florestas e do mar,
Há poluição por todo o lado,
Há muito fumo no ar.



Meninos de todo o mundo,
Meninos que estão a crescer,
Cuidem do nosso planeta,
Pois nele queremos viver.

Não deixem lixo para o chão,
Das florestas bem cuidar,
Mantenham limpo o oceano,
E não esqueçam de reciclar.



São regras muito importantes
Que protegem o ambiente
E assim faremos da terra
Um planeta mais contente!



CAÇA PALAVRAS - MEIO AMBIENTE

Água para beber
 Água para lavar
 Água para regar
 Água para nadar

Água nos lagos
 Água nos rios
 Água nos chuvas
 Água nos mares

O nosso planeta azul
 É mesmo uma beleza
 Do norte até o sul
 Tem água na natureza.



Encontre no caça palavras as palavras sublinhadas.

W	F	N	U	O	L	A	G	O	S	I	B	X	T	E
L	E	H	A	F	A	Z	Z	E	D	T	S	D	B	R
A	E	E	I	O	V	C	T	O	Á	G	U	A	O	I
O	X	N	Á	R	A	H	V	L	C	V	S	O	I	O
B	B	E	B	E	R	U	E	E	Q	N	O	U	B	S
Ô	D	G	N	G	R	V	O	X	N	R	A	L	Á	A
O	X	K	Z	A	B	A	E	Ã	F	D	Z	E	D	E
O	C	H	A	R	E	S	G	J	Ô	N	A	D	A	R
O	X	K	O	D	P	X	O	Ç	E	N	C	Ç	O	A
C	G	A	A	Y	A	D	T	U	P	A	U	X	I	O

ALUNO: _____

LEIA A LETRA DA MÚSICA QUE JOÃOZINHO CANTAVA NA ESCOLA:

QUANDO CHEGA O RECREIO
TUDO VIRA BRINCADEIRA.
COMO BOLO, TOMO SUCO,
QUE VEM DENTRO DA LANCHEIRA.




ESCREVA O NOME DESTAS BRINCADEIRAS:



















1. Vamos contar com muita atenção para não errar.



Quantos reais? R\$ _____



Quantos reais? R\$ _____



Quantos reais? R\$ _____



Quantos reais? R\$ _____



Quantos reais? R\$ _____



**7 DE SETEMBRO DE 1822
DATA DA INDEPENDÊNCIA
DO BRASIL**

VAMOS COLORIR D. PEDRO I:



INDEPENDÊNCIA DO BRASIL

INDEPENDÊNCIA DO BRASIL

**"JÁ PODEIS, DA PÁTRIA FILHOS
VER CONTENTE A MÃE GENTIL
JÁ RAIOU A LIBERDADE
NO HORIZONTE DO BRASIL
JÁ RAIOU A LIBERDADE
JÁ RAIOU A LIBERDADE
NO HORIZONTE DO BRASIL**

**BRAVA GENTE BRASILEIRA!
LONGE VÁ, TEMOR SERVIL
OU FICAR A PÁTRIA LIVRE
OU MORRER PELO BRASIL
OU FICAR A PÁTRIA LIVRE
OU MORRER PELO BRASIL"**

TRECHO DO HINO DA INDEPENDÊNCIA

***VAMOS ENCONTRAR ALGUMAS PALAVRAS
DO HINO NO CAÇA PALAVRAS:***

**BRASIL, PÁTRIA,
HORIZONTE, LIBERDADE,
BRASILEIRA, LONGE, LIVRE**

A F R E B R A S I L N R F G P
F L T C A E Y N B B I L O P N
A I L M P A T R I A L O N G E
P V Y F R M V D A E K E I J B
O R T N H O R I Z O N T E D C
A E R E A D L I B E R D A D E
B R A S I L E I R A O P A R E

**Fontes:
Pinterest**

Coletâneas:

***Atividades na sala de aula**