


**E.M “JOÃO CARDOSO DE MORAES”**

**PROFESSORA: JANAINA SILVA 5º ANO - A**

**7 DE SETEMBRO  
DIA DA INDEPENDÊNCIA  
DO BRASIL**



Arte especialmente autorizada para publicação nesta edição pela MSP.

© Copyright - 2011 Mauricio de Sousa - Todos os Direitos Reservados - [www.monica.com.br](http://www.monica.com.br)

**ALUNO (A):** \_\_\_\_\_

**Apostila dos dias : 30, 31/08,01,02,03,08,09,10,13,14,16,e 17/09.**

Escola : \_\_\_\_\_

Aluno: \_\_\_\_\_

Ano: \_\_\_\_\_

Turno: \_\_\_\_\_

Professora: \_\_\_\_\_

Data: \_\_\_\_/\_\_\_\_/\_\_\_\_



## PORTUGUÊS



Leia o texto com atenção para responder às questões que seguem:

### A CORUJA E A ÁGUIA

Coruja e águia, depois de muita briga resolveram fazer as pazes.

— Basta de guerra — disse a coruja. — O mundo é grande, e tolice maior que o mundo é andarmos a comer os filhotes uma da outra.

— Perfeitamente — respondeu a águia. — Também eu não quero outra coisa.

— Nesse caso combinemos isso: de agora em diante não comerás nunca os meus filhotes.

— Muito bem. Mas como posso distinguir os teus filhotes?

— Coisa fácil. Sempre que encontrares uns borrachos lindos, bem feitinhos de corpo, alegres, cheios de uma graça especial, que não existe em filhote de nenhuma outra ave, já sabes, são os meus.

— Está feito! — concluiu a águia.

Dias depois, andando à caça, a águia encontrou um ninho com três monstrenhos dentro, que piavam de bico muito aberto.

— Horríveis bichos! — disse ela. — Vê-se logo que não são os filhos da coruja.

E comeu-os.

Mas eram os filhos da coruja. Ao regressar à toca a triste mãe chorou amargamente o desastre e foi ajustar contas com a rainha das aves.

— Quê? — disse esta admirada. — Eram teus filhos aqueles monstrenghinhos? Pois olha, não se pareciam nada com o retrato que deles me fizeste...

**Moral da história:** Para retrato de filho ninguém acredite em pintor pai. Já diz o ditado: quem ama o feio, bonito lhe parece.



*Monteiro Lobato. Fábulas. São Paulo: Brasiliense, s/d, 20ª edição.*



VAMOS CONVERSAR COM O TEXTO!

1. De acordo com a fábula, quem são os personagens da história?

\_\_\_\_\_

\_\_\_\_\_



2. Em sua opinião, por que a coruja e a águia fizeram o trato de não comer os filhotes uma da outra?

---

---

3. Observe que o texto nos traz o tempo todo diálogos entre os personagens. Qual o sinal de pontuação é utilizado para introduzir a fala dos personagens?

---

---

4. Transcreva uma fala de cada personagem do texto.

---

---

5. Leia o texto abaixo:



### Hábitos Indígenas

Você sabia que vários dos nossos hábitos são herdados da cultura indígena?

Um dos costumes mais importantes é o de tomar banho todos os dias.

Em outras culturas, como na dos países europeus, é comum as pessoas passarem dias sem tomar banho.

Que bom que os índios nos ensinaram isso, né? Assim somos um povo bem cheirosinho!

Também aprendemos com eles o uso de chás e plantas medicinais para curar doenças.

E como os índios têm muito conhecimento de ervas e plantas, muitos dos remédios que compramos hoje nas farmácias tiveram suas fórmulas baseadas em chás indígenas.

É influência deles também a utilização de redes para dormir, as várias danças, principalmente as da região Norte do Brasil.

E ainda várias canções e lendas do folclore brasileiro.

[http://www.plenarinho.gov.br/brasil/Reportagens\\_publicadas/todo-dia-era-dia-de-indio](http://www.plenarinho.gov.br/brasil/Reportagens_publicadas/todo-dia-era-dia-de-indio)

O texto que você acabou de ler fala de alguns hábitos que herdamos da cultura indígena.

Identifique-os e faça a listagem abaixo:

---

---

---

---

6. Em sua opinião, qual a importância do índio em nosso país?

---

---

---

ESCOLA \_\_\_\_\_ DATA: \_\_\_\_/\_\_\_\_/\_\_\_\_

PROF: \_\_\_\_\_ TURMA: \_\_\_\_\_

NOME: \_\_\_\_\_

### Atividade de matemática

- 1) Maria foi ao cinema e se sentou no último lugar vago da sala. Havia 12 fileiras com 10 poltronas em cada fileira. Quantas pessoas estavam na sala?
  - a) 22
  - b) 80
  - c) 120
  - d) 132
  
- 2) Julieta comprou um refrigerante com 4 moedas de um real, uma de cinquenta centavos e uma de dez centavos. Qual o valor desse refrigerante?
  - a) R\$ 4,60.
  - b) R\$ 4,90.
  - c) R\$ 5,40.
  - d) R\$ 5,60.
  
- 3) Na festa junina da minha escola, há 8 quadrilhas formadas pelos alunos. Cada uma delas se apresentará por 15 minutos. Quanto tempo será utilizado para que todos os alunos se apresentem?
  - a) 1 hora e 15 minutos
  - b) 1 hora e meia
  - c) 1 hora e 45 minutos
  - d) 2 horas.
  
- 4) Um atleta saiu para correr em torno do Maracanã às 10 horas da manhã. Retornou às 11 horas e 47 minutos. Por quanto tempo o atleta se exercitou?

Escola : \_\_\_\_\_

Aluno: \_\_\_\_\_

Ano: \_\_\_\_\_

Turno: \_\_\_\_\_

Professora: \_\_\_\_\_


Data: \_\_\_\_/\_\_\_\_/\_\_\_\_

Educação  Transformação

## PORTUGUÊS



Observe a charge abaixo:



Disponível em: Charge do Amarildo: Combate ao Coronavírus - Fiquem em casa! Acesso em: 02 maio. 2020

**A Charge é um gênero textual carregado de ironia e que reflete situações do cotidiano.**



ESCOLA: \_\_\_\_\_

NOME: \_\_\_\_\_

DATA: \_\_\_\_/\_\_\_\_/\_\_\_\_

SEGUNDA  TERÇA  QUARTA  QUINTA  SEXTA



## Atividades diagnósticas

1 - Milena comprou 5 caixas de bombons com 28 unidades em cada uma. Ela distribuiu 54 desses bombons para seus amigos. Com quantos bombons Milena ficou?

a) ( ) 75

b) ( ) 82

c) ( ) 86

d) ( ) 96

2 - Fernando tem, no seu cofrinho, cinco moedas de R\$ 0,05, oito moedas de R\$ 0,10 e três moedas de R\$ 0,25. Que quantia Fernando tem no cofrinho?

a) ( ) R\$ 1,55

b) ( ) R\$ 1,80

c) ( ) R\$ 2,05

d) ( ) R\$ 4,05

3 - Caio quer dividir uma garrafa de 2 litros de refrigerante com seus amigos. Sabendo que um copo contém 200 ml de refrigerante. Caio conseguirá encher:

a) ( ) 1 copo

b) ( ) 10 copos

c) ( ) 20 copos

d) ( ) 30 copos

4 - Dois amigos colecionam bolas de gude. João tem 17 bolinhas, e Paulo tem 25. Quantas bolas de gude os dois têm juntos?

a) ( ) 17

b) ( ) 25

c) ( ) 32

d) ( ) 42



### VAMOS CONVERSAR COM O TEXTO!

1. Qual é o assunto tratado nessa charge?

---

---

2. Observe que na charge, o ponto de exclamação foi utilizado duas vezes, porém com sentidos diferentes. Diante dessa informação, descreva o sentido em que cada um foi utilizado.

---

---

---

3. Observe o texto abaixo para responder às questões que seguem:



a) Porque Carol chegou à conclusão que fosse poluição?

---

---

b) “Carol é uma menina muito medrosa”, o adjetivo desta frase é:

---

c) Observe a seguinte frase: Carol correu para um lugar **distante**. O sinônimo da palavra destacada é:

---



Escola: \_\_\_\_\_

Data: \_\_\_\_\_


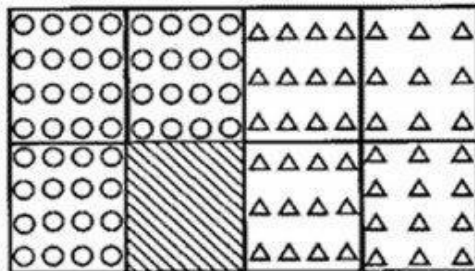
Turma: \_\_\_\_\_

ESCOLAEDUCACAO.COM.BR

Aluno: \_\_\_\_\_

## Dividindo o bolo


- O desenho representa o bolo que Marcos comprou.





• Marcos dividiu o seu bolo em ..... partes.

• Então ele dividiu-o em .....

- De acordo com a divisão do bolo, represente as afirmativas abaixo por meio de frações:

a) Marcos serviu as partes que estão em  na festa.

b) A parte que está em  ofereceu a dona Lídia.


c) A parte que está em  foi guardada na geladeira.

- Agora, complete:

a) Na geladeira ficou \_\_\_\_\_ do bolo.

b) Para onde foi a maior parte do bolo? \_\_\_\_\_

c) E a menor parte? \_\_\_\_\_



Escola : \_\_\_\_\_

Aluno: \_\_\_\_\_

Ano: \_\_\_\_\_

Turno: \_\_\_\_\_

Professora: \_\_\_\_\_

Data: \_\_\_\_/\_\_\_\_/\_\_\_\_



## PORTUGUÊS



### PRODUÇÃO TEXTUAL

Na atividade anterior, aprendemos que a charge é um gênero textual carregado de ironia e que reflete situações do cotidiano envolvendo personagens. A charge abaixo retrata um problema social das grandes cidades.

A partir da charge abaixo, use a sua imaginação para desenhar e escrever a seu texto!!!



---

---

---

---

---

---

Escola: \_\_\_\_\_

Data: \_\_\_\_\_ Turma: \_\_\_\_\_

Aluno: \_\_\_\_\_

Utilize a operação inversa para calcular o valor de cada quadrinho partindo das informações sobre algumas cidades.

A distância entre a cidade de Conde e Salvador em linha reta é de 151 km.

$$\square + 39 = 151$$

Resposta \_\_\_\_\_

Pela Br-101 a distância aumenta de 151 pra 203 km.

$$\square - 59 = 203$$

Resposta \_\_\_\_\_

A cidade de Aracá conta com 22.000 habitantes.

$$\square + 13.000 = 22.000$$

Resposta \_\_\_\_\_

No dia 10 de agosto 1935 a cidade de Alvorada foi emancipada.

$$\square - 1732 = 1935$$

Resposta \_\_\_\_\_

Escola : \_\_\_\_\_

Aluno: \_\_\_\_\_

Ano:

Turno:

Educação  Transformação

Professora: \_\_\_\_\_

Data: \_\_\_\_/\_\_\_\_/\_\_\_\_



## PORTUGUÊS

Leia o texto abaixo:

### O hábito da leitura

“A criança é o pai do homem”. A frase do poeta inglês William Wordsworth, ensina que o adulto conserva e amplia qualidades e defeitos que adquiriu quando criança. Tudo que se torna um hábito dificilmente é deixado. Assim, a leitura poderia ser uma mania prazerosa, um passatempo.

Você, coleguinha, pode descobrir várias coisas, viajar por vários lugares, conhecer várias pessoas, e adquirir muitas experiências enquanto lê um livro, jornal, gibi, revista, cartazes de rua e até bula de remédio. Dia 25 de janeiro é o dia do Carteiro. Ele leva ao mundo inteiro várias notícias, intimações, saudades, respostas, mas tudo isso só existe por causa do hábito da leitura. E aí, vamos participar de um projeto de leitura?

*CORREIO BRAZILIENSE, Brasília, 31 de janeiro de 2004, p. 7.*



VAMOS CONVERSAR SOBRE O TEXTO!



1. O que mais lhe chamou a atenção no texto que você acabou de ler? Explique.

---

---

---

2. No trecho “**Ele** leva ao mundo inteiro” a palavra em negrito refere-se no texto a qual substantivo?

---

i) Quantas páginas têm os bloquinhos azul e vermelho juntos? \_\_\_\_\_  
 Resolva:

$$\begin{array}{r} 853 \\ + 946 \\ \hline \end{array}$$

$$\begin{array}{r} 539 \\ + 763 \\ \hline \end{array}$$

$$\begin{array}{r} 529 \\ + 634 \\ \hline \end{array}$$

$$\begin{array}{r} 532 \\ - 429 \\ \hline \end{array}$$

$$\begin{array}{r} 639 \\ - 348 \\ \hline \end{array}$$

$$\begin{array}{r} 864 \\ - 295 \\ \hline \end{array}$$

$$\begin{array}{r} 706 \\ + 349 \\ \hline \end{array}$$

$$\begin{array}{r} 639 \\ + 425 \\ \hline \end{array}$$

$$\begin{array}{r} 749 \\ + 632 \\ \hline \end{array}$$

$$\begin{array}{r} 634 \\ \times 4 \\ \hline \end{array}$$

$$\begin{array}{r} 342 \\ \times 2 \\ \hline \end{array}$$

$$\begin{array}{r} 463 \\ \times 3 \\ \hline \end{array}$$

$$\begin{array}{r} 723 \\ \times 5 \\ \hline \end{array}$$

$$\begin{array}{r} 532 \\ \times 7 \\ \hline \end{array}$$

$$\begin{array}{r} 642 \\ \times 8 \\ \hline \end{array}$$



Arme e efetue:


|           |           |           |           |           |
|-----------|-----------|-----------|-----------|-----------|
| 864 x 2 = | 947 x 3 = | 297 x 4 = | 439 x 5 = | 253 x 6 = |
| 139 x 9 = | 163 x 8 = | 142 x 7 = | 160 x 6   | 439 x 3 = |





3. Leia o texto abaixo e responda.

### Ziraldo



Ziraldo Alves Pinto nasceu no dia 24 de outubro de 1932, em Caratinga, Minas Gerais. Começou sua carreira nos anos 50 em jornais e revistas de expressão, como Jornal do Brasil, O Cruzeiro, Folha de Minas, etc. Além de pintor, é cartazista, jornalista, teatrólogo, chargista, caricaturista e escritor.

A fama começou a vir nos anos 60, com o lançamento da primeira revista em quadrinhos brasileira feita por um só autor: A Turma do Pererê. Em 1969, Ziraldo publicou o seu primeiro livro infantil, FLICTS, que conquistou fãs em todo o mundo.

A partir de 1979, concentrou-se na produção de livros para crianças e, em 1980, lançou O Menino Maluquinho, um dos maiores fenômenos editoriais no Brasil de todos os tempos. Os trabalhos de Ziraldo já foram traduzidos para diversos idiomas, como inglês, espanhol, alemão, francês, italiano e basco, e representam o talento e o humor brasileiros no mundo. Estão até expostos em museu!

*Disponível em: <http://www.ziraldo.com.br>*

a) Quando Ziraldo começou a ficar famoso?

\_\_\_\_\_

b) O texto que você acabou de ler é uma Biografia, um tipo de gênero textual que traz a história de vida, acontecimentos que marcaram a vida de uma pessoa. A partir dessa definição, retire do texto informações importante sobre a vida de Ziraldo.

\_\_\_\_\_  
\_\_\_\_\_  
\_\_\_\_\_

c) Perceba que no texto a vírgula é utilizada muitas vezes. No trecho “Além de pintor, é cartazista, jornalista, teatrólogo, chargista, caricaturista e escritor” explique por que a vírgula está sendo utilizada?

\_\_\_\_\_  
\_\_\_\_\_

Escola: \_\_\_\_\_

Data: \_\_\_\_\_ Turma: \_\_\_\_\_ **EDUCALUNOS.COM**

Aluno: \_\_\_\_\_

Resolva os problemas, apresentando operações e resposta no caderno.

1. Luciana nasceu em 1964 e tem um irmão 9 anos mais velho.  
Em que ano nasceu o irmão de Luciana?
2. Quando Bete nasceu, seu pai tinha 33 anos. Que idade Bete terá quando seu pai tiver 69 anos?
3. A soma de dois números é igual a 5.129. Se um número é 2.375, qual é o outro?
4. Papai nasceu em 1970. Qual a idade dele no ano atual?
5. Mamãe nasceu em 1975. Sabendo que Papai é 12 anos mais velho que ela, em que ano Papai nasceu?
6. A diferença de idade entre Papai e vovô é de 26 anos.  
Sabendo que Papai nasceu em 1966, em que ano vovô nasceu?
7. A diferença de idade entre mim e meu irmão mais novo é de 7 anos. Sabendo que meu irmão nasceu em 2000, responda:
  - a) Em que ano eu nasci?
  - b) Quantos anos eu tenho atualmente?

Escola : \_\_\_\_\_

Aluno: \_\_\_\_\_

Ano: \_\_\_\_\_

Turno: \_\_\_\_\_

Professora: \_\_\_\_\_

Data: \_\_\_\_/\_\_\_\_/\_\_\_\_



## PORTUGUÊS



Leia o texto abaixo para responder corretamente a ficha de leitura:

### A LENDA DO GACHORRO

**Guto Lins**

Um caminhão desavisado derrapou no chão ensaboado, de orvalho e barro esburacado, e acabou virando de lado. Nenhum ferido ou machucado, e o caminhão só um pouquinho amassado. Mas, da carga, não sobrou nada, dúzias de ovos espalhados pela estrada. Os que não se quebraram abasteceram a vizinhança de omeletes variados e gemada para as crianças.

Mas teve um ovo ainda novo, que escapou com casca e tudo. Caiu na grama o sortudo, rolou ribanceira abaixo e aterrissou bem embaixo de um sono quentinho e peludo.

E o dono do sono dormiu pra cachorro, quer dizer, pra cadela. E teria ficado na dela, preguiçosa sem mais tamanho, se não fosse esse caroço estranho...

Caroço?!?

Levantou mais que depressa e ficou **chocada à beça**.

Já estava fazendo um ninho com folhas secas e carinho, quando viu a vida rachando de nova, abrindo caminho bem na frente do seu focinho e piando:

“Mamãe!” O filhote virou um frangote, que não parava o tempo inteiro. Quando não ciscava no terreiro, corria atrás dos carros, enterrava comida no canteiro ou tentava morder os pés do carteiro. Sem pena.

Quando virou um galo formoso, cismou cantar de galo e virar cantor famoso.

Estufou o peito penudo, preparou a voz de veludo e, com o coração a mil, abriu o bico e... latiu. Isso mesmo: au-au em alto e bom tom. Embora contra a natureza, não foi nenhuma surpresa.

A partir daquele dia, toda noite ele latia.

Varando a madrugada e acordando a cachorrada.

*Disponível em: <<http://www1.folha.uol.com.br/folhinha/dicas/di13050609.htm>>. Acesso em: 27 fev.2017*



**AGORA É COM VOCÊ!**

Após a leitura, preencha a ficha abaixo:

### MATEMÁTICA:

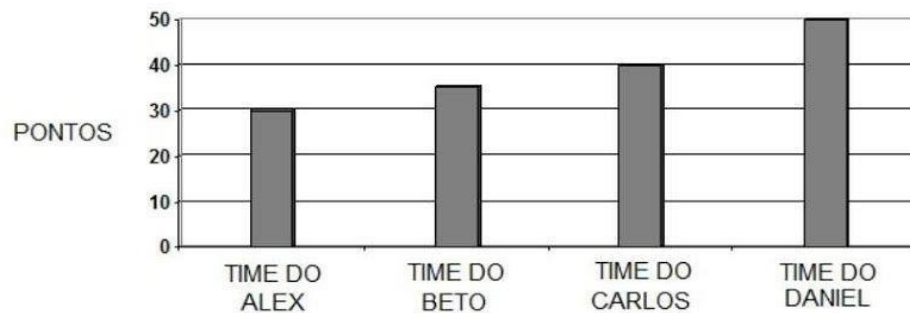
Atividade: Copie as atividades e responda em seu caderno de Matemática. Não é necessário copiar o gráfico.

A tabela abaixo mostra a quantidade de sorvetes vendidos na sorveteria do seu Juca nos quatro meses.

| MESES     | QUANTIDADE DE SORVETES VENDIDOS |
|-----------|---------------------------------|
| Janeiro   | 236                             |
| Fevereiro | 182                             |
| Março     | 245                             |
| Abril     | 193                             |

- 1) Em que mês foi vendido a maior quantidade de sorvete?  
 Janeiro  Fevereiro  Março  Abril
- 2) De acordo com a tabela a diferença de sorvetes vendidos no mês de março e abril foi de:  
 152  58  438  52
- 3) O total de sorvetes vendidos nos quatro meses representados na tabela foi de:  
 856  646  245  857

O gráfico abaixo mostra a quantidade de pontos no campeonato de futebol da escola.



- 1) De acordo com o gráfico a diferença de pontos entre o time de Daniel e o time de Alex foi de:  
 10  20  30  40
- 2) O total de pontos marcados pelos quatro times no campeonato da escola foi de:  
 150  255  155  115






## MATEMÁTICA ADAPTADA PARA 5º ANO

1-JOÃO PESAVA 45 KG. CINCO MESES DEPOIS ELE ENGORDOU MAIS 3 KG. QUANTO ELE PESA AGORA?

- (A) 14KG
- (B) 40KG
- (C) 42KG
- (D) 48KG



2-CIRCO FANTASIA CHEGOU À CIDADE COM PALHAÇOS, MÁGICOS E ACROBATAS. O CIRCO ABRIRÁ SUAS PORTAS AO PÚBLICO ÀS 9 HORAS.

ASSINALE O RELÓGIO QUE MARCA A HORA EM QUE O CIRCO ABRIRÁ.



(A) 3H



(B) 9H



(C) 6H

Avaliação adaptada para alunos com Necessidades Especiais, com base na LDBEN; na Política Nacional de Educação Especial na perspectiva da Educação Inclusiva; nas Diretrizes Nacionais para a Educação Especial na Educação Básica e nos Parâmetros Curriculares Nacionais: adaptações curriculares (PCN adaptado).

Escola: \_\_\_\_\_

Data: \_\_\_\_\_ Turma: \_\_\_\_\_ **SOESCOLA.COM**

Aluno: \_\_\_\_\_

### EVA FURNARI

EVA FURNARI – Uma das principais figuras da literatura para crianças. Eva Furnari nasceu em Roma (Itália) em 1948 e chegou ao Brasil em 1950, radicando-se em São Paulo. Desde muito jovem, sua atração eram os livros de estampas – e não causa estranhamento algum imaginá-la envolvida com cores, lápis e pincéis, desenhando mundos e personagens para habitá-los...

5 Suas habilidades criativas encaminharam-na, primeiramente, ao universo das Artes Plásticas expondo, em 1971, desenhos e pinturas na Associação dos Amigos do Museu de Arte Moderna, em uma mostra individual. Paralelamente, cursou a Faculdade de Arquitetura e Urbanismo da USP, formando-se no ano de 1976. No entanto, erguer prédios tornou-se pouco atraente quando encontrou a experiência das narrativas visuais.

10 Iniciou sua carreira como autora e ilustradora, publicando histórias sem texto verbal, isto é, contadas apenas por imagens. Seu primeiro livro foi lançado pela Ática, em 1980, *Cabra-cega*, inaugurando a coleção *Peixe Vivo*, premiada pela Fundação Nacional do Livro Infantil e Juvenil – FNLIJ.

15 Ao longo de sua carreira, Eva Furnari recebeu muitos prêmios, entre eles contam o Jabuti de "Melhor Ilustração" – *Trucks* (Ática, 1991), *A bruxa Zelda e os 80 docinhos* (1986) e *Anjinho* (1998) – setes laureas concedidas pela FNLIJ e o Prêmio APCA pelo conjunto de sua obra.

<http://caracal.imaginaria.com/autografas/evafurnari/index.html>

No trecho "Ao longo de sua carreira, Eva Furnari recebeu prêmios, entre eles contam o Jabuti" (f. 14), a palavra destacada refere-se a

- (A) lápis.
- (B) livros.
- (C) pincéis.
- (D) prêmios.

O trecho que contém uma ideia de tempo é

- (A) "Eva Furnari nasceu em Roma," (f. 1-2)
- (B) "radicando-se em São Paulo," (f. 2)
- (C) "formando-se no ano de 1976," (f. 8)
- (D) "seu primeiro livro foi lançado pela Ática," (f. 11)



Escola: .....

Data: ..... Turma: ..... **SOESCOLA.COM**

Aluno: .....

Vamos trabalhar com: **traz** – **atrás**

**Lembre que:**

- **Traz** é uma forma do verbo trazer.  
Usa-se **traz** no sentido de portar, carregar.
- **Atrás** indica lugar.  
Usa-se **atrás** para indicar lugar.

21. Complete as frases usando **traz** ou **atrás**:

a) Papai ..... boas notícias para  
mós.

b) Ele trabalha ..... do balcão.

c) Ele foi embora ..... de mim.

d) Ele ..... sempre a carteira no  
bolso direito da calça.

Nome:

# MATEMÁTICA

@AtividadespedagógicasSuzano direitos reservados



## Resolvendo problemas

Num campeonato de videogame, Carla fez 1 554 pontos e Dora, 1 340 pontos. Quantos pontos Carla fez a mais que Dora?

O percurso total de uma maratona é de aproximadamente 42 500 metros. O atleta representante do Brasil, nessa maratona, já correu 32 110 metros. Quantos metros faltam para ele completar a corrida?

Numa escola há 1 800 alunos em 3 períodos. Sabendo-se que há 650 alunos no primeiro período e 580 no segundo, quantos alunos há no terceiro período?



## História

### • 7 de setembro • Independência do Brasil

Era setembro de 1822, às margens do riacho Ipiranga, D. Pedro bradou: "*Independência ou Morte*". Ficamos livres de Portugal. O Brasil ia governar por si, ter suas próprias leis, ser dono de suas riquezas.

Nada foi conseguido de um dia para outro, apenas com o brado de D. Pedro I. Muitos brasileiros chegaram mesmo a dar sua vida, como Tiradentes. Outros organizaram movimentos, escreveram artigos em jornais, despertando o ideal da liberdade. A própria esposa do imperador, Dona Leopoldina, com a cooperação de José Bonifácio, foi uma batalhadora por nossa libertação, incentivando o príncipe D. Pedro a nos desligar de Portugal.

O Brasil viveu, então, dias de perseguições, pois Portugal não queria perder sua colônia. Mas nossos compatriotas mostraram-se valorosos e não temeram sua própria morte.

E agora, 180 anos após, perguntamos a nós próprios o que fizemos pela pátria:

- Tenho estudado como preciso?
- Cumpro os meus deveres de bom aluno e bom filho?
- Tenho respeitado a pessoa humana?
- Valorizo os vultos e a nossa história?
- Respeito os símbolos da minha pátria?
- Respeito as pessoas mais velhas?
- Procuro ser bom cidadão?

É uma série de indagações que continuarão a desfilar diante de nós enquanto nossa consciência nos revelará muitas falhas.

Este mesmo Brasil, que já deu Mauá, Rui Barbosa, Caxias, Tiradentes, José Bonifácio e outros, precisa de mim, de você. Somente todos juntos faremos dele uma grande nação.



Escola: \_\_\_\_\_  
 Professor (a): \_\_\_\_\_ | Disciplina: \_\_\_\_\_  
 Aluno (a): \_\_\_\_\_ | \_\_\_\_\_ ano | Data: \_\_\_\_/\_\_\_\_/\_\_\_\_

**ATIVIDADE**

1. Indique a unidade de mais adequada para medir a capacidade de:

- a) um copo de água = \_\_\_\_\_
- b) uma ampola de injeção = \_\_\_\_\_
- c) um tanque de gasolina = \_\_\_\_\_
- d) uma piscina = \_\_\_\_\_
- e) uma aquário = \_\_\_\_\_
- f) uma caixa de água = \_\_\_\_\_



2. Escreva o nome de cinco produtos que compramos por litro ( L ).

\_\_\_\_\_

3. Escreva o nome de cinco produtos comprados por mililitro ( ml ).

\_\_\_\_\_

4. Observe a tabela e responda.

| PRODUTO            | PREÇO |
|--------------------|-------|
| Refrigerante 2 l   | 3,20  |
| Leite 1 l          | 2,90  |
| Óleo (lata) 900 ml | 3,60  |
| Álcool 1 l         | 2,03  |
| Gasolina 1 l       | 2,64  |

|                 |                    |
|-----------------|--------------------|
| 3 refrigerantes | 2 litros de leite  |
|                 |                    |
| 5 latas de óleo | 4 litros de álcool |
|                 |                    |

5. O garrafão está cheio de gasolina. Para enchê-lo foi preciso usar o garrafão pequeno, cinco vezes. Qual é capacidade do garrafão grande?



R: \_\_\_\_\_  
 \_\_\_\_\_

NOME: \_\_\_\_\_ DATA: \_\_\_\_ / \_\_\_\_ / \_\_\_\_

COMPLETE A CRUZADINHA.

a

b I

c N

d D

e E

f P

g E

h N

i D

j Ê

l N

m C

n I

o A

a) Muitos brasileiros lutaram pela *independência* do Brasil.  
b) D. Pedro estava às margens do Riacho \_\_\_\_\_ .  
c) A \_\_\_\_\_ é um dos símbolos da Pátria.  
d) D. Pedro gritou: "Laços fora \_\_\_\_\_ !".  
e) Nome do príncipe que deu o grito de liberdade: \_\_\_\_\_ .  
f) Não houve guerra, tudo aconteceu em \_\_\_\_\_ .  
g) Isso aconteceu no dia 7 de \_\_\_\_\_ de 1822.  
h) O \_\_\_\_\_ cantado por todos nós, também é um símbolo da Pátria.  
i) "Pátria não é ninguém", são \_\_\_\_\_ .  
j) O ouro era uma das grandes \_\_\_\_\_ do Brasil.  
l) É também chamada de "Pendão da esperança": \_\_\_\_\_ .  
m) Dom Pedro não era um rei, era um \_\_\_\_\_ .  
n) O Brasil é a nossa querida \_\_\_\_\_ .  
o) O país que colonizava o Brasil chamava-se \_\_\_\_\_ .

## REFERÊNCIAS

[www.monica.com](http://www.monica.com)

[www.educacaoetransformacao.com.br](http://www.educacaoetransformacao.com.br)

[www.plenarinho.gov.br](http://www.plenarinho.gov.br)

[www.acessaber.com.br](http://www.acessaber.com.br)

[www.alfakids.org](http://www.alfakids.org)

[www.escolaeducacao.com.br](http://www.escolaeducacao.com.br)

[www.ziraldo.com.br](http://www.ziraldo.com.br)

[www.educalunos.com](http://www.educalunos.com)

[www.soescola.com](http://www.soescola.com)

[www.indagacao.com.br](http://www.indagacao.com.br)

[www.atividadespedagogicassuzano.com.br](http://www.atividadespedagogicassuzano.com.br)