

1º ANO A

PROFESSORA: ADRIANA CÉLIA

# MINHAS ATIVIDADES

E.M. WALDOMIRO  
ANTONIO SOARES




© 2020 Editora eGravata




30/08

### ATIVIDADE 16.4

A. DESENHE OS QUADRADINHOS QUE FALTAM PARA COMPLETAR 65.



B. DESENHE AS CARINHAS QUE FALTAM PARA COMPLETAR 54.





HISTÓRIA - DATA: / /

# 7 DE SETEMBRO - INDEPENDÊNCIA DO BRASIL


A partir de quando o Brasil ficou pertencendo à Portugal?



...Em 1808, o rei de Portugal D. João VI, e toda a família real mudaram-se para o Brasil, para evitar um conflito com Napoleão Bonaparte.




Desde que foi descoberto por Pedro Álvares Cabral, em 1500. O Brasil era colônia de Portugal.




...Mas, em 1821, o rei voltou para Portugal e deixou o seu filho D. Pedro I como príncipe regente do Brasil.




Portugal queria que o Brasil voltasse a ser apenas uma colônia, mas D. Pedro não aceitava mais essa situação.



A partir desse dia, o Brasil não pertencia mais a Portugal. O Brasil era um país livre.



Então, foi no dia 7 de setembro de 1822, às margens do rio Ipiranga, em São Paulo, que D. Pedro I proclamou a Independência do Brasil, com o grito: Independência ou morte



Nossa! Que interessante essa história. Quero saber mais um pouquinho. Vou à biblioteca pesquisar. Obrigado e até logo!





31108

### ATIVIDADE 16.5

EM CADA CARTELA, HÁ QUATRO NÚMEROS REGISTRADOS, CIRCULE O MAIOR DE CADA UMA DELAS.

25	55
35	45

61	64
65	67

11	22
44	33

29	39
49	59

60	40
30	50

40	42
39	41

25	55
60	19

16	61
11	66


49	69
68	67

A. O QUE VOCÊ PENSOU PARA ESCOLHER O MAIOR NÚMERO EM CADA UMA DAS CARTELAS?




# ENIGMA


ESCREVA A PRIMEIRA LETRA DE CADA FIGURA E DESCUBRA QUAL É A FRASE.



	N			E	D	N			
--	---	--	--	---	---	---	--	--	--



--	--



	O			E
--	---	--	--	---



# CALENDÁRIO SETEMBRO - 2021



DOMINGO	SEGUNDA - FEIRA	TERÇA- FEIRA	QUARTA- FEIRA	QUINTA- FEIRA	SEXTA- FEIRA	SABADO
			1	2	3	4
5	6	7	8	9	10	11
12	13	14	15	16	17	18
19	20	21	22	23	24	25
26	27	28	29	30		

COLAR NO CADERNO








## ATIVIDADE 17.2

NOS JORNAIS E NA INTERNET, PODEMOS BUSCAR INFORMAÇÕES SOBRE O TEMPO E A TEMPERATURA. VEJA A PREVISÃO ABAIXO:

SÃO PAULO - SP

SEGUNDA 9/7/2012

DIA DE SOL, COM NEVOEIRO AO AMANHECER. MUITAS NUVENS À TARDE E À NOITE.

	MANHÃ	TARDE	NOITE
19°C			
10°C			

O SÍMBOLO °C É USADO PARA INDICAR TEMPERATURA E SE LÊ GRAUS CELSIUS.

- A QUE CIDADE ESSAS INFORMAÇÕES SE REFEREM?
- PARA QUE DIA FOI FEITA ESSA PREVISÃO?
- QUAL A TEMPERATURA MÁXIMA PREVISTA PARA ESSE DIA?
- E A TEMPERATURA MÍNIMA?
- QUAL A PREVISÃO DO TEMPO PARA O PERÍODO DA MANHÃ?
- E PARA O PERÍODO DA TARDE?
- E PARA O PERÍODO DA NOITE?



ESCOLA \_\_\_\_\_

NOME \_\_\_\_\_

DATA \_\_\_\_/\_\_\_\_/\_\_\_\_

VAMOS CANTAR?



### HINO DA INDEPENDÊNCIA

JÁ PODEIS, DA PÁTRIA FILHOS,  
VER CONTENTE A MÃE GENTIL;  
JÁ RAIOU A LIBERDADE  
NO HORIZONTE DO BRASIL.

BRAVA GENTE BRASILEIRA!  
LONGE VÁ... TEMOR SERVIL:  
OU FICAR A PÁTRIA LIVRE  
OU MORRER PELO BRASIL.

### ATIVIDADES

1. ENCONTRE E PINTE NO HINO O NOME BRASIL.
2. CIRCULE APENAS AS LETRAS QUE FORMAM O NOME DE NOSSO PAÍS.



A B C D E F G H  
I J K L M N O P  
Q R S T U V W  
X Y Z




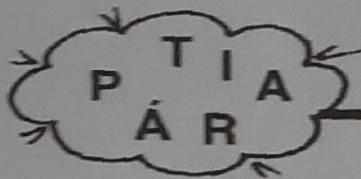
ESCOLA: \_\_\_\_\_

NOME: \_\_\_\_\_


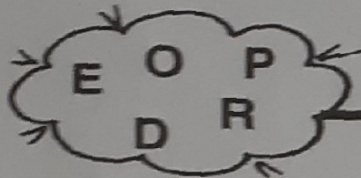
DATA: \_\_\_\_/\_\_\_\_/\_\_\_\_




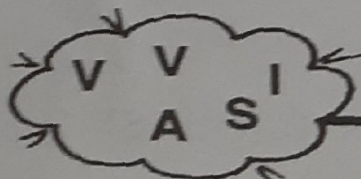
(festa)



(Pátria)



(Pedro)



(vivas)



4) Completar o quadro com as letras faltosas:

P		R	T		G		L	(Portugal)
A	L	E			I	A		(alegria)
G	R		T					(grito)
V		V		S				(vivas)
P	Á				I	A		(Pátria)



02/09

### ATIVIDADE 174

OLHANDO UM SITE DE TEMPO E DE TEMPERATURA, MARCELA OBSERVOU DIFERENTES CIDADES E SUAS TEMPERATURAS MÉDIAS.

ELA MORA NUMA CIDADE DE CLIMA QUENTE E FICOU IMAGINANDO O QUE ACONTECERIA NESSAS CIDADES. SENTIRIA CALOR? FRIO? OU ACHARIA A TEMPERATURA AMENA?

OBSERVE AS TEMPERATURAS DAS CIDADES PESQUISADAS POR MARCELA.

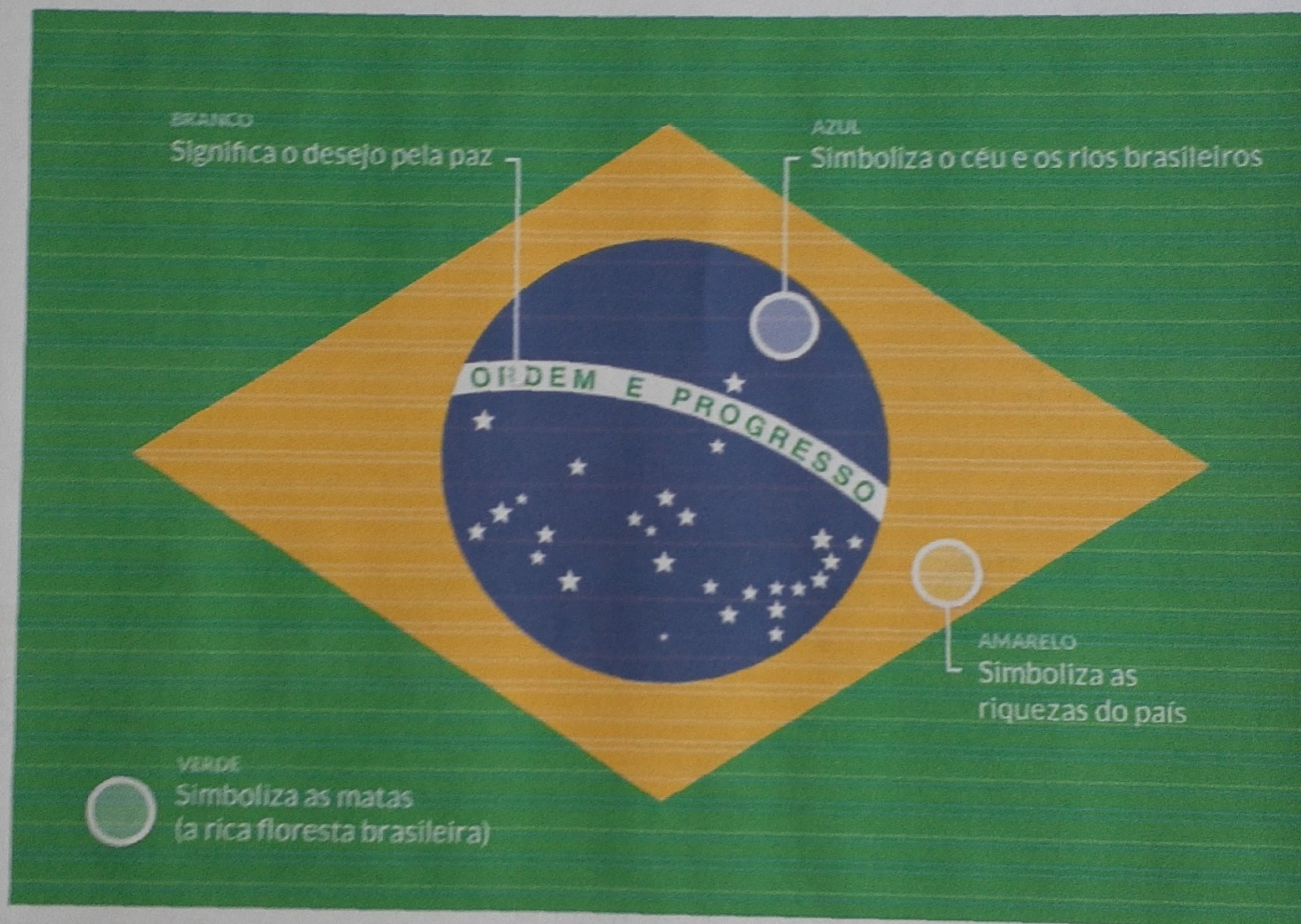
9 °C	14 °C	31 °C	12 °C
29 °C	34 °C	18 °C	40 °C
8 °C	10 °C	22 °C	32 °C

- A. PINTA DE VERMELHO AS CARTELAS CUJAS TEMPERATURAS ESTÃO ACIMA DE 30 °C.
- B. AS TEMPERATURAS QUE VOCÊ PINTOU DE VERMELHO SE REFEREM AO FRIO, AO CALOR OU À TEMPERATURA AMENA?
- 
- C. PINTA DE AZUL AS CARTELAS COM TEMPERATURAS ABAIXO DE 15 °C.
- D. AS TEMPERATURAS QUE VOCÊ PINTOU DE AZUL SE REFEREM AO FRIO, AO CALOR OU À TEMPERATURA AMENA?
-



MEU NOME É .....

VEJA A BANDEIRA BRASILEIRA E O QUE SIMBOLIZA CADA COR!



Ordem e Progresso – Lema baseado nos estudos do filósofo francês fundador do positivismo, Augusto Comte

Estrelas – Representam os estados e o Distrito Federal do país



03/09

## ATIVIDADE 17.5

ASSINALE A RESPOSTA CORRETA.

1. MARCOS SEPAROU SUAS FIGURINHAS EM DOIS GRUPOS. UM COM 20 FIGURINHAS E OUTRO COM 8. MARCOS TEM:

- A. 82 FIGURINHAS
- B. 208 FIGURINHAS
- C. 820 FIGURINHAS
- D. 28 FIGURINHAS

2. OBSERVE OS NÚMEROS INDICADOS NAS CARTELAS:

12		70		57		34		43		55
----	--	----	--	----	--	----	--	----	--	----

O MAIOR DELES É:

- A. 34
- B. 43
- C. 55
- D. 70

3. CECÍLIA COLOU ADESIVOS NUMA FOLHA DE CADERNO. VEJA:



QUANTOS ADESIVOS CECÍLIA COLOU?

- A. 13
- B. 14
- C. 15
- D. 16



ESCOLA: \_\_\_\_\_

PROFESSOR(A): \_\_\_\_\_ TURMA: \_\_\_\_\_

EU SOU: \_\_\_\_\_

# SEMANA DA PÁTRIA!

DOÇURA! COPIE E COMPLETE COM ATENÇÃO.



P	Á	T	R	I	A

BRASIL





08/09


4. UM DIA 13 QUALQUER CAIU NUMA SEXTA-FEIRA. O DOMINGO SEGUINTE A ESSA DATA FOI DIA:

- A. 14
- B. 15
- C. 16
- D. 17

5. NO DIA 15 DESTE MÊS, PAULINHA LEMBROU QUE FALTAVAM 7 DIAS PARA O SEU ANIVERSÁRIO. EM QUE DIA PAULINHA FAZ ANIVERSÁRIO?

- A. 16
- B. 18
- C. 20
- D. 22

6. NICOLE TEM UMA COLEÇÃO DE PRESILHAS. OBSERVE E RESPONDA:




QUANTAS PRESILHAS TEM NICOLE?

- A. 25
- B. 27
- C. 28
- D. 30




ATIVIDADE



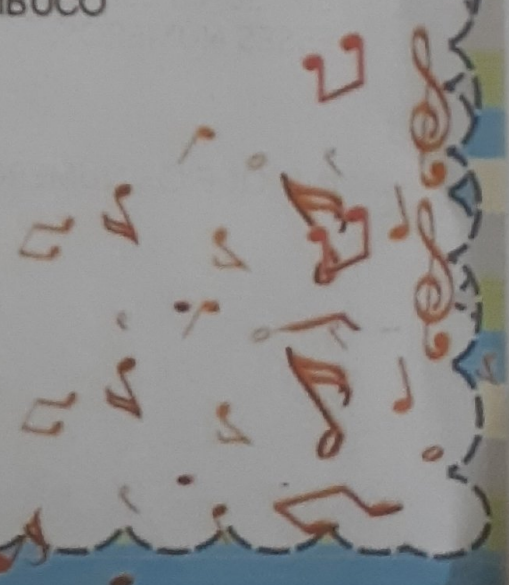
# VAMOS CANTAR!

## TREM DE FERRO



O TREM MALUCO  
QUANDO SAI DE PERNAMBUCO  
VAI FAZENDO CHIC CHIC  
ATÉ CHEGAR NO CEARÁ.

REBOLA PAI  
REBOLA MÃE  
REBOLA FILHA  
EU TAMBÉM SOU DA FAMÍLIA  
TAMBÉM QUERO REBOLAR.





09/09











# SEQUÊNCIA 20

## ÁLBUNS DE FIGURINHAS



### ATIVIDADE 20.1

1 VEJA A PÁGINA DO ÁLBUM DAS BORBOLETAS DE LUÍSA:

				
21	22	23	24	25
				
26	27	28	29	30
				
31	32	33	34	35
				
36	37	38	39	40

A. EM QUAIS ESPAÇOS AINDA FALTAM FIGURINHAS? INDIQUE QUAIS SÃO ESSES NÚMEROS:


B. INDIQUE OS NÚMEROS EM QUE AS BORBOLETAS SÃO IGUAIS:



MEU NOME É.....

# ATIVIDADE

1) O TRENZINHO DA MÔNICA JÁ VAI PARTIR, ANTES, ESCREVA A LETRA INICIAL DE CADA DESENHO NOS VAGÕES.













10/09

## ATIVIDADE 20.2

1 AGORA OBSERVE A PÁGINA DO ÁLBUM DE MATEUS.

 41			 44	
	 47		 49	
51		 53		 55
 56				 60

A. COLOQUE NOS ESPAÇOS OS NÚMEROS EM QUE AINDA FALTAM FIGURINHAS:

B. EM QUE QUADRADINHOS HÁ CARRINHOS VERDES?

C. EM QUE QUADRADINHOS HÁ CARRINHOS VERMELHOS?



MEU NOME É \_\_\_\_\_

## ATIVIDADE

VEJA O MAPA DO BRASIL! NÓS MORAMOS NO ESTADO DE **SÃO PAULO**. LEIA O NOME DOS ESTADOS BRASILEIROS. AGORA LOCALIZE O ESTADO DE ONDE O TREM DE FERRO SAIU E PINTE DE AZUL.

# BRASIL POLÍTICO



Fonte: [suportegeografico77.blogspot.com.br](http://suportegeografico77.blogspot.com.br)









### ATIVIDADE 20.3

13109

CAMILA E JOÃO, DOIS ANIVERSARIANTES, GANHARAM ÁLBUNS DE PRESENTE. ELES JÁ PREENCHERAM COM ALGUMAS FIGURINHAS. FALTAM FIGURINHAS NA ÚLTIMA PÁGINA DE SEUS ÁLBUNS. AS FIGURINHAS QUE FALTAM SÃO AS DOS ESPAÇOS NUMERADOS.

ÁLBUM DE CAMILA			
41	42	43	
45		47	48
49	50		52
53		55	56
57	58	59	
61			64

ÁLBUM DE JOÃO		
73	74	75
76	77	
79		81
	83	84
85		87
88		

IMAGENS: PIXABAY

A. QUANTAS FIGURINHAS TEM O ÁLBUM DE CAMILA?

B. E O ÁLBUM DE JOÃO?

C. QUANTAS FIGURINHAS CAMILA PRECISA PARA COMPLETAR SEU ÁLBUM?

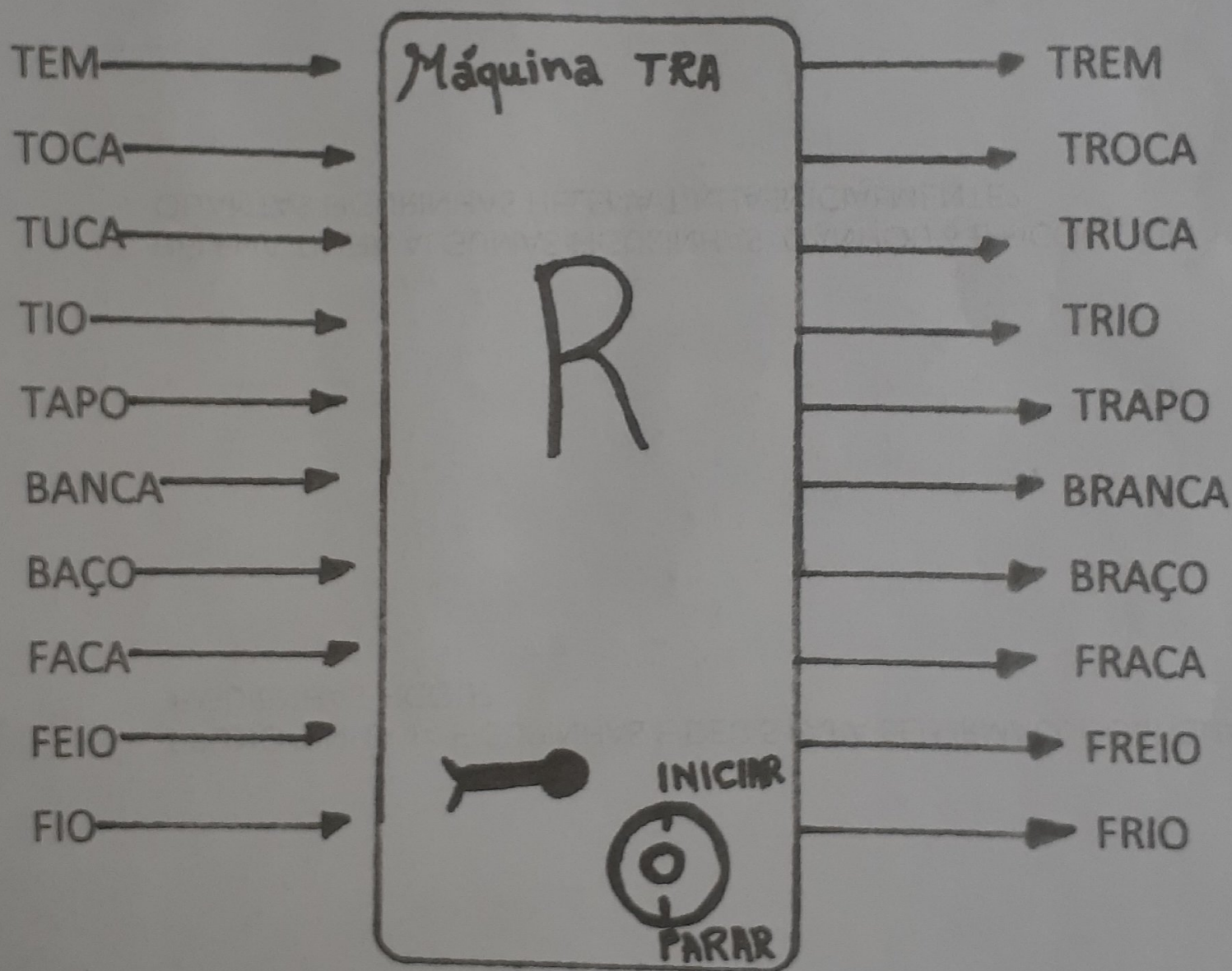
D. E O JOÃO?



NOME:.....

### ATIVIDADE

VAMOS LER O QUE ACONTECEU COM AS PALAVRAS DEPOIS QUE PASSARAM PELA MÁQUINA DO R!





14109

## ATIVIDADE 20.4

1. RESOLVA DO JEITO QUE SOUBER:

A. NATÁLIA TINHA 12 FIGURINHAS E GANHOU 8 DE SUA PRIMA. QUANTAS FIGURINHAS ELA TEM AGORA?

B. BRUNO TINHA 14 FIGURINHAS E DEU 5 PARA SEU IRMÃO. COM QUANTAS FIGURINHAS FICOU?



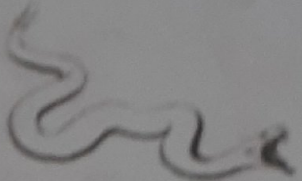













C. HELENA TINHA ALGUMAS FIGURINHAS. GANHOU 6 E FICOU COM 19. QUANTAS FIGURINHAS HELENA TINHA INICIALMENTE?



# ATIVIDADE

## LEITURA E ESCRITA - PALAVRAS COM "R" INTERCALADO

1. LEIA AS PALAVRAS DA COLUNA E ESCREVA O NOME DAS FIGURAS.

PRATO			
DRAGÃO	_____	_____	_____
LIVRO			
PADRE	_____	_____	_____
MICROFONE			
TRATOR	_____	_____	_____
TREM			
COBRA	_____	_____	
BRÓCOLIS			
COFRE	_____	_____	_____
ZEBRA			
GRAVATA	_____	_____	_____
ESTRELA			
PRESENTE			
TIGRE			
PREGO			




ATIVIDADE 20.5

16/09

1. NA FESTA JUNINA, AS CRIANÇAS FORMARAM PARES PARA DANÇAR QUADRILHA, QUE É UMA TRADIÇÃO DA CIDADE ONDE MORAM.

CADA MENINA RECEBEU UMA FITA PARA COLOCAR NO CABELO. CONTE-AS:



CADA MENINO RECEBEU UM CHAPÉU. CONTE-OS:



A. O QUE HAVIA MAIS NA FESTA: MENINAS OU MENINOS?

B. QUANTOS A MAIS?

C. QUANTOS PARES DE MENINOS E MENINAS PUDERAM SER FORMADOS?




17109

ZOO

# SEQUÊNCIA 21

## PASSEIO NO ZOOLOGICO



### ATIVIDADE 21.1

A TURMA DE ANDRÉ VAI FAZER UM PASSEIO AO ZOOLOGICO. A DATA MARCADA É A PRIMEIRA TERÇA-FEIRA DO PRÓXIMO MÊS.

1. CONSULTE UM CALENDÁRIO E ESCREVA A DATA COMPLETA DO PASSEIO:

DIA	MÊS	ANO

ANDRÉ E SUA TURMA ESTÃO ANSIOSOS PARA QUE O DIA DO PASSEIO CHEGUE DEPRESSA.

A. VEJA QUE DIA É HOJE E CONTE QUANTOS DIAS FALTAM PARA O PASSEIO. ANOTE AQUI:

---

B. INDIQUE QUANTOS DIAS FALTAM PARA TERMINAR O MÊS EM QUE ESTAMOS:

---