

ESCOLA: E.M. "ALEXANDRE VANNUCHI LEME"

DIRETORA: ROSANA PIRES DE OLIVEIRA

VICE- DIRETORA: ALEXANDRINA PEDROSO DE OLIVEIRA

PROFESSORA: JANAÍNA ANDRÉA DOS REIS BARRETO

RESPONSÁVEIS PELO ACOMPANHAMENTO DAS ATIVIDADES EM CASA:

ENTREGAR NO DIA

20/09/2021

SÉRIE: 3º ANO B

ALUNO: _____

APOSTILA 10

ATIVIDADES DE APOIO AO PROCESSO DA APRENDIZAGEM

PERÍODO DE 30/08/2021 A 17/09/2021

IBIÚNA

2021



Ibiúna, 30 de Agosto de 2021

Segunda-feira

Área de linguagem: Língua Portuguesa



https://st.depositphotos.com/1010683/3142/i/600/depositphotos_31420223-stock-photo-woman-holding-a-brazil-flag.jpg

Observando a imagem

1. O que você vê nessa imagem?

2. O personagem principal desta figura é criança ou adulto? Por quê?

3. O objeto que a pessoa da imagem está segurando representa o nosso país. Qual é o nome desse objeto?

4. O que você imagina que está acontecendo nessa cena acima?



Área de Ciências da Natureza: Ciências



https://localodonto.com.br/wp-content/uploads/2015/12/pol--ticas_p--blicas_de_sa--de_bucal1.jpg

1. Estamos na semana da Pátria. Juntos formamos uma nação. Converse com a sua família como nós podemos contribuir com a saúde de nosso país?

Área da Matemática

1. Vamos contar com muita atenção para não errar.



Quantos reais? R\$ _____



Quantos reais? R\$ _____



Quantos reais? R\$ _____



Quantos reais? R\$ _____



Quantos reais? R\$ _____

<https://proaisilvaartedeeducar.blogspot.com/2015/05/matematica-1-e-2-ano.html>

Vamos Juntar?

	+		=	
	+		=	
	+		=	
	+		=	
	+		=	
	+		=	
	+		=	



Ibiúna, 31 de Agosto de 2021

Terça-feira

Área da Matemática

AGOSTO 2021

Domingo	Segunda	Terça	Quarta	Quinta	Sexta	Sábado
1	2	3	4	5	6	7
8	9	10	11	12	13	14
15	16	17	18	19	20	21
22	23	24	25	26	27	28
29	30	31				

1. Escrevam os meses do ano?

2. Quantos dias tem uma semana? _____

3. Quantas semana tem este mês? _____

4. Quantos dias tem a terça-feira deste mês? _____

5. Quais são esses dias? _____

Área de linguagem: Língua Portuguesa

PÁTRIA

Isabel Cristina Silveira Soares

Pátria

União de povos

Raças diversas

Um sonho em comum



Vidas que desabrocham
Laços que se apertam ...
Pátria
Certeza de berço
Amor à origem
Saudade, se distante
Na alma o regresso...
Pátria...
Brasil...
Esperança
de melhores dias!



1 - Este é um texto:

- () informativo.
- () cômico.
- () poético.
- () jornalístico.

Área de linguagem: Educação Física

Olímpiadas paraolímpicas



Bocha



Vôlei Sentado



Basquete



Goalball



Esgrima



Futebol de 5



Ciclismo



Tênis em Cadeira de Rodas



Judô



Tiro Esportivo



Atletismo



Natação

Converse com a sua família sobre os desafios que vocês acreditam que uma pessoa com deficiência enfrenta até chegar numa paraolimpíadas.



Ibiúna, 01 de Setembro de 2021

Quarta-feira

Área de linguagem: Língua Portuguesa


BRASIL

O S da palavra Brasil tem o som de Z. Observe o exercício abaixo e complete corretamente;



Complete as palavras abaixo com **S** ou **Z** e depois escreva cada uma no quadro correspondente.

A__a	Vi__ita	Do__e	A__ilo
Co__ido	Famo__o	Va__io	A__edo
Ca__a	De__ena	Bati__ado	Te__oura
Defe__a	Pe__o	Avi__o	Va__o



Palavras com:

S

Z



Área de ciências Humana: História



Já podeis, da Pátria filhos,
Ver contente a mãe gentil;
Já raiou a liberdade
No horizonte do Brasil.

Brava gente brasileira!
Longe vá... temor servil:
Ou ficar a pátria livre
Ou morrer pelo Brasil.

Trecho do Hino da Independência

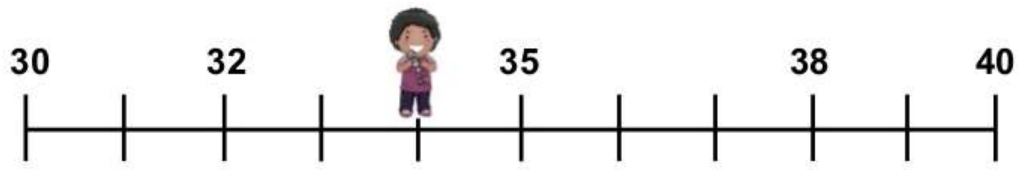
Explique o que você entende ao ler essa parte do Hino da Independência

<https://www.educacaoetransformacao.com.br>

Área da Matemática

Descobrimos números na reta numérica

Cada criança está escondendo um número na reta numérica. Você consegue descobrir quais são?

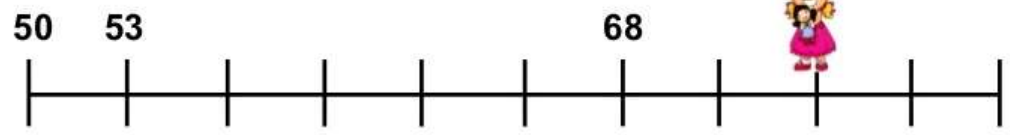


Número escondido



Estância Turística de Ibiúna

Secretaria da Educação
Rua Raimundo Santiago, 27
Telefone: (15) 3248.1574 ou 3248.1292
E-mail: apoiopedagogicosmeibiuna@hotmail.com



Número escondido



Número escondido

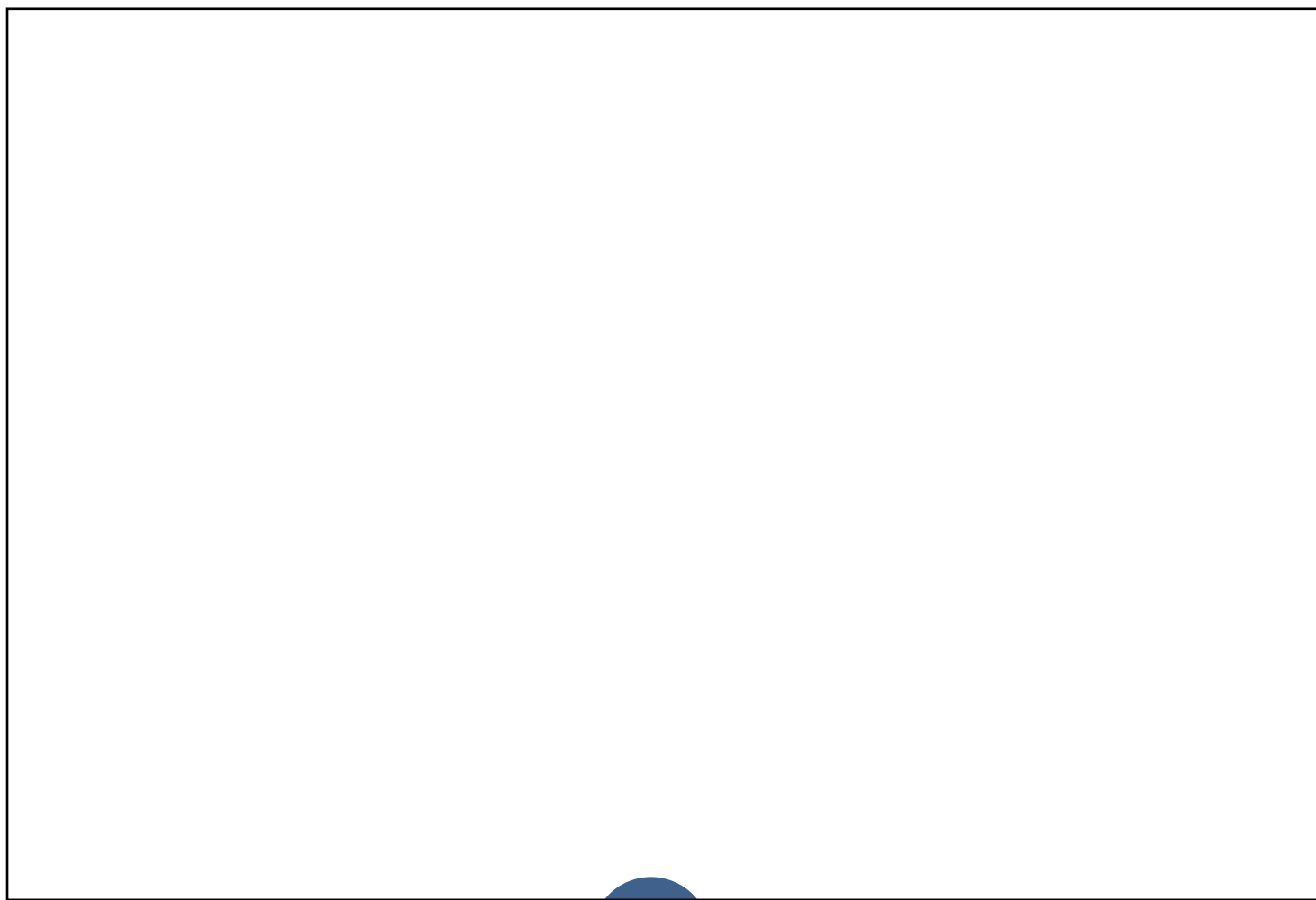
<https://www.atividadesmatematica.com/2015/10/caderno-de-atividades-pedagogicas-3-ano-parte-2.html>

Ibiúna, 02 de Setembro de 2021

Quinta-feira

Área de linguagem: Arte

Desenhe e pinte abaixo a bandeira do Brasil





Área de linguagem: Língua Portuguesa

MINHA PÁTRIA

Vicente Guimarães



Eu gosto de minha Pátria...
De seus campos, suas matas,
Gosto tanto do Brasil!
deste lindo céu de anil.

Tudo é grande em minha Pátria
Seus pássaros, mais cantores,
sua terra, mais fecunda
e mais lindas suas flores.

Seus rios são caudalosos
e seu céu é mais azul
onde entre lindas estrelas,
brilha o Cruzeiro do Sul.

É muito grande o Brasil!
Não cabe neste lugar
mas trago-o, inteirinho,
dentro do meu coração.

1- Complete:

• Nome da poesia: _____

• Nome do autor: _____

2- Esta poesia tem _____ estrofes e
_____ versos.

3- Nome da sua Pátria: _____

4- Nome da sua cidade: _____

5- Circule todas as rimas da poesia. Complete as rimas abaixo:

FLORES = AZUL =

6- O autor gosta de várias coisas no Brasil. Escreva algumas delas aqui:

<input type="text"/>	<input type="text"/>	<input type="text"/>	<input type="text"/>
<input type="text"/>	<input type="text"/>	<input type="text"/>	

7- Agora escreva os adjetivos usados por ele nas palavras:

RIO: _____ CÉU: _____ ESTRELAS: _____

8- Dê os primitivos das palavras abaixo:

INTEIRINHO: _____ CAUDALOSOS: _____

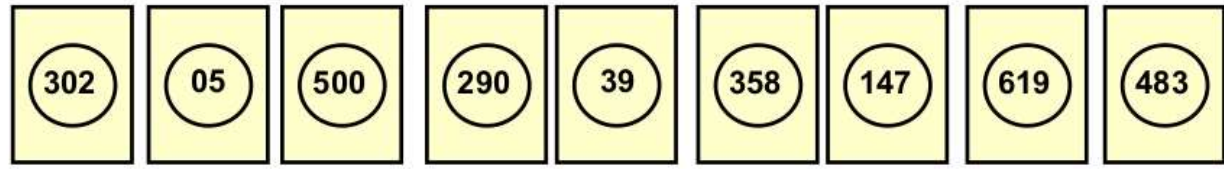
CRUZEIRO: _____ CANTORES: _____



Área da Matemática

Colocando em ordem

Guilherme coleciona figurinhas. Quando compra alguns pacotes, ele as organiza em ordem antes de colar. Ajude-o a colocar os números das figurinhas em **ordem crescente**:





<https://www.atividadesmatematica.com/2015/10/caderno-de-atividades-pedagogicas-3-ano-parte-2.html>

Ibiúna, 03 de Setembro de 2021

Sexta-feira

Área de ciências Humana: Geografia



https://f.i.uol.com.br/fotografia/2017/11/08/15101788885a0380485ab0d_1510178888_3x2_md.jpg



Observe a imagem acima e converse com a sua família o que está acontecendo com o Brasil e como podemos ajudar a construir um mundo melhor

Área de linguagem: Língua Portuguesa

POEMA: **Brasil**

Como é bela nossa Pátria
Tem riquezas e belezas mil
Nas suas terras e suas matas
Minha gente é o Brasil!



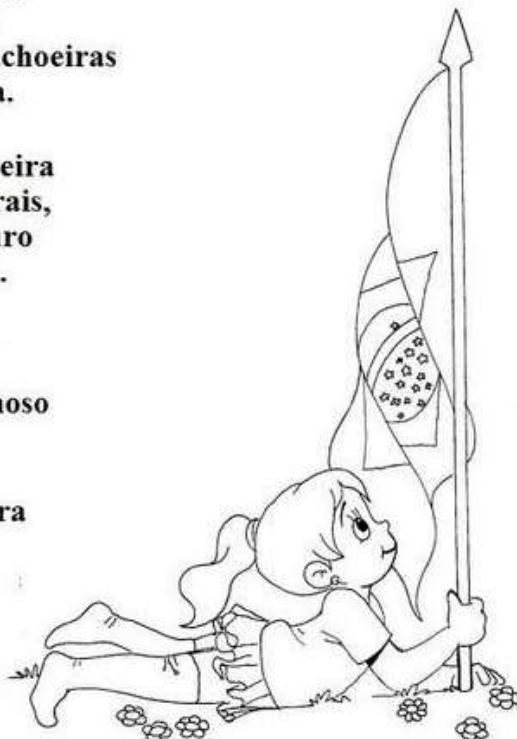
O verde da nossa Bandeira
Nossas matas representa
com seus rios, lagoas e cachoeiras
Essa é a Pátria Brasileira.

O amarelo da nossa Bandeira
São nossas riquezas minerais,
as pedras preciosas e o ouro
são o nosso maior tesouro.

O azul da nossa bandeira
Esse azul da cor do anil
representa o céu maravilhoso
do nosso querido Brasil.

O branco da nossa Bandeira
representa sem igual
Paz a todos os brasileiros
E ao mundo em geral.

Salve a Bandeira...
Do nosso querido Brasil.
Símbolo que representa
a Independência do Brasil.





Área da Matemática

Descobrimo o dobro

Complete a tabela e descubra o DOBRO dos números de 1 até 10:

	1	2	3	4	5	6	7	8	9	10
ADICIONAR O NÚMERO DUAS VEZES	1+1	2+2	3+3							
DOBRO	2	4								

Descobrimo o triplo

Complete a tabela e descubra o TRIPLO dos números de 1 até 10:

	1	2	3	4	5	6	7	8	9	10
ADICIONAR O NÚMERO TRÊS VEZES	1+1+1	2+2+2	3+3+3							
TRIPLO	3	6								

<https://www.atividadesmatematica.com/2015/10/caderno-de-atividades-pedagogicas-3-ano-parte-2.html>

Ibiúna, 08 de Setembro de 2021

Quarta-feira

Área de linguagem: Língua Portuguesa

1. Faça uma lista do que lembra o Brasil



Área de ciências Humana: História

Leia o texto abaixo:



D. Pedro I, ao chegar de Santos, encontrou, nas proximidades do riacho Ipiranga, emissários do Rio de Janeiro que traziam mensagens de Lisboa exigindo seu imediato retorno a Portugal.

Com as mensagens, vinham cartas de José Bonifácio, de Dona Leopoldina e do deputado Antônio Carlos que pediam a reação do príncipe.

D. Pedro sentiu que era chegada a hora, e no mesmo local, a 7 de setembro de 1822, às margens do riacho Ipiranga, com o célebre brado:

— “Independência ou morte”, determinou o rompimento dos laços que prendiam o Brasil aos antigos colonizadores.


Por isso, 7 setembro é dia de festa no Brasil.



Área da Matemática

A Matemática na Arte

Alguns pintores utilizam figuras geométricas em suas obras. Observe a imagem abaixo que representa "A Gare" – 1925, de Tarsila do Amaral e identifique algumas figuras geométricas usadas escrevendo seus nomes com ajuda do professor.



A yellow rectangular area with horizontal dashed lines for writing.

<https://www.atividadesmatematica.com/2015/10/caderno-de-atividades-pedagogicas-3-ano-parte-2.html>

Ibiúna, 09 de Setembro de 2021

Quinta-feira

Área de linguagem: Arte

Faça um desenho utilizando formas geométricas

A large empty rectangular box for drawing.



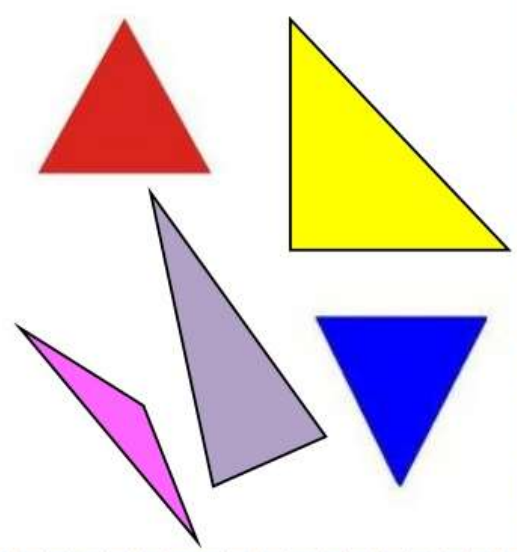
Área de linguagem: Língua Portuguesa

Escreva uma lista de palavra com BR


Área da Matemática

Triângulos

As figuras que possuem 3 lados são chamadas de triângulos. Observe:



Desenhe triângulos diferentes unindo os pontos da malha pontilhada:



galeriadobolinas.blogspot.com/2010/06/matematica...

<https://www.atividadesmatematica.com/2015/10/caderno-de-atividades-pedagogicas-3-ano-parte-2.html>

Ibiúna, 10 de Setembro de 2021

Sexta-feira

Área de ciências Humana: Geografia

Converse com sua família os problemas sociais que os brasileiros estão passando com esta pandemia



Área de linguagem: Língua Portuguesa

COM S OU SS?



Complete corretamente as palavras usando "s" ou "ss".

Ca__a

Sal__icha

Pa__eio

A__ado

Gira__ol

Pá__aro

Suce__o

Can__ado

Pe__oa

Carro__el

Pul__eira

So__ego

Aniver__ário

Pa__arela

A__obio

Progre__o

Pa__o





Área da Matemática

Observe os números encontrados na atividade anterior. Circule o que representa a maior quantidade e risque o que representa a menor quantidade. Explique como você descobriu.

150

105

510

501

Copie os números no **quadro valor de lugar**. Depois, decomponha cada um deles:

CENTENA	DEZENA	UNIDADE
1	5	0



100 + 50

CENTENA	DEZENA	UNIDADE



CENTENA	DEZENA	UNIDADE



CENTENA	DEZENA	UNIDADE



Discuta com a sua turma sobre o valor do 5 em cada número.
 Quanto ele vale no 150? _____
 E no 105? _____
 E no 510? _____
 E no 501? _____



Ibiúna, 13 de Setembro de 2021

Segunda-feira

Área de linguagem: Língua Portuguesa



<https://www.smartkids.com.br/trabalho/estacoes-do-ano-primavera>



Observando a imagem acima

1. O que você vê na imagem?

2. Você sabe me dizer qual é a estação do ano representada na figura?

Área de Ciências da Natureza: Ciências

Fazer o Anexo 1 que se encontra no final da página



Área da Matemática

Pensando sobre o valor do algarismo

Gabriel escreveu um número no quadro. Observe:



Escreva este número por extenso:

Agora, decomponha-o:



Ibiúna, 14 de Setembro de 2021

Terça-feira

Área da Matemática

Os preços subiram!

Uma loja aumentou em **10 REAIS** o preço de alguns brinquedos. Veja o preço antigo e escreva o novo preço nas etiquetas:



Preço antigo: 20 REAIS
Preço novo:



Preço antigo: 18 REAIS
Preço novo:



Preço antigo: 40 REAIS
Preço novo:



Preço antigo: 22 REAIS
Preço novo:

Utilize as cédulas de Real para contar.



Preço antigo: 65 REAIS
Preço novo:



Preço antigo: 100 REAIS
Preço novo:



Área de linguagem: Língua Portuguesa

- LEIA AS PALAVRAS E COLOQUE-AS EM ORDEM ALFABÉTICA:



Handwriting practice area with a decorative scalloped top and seven horizontal lines for writing.



- AGORA RETIRE DA LISTA QUE VOCÊ COLOCOU EM ORDEM:

UMA PALAVRA COM ACENTO CIRCUNFLEXO: _____

UMA PALAVRA COM ACENTO AGUDO: _____

UMA PALAVRA COM 4 SÍLABAS: _____

UMA PALAVRA COM 2 SÍLABAS: _____

ESCOLHA DUAS PALAVRAS DA LISTA E FORME FRASES:

1 _____

2 _____

Área de linguagem: Educação Física

Dinâmica das flores:

Você ou alguém de sua família deverá ficar de costas. Vira de frente para quem estiver participando da brincadeira e fala: Estou no jardim e procuro a flor da cor... (escolha uma cor). Os participantes deverão procurar a cor citada e levar para o líder, o primeiro que chegar passar para o lado do líder da brincadeira. Bom divertimento!

Ibiúna, 16 de Setembro de 2021

Quinta-feira

Área de linguagem: Arte

Vincent **van Gogh** (1853-1890) foi um importante pintor holandês. Uma de suas obras mais importantes é: Os Girassóis (quadro abaixo). Na folha de desenho (enviada junto com esta apostila) você deverá tentar copiar de seu jeito este quadro, não esqueça assinar o seu trabalho, ou seja, escreve o seu nome abaixo do desenho.



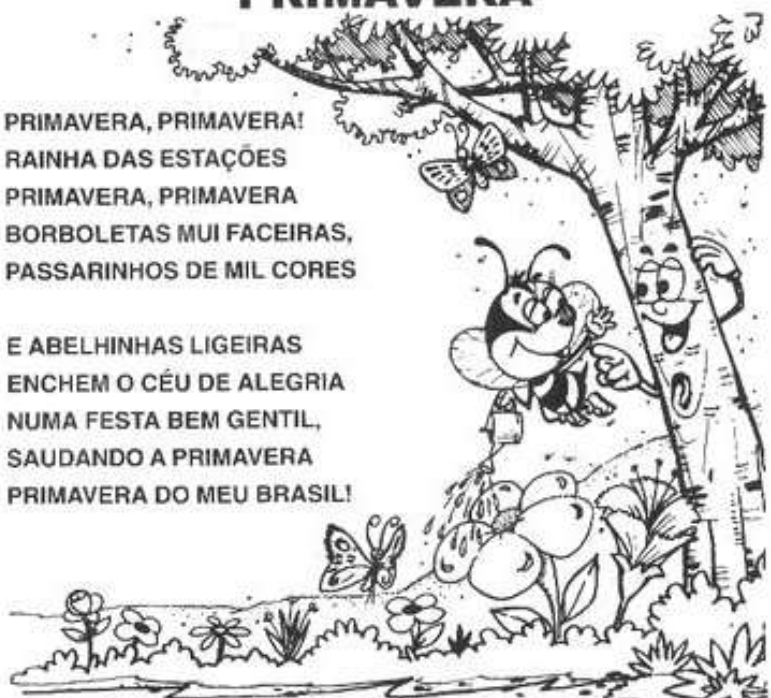
<https://i2.wp.com/virusdaarte.net/wp-content/uploads/2013/11/papagaio123.png>

Área de linguagem: Língua Portuguesa

PRIMAVERA

PRIMAVERA, PRIMAVERA!
RAINHA DAS ESTAÇÕES
PRIMAVERA, PRIMAVERA
BORBOLETAS MUI FACEIRAS,
PASSARINHOS DE MIL CORES

E ABELHINHAS LIGEIRAS
ENCHEM O CÉU DE ALEGRIA
NUMA FESTA BEM GENTIL,
SAUDANDO A PRIMAVERA
PRIMAVERA DO MEU BRASIL!



(Helena Pinto Vieira)



Interpretando o texto

1. Qual é o título do texto?

2. Quem escreveu esta poesia?

3. O que enche o céu de alegria?

Área da Matemática

Observe a tabuada do 2

1	×	2	=	2
2	×	2	=	4
3	×	2	=	6
4	×	2	=	8
5	×	2	=	10
6	×	2	=	12
7	×	2	=	14
8	×	2	=	16
9	×	2	=	18
10	×	2	=	20

Divisão

1. Complete corretamente, seguindo o exemplo

- a) $8 : 2 = 4$, pois $2 \times 4 = 8$
- b) $14 : 2 = \underline{\quad}$, pois $2 \times \underline{\quad} = 14$
- c) $18 : 2 = \underline{\quad}$, pois $2 \times \underline{\quad} = 18$
- d) $6 : 2 = \underline{\quad}$, pois $2 \times \underline{\quad} = 6$
- e) $12 : 2 = \underline{\quad}$, pois $2 \times \underline{\quad} = 12$
- f) $10 : 2 = \underline{\quad}$, pois $2 \times \underline{\quad} = 10$

Se precisar olhe na tabuada




Ibiúna, 17 de Setembro de 2021

Sexta-feira


Área de ciências Humana: Geografia

As Estações do Ano

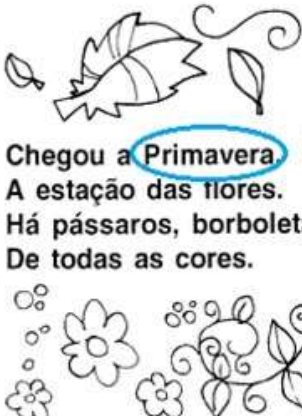
Nascem os frutos,
Não é frio, nem quente,
no agradável **Outono**
Eu fico contente.




Faz tanto frio.
Ao **Inverno** chegar,
Não nado, não brinco,
Não vou passear.




Chegou a **Primavera**.
A estação das flores.
Há pássaros, borboletas
De todas as cores.



Com muita chuva,
Chegou o **Verão**
Calor forte e sol
Faz nesta estação.



Apenas três meses
Dura cada estação,
E todas elas trazem
Alegria no coração.





Filomena Maria da Silva. - Estado de Minas, 22/07/1995.

Leia com atenção o texto acima. Converse com a família: Será que hoje em dia estamos tendo as quatro estações do ano como fala o texto? Escreva abaixo a opinião de sua família.



Área de linguagem: Língua Portuguesa

PRIMAVERA
Gerusa Rodrigues Pinto




Primavera estação das flores
Enfeita os campos que ficam em festa
Onde borboletas multicores
Parecem flores de muitas cores.

Os pássaros cantam alegremente
E o beija-flor de flor em flor
Anuncia a Primavera
Estação alegre de muito amor.

Vejo o sol brilhar majestoso
No céu azul e na natureza.

E eu feliz agradeço a Deus
O Criador de tanta beleza.



Assinale a resposta correta:

1. De acordo com o texto que anuncia a Primavera?

- a) As borboletas
- b) O Sol
- c) O beija-flor
- d) A chuva



Área da Matemática

Divisão

$$8 : 2 = 4$$

$$\begin{array}{r} 10 \overline{) 2} \\ 0 \quad 5 \end{array} \Bigg) \times$$



10 dividido por 2, preciso saber 2 vezes qual número que dê 10 ou chegue bem perto, então, percebo que 2×5 é igual a 10. Como 0 número multiplicado é o 5, coloco embaixo do 2.



Tenho 2 grupos de 5 e não sobra nenhum,
então eu coloco o zero embaixo do 10



Agora é a sua vez:

$$2 \overline{) 2} \underline{\quad}$$

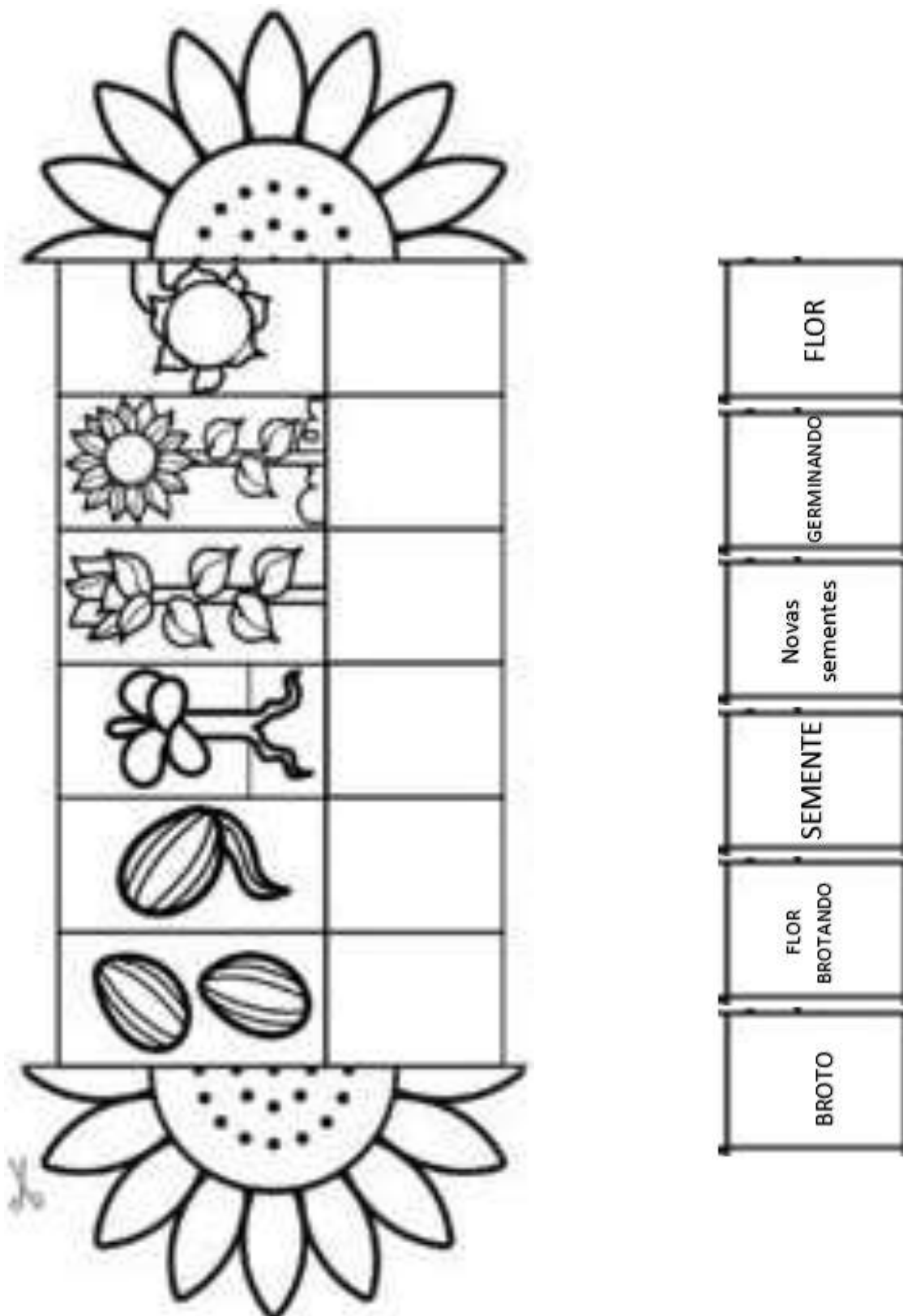
$$4 \overline{) 2} \underline{\quad}$$

$$6 \overline{) 2} \underline{\quad}$$

$$8 \overline{) 2} \underline{\quad}$$



Anexo 1: Ciclo das Flores (coloque os nomes nos lugares corretos recorte e monte a flor)





Estância Turística de Ibiúna

Secretaria da Educação

Rua Raimundo Santiago, 27

Telefone: (15) 3248.1574 ou 3248.1292

E-mail: apoiopedagogicosmeibiuna@hotmail.com

