

NOME: _____

PROFESSOR (A): REGINA

TURMA: 3º B

MINHAS ATIVIDADES

E.M. WALDOMIRO
ANTONIO SOARES



ESCOLA: E.M. " WALDOMIRO ANTONIO SOARES "

ALUNO: _____

3º ANO B

DATA: 30/08/2021



DICA DE HOJE:
PARÁGRAFO É UMA PARTE DO TEXTO COM SENTIDO COMPLETO. INICIADA COM AFASTAMENTO NA MARGEM!

LEIA O TEXTO ENUMERANDO OS PARÁGRAFOS.

O CORVO E A RAPOSA

ESOPO

UM CORVO POUSOU EM UMA ÁRVORE, COM UM BOM PEDAÇO DE QUEIJO NO BICO. ATRAÍDA PELO CHEIRO DO QUEIJO, APROXIMOU-SE DA ÁRVORE UMA RAPOSA. COM MUITA VONTADE DE COMER AQUELE QUEIJO, E SEM CONDIÇÕES DE SUBIR NA ÁRVORE, AFINAL, NÃO TINHA ASAS. A RAPOSA RESOLVEU USAR SUA INTELIGÊNCIA EM BENEFÍCIO PRÓPRIO.

— BOM DIA AMIGO CORVO! — DISSE BEM MATREIRA A RAPOSA. O CORVO OLHOU-A E FEZ UMA SAUDAÇÃO BALANÇANDO A CABEÇA.

— OUVI FALAR QUE O ROUXINOL TEM O CANTO MAIS BELO DE TODA A FLORESTA. MAS EU APOSTO QUE VOCÊ, MEU AMIGO, ACASO CANTASSE, O FARIA MELHOR QUE QUALQUER OUTRO ANIMAL.

— SENTINDO-SE DESAFIADO E QUERENDO PROVAR SEU VALOR, O CORVO ABRIU O BICO PARA CANTAR. FOI QUANDO O QUEIJO CAIU-LHE DA BOCA E FOI DIRETO AO CHÃO. A RAPOSA APANHOU O QUEIJO E AGRADECEU AO CORVO:

— DA PRÓXIMA VEZ AMIGO, DESCONFIE DAS BAJULAÇÕES!



Fábulas de Esopo

MORAL DA HISTÓRIA: DESCONFIE DOS BAJULADORES, ESSES SEMPRE SE APROVEITAM DA SITUAÇÃO, PARA TIRAR VANTAGEM SOBRE VOCÊ.

QUANTOS PARÁGRAFOS HÁ NO TEXTO LIDO?

EM QUE PARÁGRAFO CONTA-SE ONDE SE PASSA A HISTÓRIA?

QUE OUTRO FINAL VOCÊ DARIA À HISTÓRIA?

ALUNO: _____

3º ANO B

DATA: 01/09/2021



PARA TERMOS SAÚDE PRECISAMOS TER UMA ALIMENTAÇÃO SAUDÁVEL! QUANTO MAIS COLORIDA MAIS SAUDÁVEL A SUA ALIMENTAÇÃO!

É DE SUMA IMPORTÂNCIA TER UMA ALIMENTAÇÃO VARIADA EM VITAMINAS. PORTANTO, UMA VARIEDADE DE ALIMENTOS ENGOLOBA COMERMOS:

- LEGUMES E FRUTAS (RICOS EM VITAMINAS E MINERAIS).
- PÃES E OUTROS CERAIS (RICOS EM CARBOIDRATOS E FONTES DE ENERGIA).
- CARNES, LATICÍNIOS E OVOS (ALIMENTOS RICOS EM PROTEÍNAS, ESSENCIAIS PARA O CRESCIMENTO).

VAMOS DESCOBRIR COMO ANDAM SEUS HÁBITOS ALIMENTARES? RESPONDA A ENQUETE ABAIXO E DESCUBRA COMO ESTÃO OS SEUS HÁBITOS ALIMENTARES.

 TOMO SUCO DE FRUTAS.

SIM NÃO

COMO LEGUMES.

SIM NÃO

COMO VERDURAS.

SIM NÃO

COMO FRUTAS.

SIM NÃO

COMO FEIJÃO E ARROZ.

SIM NÃO

 COMO CARNE.

SIM NÃO

COMO PEIXE.

SIM NÃO

COMO OVOS E QUEIJOS.

SIM NÃO

EVITO REFRIGERANTES.

SIM NÃO

EVITO CHUPAR BALAS.

SIM NÃO



AGORA, FALE UM POUCO SOBRE O RESULTADO FINAL. COMO ANDAM SEUS HÁBITOS ALIMENTARES?

CONTE QUANTOS "SIM" VOCÊ RESPONDEU: _____

NÚMERO DE PONTOS	HÁBITOS ALIMENTARES
ENTRE 8 E 10	ÓTIMOS
ENTRE 7 E 5	PODEM MELHORAR
MENOS DE 5	PRECISAM MELHORAR



ALUNO: _____

DATA: 03/09/2021



PARA TERMOS SAÚDE, PRECISAMOS COMER TODOS OS TIPOS DE ALIMENTOS, POIS CADA UM TEM SUA IMPORTÂNCIA PARA MANTER O CORPO SAUDÁVEL.

QUAIS OS TIPOS DE ALIMENTOS QUE VOCÊ CONHECE?



ACOMPANHE A LEITURA ATENTAMENTE E RESPONDA.

FRUTAS, LEGUMES E VERDURAS DEVEM SER CONSUMIDOS DIARIAMENTE. ELES SÃO FONTES DE FIBRA ALIMENTAR, VITAMINAS E MINERAIS.

DISPONÍVEL EM: <WWW.BRASIL.GOV.BR/SAUDE/2014/09/ESCOLHAS-ALIMENTARES-SAUDAVEIS-ALIMENTAM-A-QUALIDADE-DE-VIDA>
ACESSO EM: 3 SET. 2017.

A) VOCÊ COME ALGUMA FRUTA POR DIA? QUAIS FRUTAS VOCÊ COME?


B) VOCÊ COME LEGUMES TODOS OS DIAS? QUAIS LEGUMES VOCÊ COME?

DATA: 03/09/2021

INDEPENDÊNCIA DO BRASIL 7 DE SETEMBRO

Foi no dia 7 de Setembro de 1822, que D. Pedro libertou o nosso país.

Ele gritou, às margens do riacho Ipiranga, em São Paulo: "Independência ou Morte!"



DATA: 09/09/2021



VOCÊ TEM HÁBITOS ALIMENTARES SAUDÁVEIS?



ALMOÇO DO LUCAS: ARROZ, FEIJÃO, FRANGO, ALFACE E SALADA DE LEGUMES.

JANTAR DO LÉO: APENAS MACARRÃO INSTANTÂNEO.

EM SUA OPINIÃO, QUAL É A MELHOR REFEIÇÃO: O ALMOÇO OU O JANTAR? POR QUÊ?

AGORA, ACOMPANHE A LEITURA:



A) A MAGALI ESTÁ EXAGERANDO AO PEDIR TODAS AS BOLAS DE SORVETE? POR QUÊ? _____

B) JÁ COMEU ALGO DE MANEIRA EXAGERADA? O QUE VOCÊ COMEU E O QUE SENTIU DEPOIS QUE TERMINOU? _____

DATA: 13/09/2021



AS LISTAS SÃO MODELOS ESTÁVEIS DE ESCRITAS. ISSO QUER DIZER QUE, SEMPRE QUE NECESSÁRIO, AS PESSOAS PODEM RECORRER A ELAS PARA ORGANIZAREM EVENTOS, AS IDAS AO MERCADO, AS COMPRAS DE PRESENTES, ETC...

LEIA ESTAS DUAS LISTAS E DESCUBRA SOBRE O QUE ELAS TRATAM.

BANANA
MAÇÃ
MAMÃO
LIMÃO
UVA
GOIABA

ESTA É UMA LISTA DE:

CACHORRO
LEÃO
MACACO
ONÇA
GATO
HIPOPÓTAMO

ESTA É UMA LISTA DE:

AGORA ESCOLHA UM TEMA E ESCREVA VOCÊ UMA **LISTA** DE PALAVRAS QUE PERTENÇAM A ESSE MESMO TEMA.




DATA: 16/09/2021



SABIA QUE AS **FRUTAS** FAZEM PARTE DO GRUPO DE ALIMENTOS SAUDÁVEIS? E QUE SUA PRODUÇÃO VARIA SEGUNDO AS ESTAÇÕES DO ANO!

O BRASIL, PELO SEU TAMANHO CONTINENTAL, TEM REGIÕES COM DIFERENTES CLIMAS, CONSEGUINDO MANTER UMA GRANDE VARIEDADE DE FRUTAS DURANTE O ANO TODO. ÀS VEZES UMA FRUTA VIAJA LONGAS DISTÂNCIAS ATÉ CHEGAR ÀS NOSSAS MESAS.

AS FRUTAS



QUAIS DAS FRUTAS CITADAS NA CRUZADINHA VOCÊ JÁ COMEU?

QUAL É A SUA FRUTA FAVORITA?

DATA: 17/09/2021



JÁ VIMOS, EM OUTRAS ATIVIDADES, QUE AS LISTAS
PODEM TER VÁRIAS FINALIDADES PARA O NOSSO DIA
A DIA. UMA DELAS É NOS AUXILIAR NA ORGANIZAÇÃO
DE NOMES E OBJETOS.

OBSERVE A LISTA DE ANIMAIS AO LADO:



AGORA É A SUA VEZ DE ORGANIZAR
ESSA LISTA DE ANIMAIS, DE ACORDO
COM O NÚMERO DE SÍLABAS.

- | | |
|-------------|---------------|
| • AVESTRUZ | • HIPOPÓTAMO |
| • TARTARUGA | • ZEBRA |
| • LEOPARDO | • LOBO |
| • CISNE | • RINOCERONTE |
| • TUCANO | • ELEFANTE |
| • GEGONHA | • GIRAFA |
| • JACARÉ | • CHIMPANZÉ |
| • URSO | • LEÃO |
| • GORILA | • ONÇA |

**NOMES DE ANIMAIS COM
DUAS SÍLABAS:**

(PALAVRAS DISSÍLABAS)

**NOMES DE ANIMAIS COM
TRÊS SÍLABAS:**

(PALAVRAS TRISSÍLABAS)

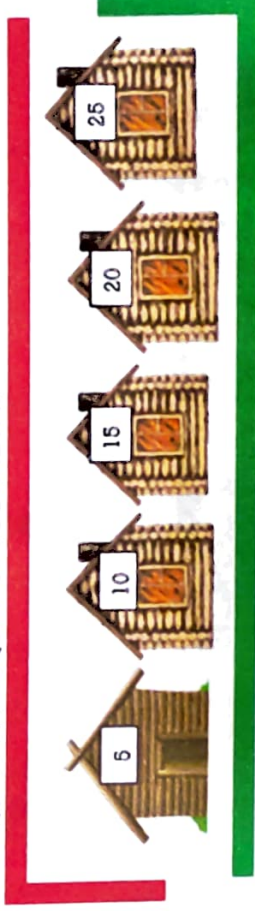
**NOMES DE ANIMAIS COM
MAIS DE TRÊS SÍLABAS:**

(PALAVRAS POLISSÍLABAS)

DATA: 08/09/2021

NO INTERIOR HÁ UMA PEQUENA COMUNIDADE, COM APROXIMADAMENTE 300 FAMÍLIAS. NESSA VILA EXISTEM VÁRIAS CASAS FEITAS DE MADEIRA. ELAS SÃO NUMERADAS EM UMA SEQUÊNCIA PADRÃO DIFERENTE:

DESCUBRA QUALÉ A SEQUÊNCIA CORRETA:



1

ASSINALE A RESPOSTA COM A ALTERNATIVA CORRETA:

- A) () DE 2 EM 2
- B) () DE 3 EM 3
- C) () DE 5 EM 5
- D) () DE 4 EM 4

2

PEDRO ESTÁ JOGANDO BOLINHAS DE GUDE. VEJA O VALOR DAS RODADAS QUE PEDRO JÁ CONSEGUIU.

1° RODADA = 3

2° RODADA = 6

3° RODADA = 9



A) CALCULE A SOMA TOTAL DOS PONTOS DE PEDRO EM TODAS AS RODADAS.

B) QUAL SERIA A PONTUAÇÃO DE PEDRO SE ELE JOGASSE A QUARTA PARTIDA?



NOME: _____ 3º ANO B

DATA: 10/09/2021

OBSERVE ESSE OBJETO DA IMAGEM.




1

ESSE OBJETO É UTILIZADO EM SINAL DE EMERGÊNCIA E ATENÇÃO, CARRO QUEBRADO NAS RODOVIAS DE TODO PAÍS. QUAL É A FIGURA GEOMÉTRICA QUE SE PARECE COM ESSE OBJETO?

- A) () TRIÂNGULO
- B) () RETÂNGULO
- C) () CÍRCULO
- D) () QUADRADO

2

QUANTOS TRIÂNGULOS TEM NA FIGURA? MARQUE A RESPOSTA CORRETA.




- A) () 2 TRIÂNGULOS
- B) () 4 TRIÂNGULOS
- C) () 5 TRIÂNGULOS
- D) () 6 TRIÂNGULOS



DATA: 31/08/2021

PARA RESPONDER AS SITUAÇÕES PROBLEMA A SEGUIR. ANALISE O CONTEXTO ABAIXO:
JORGE ORGANIZOU UMA FESTA NA CHÁCARA PARA COMEMORAR SEU ANIVERSÁRIO COM MUITOS CONVIDADOS. HAVIA DOIS GRUPOS DANÇANDO:



3

QUANTAS PESSOAS TINHA NO GRUPO 1 E GRUPO 2?

- A) () GRUPO UM 18 PESSOAS, GRUPO DOIS 15 PESSOAS.
- B) () GRUPO UM 12 PESSOAS, GRUPO DOIS 14 PESSOAS.
- C) () GRUPO UM 17 PESSOAS, GRUPO DOIS 15 PESSOAS.
- D) () GRUPO UM 12 PESSOAS, GRUPO DOIS 14 PESSOAS.

4

QUANTAS PESSOAS A MAIS O GRUPO 1 PRECISA PARA FICAR COM 20 PESSOAS?

- A) () 3 PESSOAS
- B) () 5 PESSOAS
- C) () 7 PESSOAS
- D) () 2 PESSOAS

5

QUANTAS PESSOAS A MAIS TÊM O GRUPO 1 EM RELAÇÃO AO GRUPO 2?

- A) () 5 PESSOAS
- B) () 7 PESSOAS
- C) () 3 PESSOAS
- D) () 2 PESSOAS

6

QUANTAS PESSOAS TÊM OS DOIS GRUPOS JUNTOS?

- A) () 32 PESSOAS
- B) () 30 PESSOAS
- C) () 27 PESSOAS
- D) () 31 PESSOAS

7

QUANTAS PESSOAS PRECISO RETIRAR DO GRUPO 1 E COLOCAR NO GRUPO 2 PARA QUE OS DOIS GRUPOS FIQUEM COM A MESMA QUANTIDADE DE PESSOAS?

- A) () 2 PESSOAS
- B) () 1 PESSOA
- C) () 3 PESSOAS
- D) () 4 PESSOAS



ESCOLA: E.M. " WALDOMIRO ANTONIO SOARES "

DATA: 02/09/2021

NOME: _____ 3º ANO B

JESSICA TÊM UM GRUPO DE DANÇA COM 3 EQUIPES, QUANTOS INTEGRANTESO GRUPO TÊM AO TODO?



1

- A) () 18 PESSOAS
- B) () 17 PESSOAS
- C) () 27 PESSOAS
- D) () 28 PESSOAS

CECILIA TÊM 3 PILHAS DE LIVROS, CADA PILHA TEM 10 LIVROS CADA UMA. QUANTOS LIVROS TÊM NAS 3 PILHAS DE LIVROS?

2


- A) () 30 LIVROS
- B) () 20 LIVROS
- C) () 25 LIVROS
- D) () 35 LIVROS



DATA: 14/09/2021



JANAINA LEVOU OS SEUS CACHORROS NO VETERINÁRIO PARA SABER QUAL A MASSA, EM QUILO. OBSERVE NA TABELA O PESO DOS CACHORROS.

NOME DOS CACHORROS	PESO DOS CACHORROS
 BISTECA	4 QUILOS
 BELINHA	12 QUILOS
 NINA	9 QUILOS
 NININHA	10 QUILOS

AGORA, RESPONDA:

A) QUEM PESA MENOS? _____

B) QUEM PESA MAIS? _____

C) QUAL É O PESO DOS 4 CACHORROS JUNTOS? _____

D) QUAL A DIFERENÇA DE PESO ENTRE O BISTECA E A NININHA?



DATA: 16/09/2021


2 OBSERVE AS IMAGENS E COMPLETE A TABELA ABAIXO DE ACORDO COM A CAPACIDADE DE CADA UM:



MENOS DE MEIO LITRO	1 LITRO	MAIS DE 1 LITRO

3

OBSERVANDO O DESENHO, QUEM VOCÊ ACHA QUE É MAIS PESADA?



4

OBSERVE AGORA O PESO DA MÔNICA E O PESO DA MAGALI E DEPOIS RESPONDA AS QUESTÕES.



28 QUILOS (KG)



32 QUILOS (KG)

- A) QUEM É A MAIS PESADA? _____
- B) QUANTOS QUILOS A MÔNICA PESA MAIS QUE A MAGALI? _____
- C) VOCÊ É MAIS PESADO OU MAIS LEVE QUE A MÔNICA? _____



DATA: 17/09/2021

2

MARIA FEZ UMA PESQUISA EM SUA SALA DE AULA PARA SABER QUAL O ESPORTE FAVORITO DA TURMA E REGISTROU OS DADOS EM UMA TABELA:

ESPORTE FAVORITO	VOTOS
FUTEBOL	
VÔLEI	
BASQUETE	
HANDEBOL	

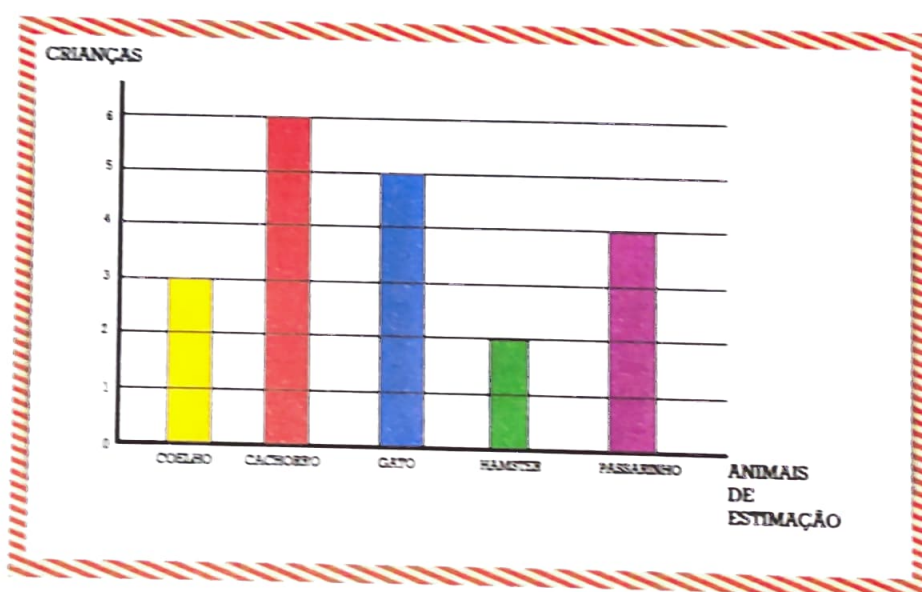
A) QUAL O ESPORTE MAIS VOTADO?

B) QUAL O ESPORTE MENOS VOTADO?

C) QUAIS ESPORTES TIVERAM A MESMA QUANTIDADE DE VOTOS?

3

CAROL FEZ UMA PESQUISA SOBRE O ANIMAL DE ESTIMAÇÃO FAVORITO DOS SEUS COLEGAS DE SALA DE AULA E REGISTROU OS DADOS EM UM GRÁFICO:



A) QUANTAS CRIANÇAS TEM O CACHORRO COMO ANIMAL DE ESTIMAÇÃO?

B) QUANTAS CRIANÇAS TEM O HAMSTER COMO ANIMAL DE ESTIMAÇÃO?

C) QUAL É O SEGUNDO ANIMAL DE ESTIMAÇÃO MAIS VOTADO?



REFERÊNCIAS

- WWW.PINTEREST.COM.BR
- wordwall.net
- [ACESSE APROFUNDAR.COM](http://ACESSE.APROFUNDAR.COM)
- Atividades/ Crislaine Ponciano/ Fátima Laudelino