



ESTUDANDO EM



APOSTILA Nº 10

DIAS: 30 E 31/8, 01, 02, 03, 08, 09, 10, 13,
14, 16 E 17/09

E.M. RECANTO FELIZ PROFA SANDRA REGINA RODRIGUES DA SILVA

NOME: _____

1º ANO A

PROFA TÂNIA


IBIÚNA, 30 DE AGOSTO DE 2 021

COMPETÊNCIA SOCIOEMOCIONAL

ATIVIDADE 1



OLÁ, EU ME CHAMO RILEY, TENHO 11 ANOS. SABE, EU LEVAVA UMA VIDA SIMPLES E FELIZ ONDE MORAVA MAS TUDO MUDOU NA MINHA VIDA DEPOIS QUE EU E MINHA FAMÍLIA MUDAMOS DE CIDADE DEVIDO AO TRABALHO DO PAPAÍ. AGORA CONVIVO COM MUITAS EMOÇÕES NA MINHA MENTE E CONFESSO QUE FICO UM POUCO CONFUSA...

 OBSERVE AS IMAGENS ABAIXO E DESCUBRA QUAIS SÃO ESSAS EMOÇÕES. EM SEGUIDA, FAÇA A CORRESPONDÊNCIA LIGANDO-AS.



RAIVA

MEDO

ALEGRIA

NOJO

TRISTEZA

CIÊNCIAS HUMANAS

ATIVIDADE 1



ASSINALE NO QUADRINHO ABAIXO, A IMAGEM QUE DEMONSTRA SER O PRIMEIRO DIA DE HILEY NA NOVA ESCOLA, PARA ONDE ELA SE MUDOU.



ATIVIDADE 2

SER DIFERENTE É NORMAL, NÃO É MESMO? VOCÊ DEVE IMAGINAR O QUÃO DIFÍCIL FOI PARA HILEY FAZER NOVAS AMIZADES, SE ACOSTUMAR COM A ROTINA DA ESCOLA.

O ACOLHIMENTO E O RESPEITO FAZEM PARTE DA BOA CONVIVÊNCIA.



COM A AJUDA DE UM ADULTO, MARQUE COM UM X, O QUE É NECESSÁRIO PARA TER UMA BOA CONVIVÊNCIA.

IGNORAR A PRESENÇA DA PESSOA, ISTO É, FAZER DE CONTA QUE A PESSOA NÃO ESTÁ PRESENTE, PRÓXIMA.

TER RESPEITO.

VIVER DISCUTINDO.

NÃO FAZER AMIZADE.



VOCÊ RESPEITA OS SEUS COLEGAS DE ESCOLA?

SIM

NÃO



O QUE VOCÊ GOSTA DE FAZER COM SEUS AMIGOS? (REGISTRE COMO PREFERIR.)

MATEMÁTICA

ATIVIDADE 1



PINTE O CAMINHO, CONTANDO DE 1 EM 1, ATÉ CHEGAR AO NÚMERO 30. ISSO FARÁ COM QUE HILEY SINTA UMA DAS EMOÇÕES QUE LHE DARÁ SENSAÇÃO DE BEM ESTAR. (PRESTE ATENÇÃO, POIS VOCÊ DEVE SEGUIR CERTINHO A SEQUÊNCIA ATÉ O 30.)

<p>MEDO</p>		25	26	27	4	<p>ALEGRIA</p>	
		24	1	28	9		
		13	7	29	30		
20	13	1	2	4	11		
19	18	17	16	15	14	13	12
2	9	26	30	21	5	3	11
29	22	1	2	7	25	29	10
		3	27	30	4	9	
		4	5	6	7	8	

LÍNGUA PORTUGUESA

ATIVIDADE 1



DENTRO DO CÉREBRO DE RILEY, PERSONAGEM PRINCIPAL DO FILME “DIVERTIDA MENTE”, CONVIVEM VÁRIAS EMOÇÕES DIFERENTES. OBSERVE-AS ABAIXO.



ALEGRIA



RAIVA



TRISTEZA



NOJO



MEDO

ATIVIDADE 2



ESCREVA O NOME DE CADA UMA DAS EMOÇÕES E PINTE, EM CADA QUADRO AS LETRAS QUE FORAM USADAS NA ESCRITA.



--	--	--	--	--	--	--	--

A	B	C	D	E	F	G	H
I	J	K	L	M	N	O	P
Q	R	S	T	U	V	W	X
Y	Z						



--	--	--	--	--	--	--	--

A	B	C	D	E	F	G	H
I	J	K	L	M	N	O	P
Q	R	S	T	U	V	W	X
Y	Z						



--	--	--	--

A	B	C	D	E	F	G	H
I	J	K	L	M	N	O	P
Q	R	S	T	U	V	W	X
Y	Z						



--	--	--	--	--

A	B	C	D	E	F	G	H
I	J	K	L	M	N	O	P
Q	R	S	T	U	V	W	X
Y	Z						



--	--	--	--

A	B	C	D	E	F	G	H
I	J	K	L	M	N	O	P
Q	R	S	T	U	V	W	X
Y	Z						

IBIÚNA, 1 DE SETEMBRO DE 2 021

MATEMÁTICA

ATIVIDADE 2

UM PASSEIO PELO BAIRRO



OBSERVE PARTE DO BAIRRO EM QUE RILEY ESTÁ MORANDO.



A) TRACE OS CAMINHOS NAS CORES INDICADAS ABAIXO:

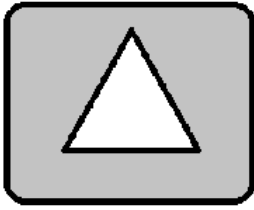
➤ UM CAMINHO **AZUL** DA CASA DE HILEY ATÉ A ESCOLA.

➤ UM CAMINHO **VERMELHO** DA CASA DE HILEY ATÉ O CINEMA.

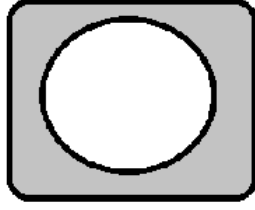
B) ESCREVA O NOME DO LOCAL MAIS PRÓXIMO DA CASA DE HILEY. (OBSERVE AS ESCRITAS EM AZUIS.)

ATIVIDADE 3

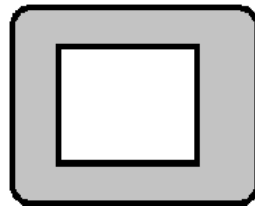
c) VOLTE NA IMAGEM DO BAIRRO ONDE HILEY MORA E OBSERVE O TELHADO DO SUPERMERCADO. EM SEGUIDA, ASSINALE ABAIXO QUAL É A SUA FORMA.



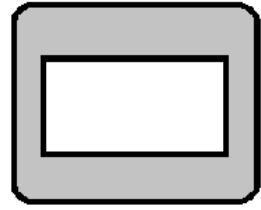
()



()



()



()

ATIVIDADE 4

A IDADE DE HILEY E A MINHA



VAMOS RECORDAR QUAL A IDADE DE RILEY, OBSERVANDO ABAIXO? EM SEGUIDA, DESENHE VOCÊ E REGISTRE A SUA IDADE NO QUADRO AO LADO.



11 ANOS



___ **ANOS**



QUEM É MAIS VELHO(A), HILEY OU VOCÊ? _____




QUANTOS ANOS ELA TEM A MAIS QUE VOCÊ? (REGISTRE ABAIXO COMO VOCÊ FEZ PARA DESCOBRIR.)

LÍNGUA PORTUGUESA


ATIVIDADE 3




ESCREVA A PRIMEIRA LETRA DE CADA FIGURA E DESCUBRA UMA DATA HISTÓRICA QUE É COMEMORADA NO DIA 7 DE SETEMBRO.



	N				E		D		N		I	
--	----------	--	--	--	----------	--	----------	--	----------	--	----------	--



--	--



--	--	--	--	--	--

CIÊNCIAS HUMANAS

ATIVIDADE 3

UM POUQUINHO DE CONVERSA...

VOCÊ SABIA QUE 7 DE SETEMBRO É FERIADO NACIONAL PORQUE É COMEMORADO DIA DA INDEPENDÊNCIA DO BRASIL?

MAS O QUE É SER INDEPENDENTE?



DOM PEDRO – GRITO DA INDEPENDÊNCIA

INDEPENDENTE: QUE NÃO DEPENDE, NÃO DEVE OBEDIÊNCIA; QUE AGE COM AUTONOMIA., COISA QUE O BRASIL NÃO TINHA POR SER DEPENDENTE DE PORTUGAL.

ATIVIDADE 4



COM A AJUDA DE UM ADULTO, ESCREVA O QUE SE PEDE:

♥ O NOME DO NOSSO PAÍS É:

♥ QUEM NASCE NO BRASIL É:



PÁTRIA AMADA
BRASIL!

IBIÚNA, 3 DE SETEMBRO DE 2 021

MATEMÁTICA

ATIVIDADE 5



OLÁ MEUS AMORES, TUDO BEM?
INICIAMOS UM NOVO MÊS, PORTANTO COMPLETE O
CALENDÁRIO ABAIXO, COM MUITA ATENÇÃO E CAPRICHOS!

MÊS: _____ ANO: _____						
DOM	SEG	TER	QUA	QUI	SEX	SÁB
			1			
		7				11
12			15		17	
	20	21		23		25
26			29			



RESPONDA:

- QUE DIA DA SEMANA É HOJE? ESCREVA NO QUADRO.

- DIA 7 SERÁ FERIADO. CIRCULE ESSE DIA NO CALENDÁRIO ACIMA E ESCREVA O DIA DA SEMANA.

LÍNGUA PORTUGUESA

ATIVIDADE 4



COM A AJUDA DE UM ADULTO, LEIA O TEXTO ABAIXO:

A FAMÍLIA DE DOM PEDRO, QUERIA QUE O BRASIL PERTENCESSE A PORTUGAL MAS ELE NÃO CONCORDAVA COM ISSO. ENTÃO, CONTRARIANDO A TODOS, EXCETO SUA ESPOSA, A QUAL SEMPRE O APOIAVA, ELE MONTOU EM SEU CAVALO, OU MELHOR, EM SUA MULA, JÁ QUE NEM TUDO NA HISTÓRIA É VERDADEIRO, E ACOMPANHADO DE SEUS CAVALEIROS FOI ÀS MARGENS DO RIO IPIRANGA, EM SÃO PAULO E GRITOU: “**INDEPENDÊNCIA OU MORTE!**”



OBSERVE A ESCRITA DA PALAVRA ABAIXO E EM SEGUIDA, COMPLETE O NOME DAS FIGURAS COM A SÍLABA FALTOSA.

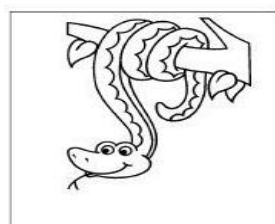


BRA

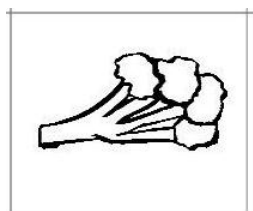
SIL




GA DEI RO




CO




CO LIS




CA



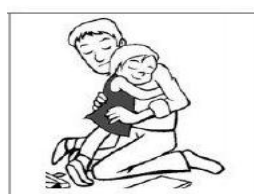
XA



ZE



ÇO



A



ÇO

IBIÚNA, 8 DE SETEMBRO DE 2 021

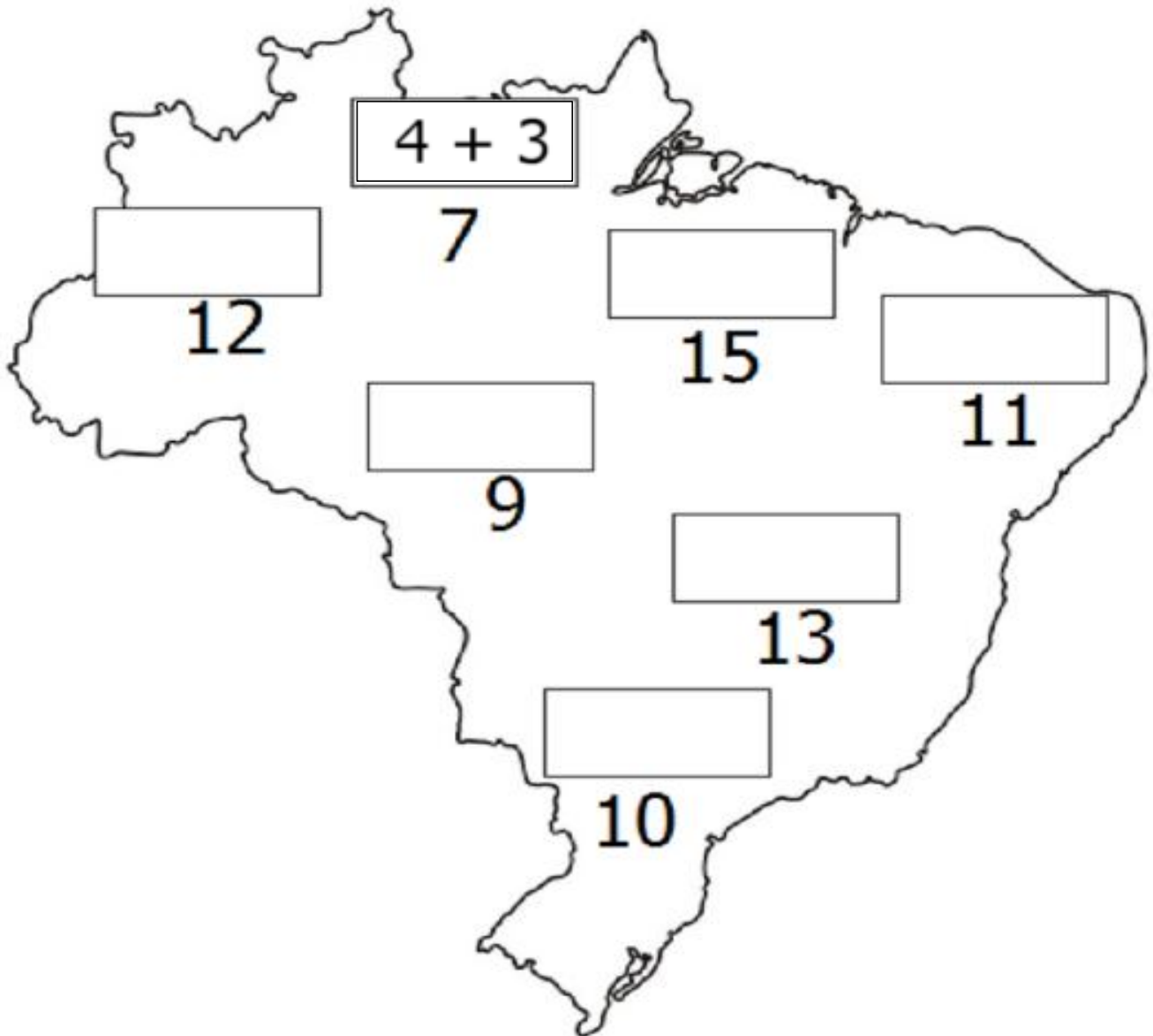
MATEMÁTICA

ATIVIDADE 6



RECORTE E COLE AS FICHAS DAS ADIÇÕES DENTRO DOS RETÂNGULOS QUE ESTÃO NO MAPA, DE ACORDO COM OS RESPECTIVOS RESULTADOS.

DICA: UTILIZE FEIJÕES, MILHO, PEDRINHAS OU QUALQUER OUTRA COISA QUE DESEJAR. É SÓ VOCÊ COLOCAR A QUANTIDADE SOLICITADA E DEPOIS JUNTAR.



$$9 + 1$$

$$10 + 1$$

$$5 + 4$$

$$10 + 5$$

$$10 + 2$$

$$10 + 3$$

LÍNGUA PORTUGUESA

ATIVIDADE 5



OBSERVE A MENINA ABAIXO:



MEG

O SEU NOME É **MEG**. ELA É A MELHOR AMIGA DE RILEY.

RILEY FICOU MUITO TRISTE AO SE MUDAR DE CIDADE PORQUE FICOU DISTANTE DA AMIGA.

E VOCÊ, TEM UM MELHOR AMIGO OU AMIGA? ESCREVA O NOME NO RETÂNGULO ABAIXO.

COMPETÊNCIA SOCIOEMOCIONAL

ATIVIDADE 2



NO FILME “DIVERTIDA MENTE” CADA EMOÇÃO É EXPRESSA POR UM PERSONAGEM. PREENCHA COM O QUE SE PEDE:



O que te deixa bravo?



O que te deixa triste?



O que lhe causa nojo?



Do que você tem medo?



O que te deixa feliz?

CIÊNCIAS HUMANAS

ATIVIDADE 5



VAMOS REFLETIR UM POQUINHO?

OLHANDO A IMAGEM AO LADO, VOCÊ ACREDITA QUE DOM PEDRO VIAJARIA PARA TÃO LONGE A CAVALO? NÃO SERIA UMA MULA OU UMA ÉGUA QUE SÃO MAIS RESISTENTES?

CONVERSE COM SEUS FAMILIARES SOBRE A DISCUSSÃO E RESPONDA ORALMENTE.

PELA IMAGEM VOCÊ PODE PERCEBER QUE ISSO OCORREU:

HÁ POUCO TEMPO. HÁ MUITO TEMPO.

MATEMÁTICA

ATIVIDADE 7



FORME UM GRUPO COM **10** CAVALOS. (É SÓ CONTAR E CIRCULÁ-LOS NUM SÓ GRUPO).



UM GRUPO DE **10** EQUIVALE A UMA **DEZENA**.

QUANTO GRUPO VOCÊ FORMOU?

QUANTOS CAVALOS SOBRARAM FORA NO GRUPO?

REGISTRO:

D	U
<input type="text"/>	<input type="text"/>

ATIVIDADE 8

RESOLVA A SITUAÇÃO PROBLEMA ABAIXO:



BRUNO COSTUMA COLECIONAR BRINQUEDOS EM MINIATURAS. ELE ESTAVA COM A QUANTIDADE DE CAVALINHOS ABAIXO. CONTE-OS E REGISTRE NO QUADRINHO.



BRUNO RESOLVEU DAR 4 CAVALINHOS DA SUA COLEÇÃO PARA DAVI, SEU IRMÃO.

COM QUANTOS CAVALINHOS BRUNO FICOU?



REPRESENTE ABAIXO POR MEIO DE CÁLCULO:

$$\underline{\quad\quad} - \underline{\quad\quad} = \underline{\quad\quad}$$

LÍNGUA PORTUGUESA

ATIVIDADE 6



COM A AJUDA DE UM ADULTO, FAÇA A LEITURA ABAIXO.

LEITURA: FÁBULA

O LEÃO E O RATINHO

UM LEÃO, CANSADO DE TANTO CAÇAR, DORMIA **ESPICHADO** DEBAIXO DA SOMBRA BOA DA ÁRVORE. VIERAM UNS RATINHOS PASSEAR EM CIMA DELE E ELE ACORDOU. TODOS CONSEGUIRAM FUGIR, MENOS UM, QUE O LEÃO PRENDEU DEBAIXO DA PATA. TANTO O RATINHO PEDIU E IMPLOROU QUE O LEÃO DESISTIU DE ESMAGÁ-LO E DEIXOU QUE FOSSE EMBORA.

ALGUM TEMPO DEPOIS, O LEÃO FICOU PRESO NA REDE DE UNS CAÇADORES. NÃO CONSEGUINDO SE SOLTAR, FAZIA A FLORESTA INTEIRA TREMER COM SEUS **URROS** DE RAIVA. NISSO APARECEU O RATINHO E, COM SEUS DENTES AFIADOS, ROEU AS CORDAS E SOLTOU O LEÃO.

MORAL DA HISTÓRIA:

UMA BOA AÇÃO GANHA OUTRA.




ATIVIDADE 7

INTERPRETAÇÃO DO TEXTO




COM A AJUDA DE UM ADULTO, LEIA E ASSINALE A RESPOSTA CORRETA.


A. QUEM SÃO OS PERSONAGENS DA HISTÓRIA? ASSINALE-OS.



LEÃO



RATINHO




PATO

B. ACOMPANHE A LEITURA.

UM LEÃO DORMIA **ESPICHADO**



MARQUE UM X NA IMAGEM QUE MOSTRA COMO O LEÃO DORMIA.



MATEMÁTICA


ATIVIDADE 9



COM A AJUDA DE UM ADULTO, FAÇA O QUE SE PEDE:

A. QUEM É **MAIS LEVE**, O LEÃO OU RATINHO?

PINTE O ANIMAL **MAIS PESADO** E CIRCULE O **MAIS LEVE**.



B. QUAL CRIANÇA ESTÁ SEGURANDO OBJETO **MAIS PESADO**?
FAÇA UM X.



LÍNGUA PORTUGUESA

ATIVIDADE 8



COM A AJUDA DE UM ADULTO, LEIA UM TRECHO DA HISTÓRIA ABAIXO.

(...) O LEÃO FICOU PRESO NA REDE DE UNS CAÇADORES. NÃO CONSEGUINDO SE SOLTAR, FAZIA A FLORESTA INTEIRA TREMER COM SEUS **URROS** DE RAIVA.

➤ CIRCULE TODAS AS PALAVRAS QUE PODEM EXPLICAR O QUE SIGNIFICA A PALAVRA **URRO**.

GRITO

BEIJO

RISO

SOPRO

BERRO

ATIVIDADE 9



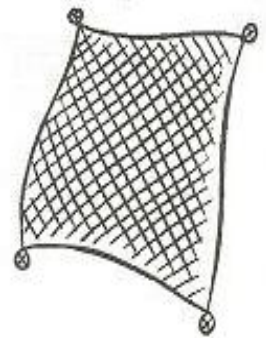
COMPLETE AS PALAVRAS COM AS LETRAS QUE ESTÃO FALTANDO.



___ O R ___ A



___ E ã ___



R ___ D ___



___ A Ç A ___ O R



___ A ___ I N H ___

MATEMÁTICA

ATIVIDADE 10

OBSERVE A TABELA DO TEMPO APROXIMADO DE ALGUNS ANIMAIS:



ANIMAIS	TEMPO DE VIDA
LEÃO	27 ANOS
RATO	4 ANOS
MACACO	40 ANOS
TARTARUGA	100 ANOS



COM A AJUDA DE UM ADULTO, RESPONDA ÀS QUESTÕES ABAIXO:

A) QUAL É O ANIMAL QUE TEM **MAIOR** TEMPO DE VIDA?

B) QUAL É O ANIMAL QUE TEM **MENOR** TEMPO DE VIDA?

ATIVIDADE 11



BRUNO ORGANIZOU PARTE DOS CAVALINHOS DA SUA COLEÇÃO NA CABECEIRA DA SUA CAMA. OBSERVE ABAIXO:



➤ QUAL SERIA O PRÓXIMO CAVALINHO NA SEQUÊNCIA ACIMA? ASSINALE-O.



LÍNGUA PORTUGUESA

ATIVIDADE 10





LIGUE O DESENHO QUE TENHA A MESMA TERMINAÇÃO SONORA, ISTO É, MESMO SOM FINAL.



ATIVIDADE 11











ASSINALE COM **X**, SOMENTE AS FIGURAS QUE TERMINAM COMO **LEÃO**.




MATEMÁTICA

ATIVIDADE 12

 **QUAIS NÚMEROS ESTÃO COBERTOS PELOS PERSONAGENS DA FÁBULA NESTE QUADRO NUMÉRICO? OBSERVE E DIGA EM VOZ ALTA.**

1	2	3	4		6	7	8		10
	12	13		15	16	17		19	20
21		23	24		26		28	29	
31	32	33	34	35	36	37	38		40

 **AGORA ESCREVA OS NÚMEROS QUE FALTAM NO ESPAÇO ABAIXO EM ORDEM CRESCENTE (DO MENOR PARA O MAIOR).**

--	--	--	--	--	--	--	--	--	--

ATIVIDADE 13

 **CLASSIFIQUE **1** PARA ÁRVORES E **2** PARA FLORES.**



--	--	--	--	--	--	--	--

LÍNGUA PORTUGUESA

ATIVIDADE 12



COM A AJUDA DE UM ADULTO, LEIA O TEXTO ABAIXO:

PRIMAVERA EM BREVE VAI CHEGAR

CANTA O PASSARINHO, PARA ANUNCIAR
QUE A PRIMAVERA BREVE VAI CHEGAR!
RIOS E CASCATAS CORREM PARA O MAR;
QUE A PRIMAVERA BREVE VAI CHEGAR!
GRILOS BEM ALEGRES PÕEM-SE A SALTAR;
QUE A PRIMAVERA BREVE VAI CHEGAR!
FLORES PERFUMADAS VÃO DESABROCHAR;
QUE A PRIMAVERA BREVE VAI CHEGAR!
E A TERRA TODA VAI SE ALEGRAR;
QUE A PRIMAVERA BREVE VAI CHEGAR!



<https://www.todamateria.com.br/estacoes-do-ano-kids/>



CIRCULE A PALAVRA **PRIMAVERA** NO TEXTO ACIMA.



QUANTAS VEZES ESSA PALAVRA APARECE NO TEXTO?

ATIVIDADE 13



OBSERVE ATENTAMENTE A ESCRITA DA PALAVRA:



VOCÊ NOTOU QUE HÁ DUAS PALAVRAS EM UMA SÓ? COPIE-AS NOS QUADROS.

<input type="text"/>	<input type="text"/>
----------------------	----------------------



AGORA DESCUBRA OS NOMES DAS FIGURAS NA PALAVRA E CIRCULE-AS.



CAMALEÃO



depositphotos

IBIÚNA, 17 DE SETEMBRO DE 2 021

MATEMÁTICA

ATIVIDADE 13



OBSERVE O CALENDÁRIO ABAIXO E CIRCULE O DIA DE HOJE E O DIA QUE INICIA A PRIMAVERA. (OBSERVE QUE ESTÁ ANOTADO NA IMAGEM ACIMA)

Setembro 2021						
D	S	T	Q	Q	S	S
			1	2	3	4
5	6	7	8	9	10	11
12	13	14	15	16	17	18
19	20	21	22	23	24	25
26	27	28	29	30		



FALTAM APENAS ALGUNS DIAS PARA A CHEGADA DA PRIMAVERA...

CONTE NO CALENDÁRIO E ASSINALE ABAIXO QUANTOS DIAS FALTAM.

4 DIAS

5 DIAS

6 DIAS

LÍNGUA PORTUGUESA

ATIVIDADE 14



A PRIMAVERA É CONHECIDA COMO A **ESTAÇÃO DAS FLORES**.


COM A AJUDA DE UM ADULTO, ESCREVA NOMES DE TRÊS FLORES.


LÍNGUA PORTUGUESA

ATIVIDADE 15



OBSERVE AS FLORES ABAIXO E APÓS, ASSINALE COM UM X, A SÍLABA QUE COMPLETA O NOME DE CADA UMA.

	TI
	FI
	VI
____ OLETA	

	GA
	BA
	CA
MAR ____ RIDA	

CIÊNCIAS NATURAIS

ATIVIDADE 1

COM A VOLTA ÀS AULAS É PRECISO CUIDADO REDOBRADO!



VOCÊ É ESPERTO(A) E JÁ APRENDEU DE COMO DEVE PROCEDER EM ALGUNS AMBIENTES E O QUE USAR PARA SE PROTEGER DO VÍRUS, NÃO É?

ASSINALE ABAIXO, O QUE DEVE SER USADO NA HIGIENE E OS PROCEDIMENTOS QUE VOCÊ ACHA ESTÃO CORRETOS.



REFERÊNCIAS

GOOGLE IMAGENS / CRIAÇÃO DE ATIVIDADES

* ATIVIDADES ADAPTADAS DE ACORDO

<https://www.tudoquemotiva.com/2016/01/divertida-mente-inside-out-2015.html>

<https://pausadramatica.com.br/2016/01/26/15-referencias-a-outros-filmes-da-pixar-em-divertida-mente/>

<https://br.pinterest.com/pin/549368854527122863/>

<https://modadecor.biz/atividades-sobre-independencia-do-brasil-para-7-de-setembro/>

<https://www.ultracoloringpages.com/pt/p/isqueiro-desenho-para-colorir/c98498cd7e832a28403778a7416f3a5a>

<https://pt.aliexpress.com/i/32969611920.html> - imagens de cavalos

https://disney.fandom.com/pt-br/wiki/Riley_Andersen

<https://omonarquista.com.br/product/dom-pedro-i-grito-da-independencia/>

<https://amorensina.com.br/independencia-atividades/>

<https://br.pinterest.com/pin/796926096535781634/> (imagem)

<https://piicie-mora.blogs.sapo.pt/fabulas-o-leao-e-o-rato-78918> (imagem)

<https://euevcfazendoarte.wordpress.com/tag/desenho-da-primavera/>

<https://br.pinterest.com/pin/761530618234859259/>

<https://www.espacoeducar.net/2016/09/sequencia-didatica-o-leao-e-o-ratinho.html>

<https://parahybano.com.br/rio-divulga-condicoes-para-volta-das-aulas-presenciais-na-rede-publica/>

Currículo em Ação EMAI - 1º ano - vol. 1 Ensino fundamental

Livro Ápis – Matemática - 1º ano

Livro Ápis – Língua Portuguesa - 1º ano