



PREFEITURA DA ESTÂNCIA TURÍSTICA DE
IBIÚNA
Por uma Ibiúna próspera. Investindo no presente, gerando o futuro.
SECRETARIA DE EDUCAÇÃO



Rua Raimundo Santiago, nº 27 - Centro
Telefone: (15) 3248-1292/e-mail: apoiopedagogicosmeibiuna@hotmail.com

E.M. “VEREADOR JOSÉ MUNIZ” ATIVIDADES REMOTAS

3º BIMESTRE

Apostila nº10

2021



FONTE: Voltar para a escola para o novo conceito de estilo de vida normal. crianças felizes do grupo vestindo máscara facial e distanciamento social protegem o coronavírus covid-19. ilustração de crianças andando no grande lápis voando na escola | Vetor Premium (freepik.com)

(Referente aos dias: 30 e 31/08, 01, 02, 03, 08, 09, 10, 13, 14, 16, e 17/09)

IMPORTANTE!

***A DEVOLUÇÃO DA APOSTILA SERÁ DIA 20/09/2021, SEGUNDA-FEIRA,
NA UNIDADE ESCOLAR!***

Aluno:

Prof.^a Maria Fatima - 3ºA

CAPA

VAMOS PREENCHER UMA FICHA COM OS SEUS DADOS:

NOME	
IDADE	
DATA DE NASCIMENTO	
NUMERO DE IRMÃOS	
ENDEREÇO DA MINHA CASA	
NUMERO DO CEP	
NÚMERO DO MEU SAPATO	
MEU PESO	
MINHA ALTURA	

ESSE É MAPA DO BRASIL E SEUS ESTADOS!
VOCÊ SABE O NOME DO ESTADO ONDE VOCÊ NASCEU?
ENCONTRE- O NO MAPA E CIRCULE.



FONTE: [Mapa do Brasil e Capitais - Trabalho de escola \(portalpower.com.br\)](http://portalpower.com.br)

CALENDÁRIO 2021

AGORA OBSERVE O CALENDÁRIO DE 2021

ENCONTRE O MÊS DO SEU ANIVERSÁRIO E CIRCULE – O.

PROCURE SEU DIA DE ANIVERSÁRIO E PINTE DE AZUL.

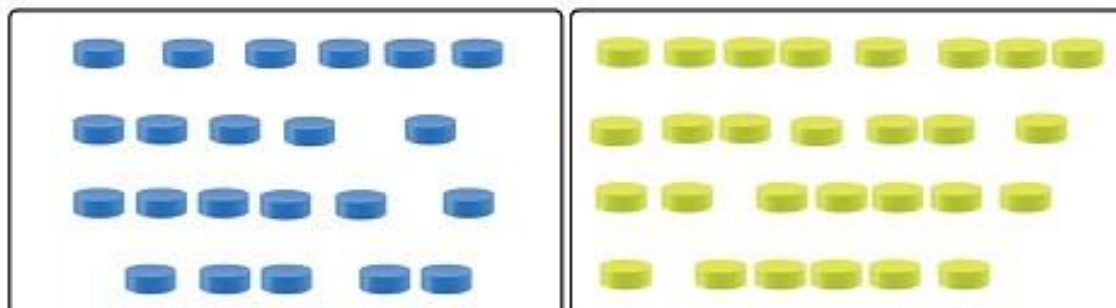
ENCONTRE, NO CALENDÁRIO, A DATA DO ANIVERSÁRIO DOS SEUS FAMILIARES E PINTE DE VERMELHO.

JANEIRO							FEVEREIRO							MARÇO						
D	S	T	Q	Q	S	S	D	S	T	Q	Q	S	S	D	S	T	Q	Q	S	S
1 - ANO NOVO 1 2							1 2 3 4 5 6							1 2 3 4 5 6						
3 4 5 6 7 8 9							7 8 9 10 11 12 13							7 8 9 10 11 12 13						
10 11 12 13 14 15 16							14 15 16 17 18 19 20							14 15 16 17 18 19 20						
17 18 19 20 21 22 23							21 22 23 24 25 26 27							21 22 23 24 25 26 27						
24 25 26 27 28 29 30							28 16 - CARNAVAL							28 29 30 31 8 - DIA DA MULHER						
31 6 - MING. 13 - NOVA 20 - CRESC. 28 - CHEIA							4 - MING. 11 - NOVA 19 - CRESC. 27 - CHEIA							5 - MING. 13 - NOVA 21 - CRESC. 28 - CHEIA						
20 - CRESC. 28 - CHEIA							4 - MING. 11 - NOVA 19 - CRESC. 27 - CHEIA							5 - MING. 13 - NOVA 21 - CRESC. 28 - CHEIA						
20 - CRESC. 28 - CHEIA							4 - MING. 11 - NOVA 19 - CRESC. 27 - CHEIA							5 - MING. 13 - NOVA 21 - CRESC. 28 - CHEIA						
ABRIL							MAIO							JUNHO						
D	S	T	Q	Q	S	S	D	S	T	Q	Q	S	S	D	S	T	Q	Q	S	S
2 - PAIXÃO DE CRISTO 4 - PASCOA 21 - TRADENTES 1 2 3							1 - DIA DO TRABALHO 9 - DIA DAS MÃES 1							3 - CORPUS CRISTI 1 2 3 4 5						
4 5 6 7 8 9 10							2 3 4 5 6 7 8							6 7 8 9 10 11 12						
11 12 13 14 15 16 17							9 10 11 12 13 14 15							13 14 15 16 17 18 19						
18 19 20 21 22 23 24							16 17 18 19 20 21 22							20 21 22 23 24 25 26						
25 26 27 28 29 30							23 24 25 26 27 28 29							27 28 29 30 12 - DIA DOS NAMORADOS						
4 - MING. 11 - NOVA 20 - CRESC. 27 - CHEIA							30 31 3 - MING. 11 - NOVA 19 - CRESC. 26 - CHEIA							2 - MING. 10 - NOVA 18 - CRESC. 24 - CHEIA						
4 - MING. 11 - NOVA 20 - CRESC. 27 - CHEIA							30 31 3 - MING. 11 - NOVA 19 - CRESC. 26 - CHEIA							2 - MING. 10 - NOVA 18 - CRESC. 24 - CHEIA						
4 - MING. 11 - NOVA 20 - CRESC. 27 - CHEIA							30 31 3 - MING. 11 - NOVA 19 - CRESC. 26 - CHEIA							2 - MING. 10 - NOVA 18 - CRESC. 24 - CHEIA						
JULHO							AGOSTO							SETEMBRO						
D	S	T	Q	Q	S	S	D	S	T	Q	Q	S	S	D	S	T	Q	Q	S	S
1 2 3							1 2 3 4 5 6 7							7 - INDEPENDÊNCIA DO BRASIL 1 2 3 4						
4 5 6 7 8 9 10							8 9 10 11 12 13 14							5 6 7 8 9 10 11						
11 12 13 14 15 16 17							15 16 17 18 19 20 21							12 13 14 15 16 17 18						
18 19 20 21 22 23 24							22 23 24 25 26 27 28							19 20 21 22 23 24 25						
25 26 27 28 29 30 31							29 30 31 8 - DIA DOS PAIS							26 27 28 29 30 22 - INÍCIO DA PRIMAVERA						
1 - MING. 9 - NOVA 17 - CRESC. 23 - CHEIA 31 - MING.							8 - NOVA 15 - CRESC. 22 - CHEIA 30 - MING.							6 - NOVA 13 - CRESC. 20 - CHEIA 28 - MING.						
1 - MING. 9 - NOVA 17 - CRESC. 23 - CHEIA 31 - MING.							8 - NOVA 15 - CRESC. 22 - CHEIA 30 - MING.							6 - NOVA 13 - CRESC. 20 - CHEIA 28 - MING.						
1 - MING. 9 - NOVA 17 - CRESC. 23 - CHEIA 31 - MING.							8 - NOVA 15 - CRESC. 22 - CHEIA 30 - MING.							6 - NOVA 13 - CRESC. 20 - CHEIA 28 - MING.						
OUTUBRO							NOVEMBRO							DEZEMBRO						
D	S	T	Q	Q	S	S	D	S	T	Q	Q	S	S	D	S	T	Q	Q	S	S
12 - NOSSA SRA APARECIDA 12 - DIA DA CRIANÇA 1 2							1 2 3 4 5 6							21 - INÍCIO DO VERÃO 25 - NATAL 1 2 3 4						
3 4 5 6 7 8 9							7 8 9 10 11 12 13							5 6 7 8 9 10 11						
10 11 12 13 14 15 16							14 15 16 17 18 19 20							12 13 14 15 16 17 18						
17 18 19 20 21 22 23							21 22 23 24 25 26 27							19 20 21 22 23 24 25						
24 25 26 27 28 29 30							28 29 30 2 - FINADOS 15 - PROCL. DA REPÚBLICA 20 - CONCIÊNCIA NEGRA							26 27 28 29 30 31						
6 - NOVA 13 - CRESC. 20 - CHEIA 28 - MING.							4 - NOVA 11 - CRESC. 19 - CHEIA 27 - MING.							4 - NOVA 10 - CRESC. 19 - CHEIA 26 - MING.						
6 - NOVA 13 - CRESC. 20 - CHEIA 28 - MING.							4 - NOVA 11 - CRESC. 19 - CHEIA 27 - MING.							4 - NOVA 10 - CRESC. 19 - CHEIA 26 - MING.						
6 - NOVA 13 - CRESC. 20 - CHEIA 28 - MING.							4 - NOVA 11 - CRESC. 19 - CHEIA 27 - MING.							4 - NOVA 10 - CRESC. 19 - CHEIA 26 - MING.						

FONTE: [Calendário para imprimir 2021 - Arte Digital Grátis By Pizinha Artesanatos \(pizinhagraficos.blogspot.com\)](http://Calendário para imprimir 2021 - Arte Digital Grátis By Pizinha Artesanatos (pizinhagraficos.blogspot.com))

CONTAGEM E ESCRITA DE NÚMEROS

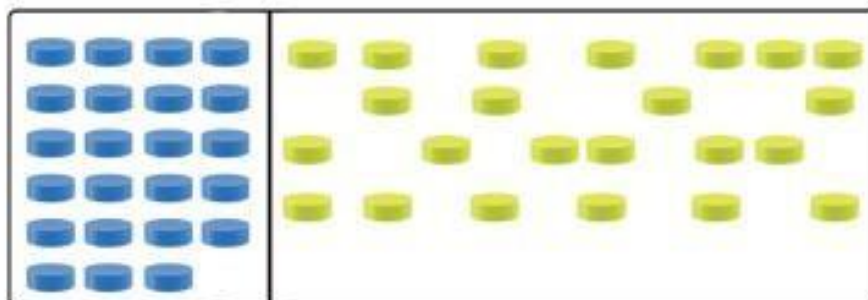
1. THIAGO LEVOU SUA COLEÇÃO DE TAMPINHAS, SEPAROU-AS POR COR E FEZ ALGUMAS PERGUNTAS



A. SEM CONTAR AS TAMPINHAS, EM QUAL DAS DUAS COLEÇÕES VOCÊ ACHA QUE HÁ MAIS?

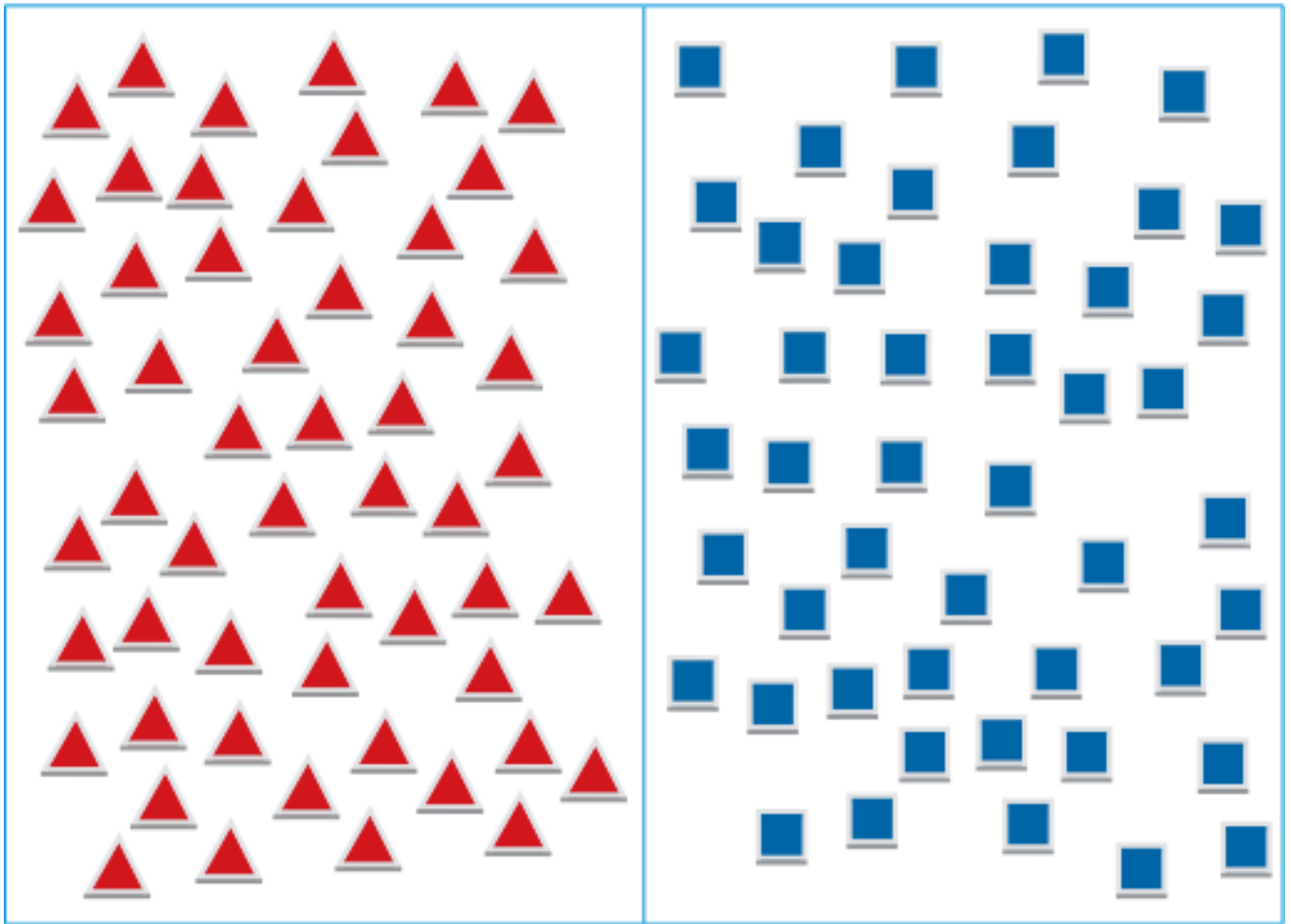
B. QUANTAS TAMPINHAS HÁ NO TOTAL: EXATAMENTE 100, MAIS DE 100 OU MENOS DE 100?

2. COMPARE AS QUANTIDADES DE TAMPINHAS DESTAS DUAS COLEÇÕES E RESPONDA:



A. HÁ MAIS TAMPINHAS AZUIS, MENOS OU A MESMA QUANTIDADE DE TAMPINHAS AMARELAS?

2. TIAGO TEM DUAS COLEÇÕES DE PEÇAS PARA A MONTAGEM DE FIGURAS. QUANTAS PEÇAS HÁ EM CADA COLEÇÃO?



- A. O QUE HÁ MAIS: PEÇAS VERMELHAS OU AZUIS? _____
- B. QUANTAS A MAIS? _____
- C. SE TIAGO JUNTAR OS TRIÂNGULOS COM OS QUADRADOS, QUAL O TOTAL DE PEÇAS QUE ELE TERÁ? _____
- D. DESENHE O NÚMERO DE PEÇAS QUE FALTAM PARA QUE TIAGO TENHA A MESMA QUANTIDADE DE PEÇAS DOS DOIS TIPOS.

LEITURA

LEITURA DE PARLENDAS

HOJE É DOMINGO

HOJE É DOMINGO
PEDE CACHIMBO
CACHIMBO É DE BARRO
BATE NO JARRO
O JARRO É FINO
DÁ NO SINO
O SINO É DE OURO
DÁ NO TOURO
O TOURO É VALENTE
DÁ NA GENTE
A GENTE É FRACO
CAI NO BURACO
O BURACO É FUNDO
ACABOU-SE O MUNDO.

Fundescola / Secretaria de Ensino Fundamental / MEC. Alfabetização: livro do aluno. v. 1 a 3, 2000.

SEQUÊNCIA NUMÉRICA

ESCREVA OS NÚMEROS FALTANTES E EXPLIQUE A REGRA PRESENTE NA CONSTRUÇÃO DE CADA SEQUÊNCIA.

A.



B.



C.



PREVENÇÃO CONTRA A COVID-19



1



2



3



4



5



6

2. PREENCHA OS QUADRINHOS EM BRANCO COM A ORIENTAÇÃO ESPECÍFICA DE CADA IMAGEM.

1- _____

2- _____

3- _____

4- _____

5- _____

6- _____

SISTEMA MONETÁRIO

1. MATHEUS E THIAGO GOSTAM DE BRINCAR NA BARRACA DE PESCA. VEJA QUANTO CADA UM GASTOU NESSA BARRACA, EM REAIS, E REGISTRE NO QUADRO ABAIXO CORRESPONDENTE.

MATHEUS



THIAGO



A. MATHEUS GASTOU MAIS, MENOS OU EXATAMENTE A MESMA QUANTIA EM REAIS QUE THIAGO?

B. ROBERTA COMProu FICHAS NA BARRACA DE PESCA COM A QUANTIA ABAIXO. VEJA QUANTOS REAIS ELA GASTOU E ANOTE ESSE VALOR.



C. ROBERTA GASTOU, EM REAIS, MAIS, MENOS OU EXATAMENTE A MESMA QUANTIA QUE THIAGO E MATHEUS?

TRAVA-LÍNGUAS

LETRA F

- 1** OS TRAVA-LÍNGUAS SÃO TEXTOS DIVERTIDOS QUE REPETEM ALGUNS SONS. POR ISSO, SÃO DIFÍCEIS DE SEREM FALADOS DE FORMA RÁPIDA. LEIA ESTE TRAVA-LÍNGUA COM O PROFESSOR.

O CAFÉ ESTÁ FRACO, FRIO, COM FORMIGA NO FUNDO FAZENDO FOFOCA.

DOMÍNIO PÚBLICO.

- A.** QUE LETRA MAIS SE REPETE NO INÍCIO DAS PALAVRAS?
A LETRA .
- B.** CIRCULE NO TRAVA-LÍNGUA AS PALAVRAS QUE CORRESPONDEM ÀS FIGURAS ABAIXO.



- C.** AGORA, ANOTE NOS QUADROS AS PALAVRAS QUE VOCÊ CIRCULOU.

- 2** OBSERVE AS FIGURAS ABAIXO E FALE O NOME DE CADA UMA EM VOZ ALTA.



- CIRCULE SOMENTE AS PALAVRAS EM QUE VOCÊ PERCEBEU O SOM REPRESENTADO PELA LETRA **F**.

3 OBSERVE AS IMAGENS E COMPLETE OS QUADRINHOS EM BRANCO PARA FORMAR PALAVRAS.

A. A C A 

D. A C A 

B. O T O 

E. O T O 

C. O C A 

F. O C A 

4 PARA BRINCAR DE "DIGO E NÃO DIGO", COMPLETE OS TRECHOS DE ACORDO COM AS ILUSTRAÇÕES.

SE DIGO **VACA**, NÃO DIGO _____



SE DIGO **VARINHA**, NÃO DIGO _____




SE DIGO **VILA**, NÃO DIGO _____



LEIA, CALCULE E COMPLETE:

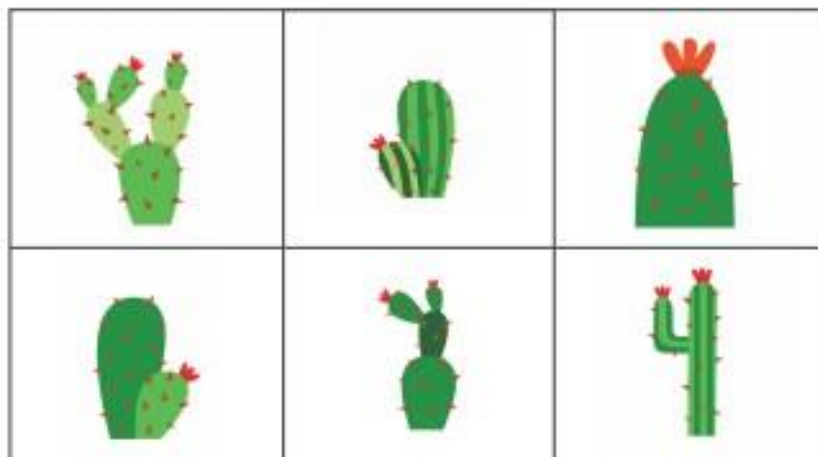
A. EM CADA CANTEIRO DE ROSAS HÁ 5 ROSEIRAS.



OBSERVE O CANTEIRO DE ROSAS E COMPLETE O QUADRO:

NÚMERO DE CANTEIROS	1	2	3	4	5
QUANTIDADE DE ROSEIRAS	5	10			

B. THIAGO FICOU ADMIRADO COM OS 5 CANTEIROS DE CACTOS. EM CADA CANTEIRO HÁ 6 CACTOS. OBSERVE A ILUSTRAÇÃO E PREENCHA O QUADRO.



NÚMERO DE CANTEIROS	1	2	3	4	5
QUANTIDADE DE CACTOS	6	12			

SISTEMA MONETÁRIO

1. AS CRIANÇAS SENTIRAM VONTADE DE COMER ALGO E ENCONTRARAM UMA BARRACA COM PIPOCA, CACHORRO-QUENTE E BEBIDAS. VEJA O PREÇO DE ALGUNS PRODUTOS:

PIPOCA	CACHORRO-QUENTE	SUCO	ÁGUA
4 REAIS	5 REAIS	4 REAIS	3 REAIS

A. THIAGO TEM 12 REAIS E QUER COMPRAR UM CACHORRO-QUENTE, UM SUCO E UMA ÁGUA. A QUANTIA DELE SERÁ SUFICIENTE PARA COMPRAR ESSES TRÊS PRODUTOS? JUSTIFIQUE.



B. ROBERTA COMPRARÁ LANCHE PARA ELA E MATHEUS. ELA TEM 20 REAIS E COMPRARÁ UMA PIPOCA, UM CACHORRO-QUENTE E DOIS SUCOS. ELA RECEBERÁ TROCO? SE SIM, QUANTO? RECEBERÁ CÉDULAS OU MOEDAS?



C. BRUNO NÃO TOMA SUCO. VEJA SE ELE CONSEGUE COMPRAR UM CACHORRO-QUENTE E UMA ÁGUA COM A QUANTIA QUE ELE TEM.



CRUZADINHA

OBSERVE AS IMAGENS COM ATENÇÃO E PREENCHA A CRUZADINHA COM O NOME DE CADA UMA DELAS. SE PRECISAR, CONSULTE AS PALAVRAS DO QUADRO ABAIXO.


- FADA GAVETA VENENO FOGUETE
 OVO GIRAFA TELEFONE FERRO NAVIO

The crossword puzzle grid is composed of white squares for letters and empty spaces. The words to be filled are:

- FADA**: 5 letters, starting at row 2, column 1.
- GAVETA**: 6 letters, starting at row 1, column 6.
- VENENO**: 6 letters, starting at row 4, column 6.
- FOGUETE**: 7 letters, starting at row 3, column 1.
- OVO**: 3 letters, starting at row 5, column 4.
- GIRAFA**: 6 letters, starting at row 2, column 4.
- TELEFONE**: 8 letters, starting at row 4, column 1.
- FERRO**: 5 letters, starting at row 5, column 1.
- NAVIO**: 5 letters, starting at row 6, column 1.

ENCONTRO CONSONANTAL

Leia o nome das palavras que representam estas imagens.



a. Qual é a consoante que está em todos os encontros consonantais dessas palavras?

4 Observe a imagem e descubra o que está detrás da cortina.



Dica

Todas as palavras correspondentes às imagens têm encontro de consoantes.

a. Escreva essas palavras nas linhas abaixo.

Encontre as palavras

1 OBSERVE AS ILUSTRAÇÕES A SEGUIR, ENCONTRE AS PALAVRAS CORRESPONDENTES E CIRCULE:



E	S	P	E	L	H	O	D	V	X	Q	U	I	M	N	E	Z
S	Q	E	R	T	M	S	Y	T	P	U	T	Q	P	G	U	O
P	C	A	R	I	J	S	P	B	J	A	I	G	Z	H	Q	V
Y	M	C	A	R	R	O	Ç	A	P	N	T	O	C	X	I	R
B	U	B	I	F	L	A	P	B	O	M	I	T	W	C	V	T
R	V	G	N	J	P	S	R	X	B	A	B	R	S	O	P	A
Z	X	C	H	U	V	E	I	R	O	Q	N	S	N	D	L	P
V	Y	T	A	B	Z	K	A	J	G	U	I	T	A	R	R	A
J	M	I	G	N	E	L	P	L	R	E	P	K	N	X	B	J
I	Z	J	T	R	T	Y	X	Z	P	I	S	C	I	N	A	M
P	I	W	A	U	L	N	C	E	F	J	U	V	E	W	Z	I
T	W	B	X	H	D	O	C	J	U	O	T	I	F	Y	C	S

Ilustrações: Lucas Ribeiro/ISTOCK



2 ANOTE AS PALAVRAS QUE VOCÊ ENCONTROU:

ATIVIDADE 15.5

A TURMA DE MARCOS SE DIVERTE MUITO COM O JOGO DO BAFO, UM JOGO DE FIGURINHAS MUITO CONHECIDO.



Arte: IMESP

1. RESOLVA OS PROBLEMAS:

A. MARCOS INICIOU O JOGO COM 26 FIGURINHAS E TERMINOU COM 40 FIGURINHAS. O QUE ACONTECEU DURANTE O JOGO?


B. PEDRO COMEÇOU O JOGO COM 32 FIGURINHAS E TERMINOU COM 16. O QUE ACONTECEU DURANTE O JOGO?

C. OTÁVIO TINHA ALGUMAS FIGURINHAS, GANHOU 13 E TERMINOU COM 28. QUANTAS FIGURINHAS ELE TINHA NO INÍCIO DO JOGO?

VAMOS CONHECER O GÊNERO TEXTUAL “RECEITA”:



LEIA OS PEDAÇOS DA RECEITA QUE ESTÃO NA PRÓXIMA PAGINA, RECORTE E ORGANIZE DA FORMA CORRETA. USE O QUADRO ABAIXO PARA A COLAGEM:



ANEXO I – QUEBRA-CABEÇA DE RECEITA (AULA 4)

✂

FERVA A ÁGUA.

10 LITROS DE ÁGUA

MODO DE FAZER

300 G DE CEBOLA PICADA

EM UMA PANELA, REFOGUE NO ÓLEO A CEBOLA E O

ADICIONE O ARROZ LAVADO NA PANELA.

60 G DE SAL

ACRESCENTE O SAL E DEIXE SECAR A ÁGUA.

ARROZ BRANCO

5KG DE ARROZ BRANCO

DEPOIS COLOQUE A ÁGUA QUENTE.

INGREDIENTES:

200 ML DE ÓLEO

60 G DE ALHO PICADO

✂

RECORTAR

E

COLAR

ENTREVISTA

FAÇA UMA ENTREVISTA COM UM FAMILIAR SOBRE A RECEITA FAVORITA DE SUA FAMÍLIA E REGISTRE ABAIXO:

NOME DO ENTREVISTADO: _____

TÍTULO DA RECEITA: _____

INGREDIENTES:

MODO DE PREPARO:

DITADOS POPULARES

1. LEIA OS DITADOS POPULARES ABAIXO.

"QUEM CANTA
SEUS MALES
ESPANTA."

"POR ELE/ELA
EU PONHO A MINHA
MÃO NO FOGO."

"UMA ANDORINHA
SOZINHA NÃO
FAZ VERÃO."

"CADA MACACO
NO SEU GALHO."

"SACO VAZIO
NÃO FICA EM PÉ."

2. DECIFRANDO OS ENIGMAS: QUE ENSINAMENTOS ELES PRETENDEM NOS COMUNICAR? ESCREVA ABAIXO O QUE VOCÊ DESCOBRIU SOBRE CADA UM DOS DITADOS POPULARES:

REFERÊNCIAS BIBLIOGRÁFICAS

EMAI & LER E ESCREVER, ENSINO FUNDAMENTAL- VOLUME 1.2021. Governo do estado de São Paulo.

APRENDER SEMPRE - VOLUME 1 - 3ºANO DO ENSINO FUNDAMENTAL.2021. Governo do estado de São Paulo

APRENDER JUNTOS – Língua Portuguesa 1. São Paulo. Edições SM Ltda

VASCONCELOS. Adson. **ATIVIDADE NA SALA DE AULA.** Ensino Fundamental. Língua Portuguesa. 2011. São Paulo. EDITORA RIDEEL.