

E.M. "BENEDITA CORDEIRO MEDELOS" – BAIRRO RIO DE UNA DE CIMA

NOME: _____

1º ANO A MINHA PROFESSORA É KAREN

11ª APOSTILA – PERÍODO DE 20/09 A 28/09

ENTREGA: 20/09

DEVOLUÇÃO EM 29/09

A PRIMAVERA DA LAGARTA



— É PRECISO TER PACIÊNCIA COM AS
LAGARTAS, SE QUISERMOS CONHECER AS
BORBOLETAS!

ESCOLA: _____

NOME: _____

DATA: 20/09/2021

SÉRIE: _____ PROFESSORA: _____

LINK DA HISTÓRIA A SER ENVIADO PELA PROFESSORA NO GRUPO DE WHATSAPP:

<https://trelele.com.br/src/uploads/2020/09/livro-a-primavera-da-lagarta-COMPLETO.pdf>

A PROFESSORA TAMBÉM ENVIARÁ O ARQUIVO PDF DA HISTÓRIA NO GRUPO DA ESCOLA



<https://trelele.com.br/src/uploads/2020/09/livro-a-primavera-da-lagarta-COMPLETO.pdf>

CONTO NARRADO PELA AUTORA RUTH ROCHA - A PRIMAVERA DA LAGARTA

<https://www.youtube.com/watch?v=LqAWARCmdh0>

ESCOLA: _____

NOME: _____

DATA: 20/09/2021

SÉRIE: _____ PROFESSORA: _____

APÓS A LEITURA DA HISTÓRIA PELOS FAMILIARES, COM AUXÍLIO DELES NA LEITURA DAS COMANDAS DAS ATIVIDADES, RESPONDA:

ANALISE A CAPA DO LIVRO:



ESCREVA O TÍTULO DO LIVRO:

AUTORA:

ILUSTRADOR:

ESCOLA: _____


NOME: _____

DATA: 21/09/2021

SÉRIE: _____ PROFESSORA: _____

VAMOS JUNTAR OS NÚMEROS E COLORIR O DESENHO?

VAMOS JUNTAR AS DEZENAS COMO NO EXEMPLO?



$10+0=$	10
$10+1=$	11
$10+2=$	
$10+3=$	
$10+4=$	
$10+5=$	
$10+6=$	
$10+7=$	
$10+8=$	
$10+9=$	

ESCOLA: _____

NOME: _____

DATA: 21/09/2021

SÉRIE: _____ PROFESSORA: _____

VAMOS SOMAR?



$1 + 2 = 3$

$1 + 3 = \bigcirc$

$2 + 2 = \bigcirc$

$2 + 3 = \bigcirc$

$3 + 2 = \bigcirc$

$3 + 3 = 6$

$4 + 2 = \bigcirc$

$4 + 3 = \bigcirc$

$5 + 2 = \bigcirc$

$5 + 3 = \bigcirc$

$6 + 2 = \bigcirc$

$6 + 3 = \bigcirc$

$7 + 2 = \bigcirc$

$7 + 3 = \bigcirc$

ESPAÇO RESERVADO PARA CALCULAR, DESENHAR AS QUANTIDADES


ESCOLA: _____

NOME: _____


DATA: 22/09/2021

SÉRIE: _____ PROFESSORA: _____


DESENHE TRANSFORMAÇÃO DA LAGARTA EM BORBOLETA:




OVO



LAGARTA



CASULO



BORBOLETA

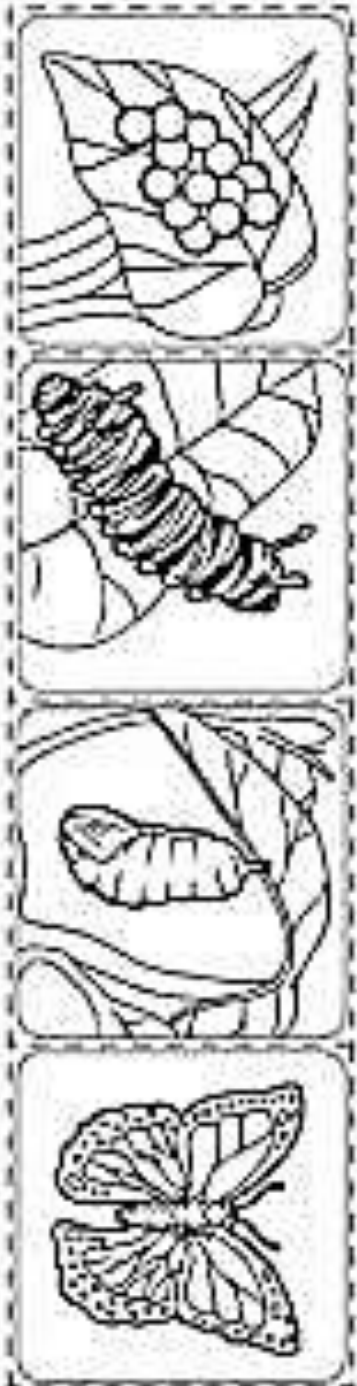
Ciclo de vida da borboleta

1

2

3

4



Recorte e cole na sequência correta.



ESCOLA: _____

NOME: _____

DATA: 22/09/2021

SÉRIE: _____ PROFESSORA: _____

LEIA OS NOMES E MARQUE O NOME DA AUTORA DO LIVRO A PRIMAVERA DA LAGARTA:



RUTH ROSA



RUTH ROCHA



RUTH RIBEIRO



RUTH RODRIGUES

QUANTAS LETRAS TEM O NOME DA ESCRITORA? PINTE E REGISTRE:

RUTH ROCHA



ESCOLA: _____

NOME: _____

DATA: 23/09/2021

SÉRIE: _____ PROFESSORA: _____

LEIA E MARQUE O QUADRINHO QUE MOSTRA QUEM ANUNCIAVA O GRANDE COMÍCIO NA FLORESTA:



JOANINHA



FORMIGA



CIGARRA



LAGARTIXA

COPIE O NOME QUE VOCÊ MARCOU:




ESCOLA: _____

NOME: _____

DATA: 23/09/2021

SÉRIE: _____ PROFESSORA: _____

DEIXA O DESENHO BEM COLORIDO. PODE PREENCHER AS PÉTALAS COM CASCAS DE LÁPIS, PAPEL COLORIDO, LANTEJOURAS, OU QUALQUER OUTRA COISA COLORIDA QUE VOCÊ QUISER UTILIZAR. SEJA CRIATIVO!!



ESCOLA: _____

NOME: _____

DATA: 24/09/2021

SÉRIE: _____ PROFESSORA: _____

FAMÍLIA DO 20!!



A cartoon girl with pigtails is holding a large number 20. The number 20 is filled with a purple, textured pattern. She is wearing a white dress with a small circular portrait of a girl on the front.

$20+0=$	20
$20+1=$	21
$20+2=$	
$20+3=$	
$20+4=$	
$20+5=$	
$20+6=$	
$20+7=$	
$20+8=$	
$20+9=$	

ESCOLA: _____

NOME: _____

DATA: 24/09/2021

SÉRIE: _____ PROFESSORA: _____

FAMÍLIA, POR FAVOR, LEIA OS PROBLEMINHAS PARA A CRIANÇA PODER RESOLVÊ-LO COM AUTONOMIA.

SE NECESSÁRIO, PODE UTILIZAR DESENHOS PARA SOLUCIONAR OS PROBLEMAS.

LEIA OS PROBLEMAS E RESOLVA

- 1) ANDRÉ FEZ 12 PIPAS VERMELHAS E 6 PIPAS AZUIS. QUANTAS PIPAS ANDRÉ FEZ?



R: ANDRÉ FEZ _____ PIPAS.

- 2) NO CIRCO GIRA MUNDO TRABALHAM 6 PALHAÇOS, 3 MÁGICOS, 4 TRAPEZISTAS E 2 MALABARISTAS. QUANTOS ARTISTAS TRABALHAM NO CIRCO?



R: TRABALHAM NO CIRCO _____ ARTISTAS.

- 3) CEBOLINHA TINHA 17 FIGURINHAS E PERDEU 11 FIGURINHAS PARA O CASCÃO. QUANTAS FIGURINHAS O CEBOLINHA TEM AGORA?



R: O CEBOLINHA TEM AGORA _____ FIGURINHAS

- 4) NA FRUTEIRA TINHA 18 FRUTAS, A MAGALI COMEU 5. QUANTAS FRUTAS HÁ AGORA NA FRUTEIRA?



R: HÁ AGORA NA FRUTEIRA _____ FRUTAS

ESCOLA: _____


NOME: _____

DATA: 27/09/2021

SÉRIE: _____ PROFESSORA: _____

É PRECISO TER PACIÊNCIA COM AS LAGARTAS SE QUIERMOS CONHECER AS BORBOLETAS.

1- OBSERVE A CAPA DO LIVRO QUE VOCÊ LEU E RESPONDA:



A- QUAL É O NOME DO LIVRO?

B- QUEM É A AUTORA DA HISTÓRIA?

C – MARQUE APENAS O QUE FAZ PARTE DA ILUSTRAÇÃO DA CAPA DO LIVRO:

- () BORBOLETA.
- () CAMALEÃO
- () LEÃO
- () JOANINHA
- () FLORES
- () MACACO

2- O LIVRO QUE VOCÊ LEU É FORMADO POR MUITOS PERSONAGENS. ESCREVA OS NOMES DOS PERSONAGENS ABAIXO USANDO UM QUADRINHO PARA CADA LETRA. CONSULTE O BANCO DE PALAVRAS:

FORMIGA JOANINHA CAMALEÃO CARACOL BORBOLETA
LAGARTIXA LAGARTA LOUVA – A – DEUS LIBÉLULA



--	--	--	--	--	--	--	--	--	--



--	--	--	--	--	--	--	--	--	--



--	--	--	--	--	--	--	--	--	--



--	--	--	--	--	--	--	--	--	--



--	--	--	--	--	--	--	--	--	--



--	--	--	--	--	--	--	--	--	--



--	--	--	--	--	--	--	--	--	--



--	--	--	--	--	--	--	--	--	--

ESCOLA: _____

NOME: _____

DATA: 27/09/2021

SÉRIE: _____ PROFESSORA: _____

1- LEIA UM TRECHO DO TEXTO:

OS PASSARINHOS CANTAVAM...

E AS BORBOLETAS, QUANTAS BORBOLETAS!

DE TODAS AS CORES, DE TODOS OS TAMANHOS,
BORBOLETEAVAM PELA MATA.

E OS CAÇADORES PROCURAVAM PELA LAGARTA.

___ UM, DOIS, UM DOIS, FEIJÃO COM ARROZ... TRÊS, QUATRO FEIJÃO NO PRATO...



- PINTE NO TEXTO A PALAVRINHA QUE APRESENTA A LETRA J E ESCREVA ABAIXO:.

2- LEIA AS PALAVRAS DO QUADRO E PINTE AS SÍLABAS JA JE JI JO JU JÃO:

JABUTI	JOÃO	JANELA	JIBOIA	CAJU	JOANINHA
JADE	FEIJÃO	JANAÍNA	JABUTICABA	BEIJO	JACA

- AGORA COPIE DO QUADRO ACIMA TRÊS NOMES DE:

FRUTAS



ANIMAIS



PESSOAS



ESCOLA: _____

NOME: _____

DATA: 28/09/2021

SÉRIE: _____ PROFESSORA: _____


E A LAGARTA FOI SE TRANSFORMADO... ATÉ QUE, DE DENTRO DO CASULO, NASCEU UMA LINDA BORBOLETA.



OS INIMIGOS DA LAGARTA FICARAM ADMIRADOS AO CONHECEREM A BORBOLETA E ALGUMAS DAS FIGURAS GEOMÉTRICAS PLANAS:



CÍRCULO



QUADRADO

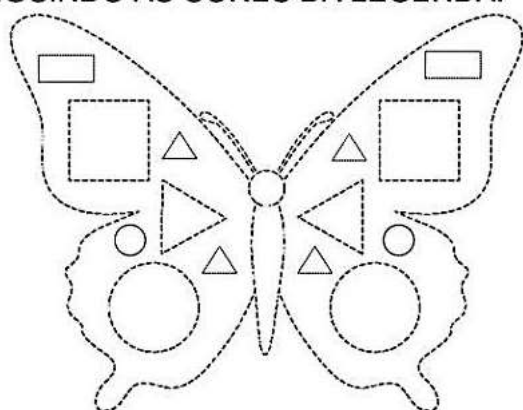


RETÂNGULO



TRIÂNGULO

1- OBSERVE A BORBOLETA TRAZENDO AS FIGURAS GEOMÉTRICAS PLANAS. PINTE-A SEGUINDO AS CORES DA LEGENDA:



QUADRADOS DE AZUL;
TRIÂNGULOS DE AMARELO;
CÍRCULOS DE VERMELHO;
RETÂNGULOS DE VERDE;

2- AGORA, OBSERVE O DESENHO ACIMA E RESPONDA:

QUANTOS QUADRADOS? _____

QUANTOS TRIÂNGULOS? _____



QUANTOS CÍRCULOS? _____

QUANTOS RETÂNGULOS? _____

3- DESENHE O QUE SE PEDE:

1 DEZENA DE TRIÂNGULOS;

2 DEZENAS DE CÍRCULOS;



ESCOLA: _____

NOME: _____

DATA: 28/09/2021

SÉRIE: _____ PROFESSORA: _____

ARTES NA PRIMAVERA



PARA DEIXAR A PRIMAVERA AINDA MAIS BONITA E COLORIDA, QUE TAL VOCÊ FAZER UMA LINDA BORBOLETA E UMA FLOR UTILIZANDO-SE DE ROLINHOS DE PAPEL HIGIÊNICO E TINTA GUACHE? MANDE FOTOS PARA A PROFESSORA NO GRUPO DO WHATSAPP!

VIVA A PRIMAVERA!

<https://educacaoetransformacaooficial.blogspot.com/2020/09/atividades-primavera-da-lagarta-ruth.html>

A LAGARTA ERA CHAMADA DE COMILONA, FEIA E PREGUIÇOSA.

1) FAÇA UMA FRASE COM UMA CARACTERÍSTICA PARA OS PERSONAGENS ABAIXO, MAS NÃO ESQUEÇA DO ESPAÇO ENTRE AS PALAVRAS E O PONTO NO FINAL DAS FRASES.

JOANINHA _____ A JOANINHA É VERMELHA E PEQUENINA.

CARACOL _____

CAMALEÃO _____

A PRIMAVERA CHEGOU E É TEMPO DE MUITA ALEGRIA.

2) COMPLETE O TEXTO ABAIXO COM AS PALAVRAS QUE ESTÃO NO QUADRO:

CORES	PRIMAVERA
AMARELAS	BORBOLETAS

NA _____ POSSO VER
ABELHAS, PASSARINHOS E BELAS _____
FLORES DE TODAS AS _____
AZUL, _____ E VIOLETAS.



ESCOLA: _____

NOME: _____

DATA: 28/09/2021

SÉRIE: _____ PROFESSORA: _____

JOGO: PREVENÇÃO AO CORONAVÍRUS

LINK: <https://www.escolagames.com.br/jogos/prevencaoCoronavirus/>



MONTE A ÁRVORE NA PRÓXIMA PÁGINA, IMAGINE E DESENHE O RESTANTE DO AMBIENTE. SEJA CRIATIVO!



MONTE SUA ÁRVORE