

E.M. “Benedita Cordeiro Medelos”

Nome: _____

4º ano –A

Professora: Eliana

Caderno de Atividades Nº 11

Apostila referente aos dias 20 a 28/09

Data de entrega: 20/09

Data de devolução: 29/09



Roteiro

Data: 21/09

Livro EMAI

Atividade 17.6

Páginas 116 e 117

Conteúdo: Revisão

Data: 27/09

Livro EMAI

Atividade 2

Página: 148

Conteúdo: Triângulo mágico

E.M. "Benedita Cordeiro Medelos"

Ibiúna, 20 de setembro de 2021

Hoje é segunda-feira

Nome: _____

Língua Portuguesa

Leia o quadrinho a seguir.

MÔNICA em NINGUÉM PRESTA ATENÇÃO EM MIM!



brachola:
bife de carne bovina enrolado com recheio. Vem do termo italiano bracciola.



Interpretação

a) No primeiro quadrinho, qual expressão falada por Mônica revela que ela e Magali já estavam conversando sobre alguma coisa?

b) O que faz Magali deixar de prestar atenção em Mônica?

c) A palavra **cebolinha** é empregada com dois sentidos.

- Quando Mônica fala "o Cebolinha", a que ela se refere?

- Quando Magali fala "não usou cebolinha, só salsinha!", a que ela se refere?

d) Observe a expressão do rosto de Mônica no último quadrinho. O que você acha que ela está sentindo?

Nome da escola: _____

Ibiúna, 21 de setembro de 2021

Dia da semana: _____

Nome: _____

Matemática

Livro EMAI

Atividade 17.6

Páginas 116 e 117

Conteúdo: Revisão

Nome da escola: _____

Ibiúna, 22 de setembro de 2021

Dia da semana: _____

Nome: _____

Ciências

LEITURA


A primavera voltou

Venham ver!
Venham ver durante a noite
as coisas que aconteceram!
Nos ramos daquela árvore
folhinhas novas nasceram;
no carvalho, os passarinhos
já construíram o ninho;
o salgueiro ao pé do rio
de mil botões se enfeitou.
Veio o Sol. Fugiu o frio.
A primavera voltou.

Maria Isabel Mendonça Soares(adaptado)




Interpretação:




De que estação do ano fala o texto?

Como é o tempo nesta estação?

Onde é que os passarinhos construíram os ninhos?




Gosta da primavera? Porquê?



Primavera

A U Á O Ó S Ú E Í Ã V J O A N I N H A Ó Ê Ê V U P
 Z S P C Y O T N E M I C S A N U P A Á Q H E E S Ê
 P E R A Ô Ã E É A W N K T Y Z Ê O F Ú Ã Ã G Ú R À
 Ã Õ Ü L G O Ê R Ó G E R R E P R O D U Ç Ã O A C D
 Z V D O Q L C V R Q S X N T U Ó Z K Í D A V Í Ú W
 Ç O O R O O I R A I O S S R E B W J G Z U Q Õ H Ã
 Á R Õ A Í Ò Y Q D Ò R C J E P Í Ú Z Q K G É Z Ã Ç
 Õ T H R I E Ü Z Y N A Ê Ê Ê R T F G D I Á Ã Ò V Ò
 M É I U É Ú I O I N S Ò Õ T Y O Ç Ã S I A M I N A
 S S Ó Ê Ã S Ô N T J S U E Ã L H V B F L O R E S K
 C Õ R M Ê Ò H O D Á Á M B H C Á S R Q S F J S Y B
 S Í É W Ú A L N Z H P E A Z E L E B Á Ç Ò Ü A J R
 H Ã O F D F Ú O W E Ü S U Ê M C M T I Í P Z Ô C Ó
 P Â À A I T P À S Ó J P A S S A R I N H O S R U B
 H S E I Z O Ò T Ò B O R B O L E T A S A Ô I E Ó B
 Á Ü E R C S A H X A X A N M V Â Ã H Â À A R H K X
 A P Z G Ò D T G S Ó S Ô X T Q P O Ú Ú N K Ò J Ê K
 F L C E E Í Ò Ó S Z X D É C H U V A Ç Ç Ü L I G Ê
 P S Ú L Ó A Ü E H H À J U S Á Ê H A F I V K X Ç K
 Ã Ô Í A Í N Y Í Õ Ç Í Q K S M V S Ú Ç M U B O R Ã

ALEGRIA	TROVÕES
ANIMAIS	ÁGUA
ARCOÍRIS	ÁRVORES
BELEZA	
BORBOLETAS	
CALOR	
CANTO	
CHUVA	
CRIANÇAS	
FLORES	
FOLHAS	
JOANINHA	
NASCIMENTO	
NINHADA	
PASSARINHOS	
PÁSSAROS	
RAIOS	
REPRODUÇÃO	
SOL	
TEMPESTADE	



Nome da escola: _____

Ibiúna, 23 de setembro de 2021

Dia da semana: _____


Nome: _____


Historia e Geografia





1. Identifique as regiões no mapa de climas e pinte conforme a legenda.





Pinte de  a região com clima Equatorial

Pinte de  a região com clima Tropical

Pinte de  a região com clima Semiárido

Pinte de  a região com clima Tropical de altitude

Pinte de  a região com clima Subtropical

Pinte de  a região com clima Tropical atlântico

2. Dê as características dos tipos de climas pedidos

a) Tropical atlântico:

b) Subtropical:

c) Semiárido:

Nome da escola: _____

Ibiúna, 24 de setembro de 2021

Dia da semana: _____

Nome: _____

Língua Portuguesa

Verbo e uso do tempo passado nas histórias

Já vimos que nos textos o verbo é um dos responsáveis pela indicação do tempo: presente, passado ou futuro.

Você sabia que nem sempre o tempo **passado** é igual? Vejamos.

1 Releia os trechos do conto "Caio" a seguir e responda.

- a) Em Bom Despacho **tinha** uma fazenda à venda, mas ninguém **queria** comprar: **era** mal-assombrada.

Os verbos **tinha**, **queria** e **era** indicam algo que acontecia sempre ou algo que aconteceu apenas uma vez?

- b) Quando o preço **chegou** lá embaixo, **veio** de Luzes um comprador [...]

Os verbos **chegou** e **veio** indicam algo que acontecia sempre ou algo que aconteceu apenas uma vez?

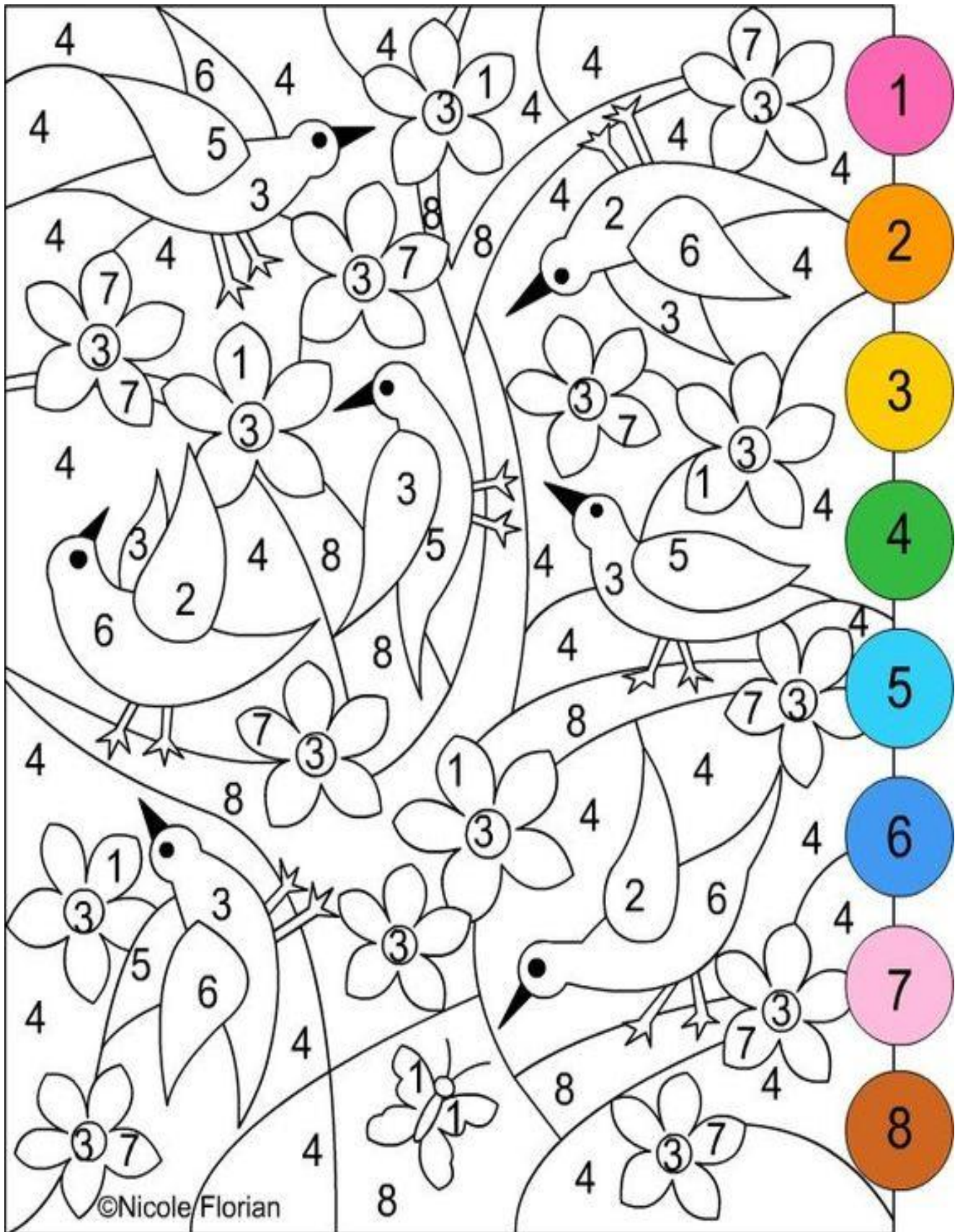
2 Observe os verbos destacados nos trechos a seguir. Escreva no quadro os verbos que correspondem a cada uma das ideias.

O caseiro **aconselhou** o homem a passar a noite na fazenda [...]. E o homem **ficou** para dormir.

[...] o caseiro, que não **queria** dono novo na fazenda onde ele **gostava** de vadiar.

Fato habitual, costumeiro, que acontecia sempre	Fato acontecido uma vez no passado
_____	_____

Artes



Nome da escola: _____

Ibiúna, 27 de setembro de 2021

Dia da semana: _____

Nome: _____

Língua Portuguesa

Vamos ordenar as frases?

1 - Ordene as frases e escreva-as no espaço abaixo.



a) muito - macaco - é - Caco - inteligente - um



b) flutua - O - no - navio - mar - grande



c) vermelha - Ana - uma - linda - ganhou - bexiga



d) todo - ovo - A - bota - galinha - dia



e) uma - Eu - azul - e - tenho - moto - branca

www.aartedeensinareaprender.com.br

Obs. Preste atenção nas palavras com letra maiúscula.

Matemática

Livro EMAI

Atividade 2

Página: 148

Conteúdo: Triângulo mágico

Nome da escola: _____

Ibiúna, 28 de setembro de 2021

Dia da semana: _____

Nome: _____

Matemática

CAÇA-DIVISÕES

Resolva as divisões e procure os resultados no caça-palavras abaixo.

$$\begin{array}{r} \text{DU} \\ 77 \overline{) 7} \end{array}$$

$$\begin{array}{r} \text{CDU} \\ 728 \overline{) 8} \end{array}$$

$$\begin{array}{r} \text{CDU} \\ 405 \overline{) 5} \end{array}$$

$$\begin{array}{r} \text{CDU} \\ 639 \overline{) 9} \end{array}$$

$$\begin{array}{r} \text{CDU} \\ 168 \overline{) 8} \end{array}$$

$$\begin{array}{r} \text{CDU} \\ 368 \overline{) 8} \end{array}$$

$$\begin{array}{r} \text{CDU} \\ 136 \overline{) 4} \end{array}$$

$$\begin{array}{r} \text{DU} \\ 69 \overline{) 3} \end{array}$$



8	1	7	8	2	6	5	1	5
7	8	9	0	1	9	7	1	6
9	1	8	7	9	5	0	6	5
8	7	0	4	6	2	8	9	0
3	4	9	6	0	3	5	7	1

ASTROS: O BRILHO NO CÉU

A Terra, o Sol e a Lua são astros que se movimentam no espaço. Da superfície da Terra podemos ver parte do espaço. Nós conhecemos essa parte com o nome de céu.

Os astros e o espaço onde eles estão, formam o Universo. Durante o dia, vemos o sol, que é a estrela mais próxima da Terra, fonte luz e de calor.

À noite, podemos ver outros astros, como as estrelas e a Lua, por exemplo.

É comum as pessoas pensarem que a Lua sempre será vista somente a noite. Muitas vezes podemos vê-la também durante o dia. Também a noites em que não conseguimos observar a Lua.

A Terra não está sozinha no Universo. De qualquer lugar da superfície terrestre, numa noite sem nuvens, é possível ver uma infinidade de pontos brilhantes no céu. Esses pontos brilhantes são chamados de astros e podem ser classificados em **LUMINOSOS** ou **ILUMINADOS**.

Os astros **LUMINOSOS** são os astros que possuem luz própria, esses astros são chamados de **ESTRELAS**.

Os astros **ILUMINADOS** são aqueles que não possuem luz própria, eles são iluminados pelo Sol. Os principais astros iluminados são os planetas e os satélites.

Alguns são vistos a olho nu, outros, por serem menores ou por estarem muito distantes da Terra, só podem ser observados com o auxílio de um aparelho chamado **TELESCÓPIO**.

A ciência que estuda os astros, de que eles são feitos, seus movimentos e sua posição no espaço é chamada **ASTRONOMIA**. Os **ASTRÔNOMOS** são os cientistas que se dedicam à Astronomia.



1- COM ATENÇÃO, RESPONDA AS PERGUNTAS A SEGUIR:

a) Quais são os astros que podemos ver durante o dia? E no período da noite?

b) Todas as noites é possível ver a lua? Podemos ver a lua durante o dia?

c) O que são astros luminosos?

d) O que são astros iluminados?

e) O que é um telescópio?

f) Como é o nome do cientista que estuda os astros?

REFERÊNCIAS BIBLIOGRÁFICAS

Livro didático EMAI

Livro didático ápis de Língua Portuguesa

https://mungfali.com/page/EBF7BC19761EAAB14261035A8779E5917ADDE524/02-astros-o-brilho-no-c%C3%A9u_%7C_atividades_de_ci%C3%A2ncia_

<http://jezaine-teodoro.blogspot.com/2012/09/texto-e-compreensao-da-primavera-06.html>

<https://educacaoetransformacaooficial.blogspot.com/2021/02/apostila-ciencias.html>

<https://br.pinterest.com/pin/539939442805587156/>

<https://br.pinterest.com/pin/431923420496160332/>

<https://br.pinterest.com/pin/690739661572940415/>

<https://www.smartkids.com.br/colorir/desenho-turma-smartkids-turma>

<https://brasilecola.uol.com.br/brasil/os-climas-brasil.htm>