



Prefeitura da Estância Turística de  
**IBIÚNA**  
TRANSFORMAÇÃO RESPONSÁVEL. CUIDANDO DE PESSOAS.



E.M “ZENI SOARES RAMALHO”

Atividades para estudo em Casa

11 º apostila

Período das atividades: 20/09/2021 a 28/09/2021

Data da devolução: 29/09/2021 e 30/09/2021

Aluno (a):

Professora: Lucila Helena S.C. Germano

3º ano B

# Roteiro para realização das atividades

## Combinados das lições

- Lavar as mãos para fazer as lições;
- Escolher um lugar tranquilo e adequado para realizar as atividades;
- Ler com atenção;
- Fazer 2 atividades por dia, evitando assim o acúmulo;
- Fazer as tarefas com capricho e dedicação;
- Não amassar, não sujar e rasgar as atividades;
- Assistir aos links enviados pela professora no grupo de whatsApp;
- Em hipótese alguma deixar que outra pessoa escreva na sua apostila;
- Se tiver dúvidas perguntar para a professora.

### **ATENÇÃO!!!**

AO REALIZAR OS SIMULADOS, VOCÊ DEVERÁ RESPONDER AS QUESTÕES E EM SEGUIDA PREENCHER O GABARITO QUE SE ENCONTRA NO INÍCIO DA FOLHA.

PRESTE BASTANTE ATENÇÃO, VOCÊ DEVERÁ PINTAR APENAS UMA LETRA POR QUESTÃO, APENAS A QUE VOCÊ ESCOLHEU COMO RESPOSTA. PINTE TODA A BOLINHA DA LETRA DA SUA RESPOSTA.

**Lembre-se:**

**Você é capaz!!!**

**Eu acredito em você!!!**

E.M "ZENI SOARES RAMALHO"

LÍNGUA PORTUGUESA

DIA 21 DE SETEMBRO- DIA DA ÁRVORE

### A ÁRVORE

A SEMENTE, COM O VENTO,  
CAIU NA TERRA FOFINHA.  
VEIO A CHUVA, VEIO O SOL  
E BROTOU A SEMENTINHA.

O CAULE FOI PARA CIMA,  
A RAIZ FIRMOU NA TERRA.  
A PLANTINHA FOI CRESCENDO  
BEM LÁ NO ALTO DA SERRA.

HOJE TEM FRUTOS E FLORES.  
E AS FOLHINHAS? TÃO BELAS!  
PARECE ATÉ QUE O VENTO  
BRINCA DE PIQUE COM ELAS.

DELA TUDO RECEBEMOS  
ATÉ A SOMBRA DA RAMADA.  
EU CHEGO MESMO A PENSAR  
QUE ALI MORA UMA FADA.

Lucina Maria M. Passos



Responda:

A) Como brotou a sementinha?

-----

B) Onde a plantinha foi crescendo?

-----

C) Como a plantinha esta hoje?

-----

D) O que recebemos das plantas?

-----

<http://4.bp.blogspot.com/->


[IXtUOsvpc8/TnZ0gugxZKI/AAAAAAAAAhk/6SjsL8y1MEk/s1600/pot.3.bmp](http://4.bp.blogspot.com/-IXtUOsvpc8/TnZ0gugxZKI/AAAAAAAAAhk/6SjsL8y1MEk/s1600/pot.3.bmp)

E. M "ZENI SOARES RAMALHO"

MATEMÁTICA

TABUADA DO 6

Resolva a tabuada do 6 e pinte os resultados na tabela ao lado.



$0 \times 6 =$	
$1 \times 6 =$	
$2 \times 6 =$	
$3 \times 6 =$	
$4 \times 6 =$	
$5 \times 6 =$	
$6 \times 6 =$	
$7 \times 6 =$	
$8 \times 6 =$	
$9 \times 6 =$	
$10 \times 6 =$	

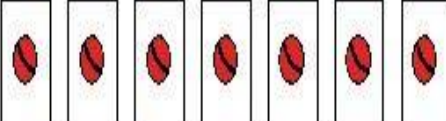


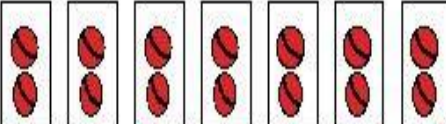
2	0	3	17	48
23	11	24	6	29
12	25	19	35	60
20	44	18	37	28
54	50	97	47	24
13	16	59	19	14
30	21	32	36	31
87	95	43	15	42

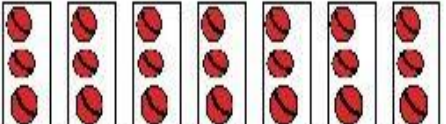
E. M “ZENI SOARES RAMALHO”

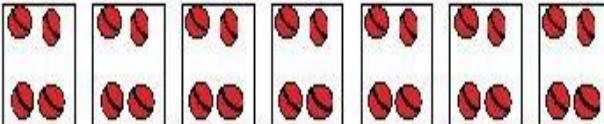
MATEMÁTICA

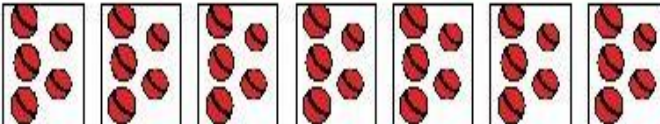
1) VAMOS COMPLETAR A TABUADA DO 7, USE OS DESENHOS AO LADO PARA CONFERIR OS RESULTADOS:


$7 \times 1 =$   

$7 \times 2 =$   


$7 \times 3 =$   

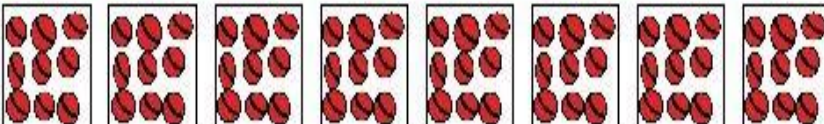
$7 \times 4 =$   

$7 \times 5 =$   

$7 \times 6 =$   


$7 \times 7 =$   















$7 \times 8 =$   

$7 \times 9 =$   

**A VEGETAÇÃO BRASILEIRA**

VEGETAÇÃO É O CONJUNTO DE PLANTAS QUE CRESCEM NATURALMENTE EM UM LUGAR, ELA DEPENDE DO CLIMA ,DO RELEVO E DO SOLO.

 Troque os símbolos pelas letras correspondentes e descubra de qual vegetação se está falando.

Código	
A	
C	
D	
E	
G	
I	
L	
M	
N	
O	
P	
R	
S	
T	

1 Apresenta árvores de menor porte, com galhos retorcidos e pequenas folhas endurecidas.



2 Vegetação típica do Nordeste, onde a estação seca é muito longa. Apresenta pequenas árvores e arbustos.





3 Esse tipo de vegetação aparece no Rio Grande do Sul. A vegetação é rasteira, desfavorável ao desenvolvimento de árvores, mas excelente para criação de gado.



4 Nessa região existe uma grande variedade de aves e de vegetação, como campos, cerrados, floresta e caatinga. Localiza-se na Região Centro-Oeste.



5 Nessa mata existem muitas palmeiras, como a carnaúba e o babaçu.



E. M "ZENI SOARES RAMALHO"

LÍNGUA PORTUGUESA

DIA 23 DE SETEMBRO- INÍCIO DA PRIMAVERA

1-COMPLETE AS LACUNAS DO TEXTO COM AS PALAVRAS EM DESTAQUE.



ABELHINHAS - ESTAÇÃO- PRIMAVERA  
QUERIDA - CORES - CANTAR  
NATUREZA - PAPEL

PRIMAVERA

PRIMA... PRIMA... \_\_\_\_\_  
É A \_\_\_\_\_ QUE TRAZ AS FLORES  
E O VERDE RENASCE TÃO LINDO  
É UMA FESTA CHEIA DE \_\_\_\_\_

OS PASSARINHOS VIVEM A \_\_\_\_\_  
E AS \_\_\_\_\_ VÃO FAZENDO O MEL  
AS FORMIGUINHAS VÃO SE ALIMENTAR  
CADA UM FAZ O SEU PAPEL

DAS QUATROS ESTAÇÕES DO ANO  
A PRIMAVERA É A MAIS \_\_\_\_\_  
PINTA TODA A \_\_\_\_\_  
E DEIXA A \_\_\_\_\_ MAIS COLORIDA

CD Calendário Criança Feliz

[https://1.bp.blogspot.com/-he5r\\_tt8qxs/W4lhxySC6I/AAAAAAAAA0/RH4YP5cw-jYAvB7\\_gfITqRUSYm5P9owWACLcBGAs/w1600/Atividade-primavera-alfabetizacao-texto-lacunado.png](https://1.bp.blogspot.com/-he5r_tt8qxs/W4lhxySC6I/AAAAAAAAA0/RH4YP5cw-jYAvB7_gfITqRUSYm5P9owWACLcBGAs/w1600/Atividade-primavera-alfabetizacao-texto-lacunado.png)

## E. M “ZENI SOARES RAMALHO”

### HISTÓRIA


#### OS LUGARES DE MEMÓRIA

Muitas construções, livros, obras de arte e objetos antigos devem ser protegidos contra a destruição causada pelo tempo e pelas pessoas. Eles fazem parte do **patrimônio** histórico de um povo.

O **Forte** dos Reis Magos, em Natal, no estado do Rio Grande do Norte, foi construído há quase quatrocentos anos para defender o litoral daquela região.

Atualmente, ele não tem a mesma função, mas é preservado por ser um testemunho do passado. Ele é parte do patrimônio histórico do Brasil. Observe as imagens.

**forte:** construção feita para defender um território dos ataques de inimigos.



Frans Post/Biblioteca Nacional, Rio de Janeiro.

» O Forte dos Reis Magos foi construído em 1631 pelos holandeses e reconstruído em 1654 pelos portugueses. Gravura de Frans Post, produzida por volta de 1639.



Thiago Arrighetti/Imagens

» Hoje o forte é um museu e ponto turístico de Natal, capital do estado do Rio Grande do Norte. Foto de 2017.



1 Para que servia o forte?

---

2 Por que essa construção deve ser preservada?

---

#### Minha coleção de palavras de História

A palavra abaixo aparece neste capítulo:

MEMÓRIA

1 Em que momentos você usa a sua memória?



E.M "ZENI SOARES RAMALHO"

MATEMÁTICA

## Vamos calcular?

1-Resolva as multiplicações e faça a correspondência:

$6 \times 4 =$  ★



$3 \times 6 =$  ★

$2 \times 9 =$  ★



$3 \times 8 =$  ★

$5 \times 3 =$  ★



$4 \times 9 =$  ★

$6 \times 6 =$  ★



$3 \times 5 =$  ★

<https://1.bp.blogspot.com/>


[BHn6NWz4nxY/XqcVJtQ7B\\_I/AAAAAAAAAnBg/6WGXXSU\\_rRsxMJe5HDW-](https://1.bp.blogspot.com/-BHn6NWz4nxY/XqcVJtQ7B_I/AAAAAAAAAnBg/6WGXXSU_rRsxMJe5HDW-ErC5Ti8ZZkQ6gCNcBGAsYHQ/s1600/multi.png)

[ErC5Ti8ZZkQ6gCNcBGAsYHQ/s1600/multi.png](https://1.bp.blogspot.com/-BHn6NWz4nxY/XqcVJtQ7B_I/AAAAAAAAAnBg/6WGXXSU_rRsxMJe5HDW-ErC5Ti8ZZkQ6gCNcBGAsYHQ/s1600/multi.png)

E.M "ZENI SOARES RAMALHO"

CIÊNCIAS

## O SOLO



O **solo**, também chamado **terra**, tem grande importância na vida de todos os seres vivos do nosso planeta, assim como o ar, a água, o fogo e o vento. É do **solo** que retiramos parte dos nossos alimentos e que sobre ele, na maioria das vezes, construímos as nossas casas.

1) Complete as frases de maneira que fiquem corretas.

O \_\_\_\_\_ é a parte da crosta terrestre onde nascem e \_\_\_\_\_ diversas plantas, onde vivem as \_\_\_\_\_ e muitos outros \_\_\_\_\_.

( pessoas – animais – solo – crescem )

2) Marque V para alternativas verdadeiras e F para as falsas.

- ( ) O solo também é chamado de terra ou chão.
- ( ) O solo é formado de pequeninos pedaços de rochas e restos de plantas e animais.
- ( ) na superfície terrestre podemos encontrar apenas um tipo de solo.
- ( ) na superfície terrestre podemos encontrar diversos tipos de solo.

## LEILÃO DE JARDIM


Quem me compra um jardim  
Com flores?  
Borboletas de muitas cores,  
Lavadeiras e passarinhos,  
Ovos verdes e azuis nos ninhos?  
Quem me compra este caracol?  
Quem me compra um raio de sol?  
Um lagarto entre o muro e a hera,  
Uma estátua da Primavera?  
Quem me compra este formigueiro?  
E este sapo, que é jardineiro?  
E a cigarra e a sua canção?  
E o grilinho dentro do chão?  
(Este é o meu leilão!)




Ou Isto Ou Aquilo - Editora Nova  
Fronteira. Cecília Meireles



 O que está à venda na poesia acima?

 Circule na poesia e depois escreva abaixo uma palavrinha que tenha o **M** antes do **P** e duas que terminem com **M**.

 O que havia no jardim?

E.M "ZENI SOARES RAMALHO"

ARTES

A PRIMAVERA CHEGOU!!!

VAMOS COLORIR???



<https://www.artesanatopassoapassoja.com.br/wp-content/uploads/2018/09/flore-primavera.jpg>

E.M "ZENI SOARES RAMALHO"

LÍNGUA PORTUGUESA

SIMULADO DE LÍNGUA PORTUGUESA

GABARITO

01	A	B	C	D
02	A	B	C	D
03	A	B	C	D
04	A	B	C	D
05	A	B	C	D
06	A	B	C	D
07	A	B	C	D
08	A	B	C	D
09	A	B	C	D
10	A	B	C	D

D **QUESTÃO 01**

Leia o texto abaixo.

**A CUTIA**

A cutia é um bicho pequeno. Ela recolhe mais alimento do que consegue comer. O restante das castanhas ela enterra para comer mais tarde e acaba se esquecendo de onde as enterrou. Por causa disso as sementes acabam brotando e se tornam outras árvores.

QUEIROZ, Luis Roberto. Animais brasileiros. São Paulo.

A cutia enterra as castanhas para

- A) comê-las mais tarde.
- B) esquecer sua comida.
- C) plantar novas árvores.
- D) recolher mais alimento.

D **QUESTÃO 02**

Leia o texto abaixo.



<http://monica.com.br/comics/tirinhas/5362>. Acesso em 08 jun. 2002

A menina fechou a boca do menino para ele não

- A) brincar.
- B) comer.
- C) gritar.
- D) sorrir.

D **QUESTÃO 03**

Leia o texto abaixo.



SOUZA, Maurício de. Bidu. Rio de Janeiro: Globo, nº 23, 1999. p.162

O menino ficou chateado porque o cachorrinho

- A) estragou o jornal.
- B) não lhe deu o jornal.
- C) quis rasgar o jornal.
- D) amassou o jornal.

D **QUESTÃO 04**

Leia o texto abaixo.



ESCORPIÃO

O escorpião possui até doze olhos, mas isso não o impede de ter uma péssima visão! Ainda bem que não precisa muito dela por ser um animal noturno, que caça durante a noite e consegue sentir suas presas (aranhas, insetos), graças a pêlos muito sensíveis às vibrações.

(Texto retirado da Enciclopédia Planeta Animal. Girassol Brasil edições Ltda.)

O assunto do texto é

- A) a extinção do escorpião.
- B) a visão do escorpião.

E.M “ZENI SOARES RAMALHO”

LÍNGUA PORTUGUESA

CONTINUAÇÃO DO SIMULADO DE LÍNGUA PORTUGUESA

- C) o ferrão da aranha.
- D) o habitat dos insetos.

**D** ————— **QUESTÃO 05** —————

Leia o texto abaixo.

**Meu aniversário**

Hoje é meu aniversário.  
É um dia bem especial!  
Eu queria que hoje  
Fosse feriado nacional.

CAPUTO, Ruth Rozendo. Ciranda Cultural. p. 122. Adaptado.

Nesse texto, o ponto de exclamação foi usado para indicar

- A) alegria.
- B) dúvida.
- C) surpresa.
- D) susto.

**D** ————— **QUESTÃO 06** —————

Leia o texto abaixo.

**O médico e o louco**

– O que é isso na sua testa? – perguntou o médico.  
– Uma mordida.  
– Quem mordeu você?  
– Eu mesmo.  
– Você mesmo? Mas como?  
– Subi num banquinho.

Esse texto é uma

- A) carta.
- B) história.
- C) notícia.
- D) piada.

**D** ————— **QUESTÃO 07** —————

Leia o texto abaixo.

**O elefantinho**

Onde vais elefantinho?  
Correndo pelo caminho,  
Assim tão desconsolado?  
Andas perdido bichinho?  
Espetaste o pé no espinho?  
O que sentes pobre coitado?  
– Estou com um medo danado.  
– Encontrei um passarinho.

MORAES, Vinicius de. A Arca de Noé: poemas infantis. São Paulo: Cia das Letras, p.36.

O elefante estava correndo porque

- A) espetou o pé no espinho e sentia dor.
- B) estava com medo de um passarinho.
- C) estava procurando um bichinho perdido.
- D) ficou perdido e desconsolado.

**D** ————— **QUESTÃO 08** —————

Leia o texto abaixo.

**Sem Barra**

Enquanto a formiga  
carrega comida  
para o formigueiro,  
a cigarra canta,  
canta o dia inteiro.  
A formiga é só trabalho.  
A cigarra é só cantiga.  
Mas sem a cantiga  
da cigarra  
que distrai da fadiga,  
seria uma barra  
o trabalho da formiga!

PAES, José Paulo. Olha o bicho. São Paulo: Ática, 1989.

No verso “A cigarra é só cantiga”, cantiga é o mesmo que

- A) alegria.
- B) comida.
- C) fadiga.
- D) música.

**D** ————— **QUESTÃO 09** —————

Leia o texto abaixo.

**Canguru**

Canguru ficou cansado  
de carregar seu filhinho.  
Por isso foi à cidade  
e comprou lindo carrinho.

CAMARGO, Milton. A zebra, a girafa e outros bichos. São Paulo: Ática, 1982.

O Canguru comprou um carrinho porque queria

- A) carregar os brinquedos do filho.
- B) dar de presente de aniversário ao seu filho.
- C) fazer uma longa viagem com seu filho.
- D) carregar seu filho sem se cansar.

**D** ————— **QUESTÃO 10** —————

Lendo texto abaixo, podemos concluir que:

... quem adota hábitos de higiene está trabalhando pela saúde individual e coletiva, evitando assim, transtornos e gastos com consultas a especialistas da área de Saúde e medicamentos.

- a) Quem cuida da higiene é menos saudável.
- b) Quem se previne e zela pela higiene evita gastos com médicos e remédios.
- c) Quem investe na higiene pessoal jamais terá que ir ao médico.

E.M "ZENI SOARES RAMALHO"

MATEMÁTICA

SIMULADO DE MATEMÁTICA

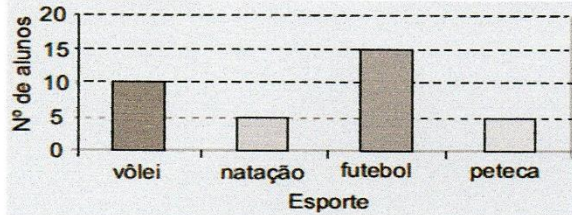
Simulado de Matemática  
Escola: \_\_\_\_\_ - 3º Ano  
Prof. \_\_\_\_\_  
Nome: \_\_\_\_\_

**GABARITO**

01	(A)	(B)	(C)	(D)
02	(A)	(B)	(C)	(D)
03	(A)	(B)	(C)	(D)
04	(A)	(B)	(C)	(D)
05	(A)	(B)	(C)	(D)
06	(A)	(B)	(C)	(D)
07	(A)	(B)	(C)	(D)
08	(A)	(B)	(C)	(D)
09	(A)	(B)	(C)	(D)
10	(A)	(B)	(C)	(D)

**QUESTÃO 1**

(SADEAM). O gráfico abaixo mostra a preferência dos alunos por uma das quatro modalidades de esporte: vôlei, natação, futebol e peteca. Cada aluno votou em apenas uma modalidade.



Qual é o esporte preferido pela maioria desses alunos?

- A) Vôlei.
- B) Futebol.
- C) Natação.
- D) Peteca.

**QUESTÃO 2**

(SADEAM). Veja no balão abaixo o número do pedido que o garçom foi atender.



Qual é o número desse pedido?  
A) Duzentos e sessenta e quatro.  
B) Quatrocentos e vinte e seis.  
C) Seiscentos e vinte e quatro.  
D) Seiscentos e quarenta e dois.

**QUESTÃO 3**

(SADEAM). Veja no quadro abaixo o tempo de vida de alguns animais selvagens.


DESENHO	ANIMAL	TEMPO DE VIDA
	Girafa	25 anos
	Hipopótamo	40 anos
	Leão	16 anos
	Zebra	12 anos

Qual desses animais tem o maior tempo de vida?

- A) Girafa.
- B) Hipopótamo.
- C) Leão.
- D) Zebra.

**QUESTÃO 4**

(SADEAM). Qual dos objetos abaixo lembra um cilindro?



CONTINUAÇÃO DO SIMULADO DE MATEMÁTICA

QUESTÃO 5


(SADEAM). Lucas tem os seguintes algarismos: 2, 7, 8.

Qual é o maior número de três algarismos que Lucas poderá escrever com esses algarismos, sem repeti-los?

- A) 872
- B) 782
- C) 278
- D) 888

QUESTÃO 6

(SADEAM). Vivian vai construir uma maquete da sala de sua casa e precisa saber qual o perímetro desse cômodo. O desenho abaixo representa a sala da casa de Vivian.




Qual é a medida do perímetro dessa sala?

- A) 6 m
- B) 8 m
- C) 12 m
- D) 16 m

QUESTÃO 7

(PAEBES-alfa). Ana desenhou a flor abaixo usando 13 figuras geométricas.



Quantos triângulos ela usou para desenhar essa flor?

- A) 1
- B) 2
- C) 3
- D) 7

QUESTÃO 8

(PAEBES-alfa). Ricardo anotou no quadro abaixo os horários de ônibus para ir de seu sítio até a cidade mais próxima durante alguns dias da semana.

Dias da semana	Horário de ônibus
Segunda-feira	8 horas
Terça-feira	7h10min
Quarta-feira	8h15min
Quinta-feira	6 horas

De acordo com esse quadro, em qual dia da semana o horário do ônibus é às 7h10min?

- A) Segunda-feira.
- B) Terça-feira.
- C) Quarta-feira.
- D) Quinta-feira.


QUESTÃO 9

(PAEBES-alfa). Em uma gincana escolar Juliana arrecadou 28 kg de alimentos, Andreza arrecadou 33 kg e Fernando 30 kg. No total, quantos quilogramas de alimentos os três arrecadaram nessa gincana?

- A) 80
- B) 81
- C) 90
- D) 91

QUESTÃO 10

(PAEBES-alfa). Observe os quatro lápis e responda:



O lápis menor é o de número

- A) 1
- B) 2
- C) 3
- D) 4