



Prefeitura da Estância Turística de
IBIÚNA
TRANSFORMAÇÃO RESPONSÁVEL. CUIDANDO DE PESSOAS.



E.M “ZENI SOARES RAMALHO

Atividades para estudo em Casa 4º ano A

11ª Apostila Período referente: 20/08 a 28/09/2.021

Dia de entrega da apostila: 29 e 30 de setembro

Aluno(a): _____

Professora: Claudenice Natarula Nascimento Silva

PRIMAVERA - ESTAÇÃO DAS FLORES



Combinados das lições

- Lavar as mãos para fazer as lições;
- Escolher um lugar tranquilo e adequado para realizar as atividades;
- Ler com atenção;
- Seguir o roteiro das datas e fazer 2 atividades por dia, evitando assim o acúmulo;
- Fazer as tarefas com capricho e dedicação;
- Não amassar, não sujar e rasgar as atividades;
- Assistir aos links enviados pela professora no grupo de whatsapp;
- Se tiver dúvidas perguntar para a professora.

Lembre-se: A atividade ndeve ser feita com a letra do aluno.

Lembre-se:

Você é capaz!!!

Eu acredito em você!!!

Escola: _____
 Prof. _____
 Aluno(a): _____

xxxx

MATEMÁTICA

01	(A)	(B)	(C)	(D)
02	(A)	(B)	(C)	(D)
03	(A)	(B)	(C)	(D)
04	(A)	(B)	(C)	(D)
05	(A)	(B)	(C)	(D)
06	(A)	(B)	(C)	(D)
07	(A)	(B)	(C)	(D)
08	(A)	(B)	(C)	(D)
09	(A)	(B)	(C)	(D)
10	(A)	(B)	(C)	(D)

H15 Questão 01

Juliana estuda à tarde.
 O relógio abaixo mostra o horário da merenda de sua turma.



Fonte: <http://www.fotosearch.com.br/fotos-imagens>

O horário da merenda da turma de Juliana é

- (A) 13 horas.
- (B) 15 horas.
- (C) 16 horas.
- (D) 17 horas.

H5 Questão 01

Na escola da Juliana tem 256 alunos.
 No número 256, o algarismo 5 ocupa a ordem das


- (A) centenas.
- (B) dezenas.
- (C) unidades.
- (D) unidades de milhar.

H5 Questão 03

Na escola da Juliana tem 256 alunos.
 O maior número que você pode escrever usando os algarismos:



sem repeti-los, é




Fonte: <http://www.fotosearch.com.br>

- (A) 526.
- (B) 562.
- (C) 625.
- (D) 652.

H11 Questão 04

A turma de Juliana construiu um boneco utilizando formas geométricas.
 As formas geométricas que aparecem no boneco são



- (A) círculo, quadrado, retângulo e triângulo.
- (B) losango, quadrado, círculo e triângulo.
- (C) quadrado, círculo, losango e retângulo.
- (D) retângulo, losango, quadrado e círculo.

H16 **Questão 05**

No outro dia, a turma do 3º ano da escola resolveu fazer uma torta para comemorar os aniversariantes do mês.

Entre os produtos utilizados para fazer a torta, o ingrediente vendido em quilo é

Fonte: <http://www.paodeacucar.com.br>



(A)



(B)



(C)



(D)

H14 **Questão 06**

Na hora de fazer o bolo, a mãe de Juliana viu que não tinha os ovos. Então, a menina abriu seu cofre e retirou as moedas abaixo.



21\09\2.021

Juliana pediu para sua mãe trocá-las por notas.

Ela recebeu



H14 **Questão 07**

Para fazer um bolo, a mãe de Juliana gastou ao todo 17 Reais. Pagou com uma nota de 20 Reais.

Ela recebeu de troco



21\09\2.021

H8 **Questão 08**

A direção da escola está comprando lápis para todos os alunos. Vamos ajudá-la a calcular a quantidade de lápis que ainda falta comprar.



Falta comprar

- (A) 24.
- (B) 114.
- (C) 124.
- (D) 134.

H8 **Questão 09**

A escola tem duas turmas do 3º ano. Vamos resolver esta adição, para calcular o total de alunos nas duas turmas.

$$\begin{array}{r} 30 \\ + 29 \\ \hline \end{array}$$

O resultado da adição é

- (A) 40.
- (B) 59.
- (C) 69.
- (D) 60.

H4 **Questão 10**

A reta numérica abaixo representa a idade dos avós de Juliana.




A idade deles é

- (A) 75.
- (B) 78.
- (C) 82.
- (D) 85.

<https://drive.google.com/file/d/0BzPewewkSxkza2pULXgtSWV4dG8/view>

LEIA:



NO BRASIL, O DIA DA ÁRVORE É COMEMORADO EM 21 DE SETEMBRO, VÉSPERA DA PRIMAVERA. É A ESTAÇÃO QUE AS ÁRVORES FICAM REPLETAS DE FOLHAS VERDES E SURGEM LINDAS FLORES.

A ÁRVORE AJUDA A MELHORAR A QUALIDADE DO AR, SERVE COMO MORADIA, FORNECEM ALIMENTOS, PROPORCIONA SOMBRA E FAVORECE A REDUÇÃO DA TEMPERATURA DO AR.

ESCREVA O QUE SENTE QUANDO VER AS CENAS ABAIXO.










Complete a árvore com pedaços de papéis verdes e pinte o desenho.



Essa é a árvore da felicidade:

Você deve escrever em cada quadradinho, coisas que te deixam feliz... vale qualquer coisa, basta te fazer feliz, quero ver todos quadradinhos escritos.




Meio ambientes

Leia o texto e procure no caça-palavras, as palavras sublinhadas.

O meio ambiente é tão importante para os seres humanos que tem seu próprio dia para ser lembrado.

Para que tenhamos cada vez mais pessoas engajadas no consumo consciente, tendo cuidado com a natureza e comprometidas com a sustentabilidade, a educação sobre o tema precisa começar desde cedo.

Vamos aprender como cuidar melhor do nosso meio ambiente para preservar a vida dos animais, das plantas e de todos nós.



Simulado de Língua Portuguesa

Escola: _____

Prof. _____

Nome: _____

01	(A)	(B)	(C)	(D)
02	(A)	(B)	(C)	(D)
03	(A)	(B)	(C)	(D)
04	(A)	(B)	(C)	(D)
05	(A)	(B)	(C)	(D)
06	(A)	(B)	(C)	(D)
07	(A)	(B)	(C)	(D)
08	(A)	(B)	(C)	(D)
09	(A)	(B)	(C)	(D)
10	(A)	(B)	(C)	(D)

H4 Questão 01

Potyra (As lágrimas eternas)

A linda e meiga Potyra amava o jovem e valente chefe da tribo, o guerreiro Itajibá, o braço de pedra. Ambos encontravam-se, frequentemente, nas areias brancas do rio, onde permaneciam durante horas admirando a natureza e trocando juras de amor, enquanto aguardavam o casamento.

Certo dia, veio a guerra. A tribo foi atacada por inimigos, partindo Itajibá para a luta. Ansiosa, Potyra esperava sua volta caminhando às margens do rio.

Muito tempo depois, os guerreiros regressaram informando à jovem que o chefe guerreiro havia morrido. Inconsolável, Potyra voltava todos os dias à praia a chorar sua grande perda. Sensibilizado com sua dor, Tupã, o Deus do Bem, transformou suas lágrimas em diamantes. Desta maneira, as águas levavam as preciosas pedrinhas até a sepultura do guerreiro como prova do seu eterno amor.

ANDRADE E SILVA, Walde-Mar de. Lendas e Mitos dos Índios Brasileiros. São Paulo: FTD, 1999

Potyra esperava a volta do guerreiro Itajibá

- (A) procurando diamantes.
- (B) admirando a natureza.
- (C) trocando juras de amor.
- (D) caminhando às margens do rio.

H5 Questão 01

No trecho: “Inconsolável, Potyra voltava todos os dias à praia a chorar **sua grande perda.**”, a expressão em destaque significa chorar

- (A) o desencontro dos guerreiros.
- (B) as dificuldades da vida.
- (C) a morte de seu amor.
- (D) as tristezas da guerra.

H6 Questão 03

A galinha dos ovos de ouro

Um homem tinha uma galinha que punha ovos de ouro. Achando que por dentro ela era só ouro, matou-a, mas não encontrou nada de diferente das outras galinhas. Assim, em vez de descobrir o enorme tesouro que esperava, perdeu até o pequeno lucro que ela lhe dava.

ESOPO, 550ª.C. Fábulas de Esopo. porto Alegre: L&PM,2009.

A fábula “A galinha dos ovos de ouro” ensina ao leitor que

- (A) não se deve ser curioso.
- (B) não se deve acreditar nas pessoas.
- (C) não se deve ferir os animais.
- (D) não se deve ser ambicioso.

H7 Questão 04



<http://peregrinacultural.files.wordpress.com/2009/05/desenhando-emilia-a-noite.jpg>

Na cena acima, a famosa personagem Emília está de bruços e desenhando. A expressão de seu rosto revela que ela

- (A) levou um susto.
- (B) reconheceu um amigo.
- (C) ficou cansada.
- (D) quis se levantar.

“Por que economizar água?”

Hoje, todos lá em casa tentam economizar água.

Antes, a gente desperdiçava esse líquido precioso – até que veio o racionamento.

Costumávamos tomar banho demorado todos os dias, as torneiras ficavam sempre abertas enquanto a gente lavava a louça, ou quando escovava os dentes.

Um dia, eu lavava a bicicleta no quintal, quando minha vizinha Clara se aproximou...

Clara lembrou que não tinha chovido muito ultimamente.


Agora, todo mundo deveria economizar água.

Clara disse que, se continuasse o desperdício, a água acabaria...

Trecho retirado do livro: GREEN, Jen. “Por que economizar água?” São Paulo, Editora Sipione, 2004

O texto que você leu fala sobre a necessidade de

- (A) economizar água todos os dias.
- (B) manter a bicicleta no quintal.
- (C) evitar banhos demorados.
- (D) lavar louças diariamente.



Para divulgar um “Programa de alegria e saúde” o cartaz apresenta que, para manter a saúde é preciso

- (A) usar enfeites em toda a casa.
- (B) cozinhar com água filtrada.
- (C) manter tudo sempre muito limpo e lavado.
- (D) consumir verduras frescas na refeição.

H6 **Questão 07**



Na cena acima, quando a personagem diz: “**Hoje enfiei o pé na jaca!**”, ela quer dizer que

- (A) comeu muita jaca.
- (B) adorou comer frutas
- (C) adorou comer escondido.
- (D) comeu muito.

H4 **Questão 08**

Larga a tia, lagartixa!

Lagartixa, larga a tia!

Só no dia que sua tia

Chamar lagartixa

De lagartinha!

(Cultura popular)

A lagartixa só vai largar sua tia quando ela for chamada de

- (A) lagartinha.
- (B) lagartixa.
- (C) sua tia.
- (D) lavadeira.

27\09\2.021

H3 **Questão 09**

SUPERMERCADO E PADARIA PALACIO DO CATETE LTDA.
RUA DO CATETE, 110 E 112 LOJAS
CATETE - RIO DE JANEIRO - RJ.
CEP.: 22220-000 - I.R.F.: 64-12
CNPJ: 01.001.950/0001-01 IE: 85.643.290
23/06/2010 16:56:54 CCF: 192433 COO: 245041

CUPOM FISCAL

ITEM	CODIGO	DESCRICAO	QTD.	UN.	VL.UNIT(R\$)	ST	IAT	VL.ITEM(R\$)
001	2101700001361	LARANJA LIMA						
			0,877	Cx	1,55	I1	A	1,36:
002	2108400002261	QUIABO						
			0,307	Cx	7,35	I1	A	2,26:
003	2107300000858	CHUCHU						
			0,459	Cx	1,85	I1	A	0,85:
004	2107100000966	CEBOLA						
			0,392	Cx	2,45	I1	A	0,96:
005	2107200000415	CENOURA						
			0,318	Cx	1,29	I1	A	0,41:
TOTAL R\$								5,84
DINHEIRO								20,00
TROCO R\$								14,16

O texto acima se refere a uma

- (A) receita de salada.
- (B) nota de compras.
- (C) lista de compras.
- (D) propaganda de supermercado.

H2 **Questão 10**

Marque a alternativa em que os produtos listados no cupom aparecem em ordem alfabética.

- (A) cenoura, laranja, chuchu, quiabo, cebola.
- (B) chuchu, cenoura, quiabo, laranja, cebola.
- (C) chuchu, cenoura, laranja, quiabo, cebola.
- (D) cebola, cenoura, chuchu, laranja, quiabo.

ESCOLA: _____

NOME: _____

DATA: ____/____/____

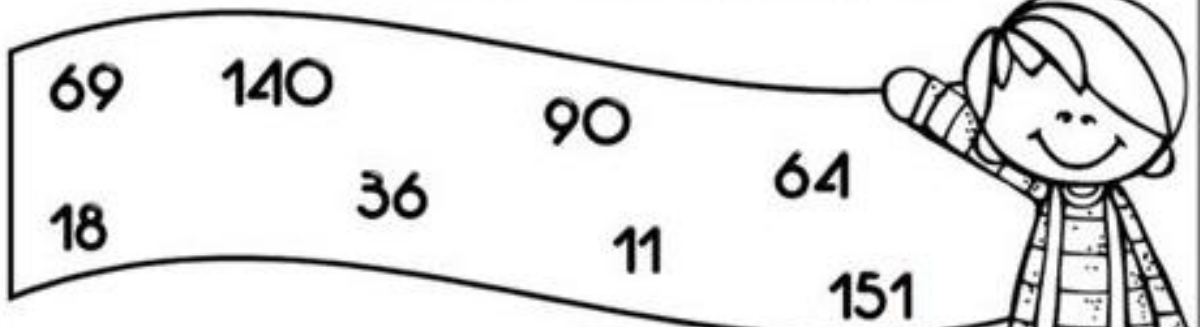


Amorensina.com.br

Alfabetizar com Amor ♥

MATEMÁTICA

Observe os numerais da faixa e resolva o desafio.



É maior que 6 dezenas e não é ímpar.

É o dobro de 7 dezenas.

É sucessor de 3 dezenas e meia.

É o maior numeral de 3 ordens.

É o menor numeral ímpar de 2 ordens.

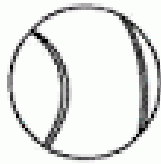
É a metade de 36.

Fica entre 89 e 91.

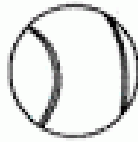
É o triplo de 23.

Caça-aumentativos e diminutivos!


Procure os substantivos no grau aumentativo e diminutivo, pintando os pares da mesma cor!



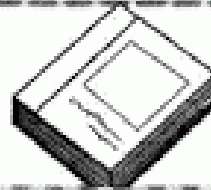
Bolão



Bola



Bolinha



B	O	Q	U	I	N	H	A	P	O	I	U	Y	A
S	D	F	G	C	A	S	I	N	H	A	G	H	J
B	O	N	E	Q	U	I	N	H	A	J	K	L	O
P	M	J	N	H	C	A	S	A	R	Ã	O	B	G
C	D	S	X	C	E	G	O	T	Í	C	U	L	A
R	T	Y	U	B	O	C	A	R	R	A	O	P	J
C	H	A	V	O	N	A	Z	X	C	V	B	N	H
Q	A	S	W	E	D	G	O	T	Ã	O	C	F	V
C	H	A	P	E	U	Z	I	N	H	O	Z	X	C
V	B	N	M	K	L	I	V	R	Ã	O	B	G	T
V	C	D	E	H	O	M	E	N	Z	I	N	H	O
Z	X	C	C	H	A	V	I	N	H	A	Z	A	S
H	O	M	E	N	Z	A	R	R	Ã	O	Z	S	X
D	C	F	L	I	V	R	I	N	H	O	T	G	B
N	H	Y	U	J	C	A	N	Z	A	R	R	Ã	O
B	G	L	E	V	I	A	O	T	V	C	D	E	R
C	H	A	P	E	L	Ã	O	Z	X	C	V	B	N
P	L	K	C	Ã	O	Z	I	N	H	O	R	T	Y
A	S	D	F	G	H	J	B	O	N	E	C	Ã	O

