

E.M “JOÃO CARDOSO DE MORAES”

3º ANO - A

PROFESSORA: VALERIA

11ª APOSTILA



NOME: _____

NOME: _____

DATA: ____ . ____ . ____

LEILÃO DE JARDIM

CECÍLIA MEIRELES

QUEM ME COMPRA UM JARDIM COM FLORES?
BORBOLETAS DE MUITAS CORES,...
LAVADEIRAS E PASSARINHOS,
OVOS VERDES E AZUIS NOS NINHOS?

QUEM ME COMPRA ESTE CARACOL?
QUEM ME COMPRA UM RAIO DE SOL?
UM LAGARTO ENTRE O MURO E A HERA,
UMA ESTÁTUA DA PRIMAVERA?

QUEM ME COMPRA ESTE FORMIGUEIRO?
E ESTE SAPO, QUE É JARDINEIRO?
A CIGARRA E A SUA CANÇÃO?
E O GRILINHO DENTRO DO CHÃO?
(ESTE É O MEU LEILÃO).





ESCOLA: _____

NOME: _____

PROFESSORA: _____ DATA: ____/____/____

MARQUE O NOME DO POEMA QUE ESTAMOS TRABALHANDO:



LEILÃO NO CAPIM.



LEILÃO NO JARDIM.



LEILÃO NO JASMIM.

MARQUE O NOME DA AUTORA DO POEMA QUE ESTAMOS TRABALHANDO:



CECÍLIA MORAES.



CECÍLIA MEIRELES



CECÍLIA MORALES





ESCOLA: _____

NOME: _____

PROFESSORA: _____ DATA: ____/____/____

ESCREVA O NOME DO LOCAL EM QUE ACONTECEU O LEILÃO.



LEIA O POEMA E COMPLETE:

QUEM ME COMPRA

UM _____ COM _____ ?

_____ DE MUITAS CORES.

LAVADEIRAS E _____,

_____ VERDES E AZUIS NO NINHO?

ESCREVA O NOME DAS FIGURAS COM QUE VOCÊ COMPLETOU O POEMA:













ESCOLA: _____

NOME: _____

PROFESSORA: _____ DATA: ____/____/____

LEIA O POEMA E COMPLETE:

QUEM ME COMPRA ESTE _____ ?



QUEM ME COMPRA UM RAIO DE _____ ?



UM _____ ENTRE O MURO E A HERA.


UMA ESTÁTUA DA PRIMAVERA?



ESCREVA O NOME DAS FIGURAS COM QUE VOCÊ COMPLETOU O POEMA:



<input type="text"/>	<input type="text"/>	<input type="text"/>	<input type="text"/>	<input type="text"/>	<input type="text"/>
----------------------	----------------------	----------------------	----------------------	----------------------	----------------------



<input type="text"/>	<input type="text"/>	<input type="text"/>	<input type="text"/>	<input type="text"/>	<input type="text"/>	<input type="text"/>
----------------------	----------------------	----------------------	----------------------	----------------------	----------------------	----------------------



<input type="text"/>	<input type="text"/>	<input type="text"/>
----------------------	----------------------	----------------------



ESCOLA: _____

NOME: _____

PROFESSORA: _____ DATA: ____ / ____ / ____

LEIA E LIGUE CORRETAMENTE:

NINHO



PASSARINHO



CARACOL



CIGARRA



GRILO



SAPO



FORMIGUEIRO



LAGARTO



SOL






ESCOLA: _____

NOME: _____

PROFESSORA: _____ DATA: ____/____/____


OBSERVE AS GRAVURAS E FORME GRUPO DE CINCO.



QUANTOS GRUPOS DE CINCO VOCÊ FORMOU?

QUANTAS SOBRARAM?

QUANTAS LAVADEIRAS AO TODO?



QUANTOS GRUPOS DE 6 VOCÊ FORMOU?

QUANTAS SOBRARAM?

QUANTAS BORBOLETAS AO TODO?



ESCOLA: _____


NOME: _____

PROFESSORA: _____ DATA: ____/____/____

ENCONTRE OS NOMES DAS FIGURAS NO CAÇA PALAVRAS E ESCREVA:

B	O	R	B	O	L	E	T	A
X	C	A	R	A	C	O	L	X
S	O	L	X	X	O	V	O	S
L	A	G	A	R	T	O	X	X












NOME: _____ DATA: _____

- Observe o gráfico que mostra o animal preferido pelos alunos do 3º ano:



- De acordo com o gráfico, complete a tabela abaixo, escrevendo o nome dos animais e sua respectiva quantidade:

NOME DO ANIMAL	QUANTIDADE
Abelha	
Borboleta	
Cachorro	
Cavalo	
Joaninha	
Vaca	


- Qual foi o animal mais votado? _____
- Qual foi o animal menos votado? _____
- Quantos votos teve o cavalo? _____
- Qual animal teve 7 votos? _____

NOME: _____ DATA: _____

TURMA: _____ PROF.(A): _____

21 DE SETEMBRO: DIA DA ÁRVORE

IDENTIFIQUE E COLE AS PARTES DA ÁRVORE:



www.oespacoeducar.com.br

RAÍZES

FOLHAS

FLORES

FRUTOS

CAULE

Continhas de subtração

D	U
7	5
-2	3

D	U
5	1
-3	1

D	U
6	7
-5	0

D	U
6	9
-2	4



D	U
3	4
-0	1

D	U
4	5
-0	5

D	U
8	1
-0	6

D	U
7	8
-6	2

D	U
1	4
-1	2


D	U
1	9
-0	4



D	U
2	1
-2	0

D	U
3	8
-1	8

CONTINHAS DE ADIÇÃO



D	U
2	3
+2	2
<hr/>	

D	U
5	6
+1	3
<hr/>	

D	U
9	7
+0	2
<hr/>	

D	U
7	4
+2	4
<hr/>	

D	U
4	8
+3	1
<hr/>	

D	U
3	9
+1	0
<hr/>	

Dani Educar

D	U
1	5
+1	4
<hr/>	

D	U
2	5
+2	0
<hr/>	

D	U
5	0
+3	0
<hr/>	

D	U
8	6
+0	3
<hr/>	

Referências:

www.danieducar.com.br

www.oespacoeducar.com.br

educacaoetransformacaooficial.blogspot.com