

E.M. "PROFESSORA INÊS NUNES MAKIYAMA"  
1º ANO B - PROFESSORA: MILENA (SUBSTITUTA: IVANILDA)



11ª APOSTILA - 20/09 A 28/09

DEVOLUÇÃO DA APOSTILA SERÁ DIA 29/09

NOME: \_\_\_\_\_

EM "PROFESSORA INÊS NUNES MAKIYAMA"

IBIÚNA, 20 DE SETEMBRO DE 2021

NOME:

## O CRAVO E A ROSA

O CRAVO BRIGOU COM A ROSA.

DEBAIXO DE UMA SACADA.

O CRAVO SAIU FERIDO


E A ROSA DESPEDAÇADA.

O CRAVO FICOU DOENTE.

A ROSA FOI VISITAR.

O CRAVO TEVE UM DESMAIO.

A ROSA PÔS – SE A CHORAR.



EM "PROFESSORA INÊS NUNES MAKIYAMA"

IBIÚNA, 20 DE SETEMBRO DE 2021

NOME:

LEIA E CANTE E COMPLETE:

## O CRAVO E A ROSA

O \_\_\_\_\_ BRIGOU COM A \_\_\_\_\_.

DEBAIXO DE UMA \_\_\_\_\_.

O \_\_\_\_\_ SAIU FERIDO

E A ROSA DESPEDAÇADA.



O CRAVO FICOU \_\_\_\_\_.

A \_\_\_\_\_ FOI VISITAR.

O CRAVO TEVE UM \_\_\_\_\_.









A \_\_\_\_\_ PÔS – SE A CHORAR.

EM "PROFESSORA INÊS NUNES MAKIYAMA"


IBIÚNA, 20 DE SETEMBRO DE 2021

NOME:

A PRIMAVERA É CONSIDERADA A ESTAÇÃO DAS FLORES. POR ISSO, A PROFESSORA MARGARETH FEZ UMA PESQUISA COM AS MÃES PARA SABER QUAL ERA A FLOR PREFERIDA DELAS. OBSERVE O RESULTADO NA TABELA ABAIXO:

	MARGARIDA	ROSA	CRAVO	TULIPA
FLORES				
VOTOS				

AGORA COLOQUE O RESULTADO DA TABELA NO GRÁFICO ABAIXO, CLICANDO NO QUADRINHOS DE BAIXO PARA CIMA, DE ACORDO COM A QUANTIDADE DE VOTOS QUE CADA FLOR RECEBEU.



EM "PROFESSORA INÊS NUNES MAKIYAMA"

IBIÚNA, 21 DE SETEMBRO DE 2021

NOME:

LEIA E RESPONDA:

QUEM BRIGOU COM A ROSA?

QUEM SAIU FERIDO?

QUEM SAIU DESPEDAÇADA?

QUEM FICOU DOENTE?

QUEM FOI VISITAR?

QUEM TEVE UM DESMAIO?

QUEM COMEÇOU A CHORAR?

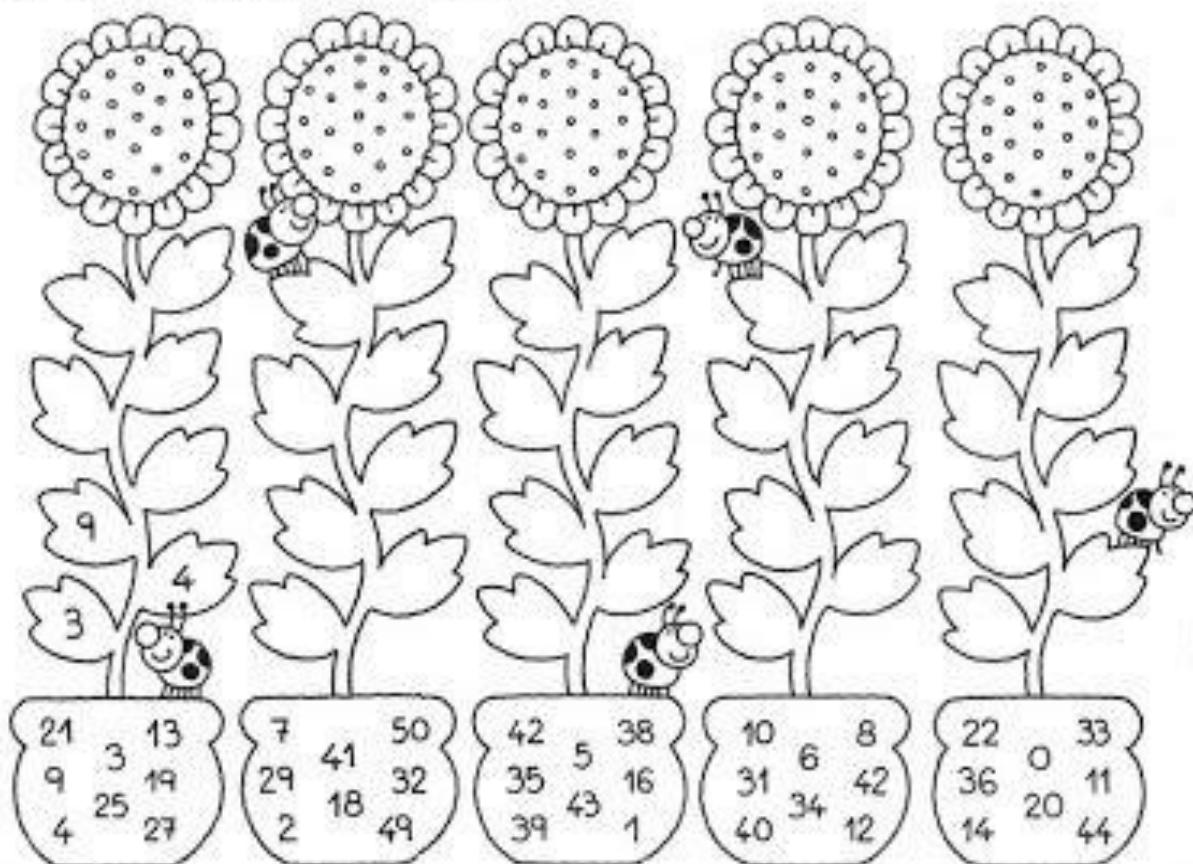


EM "PROFESSORA INÊS NUNES MAKIYAMA"

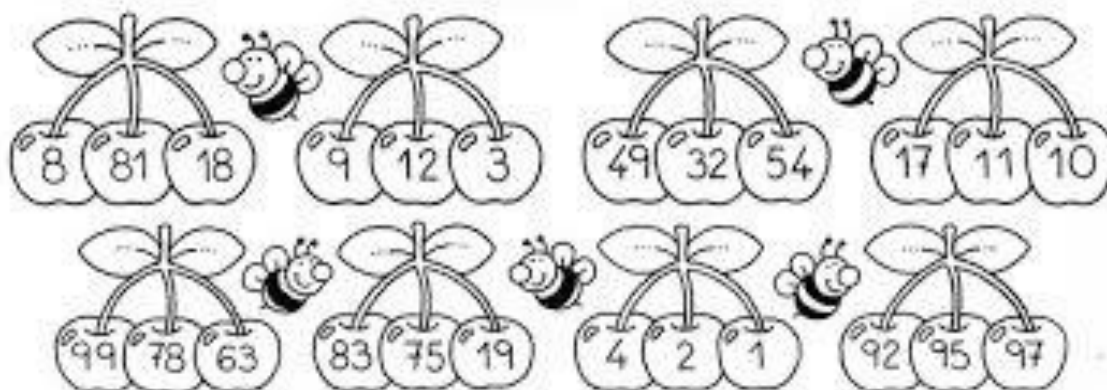
IBIÚNA, 21 DE SETEMBRO DE 2021

NOME:

COMPLETE AS FLORES ORGANIZANDO OS NÚMEROS DO MENOR PARA O MAIOR.



PINTE DE VERMELHO A CEREJA COM O MAIOR NÚMERO E DE VERDE A CEREJA COM O MENOR NÚMERO.



EM "PROFESSORA INÊS NUNES MAKIYAMA"

IBIÚNA, 22 DE SETEMBRO DE 2021

NOME:

AO ESCREVER A CANÇÃO, ALGUMAS PALAVRAS FORAM TROCADAS.  
CIRCULE AS PALAVRAS TROCADAS E REESCREVA A CANÇÃO  
CORRETAMENTE:



## O CRAVO E A ROSA

O CRAVO BRINCOU COM A MARGARIDA.

EM CIMA DE UM PALCO.

O CRAVO SAIU EMOCIONADO.

E A MARGARIDA APLAUDIDA.

---

---

---

---

ILUSTRE A CANÇÃO:

A large, empty rectangular box with a black border, intended for the student to draw an illustration of the song.

EM "PROFESSORA INÊS NUNES MAKIYAMA"

IBIÚNA, 22 DE SETEMBRO DE 2021

NOME:



1) Continue a atividade. Já comecei.

$$0 + 10 = 10$$

$$10 + 10 = \underline{\quad}$$

$$20 + 10 = \underline{\quad}$$

$$30 + 10 = \underline{\quad}$$

$$40 + 10 = \underline{\quad}$$



$$50 + 10 = \underline{\quad}$$

$$60 + 10 = \underline{\quad}$$


$$70 + 10 = \underline{\quad}$$

$$80 + 10 = \underline{\quad}$$

2) Siga a seqüência de 10 em 10.



3) Faça a correspondência. Veja!





EM "PROFESSORA INÊS NUNES MAKIYAMA"

IBIÚNA, 23 DE SETEMBRO DE 2021

NOME:

ATIVIDADE DE LEITURA E ESCRITA  
VAMOS LER O TEXTO

### O CRAVO E A ROSA

O CRAVO BRIGOU COM A ROSA  
DEBAIXO DE UMA SACADA.  
O CRAVO SAIU FERIDO  
E A ROSA, DESPEDAÇADA.

O CRAVO FICOU DOENTE,  
A ROSA FOI VISITAR.  
O CRAVO TEVE UM DESMAIO  
E A ROSA PÔS-SE A CHORAR.




1 RETIRE DO TEXTO PALAVRAS QUE SE INICIAM COM AS LETRAS:

C

R

2 PINTE OS NOMES QUE COMEÇAM COM O MESMO SOM DO NOME DO  
DESENHO ABAIXO:



REMO

RODRIGO

RODA

RATO

RIACHO

ROMEU

EM "PROFESSORA INÊS NUNES MAKIYAMA"

IBIÚNA, 23 DE SETEMBRO DE 2021

NOME:

## ATIVIDADE DE MATEMÁTICA

VAMOS SOMAR, UTILIZANDO MOEDAS E CÉDULAS DE REAL?

$$\text{5 REAIS} + \text{5 REAIS} = \text{10 REAIS}$$

$$\text{5 REAIS} + \text{5 REAIS} = \text{10 REAIS}$$

$$\text{2 REAIS} + \text{5 REAIS} = \text{7 REAIS}$$

$$\text{10 REAIS} + \text{5 REAIS} = \text{15 REAIS}$$

$$\text{20 REAIS} + \text{10 REAIS} = \text{30 REAIS}$$


$$\text{20 REAIS} + \text{20 REAIS} = \text{40 REAIS}$$

EM "PROFESSORA INÊS NUNES MAKIYAMA"

IBIÚNA, 24 DE SETEMBRO DE 2021

NOME:

ESCREVA CONFORME AS ILUSTRAÇÕES:



---

---

---

---




---

---

---

---



---

---

---

---



---

---

---

EM "PROFESSORA INÊS NUNES MAKIYAMA"

IBIÚNA, 24 DE SETEMBRO DE 2021

NOME:

1

1) OBSERVE AS CÉDULAS E MOEDAS ABAIXO E ESCREVA O VALOR DE CADA UMA.



\_\_\_\_\_

\_\_\_\_\_

\_\_\_\_\_



\_\_\_\_\_

\_\_\_\_\_



\_\_\_\_\_

\_\_\_\_\_

\_\_\_\_\_



\_\_\_\_\_

\_\_\_\_\_

\_\_\_\_\_

2) VEJA O VALOR DOS BRINQUEDOS E COMPLETE A TABELA.




PRODUTO	VALOR
BOLA	
BONECA	
CARRINHO	
PETECA	
PIÃO	

EM "PROFESSORA INÊS NUNES MAKIYAMA"

IBIÚNA, 27 DE SETEMBRO DE 2021

NOME:

CIRCULE A FLOR DE CAULE MAIS CURTO  
FAÇA UM X NA DE CAULE MAIS LONGO  
PINTE DE VERMELHO A FLOR DIFERENTE




EM "PROFESSORA INÊS NUNES MAKIYAMA"

IBIÚNA, 27 DE SETEMBRO DE 2021

NOME:



PALAVRAS	QUANTAS LETRAS	QUANTAS SÍLABAS	1ª LETRA	ULTIMA LETRA	VOGAIS	CONSOANTES
ROSA						
CRAVO						
BRIGOU						
SACADA						
FERIDO						
DESPEDAÇADA						
DOENTE						
VISITAR						
DESMAIO						
CHORAR						

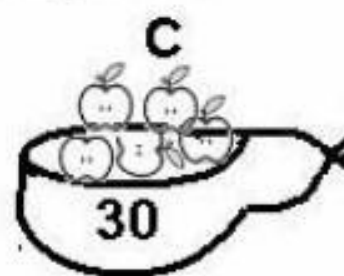
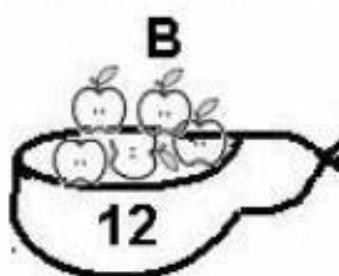



EM "PROFESSORA INÊS NUNES MAKIYAMA"

IBIÚNA, 27 DE SETEMBRO DE 2021

NOME:

Veja as maçãs nas cuias e complete:



- Qual das cuias tem mais maçãs? \_\_\_\_\_

- Qual delas tem menos? \_\_\_\_\_

- Dê a metade: A  B  C

- Dê o dobro: A  B  C

- Os vizinhos são: A  B  C

- A: \_\_\_\_\_ dezenas e \_\_\_\_\_ unidades:

- B: \_\_\_\_\_ dezenas e \_\_\_\_\_ unidades:

- C: \_\_\_\_\_ dezenas:

Escreva-os em palavras:

A: \_\_\_\_\_

B: \_\_\_\_\_

C: \_\_\_\_\_

EM "PROFESSORA INÊS NUNES MAKIYAMA"

IBIÚNA, 28 DE SETEMBRO DE 2021

NOME:

**OBSERVE AS CENAS, DEPOIS RECORTE E COLE OS NOMES NOS LUGARES CERTOS!**

	
<input type="text"/>	<input type="text"/>
	
<input type="text"/>	<input type="text"/>

PRIMAVERA

OUTONO

VERÃO

INVERNO



EM "PROFESSORA INÊS NUNES MAKIYAMA"

IBIÚNA, 28 DE SETEMBRO DE 2021

NOME:

LEIA AS LETRAS E FAÇA UM (X) COM A MESMA COR NA FIGURA E SUA LETRA INICIAL:



S V R G C A O

OBSERVE OS NOMES DAS FIGURAS E PREENCHA A TABELA:

FIGURA	QUANTAS LETRAS	LETRA INICIAL	LETRA FINAL
 <b>ROSA</b>			
 <b>CRAVO</b>			
 <b>SACADA</b>			

EM "PROFESSORA INÊS NUNES MAKIYAMA"

IBIÚNA, 28 DE SETEMBRO DE 2021

NOME:

## ATIVIDADE

COLOQUE OS NÚMEROS EM ORDEM.

59 47 36 45 27 19 59 47 36

95 25 36 58 37 22 70 18 21


CONTINUE A SEQUÊNCIA.



CIRCULE OS NUMERAIS NA CASA DA UNIDADE.

96 - 15 - 36 - 21 - 71

PATRÍCIA PINTOU 5 BOLINHAS. ARREPENDIDA APAGOU 2.  
QUANTAS RESTARAM?



## Referências

<https://www.google.com/imgres?imgurl=https://www.soescola.com/wp-content/uploads/2017/09/sequencia-de-atividades-da-primavera-para-imprimir-6.jpg&imgrefurl=https://www.soescola.com/2017/09/sequencia-de-atividades-da-primavera-para-imprimir.html&docid=HHCBngTHA8Ob6M&tbnid=KNwRxwM-e8hA7M&vet=1&w=612&h=962&hl=pt-BR&source=sh/x/im>

[https://www.google.com/imgres?imgurl=https://files.liveworksheets.com/def\\_files/2020/9/17/917000923601501/917000923601501001.jpg&imgrefurl=https://www.liveworksheets.com/worksheets/pt/Matem%25C3%25A1tica/Sistema\\_Monet%25C3%25A1rio/Sistema\\_monet%25C3%25A1rio\\_xf1189655vl&tbnid=ODkAnEPGPexHjM&vet=1&docid=uoEwdYQFYVhugM&w=1000&h=1413&hl=pt-BR&source=sh/x/im](https://www.google.com/imgres?imgurl=https://files.liveworksheets.com/def_files/2020/9/17/917000923601501/917000923601501001.jpg&imgrefurl=https://www.liveworksheets.com/worksheets/pt/Matem%25C3%25A1tica/Sistema_Monet%25C3%25A1rio/Sistema_monet%25C3%25A1rio_xf1189655vl&tbnid=ODkAnEPGPexHjM&vet=1&docid=uoEwdYQFYVhugM&w=1000&h=1413&hl=pt-BR&source=sh/x/im)

<https://images.app.goo.gl/5t7x3pTbdXoG6aq88>

<https://images.app.goo.gl/GtCteeskm1AvmK2DA>

<https://images.app.goo.gl/oF4Di4TpFtRBo6y28>

[https://www.google.com/imgres?imgurl=https://escolaeducacao.com.br/wp-content/uploads/2015/07/atividades-de-matematica-1-ano-de-10-em-10.jpg&imgrefurl=https://escolaeducacao.com.br/atividades-de-matematica-1o-ano/atividades-de-matematica-1-ano-de-10-em-10/&tbnid=e-HmHbuGD\\_kogM&vet=1&docid=8n7fIHfX2W2E9M&w=1000&h=1435&hl=pt-BR&source=sh/x/im](https://www.google.com/imgres?imgurl=https://escolaeducacao.com.br/wp-content/uploads/2015/07/atividades-de-matematica-1-ano-de-10-em-10.jpg&imgrefurl=https://escolaeducacao.com.br/atividades-de-matematica-1o-ano/atividades-de-matematica-1-ano-de-10-em-10/&tbnid=e-HmHbuGD_kogM&vet=1&docid=8n7fIHfX2W2E9M&w=1000&h=1435&hl=pt-BR&source=sh/x/im)

[https://br.pinterest.com/pin/612771093028016124/feedback/?invite\\_code=9697c48d7c8f4460855e01a1e19cff08&sender\\_id=596304944320086973](https://br.pinterest.com/pin/612771093028016124/feedback/?invite_code=9697c48d7c8f4460855e01a1e19cff08&sender_id=596304944320086973)

[https://www.google.com/imgres?imgurl=https://files.liveworksheets.com/def\\_files/2020/9/21/921142741543169/921142741543169001.jpg&imgrefurl=https://www.liveworksheets.com/ft1197806ps&docid=GsuHd1yurBDsDM&tbnid=W3bNptUiBXxHjM&vet=1&w=1000&h=1413&hl=pt-BR&source=sh/x/im](https://www.google.com/imgres?imgurl=https://files.liveworksheets.com/def_files/2020/9/21/921142741543169/921142741543169001.jpg&imgrefurl=https://www.liveworksheets.com/ft1197806ps&docid=GsuHd1yurBDsDM&tbnid=W3bNptUiBXxHjM&vet=1&w=1000&h=1413&hl=pt-BR&source=sh/x/im)

[https://br.pinterest.com/pin/829295718862870989/feedback/?invite\\_code=f47698175f174dc0a55cedd747720bd&sender\\_id=596304944320086973](https://br.pinterest.com/pin/829295718862870989/feedback/?invite_code=f47698175f174dc0a55cedd747720bd&sender_id=596304944320086973)