



E.M. "BAIRRO MANUEL CLEMENTE"

PROFESSORA: ANTONIA

1º ANO- A

ALUNO (A):

ATIVIDADES DO PERÍODO 20/09 A 28/09/2021

11ª APOSTILA

A CAIPIRINHA – OBRA TARCILA DO AMARAL.



DATA DA ENTREGA AOS PAIS: 20/09

DEVOLUÇÃO DA APOSTILA: 29 E 30/09/2021.

ROTEIRO E REFERÊNCIAS ANEXOS

Roteiro de atividades		
DIA	DESCRIÇÃO	PÁGINA
	CAPA	01
	ROTEIRO DE ATIVIDADES	02
20/09	FAMÍLIA SILÁBICA DO N.	03
20/09	COMPLETAR A SEQÜÊNCIA NUMÉRICA .	04
21/09	COMPLETE COM A FAMILIA SILABICA DO N.	05
21/09	CONTE E DESCUBRA O NUMERO DOS COJUNTOS E PINTE A RESPOSTA CERTA.	06
21/09	O CORPO HUMANO, REESCREVA AS FRASES TROCANDO OS DESENHOS POR NOMES.	07
22/09	ORGANIZAR AS PALAVRAS DE ACORDO COM A SÍLABA INICIAL.	08
22/09	NÚMEROS ORDINAIS, FAÇA O QUE SE PEDE E COMPLETAR O QUADRO ABAIXO.	09
23/09	PINTAR SOMENTE AS PALAVRAS INICIADAS COM A LETRA N.	10
23/09	GRÁFICO, COMPLETAR.	11
24/09	COMPLETE AS PALAVRAS COM O N FALTOSO RESCREVA- AS.	12
24/09	MEDIDA DE CAPACIDADES.	13
27/09	VAMOS LER, PINTE O NOME DAS FIGURAS.	14
27/09	OBA! CANTANDO VOU SOMANDO.	15
28/09	COPIE AS FRASES DANDO NOME ÀS FIGURAS.	16
28/09	VAMOS SUBTRAIR?	17



E.M. "BAIRRO MANUEL CLEMENTE".

IBIÚNA, 20 DE SETEMBRO DE 2021.

PROFESSORA : ANTONIA

1º ANO A

ALUNO(A): _____

LÍNGUA PORTUGUESA

FAMÍLIA SILÁBICA N

UNA A LETRA N COM CADA VOGAL E FORME AS SILABAS:

A →

E →

I →

O →

U →

COMPLETE AS PALAVRAS COM NA, NE, NI, NO OU NU:



V I O



V E



N H O



V E



V E M



E.M. "BAIRRO MANUEL CLEMENTE".

IBIÚNA, 20 DE SETEMBRO DE 2021.

PROFESSORA : ANTONIA

1º ANO A

ALUNO(A): _____

MATEMÁTICA

1- COMPLETE A SEQUÊNCIA NUMÉRICA COM OS NÚMEROS FALTOSOS.

1	2		4		6	7	8		10
	12			15	16			19	20
	22		24	25		27	28	29	
31	32	33		35		37		39	40
41		43		45	46	47			50
51		53	54		56		58	59	
		63	64		66	67		69	
71	72	73		75			78		80
81			84		86	87	88		90
	92	93	94	95			98	99	

2-) ESCREVA OS NÚMEROS QUE FALTAM.

A. — — — —

B. — — — —

C. — — — —

D. — — — —



E.M. "BAIRRO MANUEL CLEMENTE".

IBIÚNA, 21 DE SETEMBRO DE 2021.

PROFESSORA : ANTONIA

1º ANO A

ALUNO(A): _____

LÍNGUA PORTUGUESA

LINGUAGEM

FAMÍLIA SILÁBICA

N

COMPLETE COM:



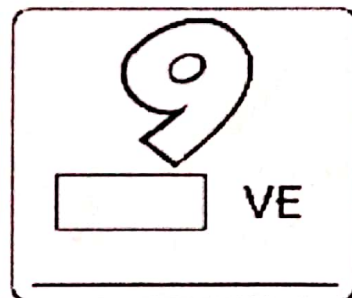
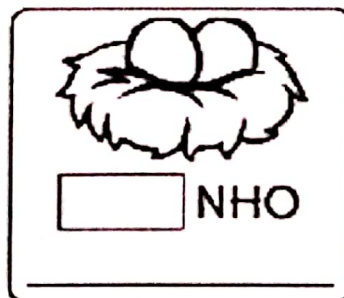
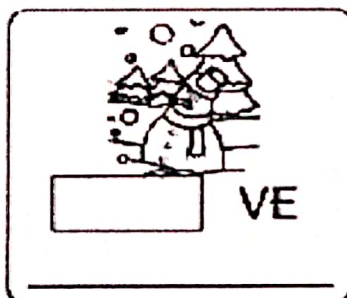

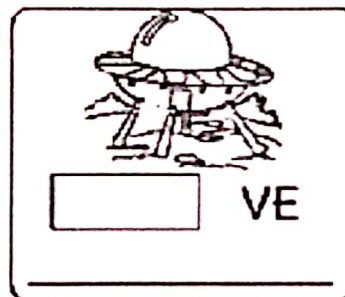

NA

NE

NI

NO

NU





E.M. "BAIRRO MANUEL CLEMENTE".

IBIÚNA, 21 DE SETEMBRO DE 2021.

PROFESSORA : ANTONIA

1º ANO A

ALUNO(A): _____

MATEMÁTICA

- Conte, descubra quantos animais há em cada conjunto e pinte a resposta certa:

1	2	3	4	5	6
7	8	9	10	11	12
13	14	15	16	17	18

1	2	3	4	5	6
7	8	9	10	11	12
13	14	15	16	17	18

1	2	3	4	5	6
7	8	9	10	11	12
13	14	15	16	17	18

1	2	3	4	5	6
7	8	9	10	11	12
13	14	15	16	17	18

1	2	3	4	5	6
7	8	9	10	11	12
13	14	15	16	17	18

1	2	3	4	5	6
7	8	9	10	11	12
13	14	15	16	17	18

https://www.google.com/url?sa=i&url=https%3A%2F%2Fbr.pinterest.com%2Fpin%2F569072102909023315%2F&psig=AOvVaw0_DVCsZNPxPYEWttJ-tbw&ust=1631993097198000&source=images&cd=vfe&ved=0CAQjRxqFwoTCJC-n8XehvMCFQAAAAAdAAAAABA5



E.M. "BAIRRO MANUEL CLEMENTE".

IBIÚNA, 21 DE SETEMBRO DE 2021.

PROFESSORA : ANTONIA

1º ANO A

ALUNO(A): _____



Ciências Naturais

► O corpo humano

► **Leia:**

O nosso corpo é formado por três partes: cabeça, tronco e membros.








CABEÇA

TRONCO

MEMBROS

► Troque os desenhos por palavras e reescreva as frases.

• Na cabeça ficam os   , o  , a  e ouvidos.

• No tronco ficam o  , os pulmões, o estômago, os intestinos e outros órgãos. _____

• Membros superiores são os  e os inferiores são as  .

LEGENDA: OLHOS – NARIZ – BOCA – CORAÇÃO – BRAÇOS – PERNAS.

<https://bau-de-atividades.com/wp-content/uploads/2017/10/Atividades-Corpo-humano-membros-orgaos-sentidos-esqueleto-ossos-sangue-veia-arterias-circula%C3%A7%C3%A3o-digest%C3%A3o-respira%C3%A7%C3%A3o-304.jpg>



E.M. "BAIRRO MANUEL CLEMENTE".

IBIÚNA, 22 DE SETEMBRO DE 2021.

PROFESSORA : ANTONIA

1º ANO A

ALUNO(A): _____

LÍNGUA PORTUGUESA

LINGUAGEM

FAMÍLIA SILÁBICA

N

ORGANIZE AS PALAVRAS DE ACORDO COM A SÍLABA INICIAL

~~NAVEIO~~

NENHO

NUVEM

NEVE

NOVE

NETO

NOVELO

~~NARIZ~~

NÍVEA

NÚMERO

NA

NAVIO

NARIZ

NE

NI

NO

NU



E.M. "BAIRRO MANUEL CLEMENTE".

IBIÚNA, 22 DE SETEMBRO DE 2021.

PROFESSORA : ANTONIA

1º ANO A

ALUNO(A): _____

MATEMÁTICA

NÚMEROS ORDINAIS

1 – Observe a imagem e faça o que esta sendo pedido:



- Pinte de verde a camisa do 4º menino;
- Pinte de amarelo o cabelo do 2º menino;
- Pinte de azul o tênis do 2º, 3º e do 6º menino;
- Os meninos com a bola estão em ____ lugar e ____ lugar;
- O menino de camisa preta está em ____ lugar.

2 – Escreva por extenso os números ordinais:

1º		6º	
2º		7º	
3º		8º	
4º		9º	
5º		10º	

LEIA E COPIE NO QUADRO ACIMA:

PRIMEIRO – SEGUNDO – TERCEIRO – QUARTO – QUINTO – SEXTO – SÉTIMO – OITAVO – NÔNO
DÉCIMO.

<https://atividadespedagogicas.net/wp-content/uploads/2018/06/ATIVIDADES-DE-MATEMATICA-COM-NUMEROS-ORDINAIS-4.jpg>



E.M. "BAIRRO MANUEL CLEMENTE".

IBIÚNA, 23 DE SETEMBRO DE 2021.

PROFESSORA : ANTONIA

1º ANO A

ALUNO(A): _____

LÍNGUA PORTUGUESA



PINTE SOMENTE AS PALAVRAS QUE COMEÇAM COM A LETRA **N**:

NEVE	MEIA	NATAL	MILHO
JIPE	NINHO	PATO	NOVE
NARIZ	JUIZ	NUVEM	DADO
MAÇÃ	NOITE	MESA	NAVIO
NOVELO	JOGO	NAVE	RATO
MAMÃO	NOIVA	MACACO	



E.M. "BAIRRO MANUEL CLEMENTE".

IBIÚNA, 24 DE SETEMBRO DE 2021.

PROFESSORA : ANTONIA

1º ANO A

ALUNO(A): _____

LÍNGUA PORTUGUESA



COMPLETE AS PALAVRAS COM O N FALTOSO E COPIE-AS:



 N AVE
N AVE



 AVIO



 ARIZ



 EVE



 OIVA



 OVELO



 INHO



 OVE



 UVEM



E.M. "BAIRRO MANUEL CLEMENTE".

IBIÚNA, 24 DE SETEMBRO DE 2021.

PROFESSORA : ANTONIA

1º ANO A

ALUNO(A): _____

MATEMÁTICA

MEDIDA DE CAPACIDADE

A UNIDADE
DE MEDIDA DE
CAPACIDADE É
O LITRO.




1 Pinte os produtos que são vendidos aos litros.



2 Escreva nomes de produtos líquidos usados em sua casa.







E.M. "BAIRRO MANUEL CLEMENTE".

IBIÚNA, 27 DE SETEMBRO DE 2021.

PROFESSORA : ANTONIA




1º ANO A




ALUNO(A): _____

LÍNGUA PORTUGUESA

VAMOS LER




PINTE OS NOMES DAS FIGURAS.

		
NOVE	NOIVA	NISSO
NOVELA	NUVEM	NINHO
NOVELO	NUNCA	NUVEM

		
NARIZ	NOIVA	NÓ
NATA	NOIVO	DÓ
NAVE	NAVIO	PÓS

PINTE A IMAGEM QUE CORRESPONDE À FRASE.

O NAVIO ESTÁ NO MAR.

		
---	--	---



E.M. "BAIRRO MANUEL CLEMENTE".

IBIÚNA, 27 DE SETEMBRO DE 2021.

PROFESSORA : ANTONIA

1º ANO A

ALUNO(A): _____


MATEMÁTICA

OBA! CANTANDO VOU SOMANDO!


MEU DADINHO!
MEU DADINHO!
VOCÊ VIU?
VOCÊ VIU?
QUERO SÓ SOMAR!
QUERO SÓ SOMAR!
DIM... DEM... DOM...
DIM... DEM... DOM...


Cópias: e


{ M. a. M. a. a. a. a. a. a. a. a. a. }





① RESOLVA OS FATOS DE ACORDO COM A QUANTIDADE NOS DADOS.



..... 3 + 3 = 6



..... + =



..... + =


..... + =


..... + =


..... + =


..... + =


..... + =



E.M. "BAIRRO MANUEL CLEMENTE".

IBIÚNA, 28 DE SETEMBRO DE 2021.


PROFESSORA : ANTONIA

1º ANO A


ALUNO(A): _____

LÍNGUA PORTUGUESA

COPIE AS FRASES, DANDO NOMES ÀS FIGURAS:

A  É DE NÚBIA, NETA DE ANA.

A BONECA É DE NÚBIA, NETA DE ANA.

NETO GIRA O , TODO ANIMADO.

O  É NOVO.

O  É DA VOVÓ.

NA

NE

NI

NO

NU

JUNTE AS SÍLABAS E FORME PALAVRAS:


no → vo NOVO
no → ve _____
no → va _____

na → ve _____
na → bo _____
na → da _____

LIGUE AS FIGURAS AOS SEUS NOMES E ESCREVA:



PIANO
PENA
PANO



BANANA
TUCANO
MENINA



BONÉ
BONITA
BONECA



E.M. "BAIRRO MANUEL CLEMENTE".

IBILINA, 28 DE SETEMBRO DE 2021.

PROFESSORA : ANTONIA

1º ANO A

ALUNO(A): _____

MATEMÁTICA

VAMOS SUBTRAIR?

1- QUANTAS BALAS RESTARAM EM CADA POTE?

