



E.M. BAIRRO MANUEL CLEMENTE.

PROFESSORA: Marcia Aguiar

ANO: 2º A

ALUNO: _____

ATIVIDADES DE LÍNGUA PORTUGUESA E MATEMÁTICA

Ivan Cruz – Pulando Corda I



APOSTILA 11

ATIVIDADES DO PERÍODO DE 20/09/21 A 28/09/21

ENTREGA AOS PAIS 20/09/21

DEVOLUÇÃO DA APOSTILA NA UNIDADE

ESCOLAR: 29 E 30/09/21



E.M. BAIRRO MANUEL CLEMENTE.

PROFESSORA: Marcia Aguiar

ANO: 2º A

ALUNO: _____

BIOGRAFIA

Ivan Cruz, artista plástico, nasceu em 1947 no subúrbio do Rio de Janeiro, e brincava pelas ruas de seu bairro como toda criança...

Amante da Arte, enveredou-se pelo caminho do Direito, concluindo o curso em 1970, sem deixar de lado a pintura, o que demonstrou frequentando a Sociedade Brasileira de Belas Artes desde os anos 60 e também fazendo visitas constantes ao MAM e ao Museu Nacional de Belas Artes.



Em 1978, trocou o sucesso financeiro do Rio pela beleza natural de Cabo Frio: o sol, o mar e seus frutos contagiaram seu espírito.

No ano de 1986 resolveu abandonar a advocacia e dedicar-se integralmente à produção artística. Lembrava que quando jovem, a primeira pintura que conheceu foi a de Portinari em sua fase geométrica. A sua preocupação constante foi com a criação. Sempre acreditou ser o ecletismo a sua unidade, querendo criar e não copiar apenas. Em 1990, se preparando para uma exposição em Portugal, Ivan Cruz pintou seus primeiros quadros com temas de sua infância, mais precisamente, suas brincadeiras. O primeiro quadro da série Brincadeiras de Criança, nasceu na Praça Porto Rocha – Cabo Frio, com o Título: “Crianças na Praça”.


Retratando em suas telas: piões, crianças pulando corda, jogando bola de gude, pulando amarelinha, soltando pipa, pulando carniça e muito mais... De 1990 até os dias atuais, Ivan Cruz pintou mais de 500 quadros, retratando mais de 100 brincadeiras distintas. Suas obras ganharam visibilidade e repercussão, tornando-se um projeto, que passou a reunir em suas exposições não só os quadros, mas os brinquedos retratados, oficinas de brincadeiras e confecção de brinquedos, contadores de histórias, além de uma ambientação com músicas da época, cantigas de roda...

Texto adaptado para fins didáticos.

<http://brasilpelaeducacao.blogspot.com/p/biografia-de-ivan-cruz.html>

“A criança que não brinca não é feliz. Ao adulto que, quando criança não brincou, falta-lhe um pedaço no coração” .

Ivan Cruz





E.M. BAIRRO MANUEL CLEMENTE.

PROFESSORA: Marcia Aguiar

ANO: 2º A

ALUNO: _____

Roteiro de atividades

DIA	DESCRIÇÃO	PÁGINA
20/09	- CAPA. - BIOGRAFIA ARTISTA "IVAN CRUZ". - ROTEIRO DE ATIVIDADES.	1 2 3
20/09	CALENDÁRIO SETEMBRO 2021 PARA CONSULTA E COLORIR E RESOLVA AS CONTAS DE ADIÇÃO E SUBTRAÇÃO.	4,5 E 6
21/09	ENCONTRE NO CAÇA- PALAVRAS OS NOMES DAS FÍGURAS E OBSERVE A TABELA NUMÉRICA E RESPONDA AS PERGUNTAS.	7 E 8
22/09	ESCREVA OS NOMES DAS FÍGURAS QUE FAZEM PARTE DA PRIMAVERA E OBSERVE A TABELA NUMÉRICA E RESPONDA.	9 E 10
23/09	APRENDENDO SOBRE RECICLAGEM LEITURA EM FAMÍLIA E INTERPRETAÇÃO DO TEXTO E OBSERVE A CENA E RESPONDA.	11,12 E 13
24/09	NEM TUDO É LIXO! LEIA E RESPONDA AO EXERCÍCIO. OBSERVE E COMPLETE COM : ANTECESSOR, ENTRE E SUCESSOR.	14 E 15
27/09	PARTES DA PLANTA -OBSERVE E SIGA A LEGENDA INDICADA. OBSERVE OS VALORES E RESPONDA.	16 E 17
28/09	PINTE AS SÍLABAS QUE FORMAM OS NOMES DOS DESENHOS. RESPONDA OS EXERCÍCIOS DE MATEMÁTICA	18 E 19



E.M. BAIRRO MANUEL CLEMENTE.

PROFESSORA: Marcia Aguiar

ANO: 2º A

ALUNO: _____

DATA: 20/09 LÍNGUA PORTUGUESA – LEITURA CALENDÁRIO

CALENDÁRIO SETEMBRO - 2021



DOMINGO	SEGUNDA - FEIRA	TERÇA- FEIRA	QUARTA- FEIRA	QUINTA- FEIRA	SEXTA- FEIRA	SABADO
			1	2	3	4
5	6	7	8	9	10	11
12	13	14	15	16	17	18
19	20	21	22	23	24	25
26	27	28	29	30		



E.M. BAIRRO MANUEL CLEMENTE.

PROFESSORA: Marcia Aguiar

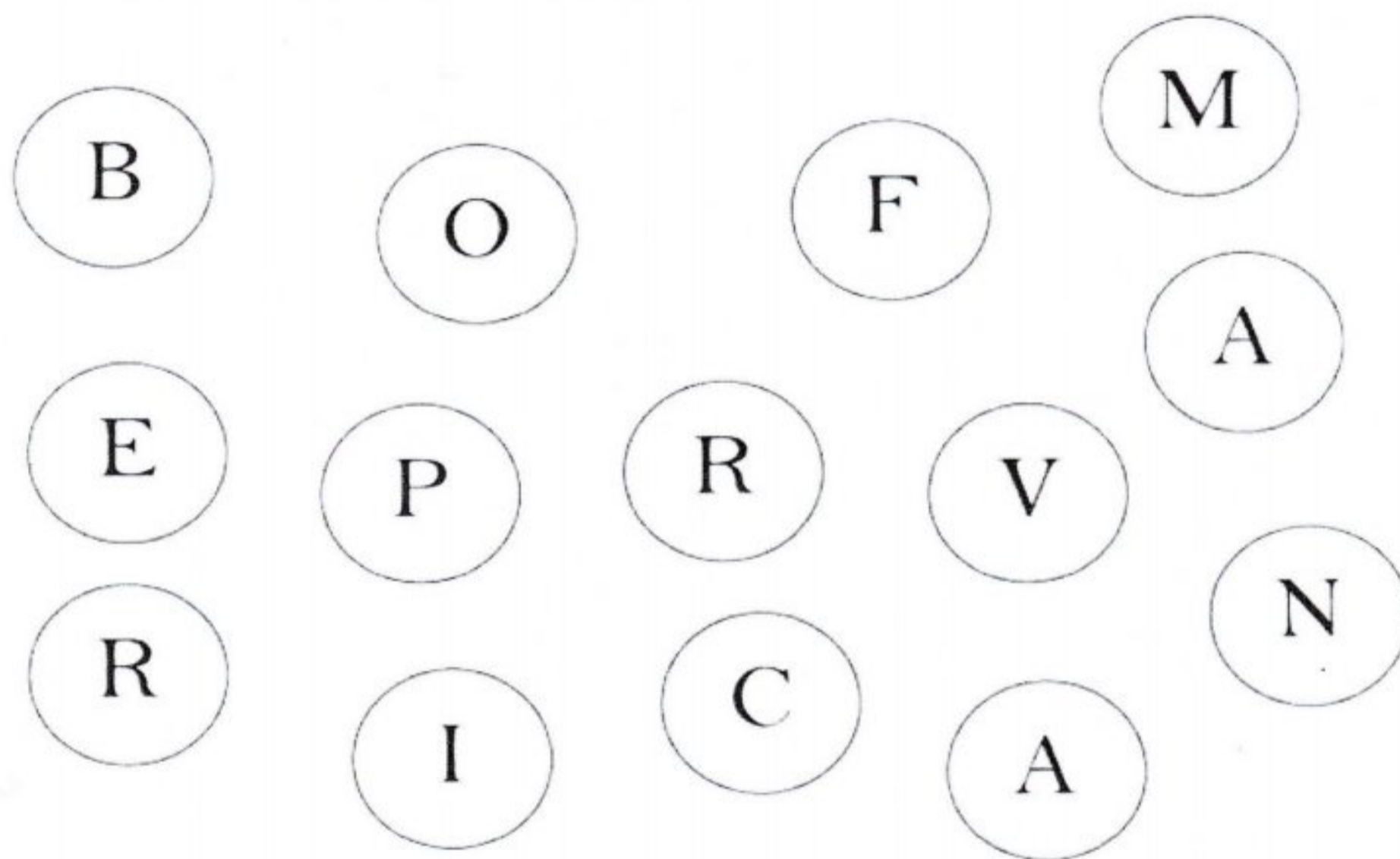
ANO: 2º A

ALUNO: _____

DATA: 20/09

LÍNGUA PORTUGUESA

PINTE OS CÍRCULOS QUE ESTÃO COM AS LETRAS DA PALAVRA "PRIMAVERA".



LEIA AS PALAVRAS ABAIXO E PINTE SOMENTE AQUELAS QUE FORAM FORMADAS COM AS LETRAS QUE TÊM NA PALAVRA:

PRIMAVERA

REMA	MAPA	EVA	RAIA
PARA	TAPETE	OVO	VEM
PIPOCA	BACIA	RALO	ÍMPAR
MARIA	VERA	RIMA	PASSARINHO
VASSOURA	ALICATE	VIOLETA	BORBOLETA
PRIMA	AVE	VIRA	VARA

www.amorpressina.com.br



E.M. BAIRRO MANUEL CLEMENTE.

PROFESSORA: Marcia Aguiar


ANO: 2º A

ALUNO: _____

DATA: 20/09

MATEMÁTICA

**RESOLVA AS EQUAÇÕES E DEPOIS PINTE O
DESENHO BEM BONITO:**





E.M. BAIRRO MANUEL CLEMENTE.

PROFESSORA: Marcia Aguiar

ANO: 2º A

ALUNO: _____

DATA: 21/09


LÍNGUA PORTUGUESA

CAÇA-PALAVRAS


- ENCONTRE E PINTE OS NOMES DAS FIGURAS NO DIAGRAMA ABAIXO.




SOL




MINHOCA




BOLA




FLOR



SAPO



TATU



ABELHA



PIPA



CARACOL

B	O	L	A	M	T	N
X	S	A	P	O	B	S
T	U	B	A	L	S	O
V	H	P	I	P	A	B
T	A	T	U	C	P	R
A	B	E	L	H	A	Z
I	E	N	F	T	G	U
U	D	V	F	L	O	R
C	A	R	A	C	O	L
M	I	N	H	O	C	A
S	O	L	N	G	F	A



E.M. BAIRRO MANUEL CLEMENTE.

PROFESSORA: Marcia Aguiar

ANO: 2º A

ALUNO: _____

DATA: 21/09

MATEMÁTICA

OBSERVE A TABELA NUMÉRICA

1	2	3	4	5	6	7	8	9	10
11	12	13	14	15	16	17	18	19	20
21	22	23	24	25	26	27	28	29	30
31	32	33	34	35	36	37	38	39	40
41	42	43	44	45	46	47	48	49	50

QUE NÚMERO ESTÁ ENTRE 18 E O 20?

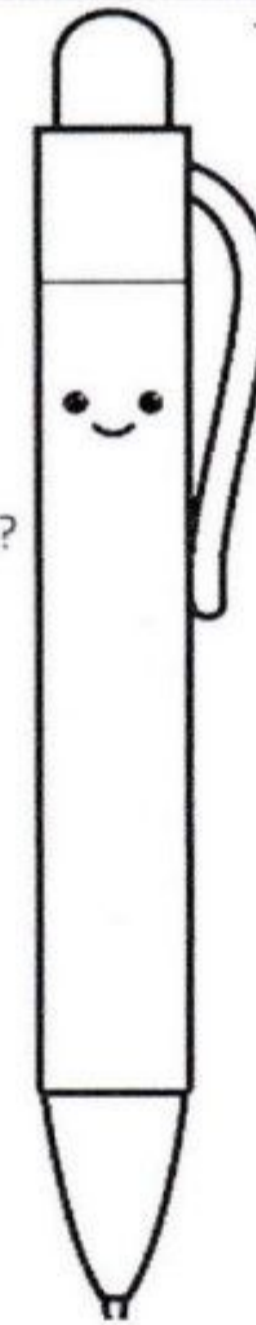
QUAIS NÚMEROS DA SEQUÊNCIA ACIMA TERMINA EM ZERO?

QUAIS SÃO OS NÚMEROS PARES QUE APARECEM NA ÚLTIMA LINHA?

QUAIS NÚMEROS ÍMPARES APARECEM NA SEGUNDA LINHA?

QUAL NÚMERO ESTÁ ENTRE 26 E 28?

AGORA PINTE OS NÚMEROS QUE VÃO SER DITADOS.





E.M. BAIRRO MANUEL CLEMENTE.

PROFESSORA: Marcia Aguiar

ANO: 2º A


ALUNO: _____

DATA: 22/09

LÍNGUA PORTUGUESA



NOME: _____

DATA: _____ / _____ / _____





P R I M A V E R A

ESCREVA OS NOMES DAS FIGURAS QUE FAZEM PARTE DA PRIMAVERA.



@damieducar



BANCO DE PALAVRAS

BORBOLETA - SOL - FLOR - FOLHA - ABELHA - JOANINHA - ARVORE



E.M. BAIRRO MANUEL CLEMENTE.

PROFESSORA: Marcia Aguiar

ANO: 2º A

ALUNO: _____

DATA: 22/09

MATEMÁTICA

OBSERVE A TABELA NUMÉRICA

1	2	3	4	5	6	7	8	9	10
11	12	13	14	15	16	17	18	19	20
21	22	23	24	25	26	27	28	29	30
31	32	33	34	35	36	37	38	39	40
41	42	43	44	45	46	47	48	49	50
51	52	53	54	55	56	57	58	59	60
61	62	63	64	65	66	67	68	69	70
71	72	73	74	75	76	77	78	79	80
81	82	83	84	85	86	87	88	89	90
91	92	93	94	95	96	97	98	99	100



QUAL É O MAIOR NÚMERO DESTA SEQUÊNCIA?

QUAL NÚMERO É A METADE DE 60?

QUAL NÚMERO ESTÁ ENTRE 86 E 88?

DE 10 EM 10, QUE NÚMEROS FALTAM NESTA SEQUÊNCIA?

10	<input type="text"/>	<input type="text"/>	40	<input type="text"/>	<input type="text"/>	<input type="text"/>	<input type="text"/>
----	----------------------	----------------------	----	----------------------	----------------------	----------------------	----------------------



E.M. BAIRRO MANUEL CLEMENTE.

PROFESSORA: Marcia Aguiar

ANO: 2º A

ALUNO: _____

DATA: 23/09

LÍNGUA PORTUGUESA / CIÊNCIAS

RECICLAGEM

RECICLAR É REAPROVEITAR MATERIAIS ORGÂNICOS E INORGÂNICOS PARA SEREM UTILIZADOS NOVAMENTE.

QUALQUER COISA DE ORIGEM ANIMAL E VEGETAL É CONSIDERADO ORGÂNICO. TUDO AQUILO QUE NÃO TEM ORIGEM ORGÂNICA É CONSIDERADO INORGÂNICO.


OS ALIMENTOS POR EXEMPLO SÃO CONSIDERADOS ORGÂNICOS. AS SOBRAS DE ALIMENTOS COMO CASCAS DE LEGUMES E FRUTAS TAMBÉM SÃO ORGÂNICOS E PODEM SER REAPROVEITADOS.

OS MATERIAIS INORGÂNICOS COMO GARRAFAS DE VIDRO E PLÁSTICAS, LATAS DE REFRIGERANTE, PAPÉIS ENTRE OUTROS TAMBÉM PODEM E DEVEM SER RECICLADOS. NESSES CASOS, É COMUM QUE SE REUTILIZE O PRÓPRIO MATERIAL. LATAS DE REFRIGERANTE POR EXEMPLO, SÃO PROCESSADOS E TRANSFORMADOS EM OUTRAS LATAS.

PARA COLABORAR NO PROCESSO DE RECICLAGEM O LIXO DEVE SER SEPARADO EM RECIPIENTES COM CORES DIFERENTES.

PAPEL
PLÁSTICO
VIDRO
METAL
MARROM

AZUL
VERMELHO
VERDE
AMARELO
ORGÂNICO





E.M. BAIRRO MANUEL CLEMENTE.

PROFESSORA: Marcia Aguiar

ANO: 2º A

ALUNO: _____

DATA: 23/09

LÍNGUA PORTUGUESA / CIÊNCIAS

INTERPRETAÇÃO TEXTUAL

1- QUAL O TÍTULO DO TEXTO?

2- O QUE É RECICLAR?

3- NA SUA OPINIÃO POR QUE É IMPORTANTE RECICLAR O LIXO?

4- GUSTAVO ESTÁ SEPARANDO O LIXO DE ACORDO COM AS CORES DAS LIXEIRAS. VAMOS AJUDA-LO COLOCANDO O NOME DO RESÍDUO EM CADA LIXEIRA





E.M. BAIRRO MANUEL CLEMENTE.

PROFESSORA: Marcia Aguiar

ANO: 2º A


ALUNO: _____

DATA: 23/09

MATEMÁTICA

MATEMÁTICA

- OBSERVE A CENA E RESOLVA.



1 - QUANTAS CRIANÇAS ESTÃO BRINCANDO NO BALANÇO?

2 - QUANTAS BRINCAM NO ESCORREGADOR?

3 - QUANTAS BRINCAM COM AREIA?

4 - QUANTAS CRIANÇAS AO TODO?

5 - QUANTOS BALDINHOS HÁ NA CENA?





E.M. BAIRRO MANUEL CLEMENTE.

PROFESSORA: Marcia Aguiar

ANO: 2º A

ALUNO: _____

DATA: 24/09



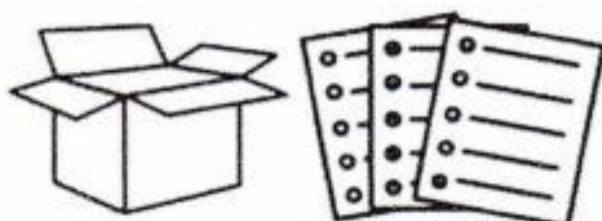
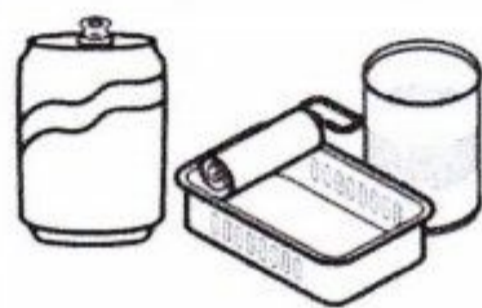
LÍNGUA PORTUGUESA / CIÊNCIAS

NEM TUDO É LIXO!

ALGUNS PRODUTOS SÃO REAPROVEITÁVEIS PARA FAZER NOVOS PRODUTOS. ESSE PROCESSO CHAMA-SE RECICLAGEM.



1- LIGUE CADA OBJETO À LATA DE LIXO PARA QUE ELES POSSAM SER RECICLADOS.





E.M. BAIRRO MANUEL CLEMENTE.

PROFESSORA: Marcia Aguiar

ANO: 2º A

ALUNO: _____

DATA: 24/09

MATEMÁTICA

ANTECESSOR: NÚMERO QUE VEM ANTES;

ENTRE: NÚMERO DO MEIO;

SUCCESSOR: NÚMERO QUE VEM DEPOIS.



Decorative border of bones and a dog eating from a bowl.

ANTECESSOR		ENTRE		SUCCESSOR
	14	24	26	19
	25	34	36	35
	36	21	23	25
	12	29	31	17
	29	35	37	14

ANTECESSOR		ENTRE		SUCCESSOR
	9	28	30	99
	27	44	46	25
	30	71	73	18
	19	49	51	47
	28	15	17	19

ANTERIOR		ENTRE		SUCCESSOR
	99	34	36	69
	85	94	96	15
	38	11	13	75
	17	39	41	67
	49	75	77	24



E.M. BAIRRO MANUEL CLEMENTE.

PROFESSORA: Marcia Aguiar

ANO: 2º A


ALUNO: _____

DATA: 27/09

CIÊNCIAS

PARTES DA PLANTA

Nesta paisagem temos uma árvore e algumas flores. Pinte as partes do desenho conforme a legenda indicada.





E.M. BAIRRO MANUEL CLEMENTE.

PROFESSORA: Marcia Aguiar

ANO: 2º A

ALUNO: _____

DATA: 27/09

MATEMÁTICA

– OBSERVE OS VALORES DOS BRINQUEDOS ABAIXO:



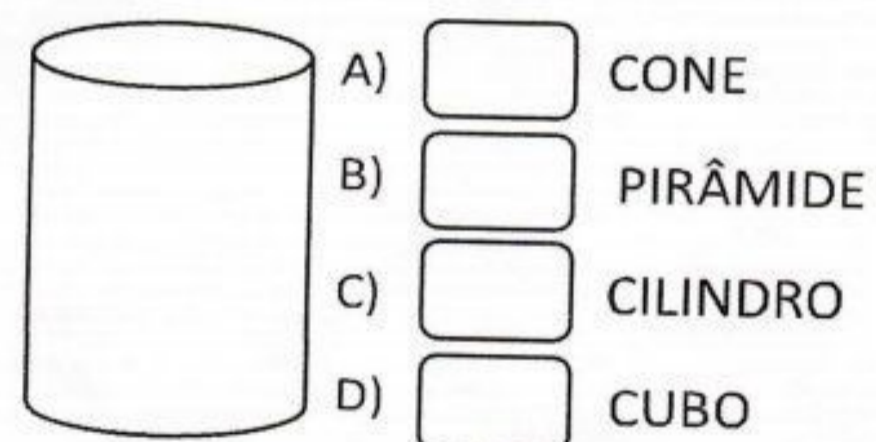
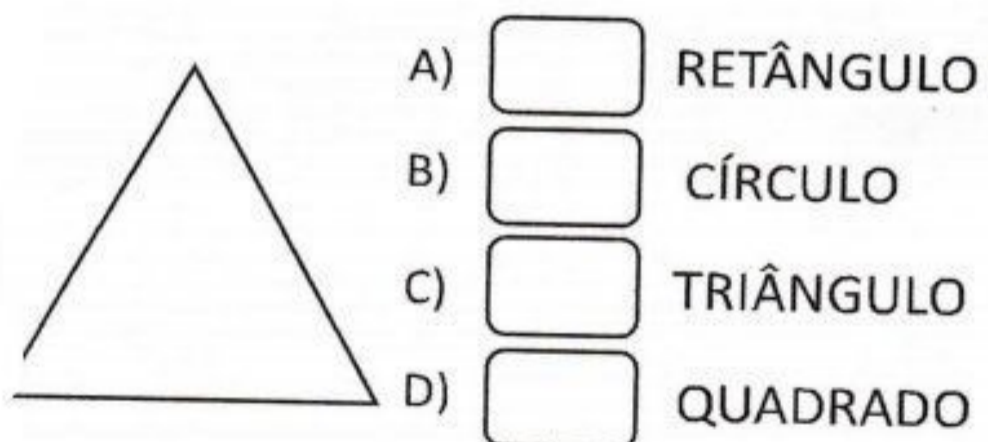
• QUAL BRINQUEDO É O MAIS CARO?

- A) PIPA
- B) DADO
- C) BOLA

• QUAL BRINQUEDO É O MAIS BARATO?

- A) PIPA
- B) DADO
- C) BOLA

– OBSERVE AS FIGURAS E FAÇA UM X NA OPÇÃO CORRETA:





E.M. BAIRRO MANUEL CLEMENTE.

PROFESSORA: Marcia Aguiar

ANO: 2º A

ALUNO: _____

DATA: 28/09

LÍNGUA PORTUGUESA


PINTE AS SÍLABAS QUE FORMAM OS NOMES DOS DESENHOS.



BA	A	TA	BA	CA	TE
----	---	----	----	----	----



A	BA	PA	CA	DA	XI
---	----	----	----	----	----




LA	BO	GE	LO	CO	TI
----	----	----	----	----	----



GA	CA	BO	BA	TA	NA
----	----	----	----	----	----



JA	PA	BO	BA	CA	NÉ
----	----	----	----	----	----



BU	RA	ZI	GA	LI	NA
----	----	----	----	----	----



BA	BO	TA	NE	TA	CA
----	----	----	----	----	----



BO	RA	LA	PA	CHA
----	----	----	----	-----



E.M. BAIRRO MANUEL CLEMENTE.

PROFESSORA: Marcia Aguiar

ANO: 2º A

ALUNO: _____

DATA: 28/09

MATEMÁTICA

b) COMPLETE COM OS NÚMEROS QUE VEM ANTES E DEPOIS:

	9	
	10	
	14	
	18	

	20	
	27	
	29	
	30	

	7	
	19	
	51	
	21	

c) ORGANIZE OS NÚMEROS DO MENOR PARA O MAIOR:

14 - 39 - 27 - 8 - 45 - 12

d) PINTE AS QUANTIDADES INDICADAS:

14																				
17																				
12																				
15																				
19																				
25																				
20																				
22																				



E.M. BAIRRO MANUEL CLEMENTE.

PROFESSORA: Marcia Aguiar

ANO: 2º A

ALUNO: _____

Referências

DIA		PÁGINA
	https://brasilpelaeducacao.blogspot.com/biografia-de-ivan-cruz.html	**
	https://amorensina.com.br	**
	https://novaescola.com.br	**
	https://atividadespedagogicasuzano.com.br	**
	https://danieducar.com.br	**
	https://wwwmundopedagogico.br	**
	https://wwwmundopedagogico.br	**
	https://wwwespacoprofessor.com.br	**
	https://wwwespacoprofessor.com.br	**
	https://wwwespacoprofessor.com.br	**
	https://wwwespacoprofessor.com.br	**