



11ª. APOSTILA DE ESTUDOS ENSINO REMOTO 3º BIMESTRE



ENSINO FUNDAMENTAL

ALUNO(A) : _____

PROFESSORA: CAMILA AZEVEDO

TURMA: 1º ANO C

DATA DE DEVOLUÇÃO: TURMA A - 29/09/2021

TURMA B - 30/09/2021



E. M. "PROF. CALIL RAHAL NETO"

NOME: _____

PROFESSORA: CAMILA TURMA: 1º ANO C DATA: 20/09/2021

ATIVIDADE 1

LÍNGUA PORTUGUESA

1-OUÇA A LEITURA DA PROFESSORA:

LEILÃO DE JARDIM

CECÍLIA MEIRELES



QUEM ME COMPRA
UM JARDIM COM FLORES?
BORBOLETAS DE MUITAS CORES.



LAVADEIRAS E PASSARINHOS,
OVOS VERDES E AZUIS NO NINHO?



QUEM ME COMPRA ESTE CARACOL?
QUEM ME COMPRA UM RAIO DE SOL?



UM LAGARTO ENTRE O MURO E A HERA.
UMA ESTÁTUA DA PRIMAVERA?



QUEM ME COMPRA ESTE FORMIGUEIRO?



E ESTE SAPO QUE É JARDINEIRO?
E A CIGARRA E A SUA CANÇÃO?
E O GRILO DENTRO DO CHÃO?



(ESTE É O MEU LEILÃO)



E. M. "PROF. CALIL RAHAL NETO"


NOME: _____

PROFESSORA: CAMILA TURMA: 1º ANO C DATA: 20/09/2021

ATIVIDADE 2

MATEMÁTICA

CONTE AS FIGURAS E REGISTRE:





E. M. "PROF. CALIL RAHAL NETO"

NOME: _____

PROFESSORA: CAMILA TURMA: 1º ANO C DATA: 21/09/2021

ATIVIDADE 1


CIÊNCIAS

Primavera

1-COMPLETE COM AS LETRAS FALTOSAS AS PALAVRAS QUE INDICAM O QUE AS PLANTAS PRECISAM PARA VIVER:




Á	G	U	A
	G		A
Á		U	



L	U	Z
	U	
L		

C	A	L	O	R
	A		O	
C		L		





E. M. "PROF. CALIL RAHAL NETO"

NOME: _____

PROFESSORA: CAMILA TURMA: 1º ANO C DATA: 21/09/2021

ATIVIDADE 2

LÍNGUA PORTUGUESA

MARQUE O NOME DO POEMA QUE ESTAMOS TRABALHANDO:



LEILÃO NO CAPIM.



LEILÃO DE JARDIM



LEILÃO NO JASMIM.

MARQUE O NOME DA AUTORA DO POEMA QUE ESTAMOS TRABALHANDO:



CECÍLIA MORAES.



CECÍLIA MEIRELES



CECÍLIA MORALES





E. M. "PROF. CALIL RAHAL NETO"

NOME: _____


PROFESSORA: CAMILA TURMA: 1º ANO C DATA: 22/09/2021

ATIVIDADE 1

GEOGRAFIA

AS ESTAÇÕES DO ANO

O tempo varia de acordo com as estações do ano.
As estações do ano são quatro: primavera, verão, outono e inverno.



Primavera é a estação que antecede o verão.
A primavera é conhecida como "estação das flores".



Verão é a estação do calor.
No verão os dias são quentes e chove bastante.
No verão devemos usar roupas leves.



Outono é a estação anterior ao inverno.
No outono os dias vão se tornando mais frios.



Inverno é a estação do frio.
No inverno devemos andar mais agasalhados.



E. M. "PROF. CALIL RAHAL NETO"

NOME: _____

PROFESSORA: CAMILA


TURMA: 1º ANO C


DATA: 22/09/2021

GEOGRAFIA

ATIVIDADE 2

EM QUAL ESTAÇÃO DO ANO ESTAMOS?

 PINTA A CENA QUE REPRESENTA A ESTAÇÃO EM QUE NÓS ESTAMOS.



PRIMAVERA



VERÃO



OUTONO



INVERNO



E. M. "PROF. CALIL RAHAL NETO"

NOME: _____

PROFESSORA: CAMILA


TURMA: 1º ANO C

DATA: 23/09/2021

ATIVIDADE 1

LÍNGUA PORTUGUESA

A PRIMAVERA CHEGOU!
DEIXE A CENA ABAIXO BEM COLORIDA.



OBSERVE A PALAVRA ABAIXO E RESPONDA COM ATENÇÃO.

PRIMAVERA

LETRA
INICIAL

LETRA
FINAL

TOTAL DE
VOGAIS

TOTAL DE
CONSOANTES

TOTAL DE
LETRAS



E. M. "PROF. CALIL RAHAL NETO"

NOME: _____

PROFESSORA: CAMILA TURMA: 1º ANO C DATA: 23/09/2021




ATIVIDADE 2

MATEMÁTICA



PRIMAVERA

VAMOS CONTAR E DEPOIS ESCREVER A QUANTIDADE NOS QUADRADOS CONFORME A FIGURA:





E. M. "PROF. CALIL RAHAL NETO"

NOME: _____

PROFESSORA: CAMILA

TURMA: 1º ANO C

DATA: 24/09/2021


ATIVIDADE 1

LÍNGUA PORTUGUESA

ENCONTRE OS NOMES DAS FIGURAS NO CAÇA PALAVRAS E ESCREVA:

B	O	R	B	O	L	E	T	A
X	C	A	R	A	C	O	L	X
S	O	L	X	X	O	V	O	S
L	A	G	A	R	T	O	X	X













E. M. "PROF. CALIL RAHAL NETO"

NOME: _____

PROFESSORA: CAMILA

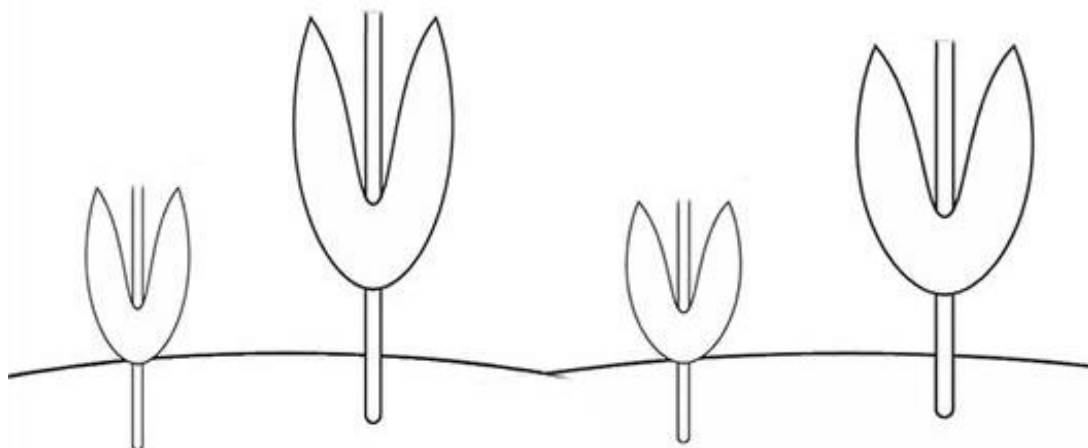
TURMA: 1º ANO C

DATA: 24/09/2021

ATIVIDADE 2

ARTE

- 1- DECORE A PALAVRA PRIMAVERA;
- 2- COLE FORMINHAS DE DOCES PARA COMPLETAR AS FLORES.





E. M. "PROF. CALIL RAHAL NETO"

NOME: _____

PROFESSORA: CAMILA

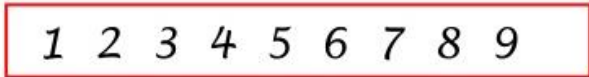
TURMA: 1º ANO C

DATA: 27/09/2021

ATIVIDADE 1

MATEMÁTICA

OBSERVE OS NUMERAIS:



QUEM VEM ANTES?

7

2

9

QUEM VEM DEPOIS?

4

2

0

LIGUE OS CONJUNTOS AOS NÚMEROS CORRESPONDENTES:



1

2

3

4

5



E. M. "PROF. CALIL RAHAL NETO"

NOME: _____

PROFESSORA: CAMILA

TURMA: 1º ANO C

DATA: 27/09/2021

ATIVIDADE 2

MATEMÁTICA

OBSERVE E CONTE OS BICHINHOS QUE ESTAVAM NO LEILÃO NO JARDIM:



FAÇA UM X NO QUADRINHO QUE INDICA A MAIOR QUANTIDADE:





E. M. "PROF. CALIL RAHAL NETO"

NOME: _____

PROFESSORA: CAMILA

TURMA: 1º ANO C


DATA: 28/09/2021

ATIVIDADE 1:

CIÊNCIAS

1-NUMERE CADA PARTE DA PLANTA DE ACORDO COM A LEGENDA. EM SEGUIDA DÊ UM COLORIDO BEM BONITO.

- 1- RAIZ
- 2- CAULE
- 3- FOLHA
- 4- FLOR
- 5- FRUTO





E. M. "PROF. CALIL RAHAL NETO"

NOME: _____

PROFESSORA: CAMILA

TURMA: 1º ANO C

DATA: 28/09/2021

ATIVIDADE 2

MATEMÁTICA

PRIMAVERA

NA PRIMAVERA POSSO VER
ABELHAS, PASSARINHOS E BELAS BORBOLETAS
FLORES DE TODAS AS CORES
AZUL, AMARELAS E VIOLETAS

Dani Coimbra



QUANTAS FLORES ESTÃO NO JARDIM DA MAGALI?

QUANTAS ABELHAS APARECEM?



QUANTOS PASSARINHOS ESTÃO VOANDO?



CONTE COMIGO QUANTOS SÃO JUNTOS:



REFERÊNCIAS DE PESQUISA

<https://danieducar.com.br/atividades-educativas-primavera/>

<https://www.aartedeensinareaprender.com/2015/09/atividade-pronta-primavera.html>

<https://www.aartedeensinareaprender.com/2018/03/atividade-pronta-formas-geometricas.html>

<https://br.pinterest.com/pin/225250418850990029/>

<https://educacaoetransformacaooficial.blogspot.com/2018/08/atividades-do-poema-leilao-no-jardim.html>

<https://danieducar.com.br/atividades-educativas-primavera/>