



PREFEITURA DA ESTÂNCIA TURÍSTICA DE  
**IBIÚNA**  
Por uma Ibiúna próspera. Investindo no presente, gerando o futuro.  
SECRETARIA DE EDUCAÇÃO



E.M. “Luiz Gonzaga Soares”


11º APOSTILA

Atividades Remotas referentes aos dias:  
20, 21, 22, 23, 24, 27 e 28 de setembro  
(07 Dias)

3º BIMESTRE

4º ANO A

Professora: Eliana A. Ribeiro do Nascimento



Nome Completo:

---

---

## Matemática

1-Observe a tabela abaixo que mostra o número de alunos matriculados na Escola Municipal “Maria Yolanda” e responda as questões:

Turmas	Número de estudantes
Primeiro Ano	27 estudantes
Segundo Ano	28 estudantes
Terceiro Ano	25 estudantes
Quarto Ano	23 estudantes
Quinto Ano	17 estudantes
<b>Total de Alunos</b>	

Com base nessas informações, responda:

A) Qual das turmas tem mais estudantes?

\_\_\_\_\_

B) Coloque na tabela o resultado total de estudantes dessa escola.

C) Qual operação você realizou para descobrir esse resultado?

( ) subtração      ( ) multiplicação      ( ) adição

D) Qual a diferença entre o número de estudantes do quarto e do quinto ano?

\_\_\_\_\_

E) Qual operação você realizou para descobrir esse resultado?

( ) subtração      ( ) multiplicação      ( ) adição

F) Qual é o nome dessa escola?

## Matemática

Você é capaz de continuar completando a tabela abaixo?

1-Arthur coleciona carrinhos em miniatura e os guarda em uma estante. Sabendo que em uma prateleira podem ser colocados 8 carrinhos, quantos podem ser colocados em 2 prateleiras? E em 3 prateleiras?

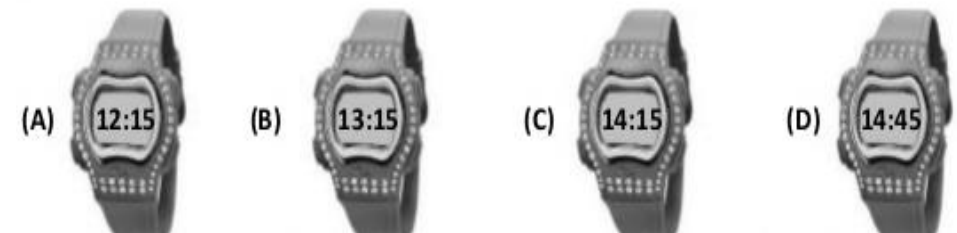
Quantidade de Prateleiras	1	2	3	4	5	6
Nº de carrinhos	<b>8 Carrinhos</b>					

2- Leia e marque a resposta certa:

O relógio abaixo indica o horário em que Gustavo vai para a aula de natação.



Marque a opção que indica o mesmo horário em que Gustavo vai para a aula de natação



## Língua Portuguesa

Leia o texto abaixo com atenção:

### Testamento de uma árvore

Uma árvore do bosque chamando um pássaro, fez o seu testamento:

- Deixo as minhas flores aos tristes, para colorir suas vidas!
- Deixo as folhas aos vento, para que dancem com as crianças numa alegre ciranda.
- Os meus frutos deixo para os que cuidam da terra e dela retiram o seu sustento.
- A você ,que tantas vezes alegrava-me com suas cantigas, deixo doce e tenras sementes.
- E que meus ramos, quando bem sequinhos, sejam o fogo que aquece a morada do pobre.

Autor desconhecido

Agora, responda:

1- O pássaro foi chamado pela árvore para:


- ( ) fazer companhia para a árvore    ( ) fazer um testamento para a árvore  
( ) conversar com as árvores

2- O que a árvore deixará para as crianças?

- ( ) suas raízes    ( ) suas sementes    ( ) suas folhas

3- Copie o último parágrafo desse texto.

Leve os amigos e a namorada do Chico Bento até ele, para ajudá-lo a plantar uma árvore. Cuidado com os caminhos fechados.



## Língua Portuguesa e Arte

Viva a **PRIMAVERA!** A estação mais **florida** do ano!

1-Procure o nome das flores abaixo no caça palavras:

R S B O L B P R O Z A C R Z T	CRAVO
O P K V K Y M S X Y E Y V Y N	DALIA
U U O A J N O N G O D X G X D	GIRASSOL
Q H U R F Q F C F P I L A S Z	HORTENCIA
V U L C Y F T F Y A U O P Q P	LIRIO
L N L H Q K V E K I Q S I N B	MAGNOLIA
L A M P M R E O E C R S L D S	MARGARIDA
Z R A V A I E S S N O A U U G	NARCISO
A C G Y R H N N U E A R T Q K	ORQUIDEA
L I N E G J T B X T T I P M W	ROSA
H S O X A N A S O R E G T D T	TULIPA
Q O L R R W E Q T O L G A H K	VIOLETA
N R I R I N M L Y H O L B L G	
Y Q A A D D D R C O I R I L V	
J G O I A G F E C A V C O E Y	


2- Agora, escolha o nome de **duas** flores e forme frase com cada uma delas:

---

---

---

2-Desenhe no jardim abaixo **borboletas e abelhas**. E não esqueça de colorir com capricho!



## História

Sempre que viaja, Chico Bento tem saudade do campo, onde mora.



SOUZA, Mauricio de. A saudade mata a gente. **Chico Bento**, n. 23  
São Paulo: Globo, 199

Leia a história com atenção e responda as questões:

1- Para onde o primo Zeca pretende levar o Chico Bento?

---

---

2- Escreva na frente de cada nome quem mora na cidade e quem mora no campo?

Chico Bento = \_\_\_\_\_

Primo Zeca = \_\_\_\_\_

3- Quais são as vantagens de se morar no campo (afastado do centro da cidade)?

---

---

4- Quais são as vantagens de se morar na cidade (no centro)?

---

---

5- E você gosta mais da cidade (centro) ou do campo (afastado do centro da cidade)?

---

---

## Geografia

Observe com atenção o mapa abaixo:



Olhando o mapa ao lado, você seria capaz de preencher a tabela abaixo?

### ESTADOS, SIGLAS E CAPITALS.

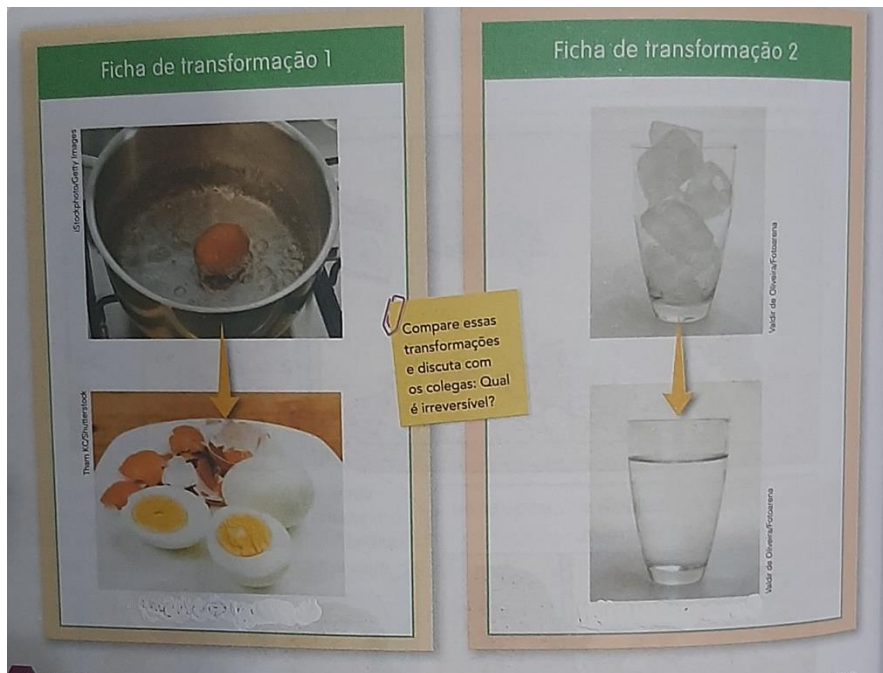
Complete a tabela com as informações que faltam:

ESTADO	SIGLA	CAPITAL
	AC	
		MACEIÓ
AMAPA		
	AM	
		SALVADOR
	CE	
		VITÓRIA
GOIÁS		
		SÃO LUÍS
MATO GROSSO		
	MS	
		BELO HORIZONTE
PARÁ		
	PB	
		CURITIBA
PERNAMBUCO		
		TERESINA
	RJ	
	RS	
RORAIMA		
	SC	
SÃO PAULO		
	SE	
		PALMAS



## Ciências

Observe a imagem abaixo:



Agora, escreva que transformação aconteceu em cada imagem:

Imagem 1 = \_\_\_\_\_

\_\_\_\_\_

\_\_\_\_\_

Imagem 2 = \_\_\_\_\_

\_\_\_\_\_

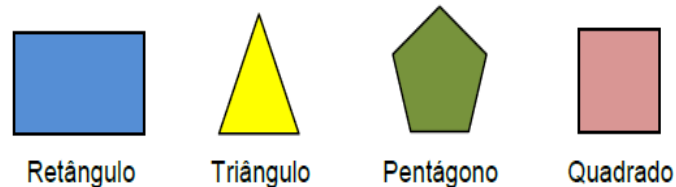
\_\_\_\_\_

## Matemática

01- Luís tem 43 reais e Júlio tem 65 reais. Quantos reais Júlio tem a mais do que Luís?

- (A) 108                      (B) 65                      (C) 23                      (D) 22

02- Observe as figuras abaixo:



Quais dessas figuras possuem quatro lados?

- (A) Retângulo e Pentágono.                      (B) Triângulo e Pentágono.  
(C) Retângulo e Quadrado.                      (D) Triângulo e Quadrado.

03- Seu Valdemar está organizando o auditório da escola para a reunião de pais. Ele precisa colocar 8 cadeiras em cada uma das 9 fileiras que cabem nesse auditório. Quantas cadeiras ele vai usar ao todo?

- (A) 8                      (B) 9                      (C) 17                      (D) 72

04- Veja a sequência numérica

99, 102, 105, 108, 111, ...

Se essa sequência numérica continuar obedecendo à mesma regra, os próximos dois números serão

- (A) 112 e 115.                      (B) 112 e 113.                      (C) 114 e 117.                      (D) 114 e 115.

**Roteiro de atividades do livro: Currículo em Ação: EMAI**

DIA	DESCRIÇÃO	PÁGINAS
Setembro	Atividade 5.6 Questões com alternativas	36 e 37

## Referências:

<https://atividadespedagogicasuzano.com.br/wp-content/uploads/2018/04/Document-page-002-14-724x1024.jpg>

<https://i.pinimg.com/originals/4b/ba/99/4bba990e20c4253387a7e9f5e759df6d.jpg>

<https://static.mundoeducacao.uol.com.br/mundoeducacao/conteudo/mapa-brasil-politico.jpeg>

<https://i.pinimg.com/564x/c5/42/7c/c5427c7b67c0155730decc2ebcbd2a82.jpg>

Aprender Sempre, Ensino Fundamental-2021, 4ºAno

Currículo em Ação, EMAI, 4º Ano- Volume 1 - Currículo paulista

Ápis –História, 4º Ano

Ápis –Ciências, 4º Ano