



Prefeitura da Estância Turística de

IBIÚNA

TRANSFORMAÇÃO RESPONSÁVEL. CUIDANDO DE PESSOAS.

Av. São Sebastião, 192. 4º Piso. Centro. Fones: (15) 3248 1292. 3248 1574. Email: apoiopedagogicosmelbiuna@hotmail.com




EM TEREZA FALCI

EM BAIRRO RECANTO PRIMAVERA

3º BIMESTRE

BLOCO 11 20/09 A 28/09

DATA DE ENTREGA 30/09



NOME: _____

PROFESSORA MIÚCHA

2º ANO

2021

ORIENTAÇÕES IMPORTANTES:

- ✓ **RESERVAR UM LUGAR LIMPO E TRANQUILO PARA REALIZAÇÃO DAS ATIVIDADES**

- ✓ **NÃO DEIXE AS ATIVIDADES ACUMULAREM, RESERVE UM TEMPO DIÁRIO**

- ✓ **AJUDAR NÃO É REALIZAR A ATIVIDADE PELA CRIANÇA! SE NECESSÁRIO SOLICITE AJUDA E LEMBRE-SE ESTOU A DISPOSIÇÃO PARA TIRAR DÚVIDAS, ME PROCURE NO WHATSAPP**

- ✓ **REALIZE SUAS ATIVIDADES COM CAPRICHOS!**

- ✓ **FIQUE DE OLHO NO GRUPO DE WHATSAPP, PARTICIPE!!!**

SUA PARTICIPAÇÃO É MUITO IMPORTANTE!!!

LEMBRE-SE ESTAMOS JUNTOS POR UM BEM COMUM, O MELHOR PARA AS CRIANÇAS

INCENTIVE A LEITURA, LEIAM COM AS CRIANÇAS!

APROVEITEM CADA MOMENTO EM CASA, PARA QUE ELES PERCEBAM A IMPORTÂNCIA DE ESTUDAR E TENHAM PRAZER EM REALIZAR SUAS ATIVIDADES

AOS PAIS:

OBRIGADA POR SUA DEDICAÇÃO E EMPENHO, SEM ISSO MEU TRABALHO SERIA IMPOSSÍVEL!!!!

PROFª MIÚCHA

ROTEIRO DE REALIZAÇÃO DAS ATIVIDADES NO LIVRO DIDÁTICO:

AVISO IMPORTANTE:

- ✓ **CUIDE DO SEU LIVRO**

- ✓ **MANTENHA-O LIMPO E SEM RASGAR**

- ✓ **A PROFEESORA ENVIOU SEU LIVRO EM UMA SACOLINHA E É NELA QUE SEU LIVRO DEVE RETORNAR PARA CORREÇÃO**

- ✓ **NÃO PERCA SEU LIVRO**

OBS: NESTE BLOCO NÃO TEREMOS ATIVIDADES DOS LIVROS

NOME: _____ DATA _____

NOME: _____

DATA: ____ / ____ / ____

DIANI EDUCAR

DIA DA ÁRVORE

HORA DA LEITURA

A ÁRVORE DA MARINA

MARINA É UMA MENINA DOCE E DELICADA. VIVE VISITANDO A CASA DA AVÓ TITA EM UM SÍTIO, E LÁ ADORA VER OS ANIMAIS E CUIDAR DAS PLANTAS.

UM DIA GANHOU UMA MUDA DE PÉ DE DE JATOBÁ NA ESCOLA EM COMEMORAÇÃO DO DIA DA ÁRVORE.

ENTÃO DECIDIU PLANTAR LÁ NO QUINTAL DA AVÓ.

A MENINA REGOU, AFOFOU A TERRA E CUIDOU COM MUITO CARINHO.

DEPOIS DE ALGUMAS SEMANAS PERCEBEU QUE OS PRIMEIROS GALHOS JÁ ESTAVAM APARECENDO.

OS ANOS PASSARAM, O PÉ DE JATOBÁ CRESCERU E HOJE FAZ UMA BELA SOMBRA ONDE MARINA TEM UM BALANÇO ONDE ADORA BRINCAR.



INTERAGINDO COM O TEXTO

- PINTA OS PARÁGRAFOS DO TEXTO E REGISTRE QUANTOS SÃO _____
- QUAL É O TÍTULO DESTA HISTÓRIA? _____
- QUEM SÃO OS PERSONAGENS? _____
- QUE ESPÉCIE DE ÁRVORE A MENINA PLANTOU? _____

NOME: _____ DATA _____

NOME: _____

DATA: ____ / ____ / ____

DANI EDUCAR

- DE ACORDO COM TEXTO QUAIS SÃO AS COISAS QUE MARINA MAIS GOSTA DE FAZER ?

- ONDE ACONTECE A HISTÓRIA?

- POR QUAL RAZÃO VOCÊ ACHA QUE A MENINA DECIDIU PLANTAR A ÁRVORE?

- QUAL É A DATA COMEMORATIVA DESTACADA NO TEXTO?

- ESCREVA QUAIS ELEMENTOS QUE AS ÁRVORES NECESSITAM PARA CRESCER.


Copyright Dani Educar 2014

NOME: _____ DATA _____


NOME: _____ DATA: / /

@clickeducativos


CONTE E REGISTRE SEMPRE DE 4 EM 4.

| | | |
|----|----|----|
| 4 | | 12 |
| | 20 | |
| 28 | | 36 |

| | | |
|----|----|----|
| 40 | | 48 |
| | 56 | |
| 64 | | 72 |



| | | |
|----|-----|----|
| | 80 | |
| 88 | | 96 |
| | 104 | |



| | | |
|-----|-----|-----|
| 112 | | 120 |
| | 128 | |
| 136 | | 144 |

| | | |
|-----|-----|-----|
| 148 | | 156 |
| | 164 | |
| 172 | | 180 |


NOME: _____ DATA: / /

@clickeducativos


CONTE E REGISTRE SEMPRE DE 5 EM 5.

| | | |
|----|----|----|
| | 10 | |
| 20 | | 30 |
| | 40 | |

| | | |
|----|----|----|
| 50 | | 60 |
| | 70 | |
| 80 | | 90 |



| | | |
|-----|-----|-----|
| | 100 | |
| 110 | | 120 |
| | 130 | |



| | | |
|-----|-----|-----|
| 140 | | 150 |
| | 160 | |
| 170 | | 180 |


| | | |
|-----|-----|-----|
| 185 | | 195 |
| | 205 | |
| 215 | | 225 |

NOME: _____

DATA _____

PENSE E ESCREVA...

Se você fosse uma planta, que recado você daria para o homem?



NOME: _____ DATA _____

Antecessor e Sucessor

Complete os quadros abaixo:


| Antecessor | - 1 |
|------------|-----|
| | 28 |
| | 43 |
| | 50 |
| | 60 |
| | 30 |
| | 42 |
| | 36 |

| Sucessor | + 1 |
|----------|-----|
| 59 | |
| 73 | |
| 60 | |
| 12 | |
| 31 | |
| 70 | |
| 41 | |



Recorte as fichas abaixo e cole-as nos lugares adequados:

ANTECESSOR



SUCCESSOR

| |
|--|
| |
| |
| |
| |
| |

| |
|----|
| 55 |
| 27 |
| 73 |
| 49 |
| 99 |

| |
|--|
| |
| |
| |
| |
| |

72

26

48

28

53

100

54

74

98

50



NOME: _____ DATA _____

1 ESCREVA AS PALAVRAS ABAIXO NOS QUADROS CORRESPONDENTES.

NEBLINA - BLUSÃO - CLASSE - BLUSA - PLANO - PLANETA -
FLOCO - CLORO - BICICLETA - FLANELA - CHICLETE - GLOBO
- FLORESTA - FLOR - PLACA - FLAUTA - FLECHA

| | |
|--------------------------------------|--------------------------------------|
| BL | GL |
| CL | PL |

2 ESCOLHA DUAS PALAVRAS E CRIE FRASES COM ELAS.

.....

.....



NOME: _____

DATA _____

CONTINHAS DE ADIÇÃO

| | | | | | | | |
|-----|---|-----|---|-----|---|-----|---|
| D | U | D | U | D | U | D | U |
| 3 | 7 | 2 | 2 | 4 | 5 | 7 | 9 |
| + 1 | 3 | + 3 | 4 | + 5 | 2 | + 1 | 0 |
| | | | | | | | |

| | |
|-----|---|
| D | U |
| 6 | 5 |
| + 2 | 1 |
| | |



| | |
|-----|---|
| D | U |
| 8 | 6 |
| + 1 | 3 |
| | |

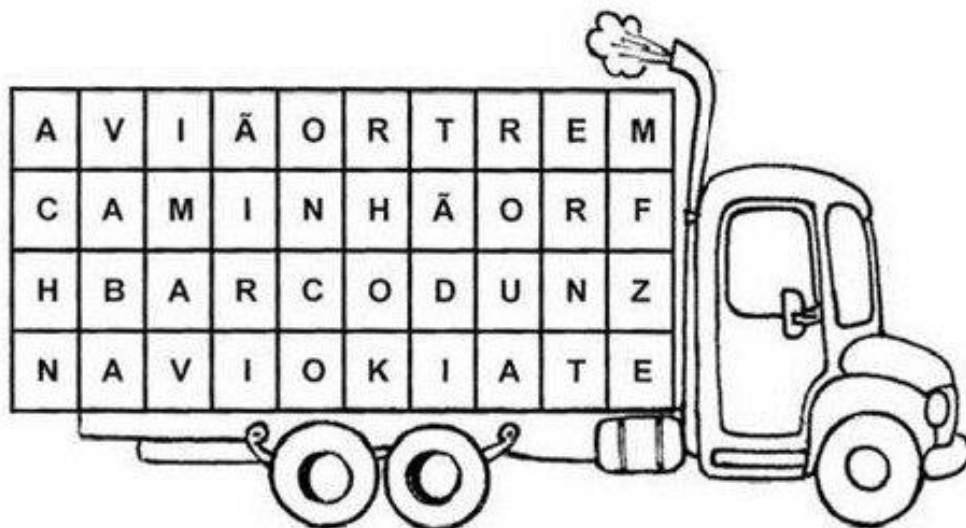
| | | | | | | | |
|-----|---|-----|---|-----|---|-----|---|
| D | U | D | U | D | U | D | U |
| 7 | 0 | 6 | 4 | 2 | 9 | 5 | 6 |
| + 2 | 0 | + 1 | 4 | + 2 | 0 | + 3 | 1 |
| | | | | | | | |

| | | | | | | | |
|-----|---|-----|---|-----|---|-----|---|
| D | U | D | U | D | U | D | U |
| 4 | 2 | 7 | 2 | 3 | 8 | 6 | 0 |
| + 4 | 0 | + 1 | 0 | + 1 | 1 | + 1 | 4 |
| | | | | | | | |

danielducas

NOME: _____ DATA _____

4- DESCUBRA OS MEIOS DE TRANSPORTE QUE ESTÃO
ESCONDIDOS NO CAÇA-PALAVRAS:



5- AGORA RESPONDA:

- QUAL MEIO DE TRANSPORTE AÉREO VOCÊ ENCONTROU?

- QUAIS MEIOS DE TRANSPORTES AQUÁTICOS VOCÊ
ENCONTROU?

- QUAIS MEIOS DE TRANSPORTES TERRESTRES VOCÊ
ENCONTROU?

NOME: _____ DATA _____

Continhas de subtração

$$\begin{array}{r|l} \text{D} & \text{U} \\ \hline 8 & 9 \\ - 1 & 8 \\ \hline & \end{array}$$

$$\begin{array}{r|l} \text{D} & \text{U} \\ \hline 4 & 9 \\ - 3 & 8 \\ \hline & \end{array}$$

$$\begin{array}{r|l} \text{D} & \text{U} \\ \hline 1 & 5 \\ - 1 & 3 \\ \hline & \end{array}$$

$$\begin{array}{r|l} \text{D} & \text{U} \\ \hline 4 & 5 \\ - 1 & 4 \\ \hline & \end{array}$$

$$\begin{array}{r|l} \text{D} & \text{U} \\ \hline 2 & 4 \\ - 2 & 1 \\ \hline & \end{array}$$

$$\begin{array}{r|l} \text{D} & \text{U} \\ \hline 8 & 2 \\ - 2 & 0 \\ \hline & \end{array}$$

$$\begin{array}{r|l} \text{D} & \text{U} \\ \hline 7 & 6 \\ - 4 & 5 \\ \hline & \end{array}$$

$$\begin{array}{r|l} \text{D} & \text{U} \\ \hline 9 & 7 \\ - 5 & 6 \\ \hline & \end{array}$$

Dani educar



EM "BAIRRO RECANTO PRIMAVERA"

BLOCO 11

NOME: _____ **DATA**

CAÇA PALAVRAS

AL, EL, IL, OL, UL.




| | | | | | | | | | | | | |
|---|---|---|---|---|---|---|---|---|---|---|---|---|
| A | L | F | Y | U | N | E | A | N | E | L | T | H |
| J | S | O | L | D | A | D | O | G | T | V | A | B |
| M | N | G | A | L | P | A | S | T | E | L | L | L |
| E | F | D | K | R | E | D | S | Z | N | X | F | A |
| L | B | A | L | D | E | T | F | E | I | P | A | T |
| T | F | S | A | M | E | G | L | A | F | I | C | N |
| R | S | U | O | E | R | D | R | D | L | N | E | E |
| F | E | A | B | O | L | S | A | N | A | C | M | V |
| G | F | B | A | R | R | I | L | S | Ç | E | L | A |
| O | L | H | T | Y | R | U | J | G | M | L | I | L |

NOME: _____ DATA _____

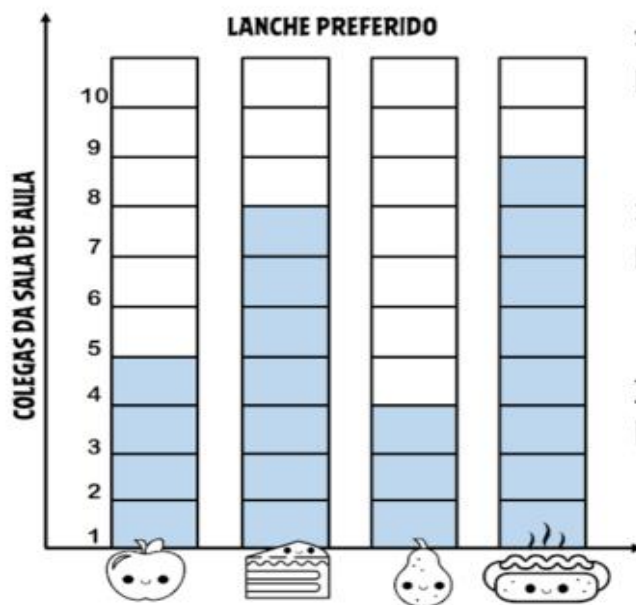
ESCOLA: _____

NOME: _____

DATA: ____/____/____



AS MENINAS FIZERAM UMA PESQUISA NA SALA DE AULA PARA SABER QUAL LANCHE OS COLEGUINHAS GOSTAVAM MAIS. VEJA COMO FICOU.



1 – QUAL LANCHE FOI MAIS VOTADO?

2 – QUAL LANCHE FOI MENOS VOTADO?

3 – QUANTAS CRIANÇAS PREFERIRAM A MAÇÃ?

4 – QUANTAS CRIANÇAS PARTICIPARAM DA PESQUISA?

5 – QUAL A DIFERENÇA DE VOTOS ENTRE O CACHORRO QUENTE E A PÊRA?

NOME: _____

DATA



1- QUEM SÃO OS PERSONAGENS DESTA TIRINHA?

2- O QUE CHICO BENTO ESTÁ FAZENDO?

3- QUAIS AS FRUTAS CITADAS POR ZÉ LELÉ?

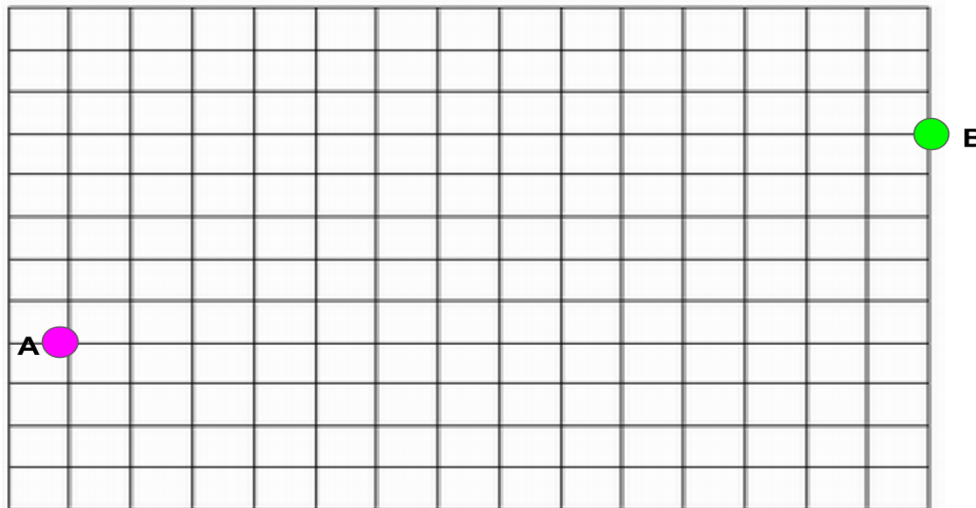
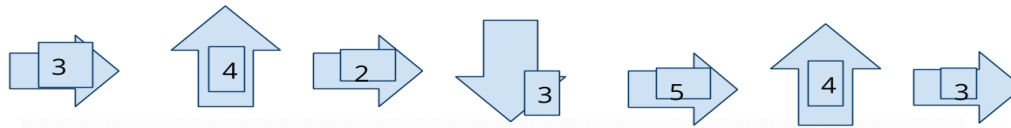
4- DO QUE É A ÁRVORE PLANTADA POR CHICO BENTO?

5- O TEMA DESSA TIRINHA É:

- A) PLANTAS
- B) DIA DA ÁRVORE
- C) DESMATAMENTO

NOME: _____ DATA _____

Partindo do ponto A, siga as instruções indicadas pelas setas abaixo e trace o caminho correto, para chegar ao ponto B:



nova
escola

NOME: _____

Posição e localização

Observe as posições dos objetos

| | A | B | C |
|---|---|---|---|
| 1 | | | |
| 2 | | | |
| 3 | | | |
| 4 | | | |

Circule os nomes dos objetos que estão nas posições:

- A2 BOLA - FLOR
- A3 BOLA - XÍCARA
- A4 BOLO - PEIXE
- B1 BOLA - MAÇÃ
- B2 XÍCARA - ABELHA
- B3 BOLO - GATO
- B4 FLOR - BOLO
- C1 GATO - FORMIGA

@AtividadespedagógicasSuzano direitos reservados

NOME: _____ DATA _____

ACRÓSTICO DA PRIMAVERA

P _____
R _____
I _____
M _____
A _____
V _____
E _____
R _____
A _____

cantinhoalternativo.com.br

PARA CADA LETRA TENDE ESCREVER NOMES DE FLORES

BIBLIOGRAFIA:

- www.pinterest.com.br
- BLOGS PEDAGÓGICOS