



Prefeitura da Estância Turística de

**IBIÚNA**



**E.M “JOSÉ GABRIEL MACHADO”  
E.M “JOAQUIM MACHADO DE OLIVEIRA”**

**2º ANO A**

**PROFESSORA:  
IVANILDE ALVES.**



**APOSTILA DE ATIVIDADES REMOTAS N°11**

**PERÍODO DE: 20/09 A 28/09**

**NOME:**

**Referente aos dias:20,21,22,23,24,27 e 28/09**

NOME: \_\_\_\_\_

COMPLETE COM AS VOGAIS QUE ESTÃO FALTANDO:

**A E I O U**



P \_ P \_ C \_



P \_ NT \_ NH \_



B \_ RB \_ L \_ T \_



\_ L \_ F \_ NT \_



\_ P \_ T \_



\_ B \_ LH \_



M \_ C \_ C \_



\_ R \_ B \_



M \_ L \_ NC \_ A



\_ V \_

NOME:

### ATIVIDADE INTERATIVA

- RECORTAR E COLAR O VALOR EQUIVALENTE AOS PREÇOS DOS LANCHES:

R\$ 2,00



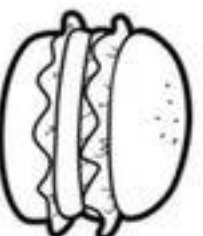
@atiene.profb

R\$ 4,00



@atiene.profb

R\$ 6,00



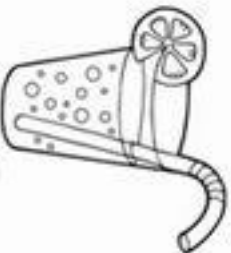
@atiene.profb

R\$ 5,00



@atiene.profb

R\$ 3,50



@atiene.profb

R\$ 12,00



@atiene.profb

R\$ 4,50



@atiene.profb

R\$ 5,50



@atiene.profb

R\$ 2,50



@atiene.profb



@atiene.profb

NOME:

Nome: \_\_\_\_\_


Data: \_\_\_\_/\_\_\_\_/\_\_\_\_

LEIA O TEXTO E CIRCULE A PALAVRA QUE COMEÇA COM A LETRA L

### A LUA

A LUA PINTA A RUA DE PRATA  
E NA MATA A LUA PARECE  
UM BISCOITO DE NATA.

QUEM SERÁ QUE ESQUECEU  
A LUA ACESA NO CÉU?



ROSEANA MURRAY

1. O NOME DO DESENHO É:

- ( ) RUA
- ( ) CÉU
- ( ) LUA



2. A PALAVRA **LUA** COMEÇA COM:











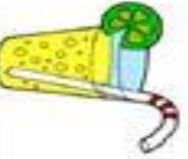

OBU    OUVU    OLU    ODU

3. A LUA PARECE UM:

- BIS                       BISCOITO
- OITO                       PRATA

NOME: \_\_\_\_\_

OBSERVE O PREÇO DOS PRODUTOS E DESCUBRA O QUE CADA UM PODE COMPRAR COM A QUANTIA QUE TEM.

<p><b>Marcos</b></p>  	 <p>5 reais</p>	 <p>3 reais</p>	 <p>2 reais</p>	 <p>1 real</p>
<p><b>Jeremias</b></p>  	 <p>5 reais</p>	 <p>3 reais</p>	 <p>2 reais</p>	 <p>1 real</p>

AGORA OBSERVE A TABELA PARA RRESOLVER

## ATIVIDADES

1) OBSERVE A TABELA E DESCUBRA, QUANTOS ALUNOS E ALUNAS, TEM A TIA VITÓRIA, DO 2º ANO. DEPOIS, FAÇA O QUE SE PEDE:

MENINOS								
MENINAS								

- A) QUANTAS MENINAS ESTUDAM NA TURMA DA TIA VITÓRIA? \_\_\_\_\_
- B) QUANTOS MENINOS ESTUDAM NA TURMA DA TIA VITÓRIA? \_\_\_\_\_
- C) QUANTAS MENINAS USAM ÓCULOS? \_\_\_\_\_
- D) QUANTOS MENINOS USAM ÓCULOS? \_\_\_\_\_
- E) QUANTOS MENINOS ESTÃO DE BONÉ? \_\_\_\_\_
- F) QUANTAS MENINAS ESTÃO DE SAIA? \_\_\_\_\_

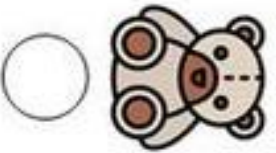
NOME: \_\_\_\_\_

## DIAGNOSE DE LÍNGUA PORTUGUESA



1) ESCREVA O SEU NOME COMPLETO:

2) ESCREVA A LETRA INICIAL DO NOME DE CADA FIGURA:



3) PINTE O NOME DA FIGURA:



BOLA

BOCA



PANELA

PATINETTE

4) MARQUE UM (X) NA SÍLABA QUE COMPLETA O NOME DA FIGURA:



\_\_\_CICLETA

 P M B

NOME: \_\_\_\_\_




1) COMPLETE A TABELA COM OS NÚMEROS FALTOSOS

0	2	3	5	6	9
10	11		14		17
	22	23		26	28
30	31		34		37
		43		45	
50		61		64	
		72			76
80			83		
	91			95	



• COLORIR O MAIOR NÚMERO DO QUADRO, DE AMARELO

2) COLORIR, NOS QUADRINHOS O NÚMERO PEDIDO POR CADA UMA DAS CRIANÇAS ABAIXO



37

17 27 37



78

68 86 88




49

94 49 44



72

27 62 72



18

8 18 81



95

55 59 95

3) RESOLVA AS ADIÇÕES:

$24$	$35$	$17$	$43$	$52$	$26$	$35$
$+12$	$+24$	$+42$	$+15$	$+27$	$+31$	$+23$

NOME:

COPIE A LETRA INICIAL DE CADA FIGURA NO QUADRINHO CORRETO  
UTILIZE O ALFABETO COLORIDO



SECRETARIA MUNICIPAL  
DE EDUCAÇÃO, CIÊNCIA  
E TECNOLOGIA



E.M. Branca Pecanha Ferreira



WhatsApp



























































NOME:



PREFEITURA MUNICIPAL DE  
**VOLTA REDONDA**  
COM O FORO HONRÁRISSE E COOPERAÇÃO


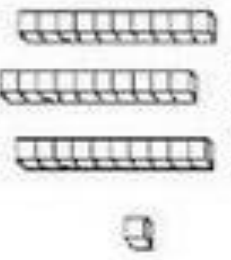



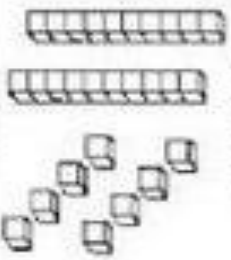

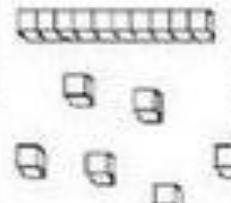

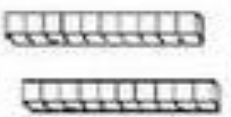

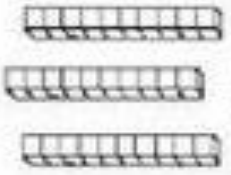

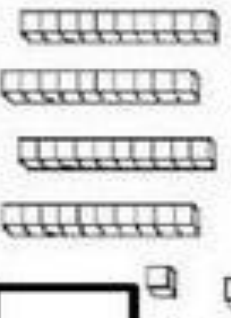

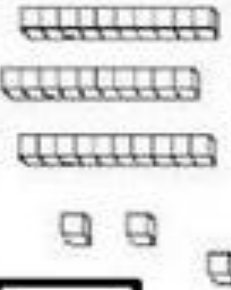
Estado do Rio de Janeiro  
Prefeitura de Volta Redonda  
Secretaria Municipal de Educação  
E.M. MARIA JOSÉ CAMPOS COSTA



**EDUCA+**  
VOLTA REDONDA  
SABER É VIVER

# MATEMÁTICA

**TRABALHANDO COM MATERIAL DOURADO – QUEM JUNTA MAIS?**  
OBSERVE E CONTE A QUANTIDADE DE PEÇAS DE MATERIAL DOURADO QUE ALGUMAS CRIANÇAS CONSEGUIRAM JUNTAR NO JOGO QUEM JUNTA MAIS:

 <p><b>MARIA</b></p>  <p><input type="text"/></p>	 <p><b>GABRIEL</b></p>  <p><input type="text"/></p>
 <p><b>SAMUEL</b></p>  <p><input type="text"/></p>	 <p><b>HELEN</b></p>  <p><input type="text"/></p>
 <p><b>BRUNA</b></p>  <p><input type="text"/></p>	 <p><b>ANNY</b></p>  <p><input type="text"/></p>
 <p><b>EDUARDO</b></p>  <p><input type="text"/></p>	 <p><b>JULIA</b></p>  <p><input type="text"/></p>

43

33

20

30

28

21

31

28

NOME: \_\_\_\_\_

ESSAS 5 LETRINHAS FORMAM O GRUPO DAS VOGAIS:

# A E I O U

ELAS TEM O SOM IGUAL AO NOME.

NÃO EXISTE UMA PALAVRA EM PORTUGUÊS SEM ALGUMA DELAS.

COMPLETE COM A VOGAL INICIAL:



COMPLETE OS NOMES COM AS VOGAIS QUE FALTAM:



L \_ R \_ N \_

C \_ CH \_ RR \_

S \_ L \_

B \_ L \_



\_ B \_ C \_ X \_

\_ ST \_ J \_

P \_ N \_ L \_

G \_ L \_ NH \_



B \_ L \_

\_ RV \_ R \_

L \_ VR \_

Z \_ R \_

NOME:





1- VAMOS COMPLETAR O QUADRO COM OS NÚMEROS DE 100 A 199

100					108	109
			115			
120			124		128	129
	131			136		
140			144		147	149
		152			158	
160	161			165		
			174	175		
180						189
		193			198	



2-COMPLETE AS SEQUÊNCIAS EM ORDEM CRESCENTE  
ESCREVENDO DE UM EM UM



NOME:

2. A FIGURA MOSTRA VÁRIAS ATITUDES DE PESSOAS PRATICANDO A CIDADANIA.



- A) CIDADANIA SIGNIFICA:
- AJUDAR AS PESSOAS.
  - AGREDIR AS PESSOAS
  - GRITAR COM AS PESSOAS.

A) A FIGURA QUE MOSTRA A PESSOA AJUDANDO UM CEGO A ATRAVESSAR A RUA É:



B) ESTA PESSOA ESTÁ AJUDANDO UM IDOSO ATRAVESSAR :

- A RUA
- O RIO
- A FLORESTA

C) POR QUE O IDOSO PRECISA DE AJUDA?

- TEM DIFICULDADE PARA ANDAR.
- GOSTA DE AJUDA.
- NÃO GOSTA DE AJUDA.

Site utilizado: <http://derinquesdosmateriaisutilizado.blogspot.com>

Atividades adaptadas do 6º ano do E.F. Elaboradas professora Maria Madalena Donnetas Borges.

NOME: \_\_\_\_\_



NOME: \_\_\_\_\_

0	1	2	3	4	5	6	7	8	9	10
---	---	---	---	---	---	---	---	---	---	----

1) OBSERVE OS DESENHOS E RESOLVA AS ADIÇÕES:



\_\_\_\_\_

+

\_\_\_\_\_

=



\_\_\_\_\_

+

\_\_\_\_\_

=




\_\_\_\_\_

+

\_\_\_\_\_

=



\_\_\_\_\_

+

\_\_\_\_\_

=



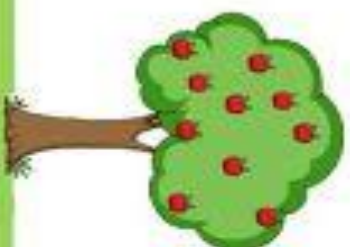
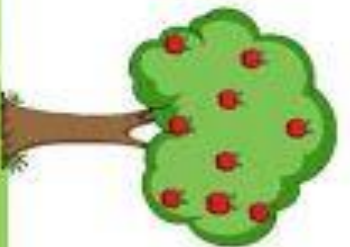
\_\_\_\_\_

+

\_\_\_\_\_

=

3) CIRCULE A ÁRVORE QUE TEM 10 MAÇAS:



NOME:

NOME: \_\_\_\_\_  
TURMA: \_\_\_\_\_  
DATA: \_\_\_\_/\_\_\_\_/\_\_\_\_  
ATIVIDADES PARA EDUCADORES - Elisângela Terra - [www.atividadesparaeducadores.blogspot.com](http://www.atividadesparaeducadores.blogspot.com)



1) CIRCULAR TODAS AS FIGURAS, EM QUE A LETRA INICIAL DO NOME DELAS COMEÇA COM A LETRA B:



2) ENCONTRE O NOME DE CADA DESENHO EM CADA UM DOS CAÇA-PALAVRAS ABAIXO:



**BEBÊ**

A S D F B E B Ê G H



**BODE**

Z X C V B N B O D E



**BIFE**

E R T Y B I F E A W



**BALA**

G H B A L A Q W E R



**BOLO**

B O L O Z X C Q D G



**BULE**

A C F V B U L E B X

NOME:



ESCOLA MUNICIPAL \_\_\_\_\_

PROFESSOR (A): \_\_\_\_\_

DATA: \_\_\_\_ / \_\_\_\_ / \_\_\_\_

Nome da criança

NOME: \_\_\_\_\_




6

NESSE PERÍODO DE ISOLAMENTO SOCIAL SÓ DÁ PARA FESTEJAR ANIVERSÁRIO COM AS PESSOAS DA SUA CASA...

VEJA COMO ESSAS CRIANÇAS INDICAM A IDADE COM OS DEDOS!

LIGUE CADA UMA AO SEU BOLO DE ANIVERSÁRIO.



QUANTOS ANOS TEM A MAIS VELHA?

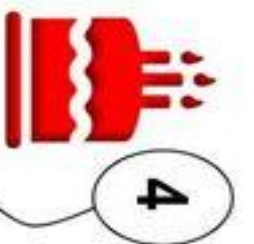
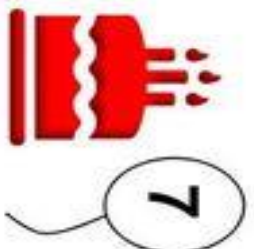
QUANTOS ANOS TEM A MAIS NOVA?

E VOCÊ, QUANTOS ANOS TEM?



Fonte: <https://br.pinterest.com/>

DESENHE AS VELAS PARA COMPLETAR A QUANTIDADE INDICADA NA BEXIGA.



TÁ NA HORA DE ARRUMAR A MESA DO BOLO! COMPLETE COM OS NÚMEROS E DESENHE O RESULTADO.

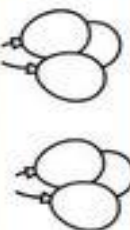
NA MESA DO BOLO HAVIA

\_\_\_\_\_ BEXIGAS.



FORAM COLOCADAS MAIS

\_\_\_\_\_ BEXIGAS.



A MESA DO BOLO FICOU COM \_\_\_\_\_ BEXIGAS.