

**ATIVIDADES DE REPOSIÇÃO 11**  
**PERÍODO DE DISTANCIAMENTO SOCIAL (QUARENTENA) COVID 19**



**ESCOLA MUNICIPAL: EM JOÃO JOSÉ DA SILVA**

**2ª FASE A**

**PROFESSORA: MAIARA ROSA**

**DIAS: 20,21,22,23,24,27 E 28 DE SETEMBRO**

**CONFORME ORIENTAÇÕES PEDAGÓGICAS Nº 01 - 29 DE JANEIRO DE 2021**

## CRONOGRAMA

DATA: 20/09  
MAIOR, MENOR E IGUAL  
TAMANHOS

DATA: 21/09  
ESQUERDA E DIREITA  
GALINHA PINTADINHA

DATA: 22/09  
OLHOS NO SAPINHO  
PROPORÇÃO DE SUCO

DATA: 23/09  
FAMÍLIAS  
LEVE E PESADO

DATA: 24/09  
CORES  
CONJUNTOS

DATA: 27/09  
CONJUNTOS  
QUANTIDADES


DATA: 28/09  
BRINCANDO COM SAQUINHOS  
FORMAS GEOMÉTRICAS

NOME: \_\_\_\_\_ DATA: 20/09/21

### ATIVIDADE 1

OS INDÍGENAS BRASILEIROS COSTUMAM PRODUZIR UTENSÍLIOS DO DIA A DIA COM MATERIAIS QUE ENCONTRAM NA NATUREZA, COMO FOLHAS, SEMENTES, GALHOS ETC. VEJA A SEGUIR ALGUNS EXEMPLOS.

EM CADA LINHA, CIRCULE O UTENSÍLIO MAIOR, FAÇA UM X NO UTENSÍLIO MENOR, E PINTE OS QUE TÊM O MESMO TAMANHO.

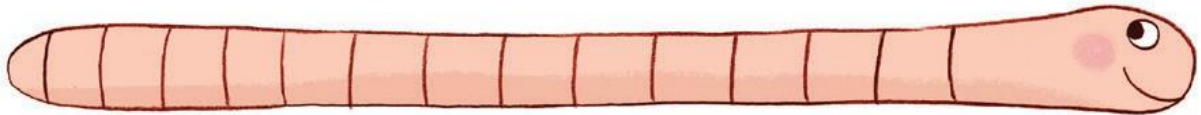


NOME: \_\_\_\_\_ DATA: 20/09/21


## ATIVIDADE 2

VOCÊ SABIA QUE ALGUMAS ESPÉCIES DE MINHOCAS NÃO MORREM SE FOREM PARTIDAS AO MEIO PORQUE A PARTE COMA CABEÇA SE REGENERA?

FAÇA UM X NA MINHOCAS MAIS LONGA E UMA BOLINHA NA MINHOCAS MAIS CURTA.



--	--	--	--	--	--	--	--	--	--	--	--



--	--	--	--	--	--	--	--	--	--

AGORA, DESENHE UMA MINHOCAS DE COMPRIMENTO INTERMEDIÁRIO EM RELAÇÃO ÀS OUTRAS MINHOCAS.

--	--	--	--	--	--	--	--	--	--

QUANTOS QUADRADINHOS TEM A MINHOCAS QUE VOCÊ DESENHOU?

NOME: \_\_\_\_\_ DATA: 21/09/21

### ATIVIDADE 3

#### ESQUERDA E DIREITA

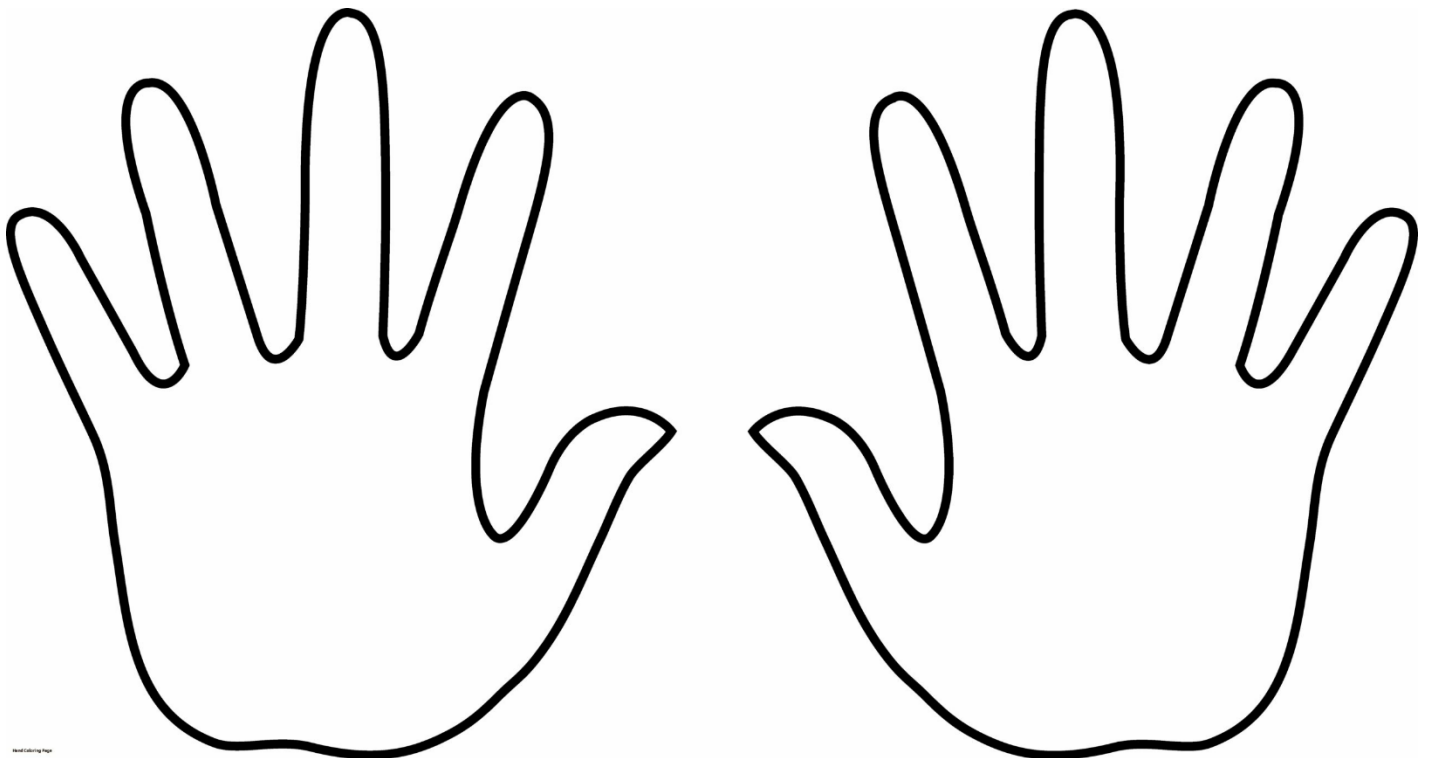
OBSERVE AS MÃOZINHAS ABAIXO E COLOQUE AS SUAS MÃOZINHAS SOBRE ELAS.

QUAL DELAS VOCÊ ACHA QUE É A MÃO

ESQUERDA E QUAL É A MÃO DIREITA?

QUAL OBJETO CADA MÃO VAI PEGAR?

CIRCULE O OBJETO QUE SERÁ PEGO PELA MÃO ESQUERDA E FAÇA UM X NO OBJETO QUE SERÁ PEGO PELA MÃO DIREITA.



DESENHE UM ANEL EM UM DOS DEDOS DA MÃO ESQUERDA.

NOME: \_\_\_\_\_ DATA: 21/09/21

#### ATIVIDADE 4

PARA A DIREITA, PARA A ESQUERDA, PARA CIMA, PARA BAIXO E PARA MESMA DIREÇÃO.

OS FILHOTES DA DONA GALINHA ESTÃO PASSEANDO NO QUINTAL.

ELES ESTÃO TODOS SEGUINDO NA MESMA DIREÇÃO?

PINTE DE AZUL OS PINTINHOS QUE ESTÃO INDO PARA A DIREITA E DE AMARELOS QUE ESTÃO INDO PARA A ESQUERDA.





NOME: \_\_\_\_\_ DATA: 22/09/21

### ATIVIDADE 5

PARA ONDE CADA SAPINHO ESTÁ OLHANDO?

COMPLETE OS DESENHOS DE MODO QUE CADA SAPINHO OLHE PARA A MESMA DIREÇÃO.



NOME: \_\_\_\_\_ DATA: 22/09/21

### ATIVIDADE 6

MAIS E MENOS

VOCÊ GOSTA DE SUCO DE FRUTAS?


QUAL É O SABOR DE SEU SUCO PREFERIDO?

FAÇA UM X NO QUADRINHO DA CRIANÇA QUE TEM MAIS SUCO NO COPO, E UM X NO DA CRIANÇA QUE TEM MENOS SUCO NO COPO.

COMO VOCÊ IDENTIFICOU A CRIANÇA QUE TEM MAIS E A QUE TEM MENOS SUCO?



AGORA, PINTE A QUANTIDADE CORRESPONDENTE DE SUCO NO COPO DE CADA CRIANÇA.





NOME: \_\_\_\_\_ DATA: 23/09/21

### ATIVIDADE 7


O IMPORTANTE EM UMA FAMÍLIA É O AMOR, A UNIÃO E O RESPEITO ENTRE AS PESSOAS.

CADA FAMÍLIA É FORMADA DE UM JEITO.

COMO É A SUA FAMÍLIA?

CONTE QUANTOS MEMBROS CADA FAMÍLIA TEM E ANOTE O NÚMERO EM CADA CORAÇÃO.

DEPOIS, PINTE DE AZULO CORAÇÃO DA FAMÍLIA QUE TEM MAIS MEMBROS, E DE VERMELHO O DA FAMÍLIA QUE TEM MENOS MEMBROS.



NOME: \_\_\_\_\_ DATA: 23/09/21

## ATIVIDADE 8

### LEVE E PESADO

SIGA AS ORIENTAÇÕES DO PROFESSOR PARA FAZER UMA BALANÇA COM CABIDE E BALDINHOS.

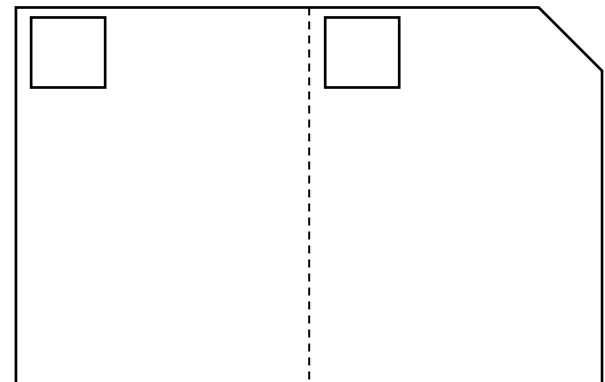
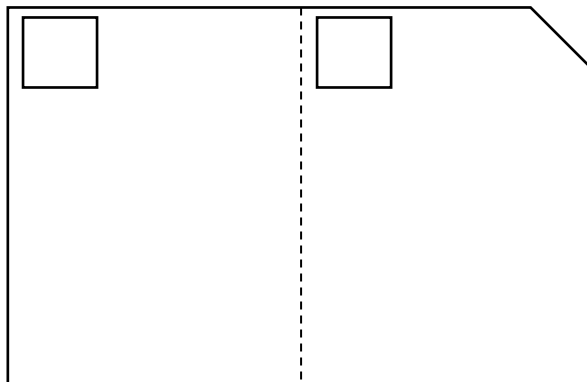
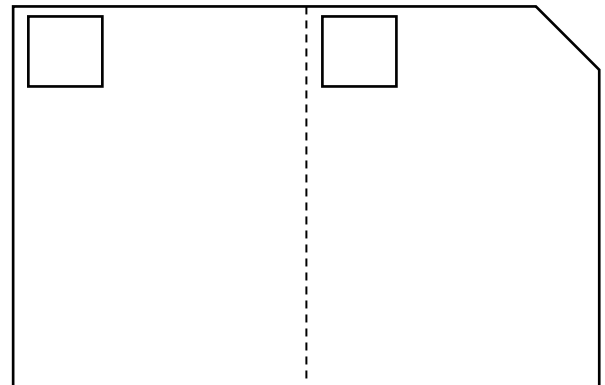
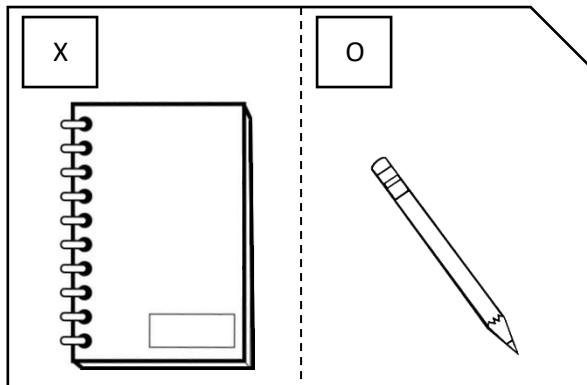
– VAMOS COMPARAR O PESO DAS COISAS?

COMECE COMPARANDO O PESO DOS OBJETOS REPRESENTADOS NO PRIMEIRO QUADRO E MARQUE OS QUADRINHOS DE ACORDO COM A LEGENDA.

DEPOIS, DESENHE NOS DEMAIS QUADROS OUTROS OBJETOS CUJO PESO VOCÊ VAI COMPARAR E MARQUE OS QUADRINHOS TAMBÉM DE ACORDO COM A LEGENDA.

X PARA O MAIS PESADO


O PARA O MAIS LEVE







NOME: \_\_\_\_\_ DATA: 24/09/21

### ATIVIDADE 9

PINTE DE AZUL A ROUPA DA MENINA QUE ESTÁ SEGURANDO O OBJETO MAIS LEVE E DE AMARELO A ROUPA DA MENINA QUE ESTÁ SEGURANDO O OBJETO MAIS PESADO.



AGORA, OBSERVE OS BRINQUEDOS EM CADA BALANÇA. MARQUE UM X NO BRINQUEDO MAIS PESADO E UMA ● NO MAIS LEVE.






NOME: \_\_\_\_\_ DATA: 24/09/21

## ATIVIDADE 10

### CONJUNTOS

PARA AS SITUAÇÕES ABAIXO, LIGUE CADA ELEMENTO DE UM CONJUNTO A UM ÚNICO ELEMENTO DO OUTRO CONJUNTO.

DEPOIS, FAÇA UM X NO CONJUNTO MAIOR, UMA ● NO MENOR.




NOME: \_\_\_\_\_ DATA: 27/09/21



### ATIVIDADE 11

CONTE OS ELEMENTOS DE CADA CONJUNTO E, DEPOIS, DESENHE O QUE SE PEDE PARA CADA CONJUNTO VAZIO.


UMA CENOURA PARA CADA COELHO:



UMA FLOR PARA CADA BORBOLETA



UMA NUVEM PARA CADA SOL

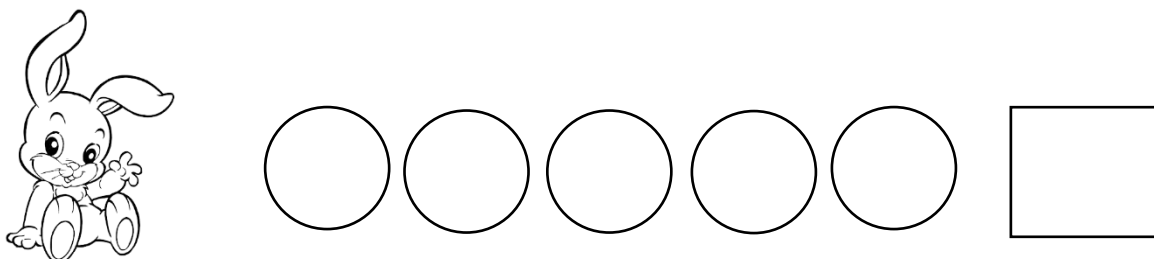
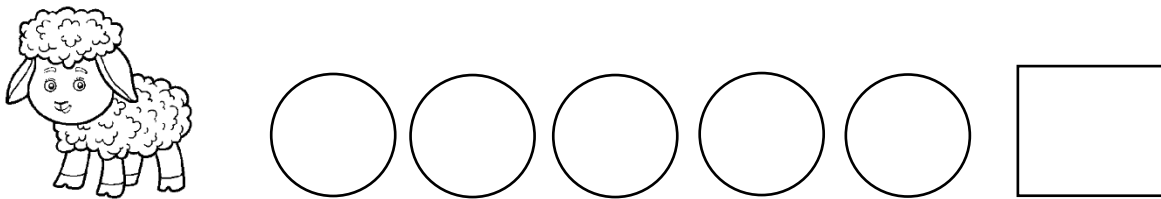
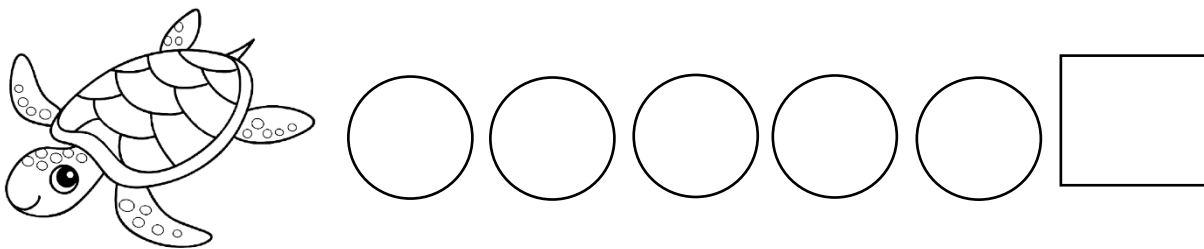



NOME: \_\_\_\_\_ DATA: 27/09/21

### ATIVIDADE 12

APENAS OBSERVANDO QUAL BICHINHO VOCÊ ACHA QUE APARECE MAIS VEZES? E QUAL VOCÊ ACHA QUE APARECE MENOS VEZES?

CONTE QUANTOS BICHINHOS HÁ DE CADA TIPO E PINTE AS BOLINHAS ABAIXO PARA REPRESENTAR AS QUANTIDADES. DEPOIS, ESCREVA OS NÚMEROS CORRESPONDENTES NOS QUADRINHOS.






NOME: \_\_\_\_\_ DATA: 28/09/21



### ATIVIDADE 13

GABRIEL E VITÓRIA ESTÃO BRINCANDO DE ACERTAR OS SAQUINHOS DENTRO DOS BAMBOLÊS.

VOCÊ JÁ BRINCOU ASSIM?

CONTE QUANTOS SAQUINHOS CADA CRIANÇA JOGOU, QUANTOS ACERTOU DENTRO DO BAMBOLÊ E QUANTOS ERROU. ESCREVA AS RESPOSTAS NA TABELA COM A AJUDA DO PROFESSOR.



		
NÚMERO DE SAQUINHOS QUE JÁ JOGOU:		
NÚMERO DE SAQUINHOS QUE ACERTOU DENTRO DO BAMBOLÊ:		
NÚMERO DE SAQUINHOS QUE ERROU:		
QUEM ESTÁ VENCENDO?		

NOME: \_\_\_\_\_ DATA: 28/09/21


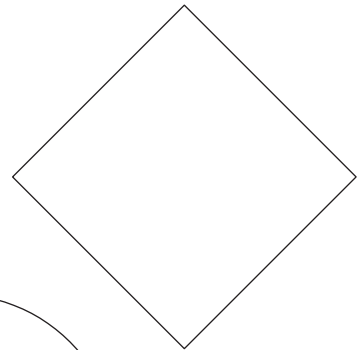
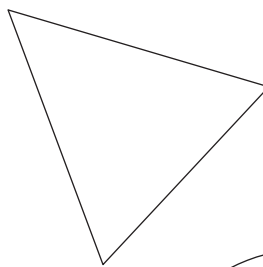

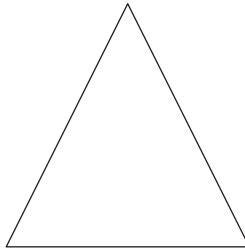


### ATIVIDADE 14

TRIÂNGULO, CÍRCULO, QUADRADO, RETÂNGULO

QUAL É O NOME DE CADA FIGURA GEOMÉTRICA ABAIXO?

O QUE ELAS TÊM DE SEMELHANTE E DE DIFERENTE?

PINTE AS FIGURAS GEOMÉTRICAS **IGUAIS** COM CORES **IGUAIS**.



QUANTOS LADOS TEM O TRIÂNGULO?

E QUANTOS LADOS TÊM O QUADRADO E O RETÂNGULO?

REFERÊNCIA

LIVRO ADOLETÁ - VILZA CARLA

PATRÍCIA BOTELHO DA SILVA

EDITORA DO BRASIL