



**E.M “YOLANDA AGOSTINHO
DE LIMA”**

11ª APOSTILA

3º ANO: A

PROFª: JERUSA

ATIVIDADES: 20,21,22,23,24,27,28,29,30

_GRANDE COMÍCIO NA FLORESTA! BEM NO MEIO DA CLAREIRA, DEBAIXO DA BANANEIRA!

DONA FORMIGA CONVOCOU A REUNIÃO. ISSO NÃO PODE CONTINUAR!

NÃO PODE NÃO! APOIAVA O CAMALEÃO.

_É UM DESAFORO. A FORMIGA GRITAVA. É UM DESAFORO!

_É MESMO. O CAMALEÃO CONCORDAVA.

A JOANINHA QUE VINHA CHEGANDO NAQUELE INSTANTE PERGUNTAVA: QUAL É O DESAFORO, HEIN?

_É UM DESAFORO O QUE A LAGARTA FAZ!

_COME TUDO O QUE É FOLHA! RECLAMAVA O LOUVA-A-DEUS.

_NÃO HÁ COMIDA QUE CHEGUE!

A LAGARTIXA NÃO COM CONCORDAVA:

_POR ISSO, NÃO QUE AS SENHORAS FORMIGAS TAMBÉM COMEM.

_É ISSO MESMO! APOIOU O CAMALEÃO QUE VIVIA MUDANDO DE OPINIÃO.

_É MUITO DIFERENTE, DEPOIS A LAGARTA É UMA GRANDE PREGUIÇOSA, VIVE LAGARTEANDO POR AÍ.

_VAI VER QUE A LAGARTIXA É PARENTE DA LAGARTA. DISSE O CAMALEÃO QUE JÁ TINHA MUDADO DE OPINIÃO.

_PARENTE NÃO! FALOU A LAGARTIXA. É SÓ UMA COINCIDÊNCIA DE NOME!

_ENTÃO NÃO SE META!

_ABAIXO A LAGARTA! DISSE O GAFANHOTO. VAMOS ACABAR COM ELA!

_VAMOS SIM! GRITOU A LIBÉLULA. ELA É MUITO FEIA!

O SENHOR CARACOL AINDA QUIS FAZER UM DISCURSO: É, MINHAS SENHORAS E MEUS SENHORES, COMO É PARA O BEM GERAL E PARA A FELICIDADE NACIONAL, EM MEU NOME E EM NOME DE TODO MUNDO INTERESSADO, COMO DIRIA O CONSELHEIRO FURTADO, QUERO DEIXAR CONSIGNADO QUE ESTÁ TUDO ERRADO. MAS COMO O CARACOL ERA MUITO ENROLADO, NINGUÉM PRESTAVA ATENÇÃO NO COITADO.

JÁ ESTAVAM TODOS SE PREPARANDO PARA CAÇAR A LAGARTA.

_ABAIXO A FEIURA! GRITAVA ARANHA COMO SE ELA FOSSE MUITO BONITA.

_MORRA COMILONA! EXCLAMAVA O LOUVA-A-DEUS COMO SE ELE NÃO FOSSE COMILÃO TAMBÉM.

_VAMOS ACABAR COM A PREGUIÇOSA! BERRAVA A CIGARRA ESQUECENDO A SUA FAMA DE BOA VIDA.

E LÁ SE FORAM ELES, CANTANDO E MARCHANDO:

UM, DOIS, FEIJÃO COM ARROZ, TRÊS, QUATRO, FEIJÃO NO PRATO.

_UM, DOIS, FEIJÃO COM ARROZ, TRÊS, QUATRO, FEIJÃO NO PRATO.

MAS, A PRIMAVERA HAVIA CHEGADO, POR TODA A PARTE HAVIA FLORES NA FLORESTA, ATÉ PARECIA FESTA. OS PASSARINHOS CANTAVAM E AS BORBOLETAS, QUANTAS BORBOLETAS DE TODAS AS CORES, DE TODOS OS TAMANHOS BORBOLETEARAM PELA MATA. E OS CAÇADORES PROCURAVAM PELA LAGARTA:

_UM, DOIS, FEIJÃO COM ARROZ, TRÊS, QUATRO, FEIJÃO NO PRATO.

_UM, DOIS, FEIJÃO COM ARROZ, TRÊS, QUATRO, FEIJÃO NO PRATO.

E PERGUNTAVAM PARA AS BORBOLETAS QUE PASSAVAM:

_VOCÊS VIRAM A LAGARTA QUE MORAVA NA AMOREIRA? AQUELA PREGUIÇOSA, COMILONA, HORROROSA.

AS BORBOLETAS RIAM, RIAM, IAM PASSANDO E NEM RESPONDIAM. ATÉ QUE VEIO CHEGANDO UMA LINDA BORBOLETA.

_ESTÃO PROCURANDO A LAGARTA DA AMOREIRA?

_ESTAMOS SIM. AQUELA HORROROSA, COMILONA.

E A BORBOLETA BATEU AS ASAS E FALOU:

_POIS, SOU EU.

_NÃO É POSSÍVEL! NÃO PODE SER VERDADE! VOCÊ É LINDA!

E A BORBOLETA SORRINDO EXPLICOU:

_TODA LAGARTA TEM SEU DIA DE BORBOLETA, É SÓ ESPERAR PELA PRIMAVERA.

_NÃO É POSSÍVEL, SÓ ACREDITO VENDENDO!

_VENHAM VER! ISSO ACONTECE COM TODAS AS LAGARTAS. EU TENHO UMA IRMÃ QUE ESTÁ ACABANDO DE VIRAR BORBOLETA.

TODOS CORRERAM PARA VER. E FICARAM QUIETINHOS ESPIANDO. E A LAGARTA FOI SE TRANSFORMANDO, SE TRANSFORMANDO ATÉ QUE DE DENTRO DO CASULO NASCEU UMA BORBOLETA.

OS INIMIGOS DA LAGARTA FICARAM ADMIRADOS

_É UM MILAGRE!

_BEM QUE EU FALEI. DISSE O CAMALEÃO QUE JÁ TINHA MUDADO DE OPINIÃO.

E A BORBOLETA FALOU: É PRECISO TER PACIÊNCIA COM AS LAGARTAS SE QUISERMOS CONHECER AS BORBOLETAS.

Vídeo e áudio explicativo das atividades.

1- OBSERVE A CAPA DO LIVRO QUE VOCÊ LEU E RESPONDA:



A- QUAL É O NOME DO LIVRO?

B- QUEM É A AUTORA DA HISTÓRIA?

C - MARQUE APENAS O QUE FAZ PARTE DA ILUSTRAÇÃO DA CAPA DO LIVRO:

- | | |
|-------------------------------------|-----------------------------------|
| <input type="checkbox"/> BORBOLETA. | <input type="checkbox"/> CAMALEÃO |
| <input type="checkbox"/> LEÃO | <input type="checkbox"/> JOANINHA |
| <input type="checkbox"/> FLORES | <input type="checkbox"/> MACACO |

2- O LIVRO QUE VOCÊ LEU É FORMADO POR MUITOS PERSONAGENS. ESCREVA OS NOMES DOS PERSONAGENS ABAIXO USANDO UM QUADRINHO PARA CADA LETRA. CONSULTE O BANCO DE PALAVRAS:

FORMIGA	JOANINHA	CAMALEÃO	CARACOL	BORBOLETA
LAGARTIXA	LAGARTA	LOUVA – A – DEUS	LIBÉLULA	



--	--	--	--	--	--	--	--



--	--	--	--	--	--	--	--



--	--	--	--	--	--	--	--



--	--	--	--	--	--	--	--



--	--	--	--	--	--	--	--



--	--	--	--	--	--	--	--



--	--	--	--	--	--	--	--



--	--	--	--	--	--	--	--

TRIPLO



Triplo significa 3 vezes.

Para encontrar o **triplo** de um número, basta multiplicá-lo por 3.

AGORA É SUA VEZ!

1. Complete a tabuada de multiplicação por 3.

x	0	1	2	3	4	5	6	7	8	9
3										

2. Qual é o triplo dos números abaixo?



A) O triplo de 4 é _____

B) O triplo de 6 é _____

C) O triplo de 8 é _____

D) O triplo de 9 é _____

E) o triplo de 10 é _____

3. Observe o exemplo e continue:

$$4 + 4 + 4 = 12 \quad \text{ou} \quad 3 \times 4 = \underline{\quad}$$


A) $2 + 2 + 2 = \underline{\quad}$ ou $\underline{\quad} \times \underline{\quad} = \underline{\quad}$

B) $5 + 5 + 5 = \underline{\quad}$ ou $\underline{\quad} \times \underline{\quad} = \underline{\quad}$

C) $7 + 7 + 7 = \underline{\quad}$ ou $\underline{\quad} \times \underline{\quad} = \underline{\quad}$

D) $1 + 1 + 1 = \underline{\quad}$ ou $\underline{\quad} \times \underline{\quad} = \underline{\quad}$

3- OBSERVE A IMAGEM ABAIXO E RESPONDA:



A- O CONVITE PARA O COMÍCIO ESTAVA SENDO FEITO PELAS:

- () BORBOLETAS.
- () FORMIGAS.
- () LIBÉLULAS

B- O COMÍCIO IRÁ ACONTECER DEBAIXO DA:

- () AMOREIRA () MANGUEIRA () BANANEIRA

C- OS ANIMAIS FIZERAM O GRANDE COMÍCIO PORQUE NÃO ESTAVAM SATISFEITOS COM A LAGARTA QUE ERA CONSIDERADA POR ELES:



- () AMIGA () BONITA () COMILONA

D- OS ANIMAIS DERAM OPINIÕES SOBRE A LAGARTA, MAS TINHA UM ANIMAL QUE TODA HORA MUDAVA DE OPINIÃO. ESSE ANIMAL ERA O:

- () GAFANHOTO () CAMALEÃO () CARACOL



OS ANIMAIS SAÍRAM MARCHANDO E CANTANDO EM BUSCA DA LAGARTA E POR ONDE PASSAVAM ENCONTRAVAM FLORES E BORBOLETAS.

4- EM QUAL ESTAÇÃO DO ANO ACONTECE A HISTÓRIA? _____

5- OS ANIMAIS PROCURAVAM POR UMA LAGARTA FEIA, HORROROSA, PREGUIÇOSA E COMILONA. MAS, DESCOBRIRAM QUE ELA HAVIA SE TRANSFORMADO EM UMA:




- () LINDA ABELHA () LINDA GATA () LINDA BORBOLETA

6- TODA BORBOLETA UM DIA FOI UMA LAGARTA. NUMERE NA ORDEM CORRETA O CICLO DE VIDA DA BORBOLETA:



Um aluno do 3º ano, depois de ler a história “A primavera da lagarta”, teve uma ideia! Ele resolveu fazer uma votação pela internet para ver qual era o personagem preferido dos alunos do 3º ano de outras três escolas do seu município.

1. Veja a tabela que foi feita com os resultados, complete com o total de votos e responda:

PERSONAGENS DOS ALUNOS				
PERSONAGENS	ESCOLA1	ESCOLA 2	ESCOLA 3	TOTAL
 LAGARTA	9	13	8	
 BORBOLETA	5	6	10	
 FORMIGA	10	15	2	

- a) Que personagem recebeu mais votos? _____
- b) Que personagem recebeu menos votos? _____
- c) Quantos alunos ao todo participaram dessa votação? _____
- d) Qual a diferença de votos entre o mais votado e o menos votado? _____
- e) Se a borboleta recebesse o DOBRO de votos, quantos votos seriam? _____

“ É preciso ter paciência com as lagartas, se quisermos conhecer as borboletas!”

2. E para ficar craque nas multiplicações, é preciso praticar. Contorne os resultados correspondentes a cada multiplicação.

a. $2 \times 8 =$ 10 16 12 8

b. $3 \times 4 =$ 12 7 18 21

c. $3 \times 3 =$ 19 9 20 27

d. $2 \times 9 =$ 11 21 18 22



e. $3 \times 5 =$ 24 20 9 15

f. $3 \times 0 =$ 3 9 0 30

g. $3 \times 9 =$ 27 24 30 21

h. $2 \times 7 =$ 10 14 20 25

22/09

OS ANIMAIS DA FLORESTA ESTAVAM FELIZES COM A CHEGADA DA PRIMAVERA.

1- OBSERVE ESTA LISTA COM OS PERSONAGENS DA HISTÓRIA E FAÇA UM X NA PALAVRINHA QUE ESTÁ ESCRITA COM A LETRA J.

FORMIGA ()

CAMALEÃO ()

JOANINHA ()

LAGARTIXA ()

GAFANHOTO ()

CARACOL ()

A LAGARTA PREPARAOU UMA ATIVIDADE PARA VOCÊ FAZER DURANTE O PERÍODO QUE ELA FICOU DENTRO DO CASULO

2- COMPLETE AS PALAVRAS COM JA JE JI JO JU E COPIE:



CA



NE LA



SUS



GO



CA



CA DO



PE



TI

LO

AGORA, USE AS PALAVRAS ACIMA PARA COMPLETAR AS FRASES ABAIXO:

A- O _____ DO MURO CAIU.

B- JANETE BEBEU SUCO DE _____.

C- JOÃO VIU UM CAMALEÃO NO TETO DO _____.

3- ESCOLHA UMA DAS PALAVRAS QUE VOCÊ COMPLETOU ACIMA E ESCREVA UMA FRASE BEM BONITA:

3. Siga as dicas do Senhor Caracol e do Camaleão e PINTE os quadros com os resultados corretos e escreva-os por extenso.



Para achar o dobro de um número, basta multiplicar esse número por 2.

E para calcular o triplo de um número, basta multiplicá-lo por 3.



a. Dobro de 12.

24

28

20

16

b. Triplo de 30.

40

60

90

100

c. Dobro de 50.

100

150

200

90

d. Triplo de 20.

60

70

80

90

e. Dobro de 24.

38

35

36

48

DIFERENTES FORMAS DE VIVER



REALIZE A LEITURA DA HISTÓRIA EM QUADRINHOS.

1) QUAIS SÃO OS LUGARES CITADOS PELOS PERSONAGENS:

QUAIS AS BRINCADEIRAS CITADAS NA HISTÓRIA

1- LEIA UM TRECHO DO TEXTO:

OS PASSARINHOS CANTAVAM...

E AS BORBOLETAS, QUANTAS BORBOLETAS!

DE TODAS AS CORES, DE TODOS OS TAMANHOS,
BORBOLETEAVAM PELA MATA.

E OS CAÇADORES PROCURAVAM PELA LAGARTA.

___ UM, DOIS, UM DOIS, FEIJÃO COM ARROZ... TRÊS, QUATRO FEIJÃO NO PRATO...



- PINTE NO TEXTO A PALAVRINHA QUE APRESENTA A LETRA J E ESCREVA ABAIXO:.

2- LEIA AS PALAVRAS DO QUADRO E PINTE AS SÍLABAS JA JE JI JO JU JÃO:

JABUTI	JOÃO	JANELA	JIBOIA	CAJU	JOANINHA
JADE	FEIJÃO	JANAÍNA	JABUTICABA	BEIJO	JACA

- AGORA COPIE DO QUADRO ACIMA TRÊS NOMES DE:

FRUTAS



ANIMAIS



PESSOAS



E A LAGARTA FOI SE TRANSFORMADO... ATÉ QUE, DE DENTRO DO CASULO, NASCEU UMA LINDA BORBOLETA.



OS INIMIGOS DA LAGARTA FICARAM ADMIRADOS AO CONHECEREM A BORBOLETA E ALGUMAS DAS FIGURAS GEOMÉTRICAS PLANAS:



CÍRCULO



QUADRADO




RETÂNGULO



TRIÂNGULO

1- OBSERVE A BORBOLETA TRAZENDO AS FIGURAS GEOMÉTRICAS PLANAS. PINTE-A SEGUINDO AS CORES DA LEGENDA:



QUADRADOS DE AZUL;

TRIÂNGULOS DE AMARELO;

CÍRCULOS DE VERMELHO;

RETÂNGULOS DE VERDE;

2- AGORA, OBSERVE O DESENHO ACIMA E RESPONDA:

QUANTOS QUADRADOS? _____

QUANTOS TRIÂNGULOS? _____


QUANTOS CÍRCULOS? _____

QUANTOS RETÂNGULOS? _____

3- DESENHE O QUE SE PEDE:

1 DEZENA DE TRIÂNGULOS;

2 DEZENAS DE CÍRCULOS;



1 Houve um grande comício na floresta. Observe o cartaz e responda:



- a) . Quem convocou a reunião? _____
- b) Onde aconteceu o comício? _____

- c) Os animais se juntaram porque estavam revoltados com quem? _____

2 Complete a lista com os nomes dos personagens que aparecem na história.

FORMIGA	_____	_____	_____
CAMALEÃO	_____	_____	_____
JOANINHA	_____	_____	_____

Qual é o personagem que vivia mudando de opinião? _____

3 De quem são as falas abaixo? Escreva.

- Qual é o desaforo, hein? Disse a _____."

- Morra, comilona! Exclamava o _____."

- Abaixo a feiura! Gritava a _____."

- Vamos acabar com a preguiçosa? Berrava a _____."



a) Você acha que os animais tinham razão em ficar falando mal da lagarta? Por quê? _____

TERRA E UNIVERSO

24/09


O PLANETA TERRA FAZ PARTE DO SISTEMA SOLAR, ESTE GRANDE SISTEMA É UM DOS ELEMENTOS QUE COMPÕE O UNIVERSO. ... A TERRA, APESAR DE SUA DIMENSÃO, POSSUI UM ENDEREÇO NO UNIVERSO. O UNIVERSO É MUITO COMPLEXO, APRESENTA-SE COM VÁRIOS ELEMENTOS.

O SISTEMA SOLAR CORRESPONDE A UM CONJUNTO FORMADO PELO SOL, ASTEROIDES, SATÉLITES, METEOROS, COMETAS E OITO PLANETAS COM FORMAS ESFÉRICAS OS QUAIS DESCREVEM ÓRBITAS ELÍPTICAS.

OS NOMES DOS PLANETAS DO SISTEMA SOLAR EM SUA ORDEM SÃO: MERCÚRIO, VÊNUS, TERRA, MARTE, JÚPITER, SATURNO, URANO E NETUNO.

- 1) Encontre, no caça-palavras abaixo, os nomes dos oito planetas que formam o nosso sistema solar.

M	A	R	T	E	B	H	V	D	T
C	V	H	X	Ç	L	Ç	Ê	Q	N
J	Ú	P	I	T	E	R	N	O	E
T	S	Q	W	Z	S	P	U	G	T
U	L	Ç	R	T	P	O	S	T	U
R	Q	R	N	M	T	R	C	E	N
A	S	Q	Ç	P	L	Ç	P	R	O
N	R	P	K	U	T	Y	O	R	L
O	Q	W	Z	S	Q	L	P	A	T
L	S	A	T	U	R	N	O	L	M
S	Q	L	Q	J	O	J	W	Z	S
M	E	R	C	Ú	R	I	O	P	H



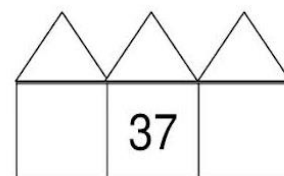
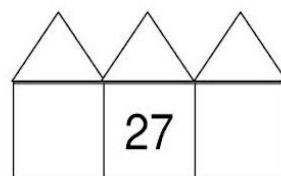
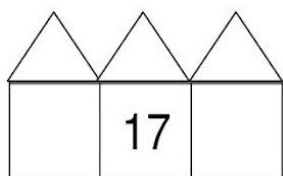
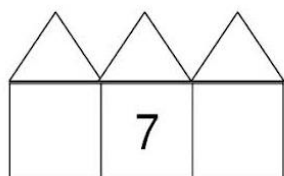
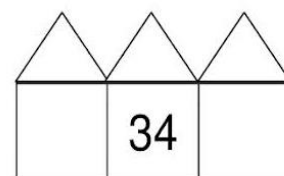
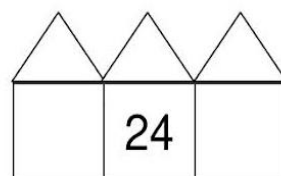
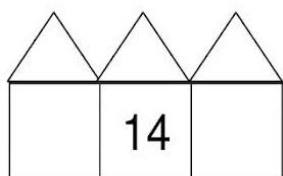
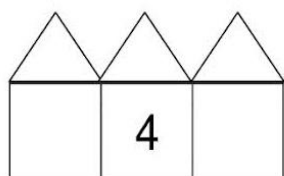
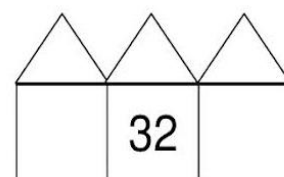
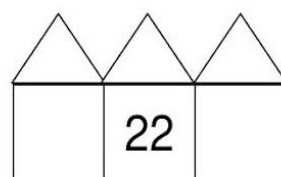
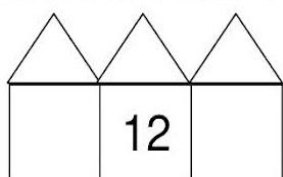
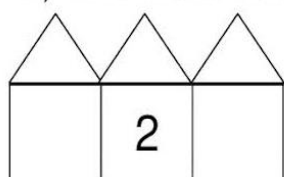
- 2) Agora, escreva a ordem em que os planetas se apresentam no sistema solar.

1	_____	4	_____	7	_____
2	_____	5	_____	8	_____
3	_____	6	_____		

1) Complete o quadro com os números faltosos:

0	1								
									49

2) Escreva o antecessor e o sucessor de:



3) Resolva as adições:

$$\begin{array}{r} 23 \\ + 14 \\ \hline \end{array}$$

$$\begin{array}{r} 15 \\ + 12 \\ \hline \end{array}$$

$$\begin{array}{r} 24 \\ + 32 \\ \hline \end{array}$$

$$\begin{array}{r} 27 \\ + 12 \\ \hline \end{array}$$

$$\begin{array}{r} 31 \\ + 11 \\ \hline \end{array}$$

$$\begin{array}{r} 32 \\ + 14 \\ \hline \end{array}$$

$$\begin{array}{r} 24 \\ + 15 \\ \hline \end{array}$$

$$\begin{array}{r} 12 \\ + 23 \\ \hline \end{array}$$

4) Resolva as subtrações:

$$\begin{array}{r} 18 \\ - 12 \\ \hline \end{array}$$

$$\begin{array}{r} 28 \\ - 12 \\ \hline \end{array}$$

$$\begin{array}{r} 38 \\ - 12 \\ \hline \end{array}$$

$$\begin{array}{r} 28 \\ - 12 \\ \hline \end{array}$$

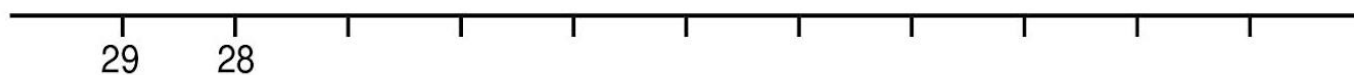
$$\begin{array}{r} 15 \\ - 14 \\ \hline \end{array}$$

$$\begin{array}{r} 25 \\ - 14 \\ \hline \end{array}$$

$$\begin{array}{r} 35 \\ - 14 \\ \hline \end{array}$$

$$\begin{array}{r} 25 \\ - 14 \\ \hline \end{array}$$

5) Complete a sequência, escrevendo os números faltosos, em **ordem decrescente**:



27/09

A LAGARTA ERA CHAMADA DE COMILONA, FEIA E PREGUIÇOSA.

1) FAÇA UMA FRASE COM UMA CARACTERÍSTICA PARA OS PERSONAGENS ABAIXO, MAS NÃO ESQUEÇA DO ESPAÇO ENTRE AS PALAVRAS E O PONTO NO FINAL DAS FRASES.

JOANINHA _____

CARACOL _____

CAMALEÃO _____

A PRIMAVERA CHEGOU E É TEMPO DE MUITA ALEGRIA.

2) COMPLETE O TEXTO ABAIXO COM AS PALAVRAS QUE ESTÃO NO QUADRO:

CORES	PRIMAVERA
AMARELAS	BORBOLETAS



NA _____ POSSO VER
ABELHAS, PASSARINHOS E BELAS _____
FLORES DE TODAS AS _____
AZUL, _____ E VIOLETAS.

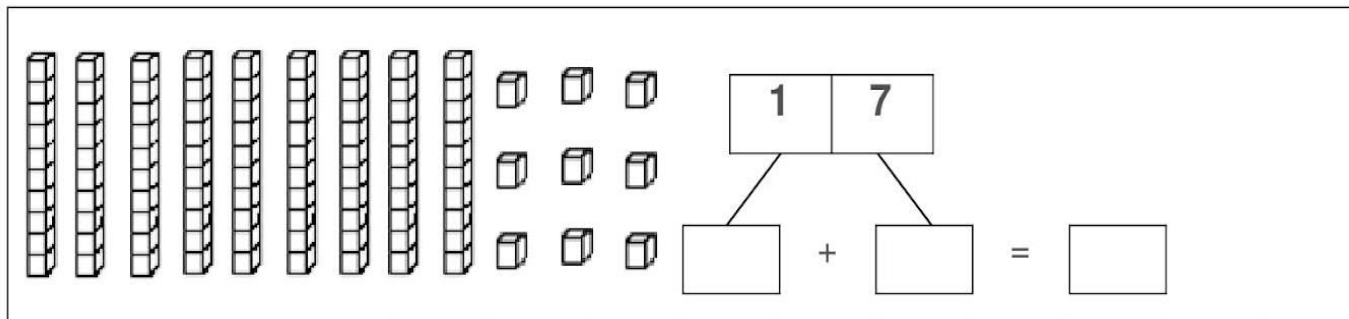


3) E PARA DEIXAR A PRIMAVERA AINDA MAIS BONITA, QUE TAL VOCÊ FAZER UMA BORBOLETA E UMA FLOR USANDO ROLINHO DE PAPEL HIGIÊNICO?

USE A CRIATIVIDADE E MANDE FOTOS PARA PROFESSORA.

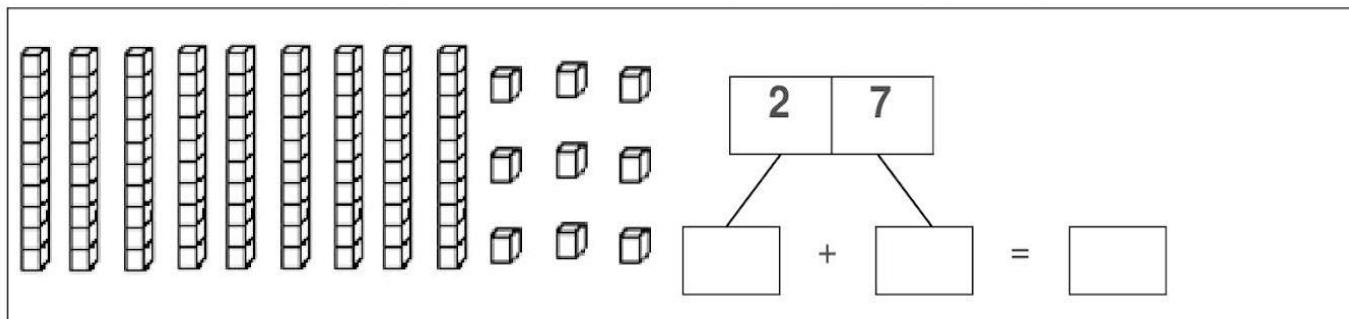
FELIZ PRIMAVERA!

1) Pinte as barrinhas de acordo com os números:



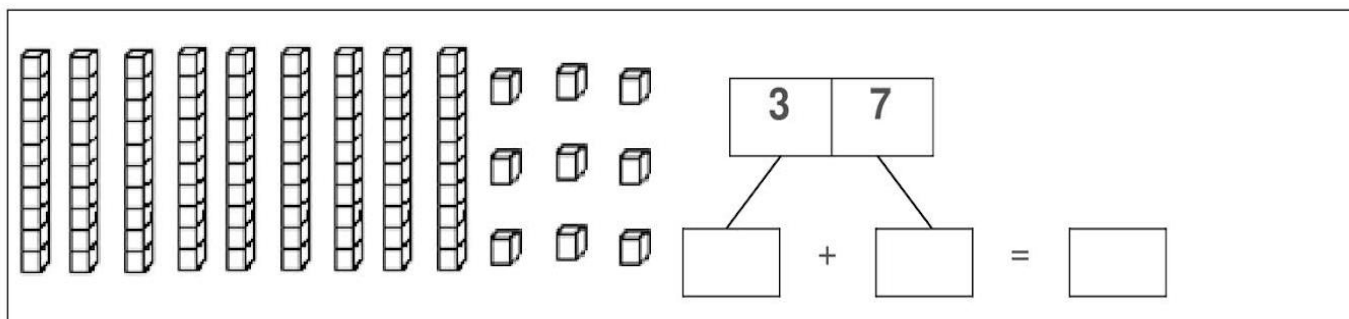
1 | 7

[] + [] = []



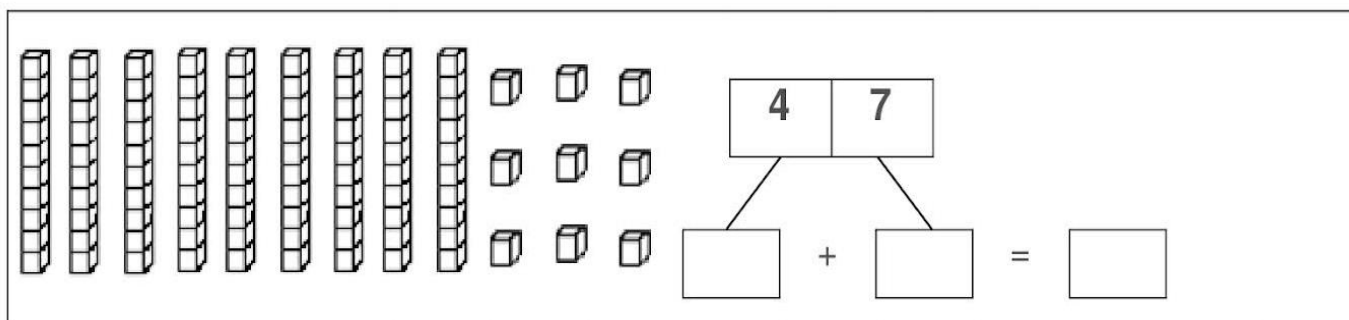
2 | 7

[] + [] = []



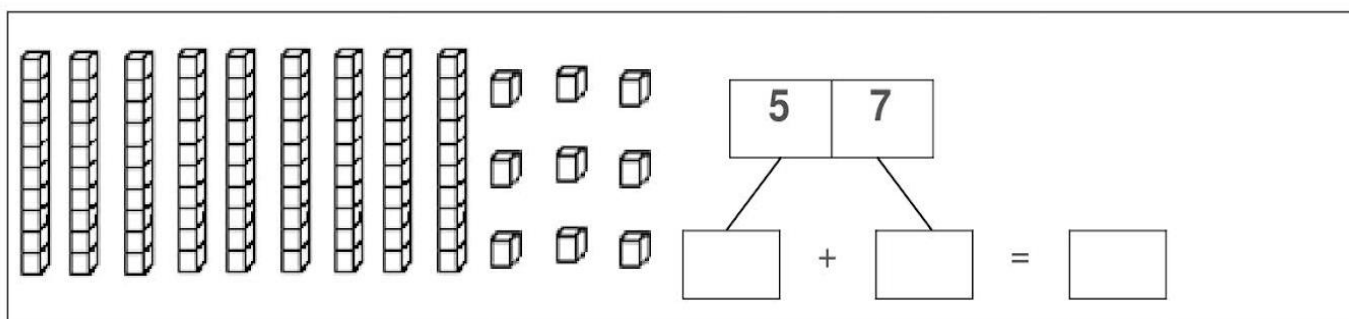
3 | 7

[] + [] = []



4 | 7

[] + [] = []



5 | 7

[] + [] = []

2) Complete a sequência, escrevendo os números em **ordem crescente**:



Na floresta havia borboletas azuis, brancas, amarelas e pretas.

Observe que nessa frase há vírgula (,).

Usamos vírgula para:



• **Separar palavras numa sequência.**

Exemplo: Dona Formiga, a Lagartixa, a Joanelha e o Camaleão estavam na reunião.

• **Separar o nome da rua do número da casa, nos endereços.**

Exemplo: Rua das Flores, 25

• **Separar o nome da cidade, nas datas.**

Exemplo: Miracema, 21 de setembro de 2020.

Agora que você aprendeu é hora de praticar!

1) Coloque vírgula onde for preciso.

- a) O menino era alegre bonito simpático e inteligente.
- b) A borboleta era azul rosa e branca.
- c) A menina morava na Rua da Paz 129.
- d) Itaperuna 20 de março de 2020.
- e) Comprei banana maçã abacaxi laranja e morango.
- f) Almocei arroz feijão bife e batata.



2) Escreva:

a) O nome da rua onde você mora e o número de sua casa.

b) O nome da cidade em que você mora e a data de hoje.

1) Complete as sequências com os números faltosos:

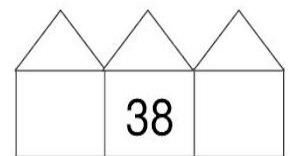
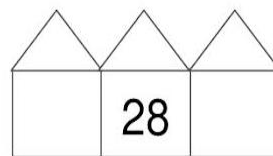
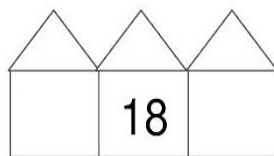
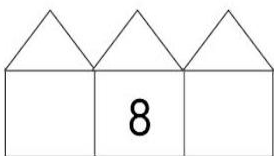
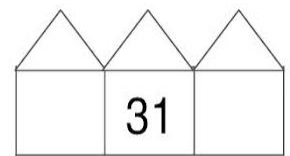
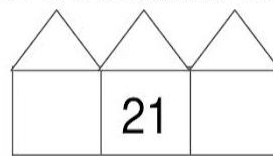
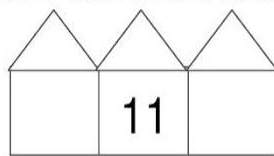
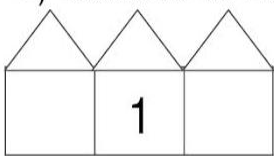
0	1				5				
---	---	--	--	--	---	--	--	--	--

10	11				16				
----	----	--	--	--	----	--	--	--	--

20				24					
----	--	--	--	----	--	--	--	--	--

		32						38	
--	--	----	--	--	--	--	--	----	--

2) Observe os números e escreva o antecessor e o sucessor de:



3) Resolva as subtrações:

$$\begin{array}{r} 36 \\ - 24 \\ \hline \end{array}$$

$$\begin{array}{r} 45 \\ - 24 \\ \hline \end{array}$$

$$\begin{array}{r} 28 \\ - 24 \\ \hline \end{array}$$

$$\begin{array}{r} 38 \\ - 24 \\ \hline \end{array}$$

$$\begin{array}{r} 26 \\ - 15 \\ \hline \end{array}$$

$$\begin{array}{r} 49 \\ - 15 \\ \hline \end{array}$$

$$\begin{array}{r} 38 \\ - 15 \\ \hline \end{array}$$

$$\begin{array}{r} 27 \\ - 15 \\ \hline \end{array}$$

4) Resolva as situações-problema:

a) Em uma árvore havia 15 passarinhos. Chegaram mais 12. Quantos passarinhos ficaram no total nesta árvore?

Operação

Resposta
Ficaram ____ passarinhos nesta árvore.

b) Sofia comprou 24 laranjas. Ela usou 11 laranjas para fazer um suco. Quantas laranjas restaram?

Operação

Resposta
Restaram ____ laranjas.

PINTAR OS DESENHOS, RECORTAR E COLAR NA FOLHA DE SULFITE.



O SISTEMA SOLAR

DIA E NOITE

A Terra, a Lua e o Sol são astros que se movimentam no espaço.
Astro é todo corpo celeste que orbita no espaço.

1. O nome do percurso que os astros fazem ao girar no espaço é:

giro

órbita

queda

noite

2. Os dias e as noites ocorrem porque:

a Terra gira em torno da Lua.

a Terra gira em torno dela mesma.

a Terra gira em torno do Sol.

3. Quanto tempo a Terra demora para dar uma volta completa em torno dela mesma?

3 horas

6 horas

12 horas

24 horas

4. O período que a Terra leva para dar uma volta completa em torno dela mesma compreende a:

um dia

uma noite

uma noite e um dia

5. Nesta imagem da Terra mostrando o dia e a noite, de que lado está o Sol? Desenhe-o

