


DATA: 20/09/2021

**11ª APOSTILA DE
ATIVIDADES DOMICILIARES
3º ANO A
PROFESSORA KATIA
PERÍODO:
20 À 28/09/2021**

**PREVISÃO DE DEVOLUÇÃO:
29 E 30/09 (QUARTA E
QUINTA-FEIRA)**



23 DE SETEMBRO - PRIMAVERA



A PRIMAVERA É UMA DAS QUATRO ESTAÇÕES DO ANO. ELA OCORRE APÓS O INVERNO E ANTES DO VERÃO. ELA TEM INÍCIO NO DIA 23 DE SETEMBRO E TERMINA NO DIA 21 DE DEZEMBRO.

É UMA ÉPOCA QUE OCORRE O FLORESCIMENTO DE VÁRIAS ESPÉCIES DE PLANTAS. PORTANTO, É UM PERÍODO EM QUE A NATUREZA FICA BELA, PRESENTEANDO O SER HUMANO COM FLORES COLORIDAS E PERFUMADAS.

DURANTE ESTA ESTAÇÃO, A TEMPERATURA VAI AOS POUCAUMENTANDO.

ENTRE AS FLORES QUE MAIS SE DESTACAM NA PRIMAVERA, ESTÃO O GIRASSOL, A ROSA, A ORQUÍDEA, A GÉRBERA E A VIOLETA.

VAMOS CURTIR A BELEZA PRIMAVERA!

DATA: 21/09/2021

As Estações do Ano

Nascem os frutos,
Não é frio, nem quente,
no agradável Outono,
Eu fico contente.



Faz tanto frio.
Ao Inverno chegar,
Não nado, não brinco,
Não vou passear.



Chegou a Primavera,
A estação das flores.
Há pássaros, borboletas
De todas as cores.



Com muita chuva,
Chegou o Verão.
Calor forte e sol
Faz nesta estação.





Apenas três meses
Dura cada estação,
E todas elas trazem
Alegria no coração.



Filomena Maria da Silva. - Estado de Minas, 22/07/1995.

ESTAÇÕES DO ANO

1. Escreva a estação do ano que está representada em cada cena.



- CIRCULE NO POEMA COM LÁPIS DE COR AS 4 ESTAÇÕES DO ANO:
- ESCREVA O NOME DA ESTAÇÃO QUE NOS LEMBRA CADA PALAVRA ABAIXO:

FRUTAS _____
CASACO _____
FLORES _____
SORVETE _____

2. Faça uma pesquisa em livros, na internet ou com adultos e descubra em que dia se inicia cada estação do ano. Anote.

Estação do ano	Dia em que se inicia
inverno	
outono	
primavera	
verão	


3. Pinte na tabela acima a linha que representa a estação em que você nasceu.

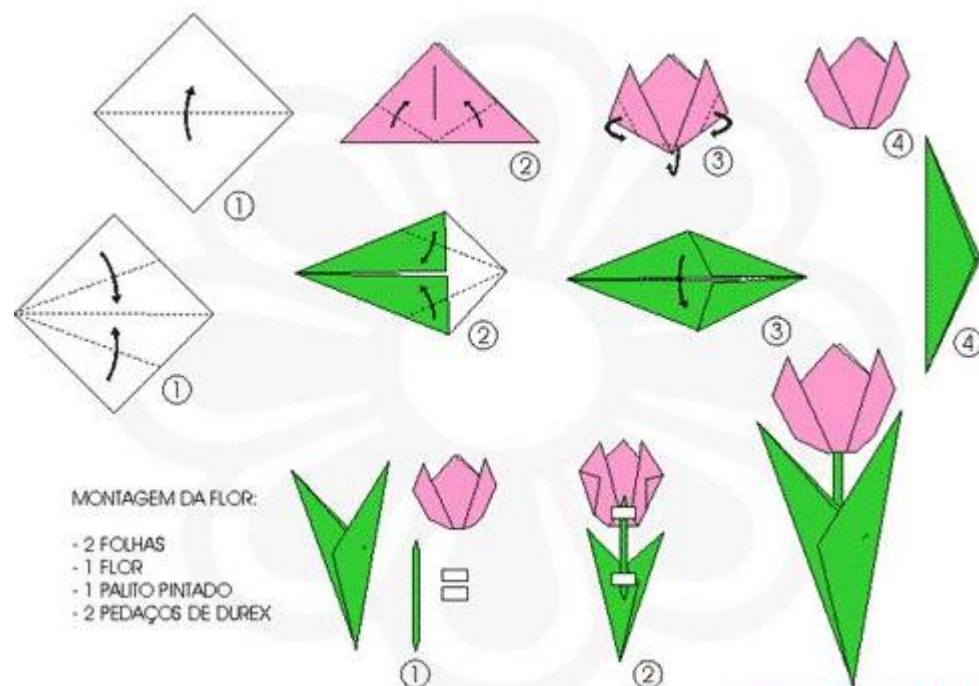
DATA: 22/09/2021

A ARTE MILENAR JAPONESA DE FAZER DOBRADURAS EM PAPEL ENCANTA PESSOAS NO MUNDO TODO. UTILIZANDO UM PEQUENO NÚMERO DE DOBRADURAS DE FORMAS VARIADAS É POSSÍVEL FAZER DESDE IMAGENS SIMPLES A DESENHOS COMPLEXOS.

ATIVIDADE: FAÇA A DOBRADURA DE UMA FLOR. VOCÊ VAI PRECISAR DE:

1 QUADRADO PARA FLOR
2 QUADRADOS PARA AS FOLHAS
1 PALITO
COLA

- PARA FAZER SIGA A MONTAGEM: 
- COLE A FLOR QUE VOCÊ MONTOU :



DATA: 23/09/2021

MEIOS DE TRANSPORTE

VAMOS CONHECER OS MEIOS DE TRANSPORTE?




OS MEIOS DE TRANSPORTE SÃO DE GRANDE IMPORTÂNCIA PARA O DESENVOLVIMENTO DO NOSSO PAÍS.

ELES SERVEM PARA TRANSPORTAR PESSOAS E CARREGAR MERCADORIAS.

SÃO DIVIDIDOS EM:


. TERRESTRES: OS AUTOMÓVEIS, OS ÔNIBUS, OS CAMINHÕES, O TREM, O METRÔ, ETC.



. AQUÁTICOS: SÃO OS NAVIOS, IATE, OS BARCOS E AS CANOAS.



. AÉREOS: AVIÕES, HELICÓPTEROS, ETC.



O ÔNIBUS, O METRÔ, O TREM SÃO CHAMADOS DE **TRANSPORTE COLETIVOS** PORQUE LEVAM MUITAS PESSOAS AO MESMO TEMPO.

ATIVIDADES

1) PARA QUE SERVEM OS MEIOS DE TRANSPORTE?

2) PARA QUE SERVEM OS SEGUINTES MEIOS DE TRANSPORTE?

A) O ÔNIBUS

B) O CAMINHÃO

3) OS MEIOS DE TRANSPORTE PODEM SER DIVIDIDOS EM:

Nome: _____

DATA: 24/09/2021

1) LEIA OS NOMES DOS MEIOS DE TRANSPORTE E ESCREVA NO QUADRO DE ACORDO COM A DIVISÃO:

BICICLETA

METRÔ

HELICÓPTERO

NAVIO

TREM

PARAQUEDAS

IATE

AVIÃO


BALSA

BALÃO

CANOA

AUTOMÓVEL

MEIOS DE TRANSPORTE		
AQUÁTICOS	TERRESTRES	AÉREOS



Ideia Criativa

2) DESENHE NOS QUADROS 3 TRANSPORTES COLETIVOS E ESCREVA OS NOMES:

--	--	--

3) QUAIS OS MEIOS DE TRANSPORTE VOCÊ JÁ USOU? R: _____

DATA: 27/09/2020


MEIOS DE COMUNICAÇÃO




NUMERE DE ACORDO.




Para escutar música.



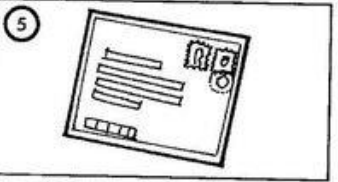
Mensagem que recebo do correio.



Para falar com uma pessoa distante.



Para ler reportagens, notícias, etc.



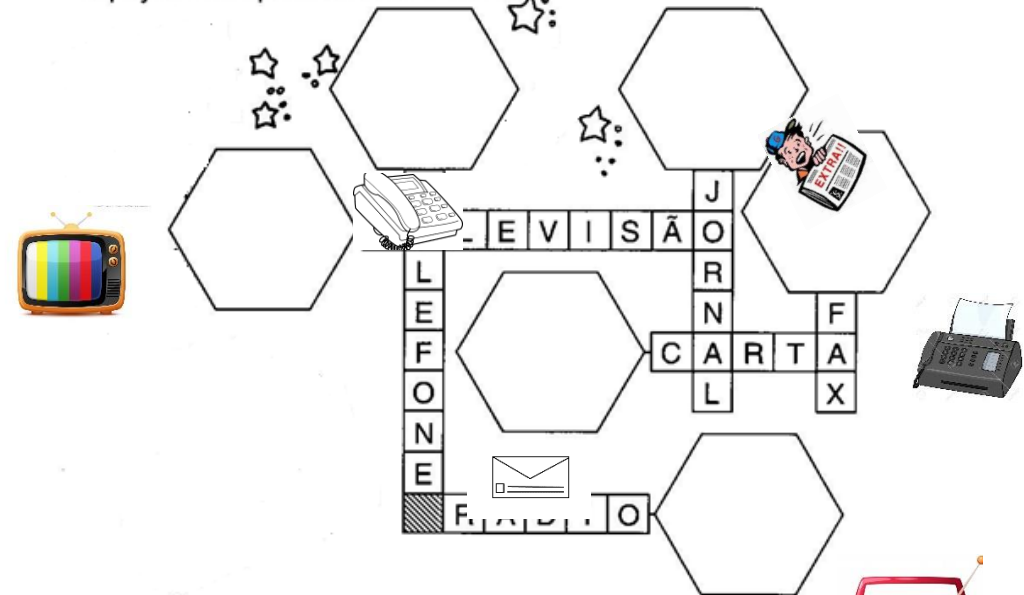
Para ver o noticiário, novela ou desenho.




Para entrar na internet.

Cruza-colagem

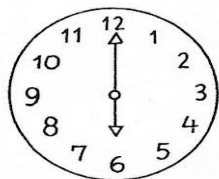
- Recorte abaixo as descrições dos meios de comunicação e cole-as nos espaços correspondentes da cruzadinha:



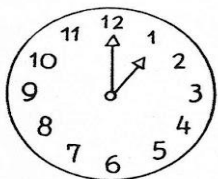
Medida de tempo
Horas



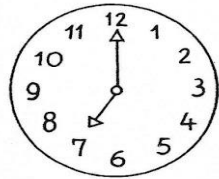
O ponteiro pequeno indica as horas.
O ponteiro maior indica os minutos.



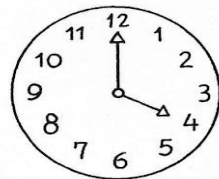
..... horas



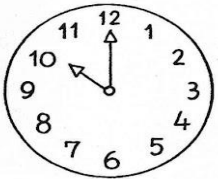
..... horas



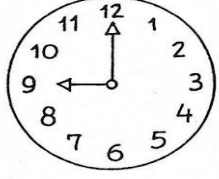
..... horas



..... horas



..... horas



..... horas

Marque nos relógios as horas indicadas.



7 horas



1 hora



12 horas



11 horas



4 horas



6 horas



3 horas



5 horas



9 horas