

NOME: _____

PROFESSOR (A): MARIA CLAUDIA

TURMA: 4º ANO A

PERÍODO: MANHÃ - 11ª APOSTILA DE 20/09 A 28/09

MINHAS ATIVIDADES

PRIMAVERA

E.M "PADRE ELÍDIO MANTOVANI"



E.M. "PADRE ELÍDIO MANTOVANI"
IBIÚNA, 20 DE SETEMBRO DE 2.021.
NOME: _____
PROFESSORA: MARIA CLAUDIA
HOJE É SEGUNDA-FEIRA

4º ANO A

- LÍNGUA PORTUGUESA: LEITURA E INTERPRETAÇÃO DE TEXTO

A Primavera voltou!

Venham ver!

Venham ver durante a noite
as coisas que aconteceram!

Nos ramos daquela árvore
folhinhas novas nasceram.

No carvalho, os passarinhos
já construíram o ninho;
o salgueiro ao pé do rio
de mil botões se enfeitou.

Veio o sol. Fugiu o frio.

A Primavera voltou.

A Primavera voltou



1. Ler o texto em silêncio.
2. Responder:

A que estação do ano se refere o texto? _____

Que aconteceu aos ramos da árvore? _____

Onde construíram os passarinhos os ninhos? _____

Como ficou o salgueiro? _____

3. Completar as frases com as palavras: *passarinhos, ninho, flores e andorinhas*.

As _____ regressam alegres na Primavera.

Na Primavera, há lindas e perfumadas _____.

Os _____ põem os ovos nos seus _____.

4. Escrever as frases no **singular**:

Os melros cantam nas laranjeiras.

As rosas vermelhas são bonitas e perfumadas.

5. Escrever o **antónimo** de:

noite		nasceram	
novas		construíram	

CRUZA DEZENAS DE MILHAR

Encaixe na cruzadinha as dezenas de milhar pedidas e depois escreva os numerais nos respectivos balões.

A

A ↓

F →

B

C

D ↓

C ↓

E →

E

F

MEL

A- 2 dezenas de milhar.
B- 9 dezenas de milhar.
C- 3 dezenas de milhar.
D- 8 dezenas de milhar.
E- 5 dezenas de milhar.
F- 1 dezena de milhar.

E.M. "PADRE ELÍDIO MANTOVANI"
IBIÚNA, 21 DE SETEMBRO DE 2.021.
NOME: _____
PROFESSORA: MARIA CLAUDIA
HOJE É TERÇA-FEIRA

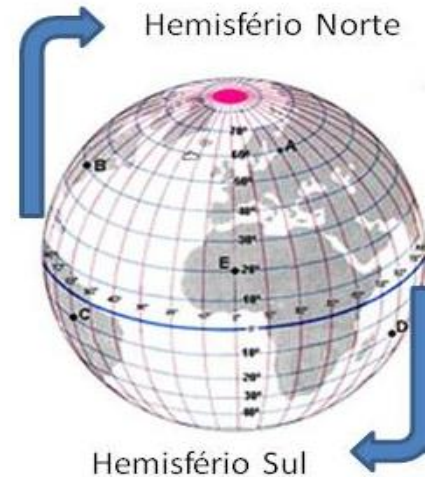
4º ANO A

- GEOGRAFIA:

Prima vera: A estação das flores

A primavera é uma das quatro estações do ano, ela inicia com o fim do inverno e termina com o início do verão. No Hemisfério Sul, a primavera começa no dia 23 de setembro e termina no dia 21 de dezembro. No Hemisfério Norte, essa estação inicia no dia 22 de março e termina em 21 de junho.

A principal característica da primavera são as flores, sendo considerada a estação mais florida do ano, pois é uma época em que ocorre o florescimento de várias espécies de plantas. Esse período é marcado por belas paisagens formadas pela natureza, com uma grande diversidade de flores, tais como rosa, girassol, margaridinha, orquídea, jasmim, hortênsia, hibisco, boca de leão, crisântemo, violeta e gérbera.



Compreendendo o texto

Quantas estações tem o ano? _____

No Hemisfério Sul a primavera começa no dia _____
e termina no dia _____

Porque a primavera é chamada de estação das flores? _____

Encontre no caça palavras as flores citadas no texto.

W	M	G	É	R	B	E	R	A	B
J	A	S	M	I	M	Z	W	R	O
Q	R	O	S	A	D	X	Q	Q	C
D	G	I	R	A	S	S	O	L	A
F	A	Z	R	T	A	A	S	A	D
C	R	I	S	Â	T	E	M	O	E
H	I	B	I	S	C	O	A	P	L
M	D	H	S	P	Q	X	R	R	E
V	I	O	L	E	T	A	T	E	Â
B	N	R	A	Q	W	Z	P	S	O
Z	H	O	R	T	E	N	C	I	A
X	A	O	R	Q	U	I	D	E	A

Vamos colorir



<http://construindoosaberisanete.blogspot.com/2012/08/interpretacao-de-texto-primavera.html>



Divisão para resolver!

$9 \overline{) 9} \underline{\quad}$

$94 \overline{) 9} \underline{\quad}$

$420 \overline{) 9} \underline{\quad}$

$206 \overline{) 9} \underline{\quad}$

$155 \overline{) 9} \underline{\quad}$

$940 \overline{) 9} \underline{\quad}$

$337 \overline{) 9} \underline{\quad}$

$602 \overline{) 9} \underline{\quad}$

$138 \overline{) 9} \underline{\quad}$

$402 \overline{) 9} \underline{\quad}$

$701 \overline{) 9} \underline{\quad}$

$243 \overline{) 9} \underline{\quad}$


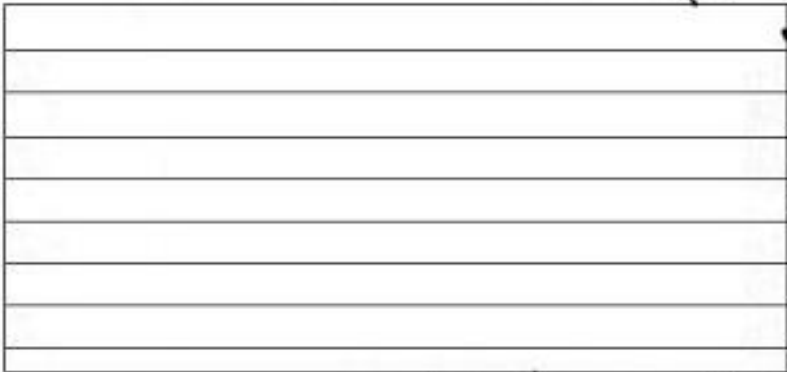
E.M. "PADRE ELÍDIO MANTOVANI"
IBIÚNA, 22 DE SETEMBRO DE 2.021.
NOME: _____
PROFESSORA: MARIA CLAUDIA
HOJE É QUARTA-FEIRA

4º ANO A

- LÍNGUA PORTUGUESA: PRODUÇÃO DE TEXTO

PENSE E ESCREVA...

Se você fosse uma planta, que recado você daria para o homem?




www.misturadealegria.blogspot.com ADILÉA

<https://misturadealegria.blogspot.com/2012/09/dia-da-arvore.html>

O SOLO

Solo é a terra onde pisamos, plantamos nossos vegetais e construímos nossas cidades.

O solo é formado pela ação do vento, da água e do frio.



Estes agentes, durante milhões de anos, foram desgastando as rochas, carregando seus pedaços e depositando-os em camadas. Junto com essas partículas vieram se juntar restos de animais e plantas mortas.



Assim, sabemos que o solo é formado por pedaços de rochas, restos de plantas e animais mortos.

- **TIPOS DE SOLO**

Existem vários tipos de solo:

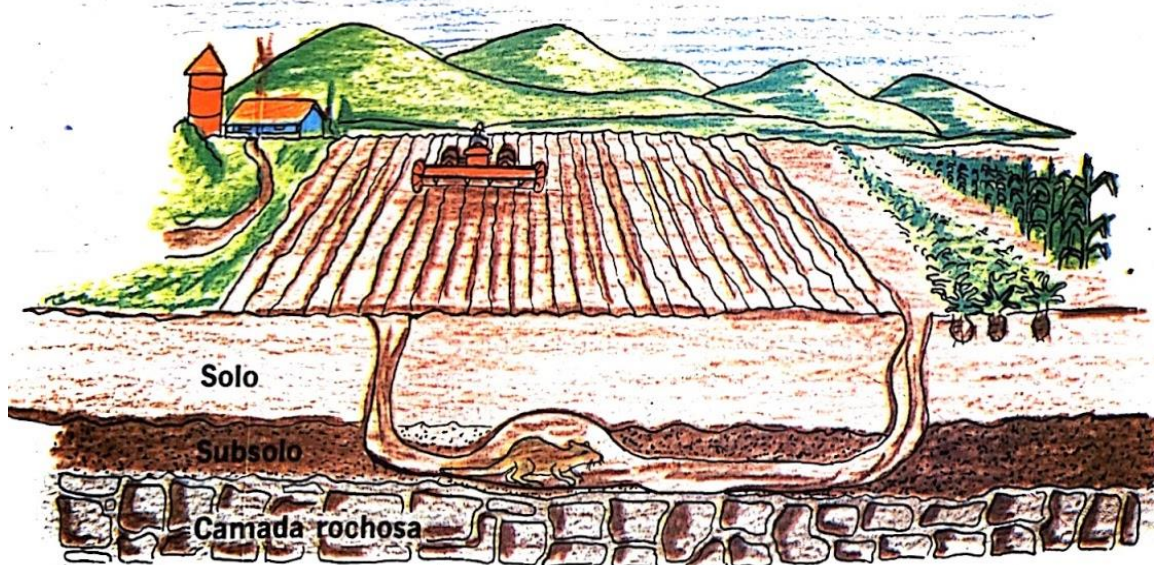
ARENOSO — é um solo que possui grande quantidade de areia. Absorve rapidamente a água da chuva, sendo, por isso, um **solo seco**.

ARGILOSO — é um solo que possui grande quantidade de argila (barro). Retém a água das chuvas, sendo, por isso, um **solo encharcado**.

CALCÁRIO — é um solo que possui carbonato de cálcio. O **massapé** é um tipo de solo calcário em que se planta cana-de-açúcar.

HUMÍFERO — é um solo rico em **húmus**. Húmus é a parte orgânica do solo, formada pelos restos de animais e plantas. Este é o melhor solo para plantações.

Abaixo do solo fica o subsolo, onde encontramos minérios e petróleo.



ATIVIDADES:

Tipos de solo

Numere a 2ª coluna de acordo com a 1ª.

- | | |
|---------------------|--|
| (1) Solo húmífero | () Deixa a água passar rapidamente. É seco e pode apresentar cores variadas. |
| (2) Solo argiloso | () Tem a cor escura resultante da decomposição dos restos de animais e vegetais mortos. É uma terra excelente para a agricultura. |
| (3) Solo calcário | () É um solo bastante encontrado no Brasil. É rico em cálcio. |
| (4) Solo arenoso | () É uma terra fofa, macia e rica em argila. |



E.M. "PADRE ELÍDIO MANTOVANI"
IBIÚNA, 23 DE SETEMBRO DE 2.021.
NOME: _____
PROFESSORA: MARIA CLAUDIA
HOJE É QUINTA-FEIRA

4º ANO A

- MATEMÁTICA: NÚMEROS

QUADRO POSICIONAL

Complete o quadro posicional com atenção.


	MILHARES			UNIDADES SIMPLES		
	CENTENAS DE MILHAR	DEZENAS DE MILHAR	UNIDADES DE MILHAR	CENTENAS	DEZENAS	UNIDADES
85						
6129						
20412						
724119						
707						
4584						
10000						



Você sabia que um cisne tem cerca de 25 mil penas no corpo?

História

► A expansão marítima e comercial da Europa



No século XV, as partes do mundo conhecidas pelos europeus eram: Europa, parte da Ásia e da África. O movimento de expansão marítima e comercial da Europa, também conhecido como *Grandes Navegações*.

- O comércio, nesta época, era entre os povos europeus e os países da Ásia, principalmente as Índias.
- Produtos mais procurados pelos europeus eram: cravo, canela, pimenta-do-reino, gengibre, noz-moscada (temperos), tapetes, perfumes, marfim, porcelanas e tecidos de seda.
- Os primeiros a praticarem esse comércio foram os mercadores das cidades de Gênova e Veneza.
- O caminho das Índias era difícil e os portugueses passaram a procurar outro caminho: através do mar.
- Surgiu, então, a escola de navegação "Escola Náutica de Sagres".
- As grandes invenções que vieram a facilitar as viagens foram: caravelas, bússola, pólvora, papel e imprensa.

As navegações portuguesas

❖ Numere de acordo:



Bartolomeu Dias



Vasco da Gama




Pedro Álvares Cabral

- Contornou o Cabo da Boa Esperança.
- Descobriu o caminho marítimo para as Índias.
- Avistou um monte que chamou de Pascoal.

E.M. "PADRE ELÍDIO MANTOVANI"
IBIÚNA, 24 DE SETEMBRO DE 2.021.
NOME: _____
PROFESSORA: MARIA CLAUDIA
HOJE É SEXTA-FEIRA

4º ANO A

- ARTE:



VIVA A PRIMAVERA!!!!!!

<http://iconesefiguras.blogspot.com/2012/09/desenhos-da-primavera-para-colorir.html>



O **verbo** é a classe de palavras que exprime **ação**, estado, mudança de estado, fenômeno da natureza.



Tempos verbais são os momentos em que a ação se passa.

PRESENTE: *Agora*, estudo na escola.

PASSADO: *Ontem*, estudei em casa.

FUTURO: *Amanhã*, estudarei no centro de estudo.



ATIVIDADE

Verbos no presente

1. Complete as frases com os verbos indicados no presente.

- a) Caroline _____ alto. (falar)
- b) Nós _____ estudiosos. (ser)
- c) Eu _____ todos os dias. (caminhar)
- d) As crianças _____ cedo. (dormir)

2. Complete as frases com o verbo **cantar** no presente.

- a) Ela _____ muito bem.
- b) Nós sempre _____ nas festas.
- c) Eles _____ na banda.
- d) Eu _____ no chuveiro.

3. Usando lápis de cor, circule de azul os verbos das frases.

- a) Comi salada no almoço.
- b) Todos os dias faço as tarefas de casa com capricho.
- c) A criança dorme no berço.
- d) A professora ensina a lição.
- e) O vaso caiu de minhas mãos e quebrou.
- f) Minha bola de futebol furou durante o jogo.

E.M. "PADRE ELÍDIO MANTOVANI"
IBIÚNA, 27 DE SETEMBRO DE 2.021.
NOME: _____
PROFESSORA: MARIA CLAUDIA
HOJE É SEGUNDA-FEIRA

4º ANO A

- LÍNGUA PORTUGUESA: ANÁLISE LINGUÍSTICA E GRAMATICAL

1. Escreva cada palavra de acordo com o tempo indicado:

choveu – acorda – voltarei – chegaram – irão – tenho – riu -
amo - tirarei – chamou – fez – sobrou – sentirei - escreveu
segura - dançarão – cantou – disseram – pegarão – acordará.

PRESENTE	PASSADO	FUTURO

2. Reescreva a frase, mudando o verbo para o tempo pedido:

a) A menina compra bala. (passado)

b) Eu pego o ônibus na praça. (futuro)

c) Ele fará o Para Casa a noite. (presente)

d) O cachorrinho late todas as noites. (passado)

Matemática - DE OLHO NO CENSO

- Observe o quadro de uma cidade fictícia e resolva as questões abaixo.

Dados do censo da população da cidade Onda Azul	
Faixa etária	Habitantes
Idosos	198
Adultos homens	530
Adultos mulheres	678
Jovens até 25 anos	959
Crianças até 12 anos	1.213



1 - De acordo com a pesquisa realizada pelo censo, qual é o número de habitantes da cidade Onda Azul?

2 - Quantos habitantes faltam Para atingir 5.000?

3 - Quantos homens têm a mais que mulheres?


4 - Quantos idosos há a menos que os adultos homens e mulheres juntos?

E.M. "PADRE ELÍDIO MANTOVANI"
IBIÚNA, 28 DE SETEMBRO DE 2.021.
NOME: _____
PROFESSORA: MARIA CLAUDIA
HOJE É TERÇA-FEIRA





4º ANO A



- LÍNGUA PORTUGUESA: TREINO DE LETRA CURSIVA



Pinte os espaços que têm pontinhos e descubra dois animais muito felizes.







Agora copie o poema, escrevendo os nomes das figuras.

  - g + m .

Milton Camargo

Resolva os problemas abaixo:

1. Alice convidou 98 crianças para sua festa de aniversário. 75 crianças confirmaram que poderão participar da festa. As restantes crianças disseram que não terão como participar.

Das crianças convidadas, quantas não participarão do aniversário de Alice?



Resposta:

Cálculo:

2. Para entrar em casa, João precisa subir 16 degraus. Da hora em que acorda até a hora de dormir, ele sobe esses degraus 3 vezes. Quantos degraus João sobe durante o dia?



Resposta:

Cálculo: