



PREFEITURA DA ESTÂNCIA TURÍSTICA DE
IBIÚNA
Por uma Ibiúna próspera. Investindo no presente, gerando o futuro.
SECRETARIA DE EDUCAÇÃO



E.M. MAFALDA DALPRA MATIUSSO


ALUNO (A):

PROFESSORA: MARGARETE DE SOUZA VIEIRA TURMA: 1º ANO A

APOSTILA DE ATIVIDADES Nº 11

Período: 20/09/2021 a 28/09/2021

Data da devolução: **29 e 30/09/2021**



LÍNGUA PORTUGUESA / MATEMÁTICA

20/09/2021 (SEGUNDA-FEIRA)

ESCOLA: _____

NOME: _____

PROFESSORA: _____ DATA: ____/____/____

LÍNGUA PORTUGUESA PRÁTICA DE LEITURA E ESCRITA

- ✚ PAPAI E/OU MAMÃE LEIA PARA SEU FILHO (A) PAUSADAMENTE UM TRECHO DO POEMA DE RUTH ROCHA



1) RESPONDA:

A) DE QUEM O TEXTO FALA?

B) ESCREVA A LETRA INICIAL DO NOME DESSE ANIMAL.

C) COMO ERA O MACACO?

2) VAMOS FORMAR AS SÍLABAS.

A _____
E _____
I _____
O _____
U _____
ÃO _____

3) PINTE OS DESENHOS QUE ESTÃO DENTRO DA MALA QUE COMEÇAM COM A LETRA M.



4) COMPLETE AS PALAVRINHAS COM OS PEDACINHOS QUE FALTAM MA – ME – MI – MO – MU. DEPOIS LEIA COM MUITA ATENÇÃO.

<p>___ LA</p> <p>___ TO</p> <p>___ LA</p>	<p>___ CO</p> <p>___ EDA</p> <p>___ CACO</p>
-------------------------------------------	----------------------------------------------

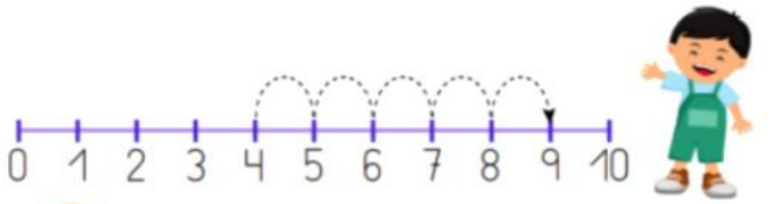
5) LEIA, COPIE E DESENHE:

MOLA	MAMÃO	MEIA	MALA	MÃO
_____	_____	_____	_____	_____

MATEMÁTICA

ADIÇÃO E SUBTRAÇÃO COM RETA NUMÉRICA

1) RESOLVA AS ADIÇÕES (JUNTAR) COM APOIO DA RETA NUMÉRICA.



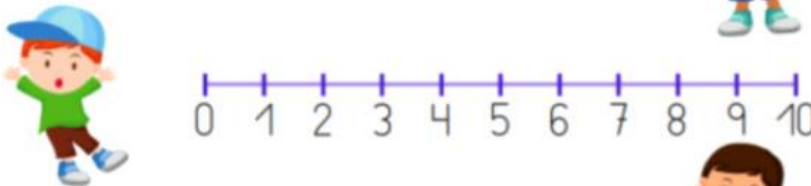
$4 + 5 = \square$



$3 + 4 = \square$



$6 + 2 = \square$



$2 + 3 = \square$

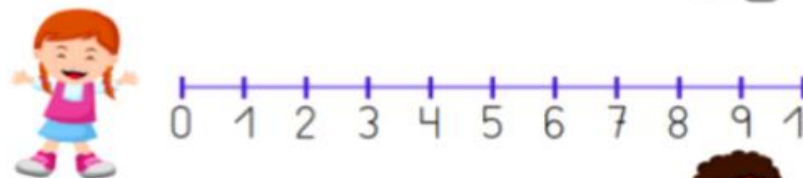


$7 + 1 = \square$

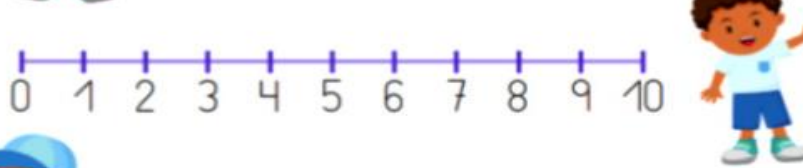
2) RESOLVA AS SUBTAÇÕES (TIRAR) COM APOIO DA RETA NUMÉRICA.



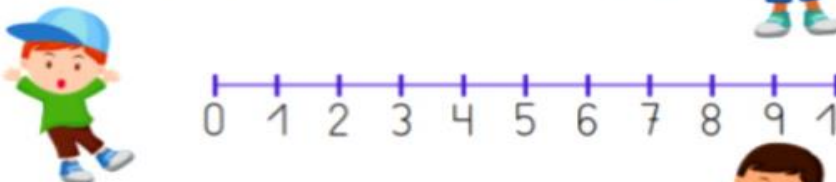
$9 - 5 = \square$



$6 - 1 = \square$



$10 - 3 = \square$



$8 - 2 = \square$



$7 - 4 = \square$

CIÊNCIAS/MATEMÁTICA

21/09/2021 (TERÇA-FEIRA)

ESCOLA: _____

NOME: _____

PROFESSORA: _____ DATA: ____/____/____

CIÊNCIAS

TEXTO INFORMATIVO



NO DIA 21 DE SETEMBRO COMEMORAMOS O DIA DA ÁRVORE.

AS ÁRVORES SÃO MUITO IMPORTANTE PARA A NOSSA VIDA; ELAS FORNECEM SOMBRA, FRUTAS, FLORES E AJUDAM A PURIFICAR O AR. ALÉM DISSO, ELA NOS FORNECE:

- FRUTOS QUE SERVEM DE ALIMENTOS;
- MADEIRA PARA CONSTRUÇÃO DE CASAS, FABRICAÇÃO DE MÓVEIS;
- CELULOSE PARA FABRICAÇÃO DE PAPEL;

NÓS DEVEMOS PROTEGER AS ÁRVORES. A DERRUBADA SEM CONTROLE JÁ FEZ DESAPARECER MUITAS FLORESTAS.


ENCONTRE NO CAÇA PALAVRAS

FRUTAS SOMBRA AR FLORES MADEIRA
FOLHAS SEMENTES VIDA FLORESTAS

A	B	S	E	M	E	N	T	E	S
C	F	L	O	R	E	S	T	A	S
S	D	M	A	D	E	I	R	A	O
A	E	F	R	U	T	A	S	F	M
H	G	H	I	J	K	L	M	N	B
L	O	P	V	I	D	A	Q	R	R
O	S	T	U	V	W	X	Z	Y	A
F	L	O	R	E	S	A	G	H	T

ÁRVORE DA ADIÇÃO

RECORTE AS MAÇAZINHAS E COLE-AS NO LUGAR CERTO



GEOGRAFIA/LÍNGUA PORTUGUESA/MATEMÁTICA

22/09/2021 (QUARTA-FEIRA)

ESCOLA: _____

NOME: _____

PROFESSORA: _____ DATA: ____/____/____

PRIMAVERA

A PRIMAVERA É UMA ESTAÇÃO MUITO ESPECIAL. É A ESTAÇÃO EM QUE AS FLORES SE ABREM E AS FOLHAS DAS ÁRVORES CRESCEM, OS PÁSSAROS FICAM MAIS CONTENTES E O SOL BRILHA MAIS COM A PRIMAVERA TUDO FICA MAIS BONITO. NESTE ANO A PRIMAVERA SE INICIA NO DIA **22 DE SETEMBRO**.

LEILÃO NO JARDIM

CECÍLIA NEIRELES



QUEM ME COMPRA
UM JARDIM COM FLORES?
BORBOLETAS DE MUITAS CORES.



LAVADEIRAS E PASSARINHOS,
OVOS VERDES E AZUIS NO NINHO?



QUEM ME COMPRA ESTE CARACOL?
QUEM ME COMPRA UM RAIOS DE SOL?



UM LAGARTO ENTRE O MURO E A HERA.

UMA ESTÁTUA DA PRIMAVERA?



QUEM ME COMPRA ESTE FORMIGUEIRO?



E ESTE SAPO QUE É JARDINEIRO?
E A CIGARRA E A SUA CANÇÃO?
E O GRILO DENTRO DO CHÃO?



(ESTE É O MEU LEILÃO)

OBSERVE OS DESENHOS, LEIA AS PALAVRAS. RECORTE E COLE NO LUGAR CORRETO:



CARACOL

BORBOLETA

GRILO

OVOS

LAGARTO

FLOR

MATEMÁTICA

OBSERVE AS GRAVURAS E FORME GRUPO DE CINCO.



QUANTOS GRUPOS DE CINCO VOCÊ FORMOU?

QUANTAS SOBRARAM?

QUANTAS LAVADEIRAS AO TODO?



QUANTOS GRUPOS DE 6 VOCÊ FORMOU?

QUANTAS SOBRARAM?

QUANTAS BORBOLETAS AO TODO?

✚ OBSERVE O CALENDÁRIO DO MÊS DE SETEMBRO E RESPONDA:



A) ESCREVA O NOME DO MÊS.

B) DIA 22 SERÁ EM QUAL DIA DA SEMANA?

C) QUANTOS DIAS TEM ESTE MÊS?

D) CIRCULE NO CALENDÁRIO DE VERMELHO O PRIMEIRO DIA DO MÊS E DE AZUL O ÚLTIMO DIA.

LÍNGUA PORTUGUESA/HISTÓRIA

23/09/2021 (QUINTA-FEIRA)

ESCOLA: _____

NOME: _____

PROFESSORA: _____ DATA: ____/____/____

ESTUDO DA LETRA M

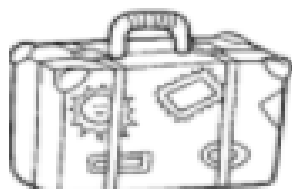
AGORA OBSERVE OS DESENHOS, PINTE AS SÍLABAS INICIAIS E COMPLETE.




MA	ME	MI	MO	MU
	NINO			




MA	ME	MI	MO	MU
	NHOCA			




MA	ME	MI	MO	MU
	LA			



MA	ME	MI	MO	MU
	TOCICLETA			



MA	ME	MI	MO	MU
	LHO			



MA	ME	MI	MO	MU
	RO			

A BOA CONVIVÊNCIA

PARA TER AMIGOS E CONVIVER BEM COM NOSSA FAMÍLIA E COM OS COLEGAS DA ESCOLA, PRECISAMOS ACEITAR E RESPEITAR AS PESSOAS COMO ELAS SÃO.

LEIA O POEMA COM O PROFESSOR E TROQUE IDEIAS COM SEUS COLEGAS.

DIVERSIDADE

UM É MAGRELO
OUTRO É GORDINHO
UM É CASTANHO
OUTRO É **RUVINHO**

[...]
DE PELE CLARA
DE PELE ESCURA
UM, FALA BRANDA
O OUTRO, DURA

OLHO REDONDO
OLHO PUXADO [...]
BEM DIFERENTE [...]
TODOS SÃO GENTE.

TATIANA BELINKY.
DIVERSIDADE. SÃO PAULO:
QUINTETO EDITORIAL, 1999.
P. 6, 22, 24, 32.



RUIVO:
QUE TEM CABELO AVERMELHADO.

RESPONDA COM A AJUDA DE UM FAMILIAR.

A) QUAIS AS DIFERENÇAS ENTRE AS PESSOAS DO POEMA?

1 ENCONTRE E CIRCULE NO DIAGRAMA AS PALAVRAS DESTACADAS ABAIXO.

RESPEITO

AJUDA

AMIZADE

TOLERÂNCIA

A	F	B	T	R	A	J	U	D	A	D	W	H	K
T	T	O	L	E	R	Â	N	C	I	A	O	J	C
K	M	H	F	G	S	V	A	M	I	Z	A	D	E
B	U	Q	C	L	K	I	C	A	M	R	J	M	D
C	N	B	R	E	S	P	E	I	T	O	X	Q	A
C	B	O	P	V	R	F	D	J	U	Q	T	R	I
S	T	Y	I	H	B	Z	A	T	C	V	M	P	B

2 APROVEITE AS LETRAS DA PALAVRA **IGUAIS** PARA ESCREVER OUTRAS PALAVRAS QUE MOSTREM RESPEITO AOS OUTROS. SIGA O EXEMPLO:

AJUDA

RESPEITO

AMOR

IGUALDADE

ACEITAÇÃO

P	A	C	I	Ê	N	C	I	A		
		G								
		U								
		A								
		S								

LÍNGUA PORTUGUESA / ARTE

24/09/2021 (SEXTA-FEIRA)

ESCOLA: _____

NOME: _____


PROFESSORA: _____ DATA: ____/____/____

LÍNGUA PORTUGUESA PRÁTICA DE LEITURA E ESCRITA


✚ PAPAI E/OU MAMÃE LEIA PARA SEU FILHO (A) PAUSADAMENTE A PARLENDA DE ISABEL CRISTINA S. S

MACACA MARIA

AMIGA DA SOFIA
COMIA BANANA
DE NOITE E DE DIA!
SALTAVA OS GALHOS
DE BARRIGA VAZIA
COLHIA AS FRUTAS
E PUNHA NA BACIA!
MACACA MARIA
AMIGA DA SOFIA
NA PANELA COZIA
AO MEIO-DIA!



1) ENCONTRE NO DIAGRAMA O NOME DOS DESENHOS:



MALA



MAPA



MACACA

MA	LA	DA	MI	LA	MA	ÇÃ
PO	E	TA	MI	NHO	CA	VA
LI	MA	PA	MAR	TE	LO	BO
PO	PA	LU	RA	MA	MÃO	LA
QUE	AS	NO	SA	PA	TI	NHO
U	VA	MA	CA	CA	A	PO



MAÇÃ

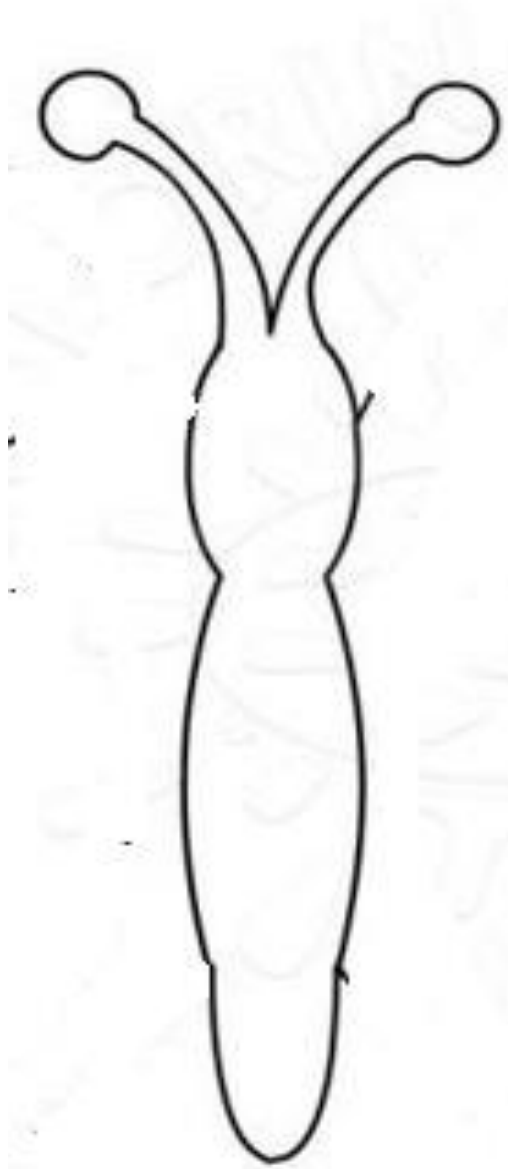


MAMÃO

ARTE

ARTE COM FOLHAS

ENCONTRE NA SUA CASA (OU PRÓXIMA DELA) FOLHAS VERDES OU SECAS DE TAMANHOS E FORMAS DIFERENTES, PARA A ELABORAÇÃO DA ATIVIDADE. COLE NO ESPAÇO ABAIXO E USE A CRIATIVIDADE! VEJAO EXEMPLO.



LÍNGUA PORTUGUESA / MATEMÁTICA

27/09/2021 (SEGUNDA-FEIRA)


ESCOLA: _____

NOME: _____



PROFESSORA: _____ DATA: ____/____/____

LEITURA E ESCRITA

1) OBSERVE O DESENHO E ESCREVA O NOME.



2) CIRCULE OS DESENHOS CUJOS NOMES COMEÇAM COMO **BANANA**.



MATEMÁTICA

DEZENA



VOCÊ SABE O QUE É DEZENA?



NÃO? MAS OH QUE PENA!

VOU TE ENSINAR AGORA

BATE PALMAS E ACENA!



CONTA UM,
CONTA DOIS,
CONTA TRÊS



QUATRO, CINCO, SEIS,
SETE, OITO, NOVE
CONTA DEZ DE UMA VEZ!



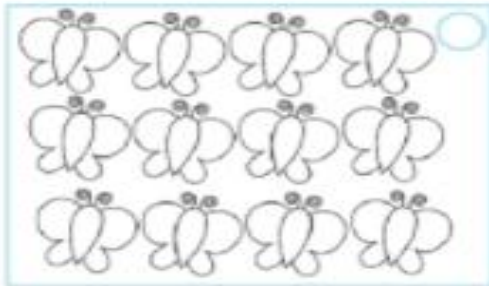
VOCÊ CONTOU DEZ
LIGA ESTA ANTENA
CADA 10 UNIDADES
VALE 1 DEZENA!




AGORA VOCÊ JÁ SABE. UMA DEZENA CORRESPONDE A DEZ UNIDADES.

ASSIM: **10 = 1 DEZENA**

- MARQUE APENAS O CONJUNTO QUE TÊM **1 DEZENA** DE ELEMENTOS.



- COMPLETE COM DESENHOS ATÉ CHEGAR A 1 DEZENA.



LÍNGUA PORTUGUESA /MATEMÁTICA

28/09/2021 (TERÇA-FEIRA)


ESCOLA: _____

NOME: _____

PROFESSORA: _____ DATA: ____/____/____

LÍNGUA PORTUGUESA

RECORTE E COLE A PARLENDAS EM ORDEM. O MATERIAL SE ENCONTRA NO FIM DA APOSTILA.



MATEMÁTICA

GRÁFICO E CÁLCULO MENTAL COM DINHEIRO

A) DESCUBRA E ESCREVA QUANTOS REAIS CADA CRIANÇA TEM.

PAULA



_____ REAIS.

IVO



_____ REAIS.

DORA




_____ REAIS.

ROBERTO



_____ REAIS.

B) AGORA, REGISTRE AS QUANTIAS NO GRÁFICO.
PINTE 1 QUADRINHO PARA CADA REAL.



 **FIGURAS PARA RECORTE** 

RECORTAR E COLAR NA ATIVIDADE DO DIA 28/09.


MACACA MARIA
AMIGA DA SOFIA
NA PANELA COZIA
AO MEIO DIA!



MACACA MARIA

ISABEL CRISTINA S. SOARES

SALTAVA OS GALHOS
DE BARRIGA VAZIA
COLHIA AS FRUTAS
E PUNHA NA BACIA!



MACACA MARIA
AMIGA DA SOFIA
COMIA BANANA
DE NOITE E DE DIA!



JOGO DA MEMÓRIA PRIMAVERA



BIBLIOGRAFIA

➤ LIVROS DIDÁTICOS:

CHARLIER, Anna Maria. SIMIELLI, Maria Elena. Ápis História, 1º ano: ensino fundamental, anos iniciais. 2ª ed. São Paulo: Ática, 2017.

DANTE. Luiz Roberto. Ápis Matemática, 1º ano: ensino fundamental, anos iniciais. 3ª ed. São Paulo: Ática, 2017.

NIGRO, Rogério G. Ápis Ciências, 1º ano: ensino fundamental, anos iniciais. 3ª. ed. São Paulo: Ática, 2017.

SIMIELLI, Maria Elena. Ápis Geografia, 1º ano: ensino fundamental, anos iniciais. 2ª. ed. São Paulo: Ática, 2017.

TRICONI, Ana. BERTIN, Terezinha. MARCHEZI, Vera. Ápis Língua Portuguesa, 1º ano: ensino fundamental, anos iniciais. 3ª ed. São Paulo. Ática, 2017.

➤ COLETÂNEAS DA INTERNET.

➤ SITES DE PESQUISA E FONTES DE IMAGENS:

- <http://blog.ideiasepalavras.com.br/>
- <https://misturadealegria.blogspot.com/>
- <https://profrafaelak.blogspot.com/>
- WWW.IDEIACRIATIVA.ORG

