

E.M. PROFESSORA MÁRCIA BELMIRO DO LAGO

NOME: _____

PROF^ª: LUCIANE APARECIDA DE ALMEIDA

4º ANO B

APOSTILA NÚMERO 11

Atividades referentes aos dias 20, 21, 22,
23, 24, 27 e 28 de setembro

**Atividades para entregar dias 29 e 30 de
setembro/2021**



ROTEIRO DE ATIVIDADES - Período – 20/09 a 28/09/2021

Material Adaptado

20/09 – Língua Portuguesa: Poema “O gato xadrez” / Palavras com a letra G. Matemática: Ordem crescente e decrescente.
21/09 – Língua Portuguesa: Cantiga “A Barata” – Atividades sobre a cantiga. Matemática: Sequência numérica / Sucessor e antecessor de números.
22/09 – Língua Portuguesa: Parlenda “A Festa do Tatu” – Atividades sobre a parlenda. Arte: Para Colorir: “Início da Primavera”.
23/09 – Língua Portuguesa: Poema “A Foca” / Palavras que rimam. Matemática: Escrita de números.
24/09 – Arte: Reprodução da obra “O Farol” de Anita Malfatti. Matemática: Resolução de situações-problema.
27/09 – Língua Portuguesa: Quadrinha e atividades sobre a quadrinha. Matemática: Gráfico / Tabela – Atividades sobre o gráfico.
28/09 – Língua Portuguesa: Cantiga “A canoa virou” – Atividades sobre a cantiga. Geografia: Pintura com legenda das regiões brasileiras.


PINTE NO TEXTO OS ESPAÇOS EM BRANCO QUE SEPARAM AS PALAVRAS:

O GATO XADREZ

ERA UMA VEZ
UM GATO XADREZ.
GOSTOSO
ERA O SEU PÊLO,
A MACIEZ.

SALTOU O MURO
E ESPANTOU
A GALINHA PEDRÊS.

NÃO ERA DE RAÇA,
NADA DE SIAMÊS.
ERA DA RUA, GATO LADINO,
PRIMO DO TIGRE,
DA ONÇA,
DA LIBERDADE
ERA FREGUÊS.



CIRCULE NO TEXTO AS PALAVRAS COM A LETRA **G** E COPIE-AS:

Empty rounded rectangular box for copying words.

OBSERVE OS NÚMEROS ABAIXO:

28 – 65 – 230 – 99 –

7 – 13 – 130 – 17 - 8

COPIE OS NUMERAIS NA ORDEM CRESCENTE.

COPIE OS NUMERAIS NA ORDEM DECRESCENTE.

QUAL O MAIOR NÚMERO DA SEQUÊNCIA?

ESCREVA POR EXTENSO O NOME DO MENOR NÚMERO DA SEQUÊNCIA.

A BARATA

1- LEIA E CANTE:



2- ONDE A BARATA ESTAVA?

3- PARA ONDE VOCÊ ACHA QUE A BARATA VOOU?

4- ESCREVA O NOME DA MÚSICA:

5- QUANTAS PALAVRAS TEM O TEXTO?

COMPLETE A SEQUÊNCIA DO QUADRO ABAIXO.

3		9		15		21	
	30		36		42		48
51		57		63		69	

ESCREVA O ANTECESSOR E O SUCESSOR DE CADA NUMERAL.

_____ **65** _____

_____ **32** _____

_____ **12** _____

_____ **41** _____

_____ **99** _____

_____ **78** _____

_____ **60** _____

_____ **17** _____

_____ **96** _____

_____ **2** _____

_____ **21** _____

_____ **43** _____

A FESTA DO TATU

LEIA A PARLENDAS:

JOÃO CORTA PÃO,
MARIA MEXE ANGU,
TEREZA PÕE A MESA,
PARA A FESTA DO TATU.

Parlenda de domínio público



1-PARA QUEM É A FESTA?

2-EM SUA OPINIÃO, POR QUE AS CRIANÇAS ESTÃO ORGANIZANDO A FESTA PARA O TATU?

3-COMPLETE DE ACORDO COM A PARLENDAS:

JOÃO CORTA _____

MARIA MEXE _____

TEREZA PÕE A _____


PARA A FESTA DO _____

4-QUANTAS PALAVRAS TEM A PARLENDAS?

ARTE

EM HOMENAGEM À PRIMAVERA FAÇA UM LINDO COLORIDO NO DESENHO
ABAIXO. PINTÉ COM CAPRICHÓ!

22 DE SETEMBRO – INÍCIO DA PRIMAVERA



LEIA O TEXTO ABAIXO, E CIRCULE DA MESMA COR AS PALAVRAS
QUE RIMAM ENTRE SI:

A FOCA

QUER VER A FOCA
FICAR FELIZ?
É PÔR UMA BOLA
NO SEU NARIZ.

QUER VER A FOCA
BATER PALMINHA?
É DAR A ELA
UMA SARDINHA.

QUER VER A FOCA
FAZER UMA BRIGA?
É ESPETAR ELA
BEM NA BARRIGA!



ESCREVA POR EXTENSO.

45

100

37



210

16

81


ARTE

OBSERVE A OBRA "O FAROL" DE ANITA MALFATTI E FAÇA A REPRODUÇÃO DA OBRA DA FORMA QUE CONSEGUIR, DESENHANDO-A NO ESPAÇO ABAIXO.




RESOLVA OS PROBLEMAS.

FUI À FEIRA E COMPREI VÁRIAS FRUTAS. 12 BANANAS, 15 LARANJAS E 1 MELANCIA. QUANTAS FRUTAS COMPREI?




MARIA ADORA BOMBONS. ELA COMPROU 3 DE COCO, 10 DE CHOCOLATE E 6 DE DOCE DE LEITE. QUANTOS BOMBONS ELA COMPROU?



LEIA O TEXTO ABAIXO COM ATENÇÃO E RESPONDA:

GALINHA CHOCA
COMEU MINHOCA
SAIU PULANDO
FEITO PIPOCA

(FOLCLORE.)



1- CIRCULE NO TEXTO AS DUAS PALAVRAS QUE **RIMAM ENTRE SI**:

2- O QUE A GALINHA COMEU?

3- MARQUE AS PALAVRAS QUE **RIMAM COM PIPOCA**:

() FOCA () BOLO () GALINHA

() TOCA () MACACO () PAÇOCA

4- ESCREVA OUTRA PALAVRA QUE **RIMA** COM PIPOCA:

MATEMÁTICA
GRÁFICOS E TABELAS

Gráfico de barras

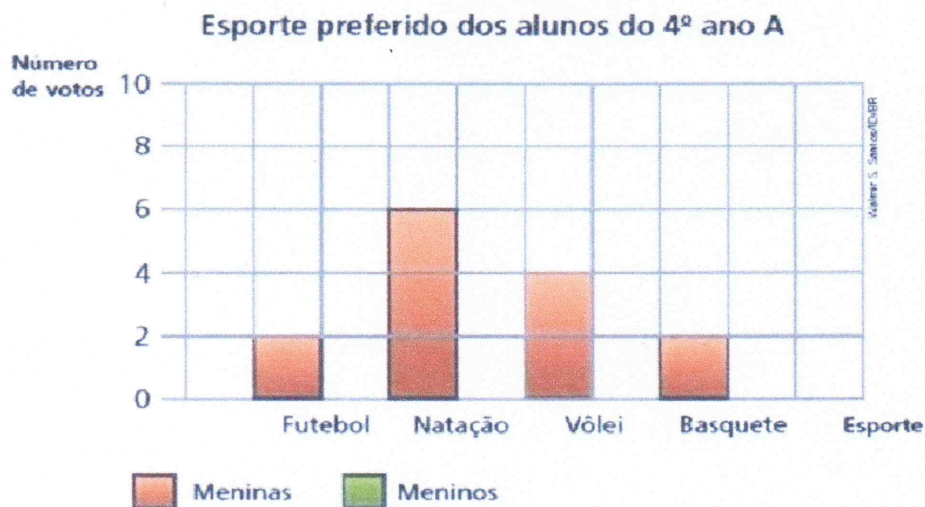
1. A professora Renata fez uma pesquisa com os alunos do 4º ano A para descobrir qual é o esporte preferido das meninas e o dos meninos. Veja o registro dos votos que ela fez na tabela a seguir.

Esporte preferido dos alunos do 4º ano A

	Futebol	Natação	Vôlei	Basquete
Meninas	2	6	4	2
Meninos	8	4	2	4

Dados obtidos pela professora Renata.

De acordo com o registro que a professora Renata fez na tabela, complete o gráfico abaixo. Atenção para a legenda.




Dados obtidos pela professora Renata.

- Agora, responda às questões:
 - Quantos alunos participaram dessa pesquisa? _____
 - Basquete é o esporte preferido das meninas ou dos meninos? _____
 - Quais são os esportes mais votados pelas meninas? _____

A CANOA VIROU

VAMOS CANTAR?

A CANOA VIROU,
POIS A DEIXARAM VIRAR.
FOI POR CAUSA DA FERNANDA
QUE NÃO SOUBE REMAR.
SE EU FOSSE UM PEIXINHO
E SOUBESSE NADAR,
EU TIRAVA A FERNANDA
DO FUNDO DO MAR.



1) ESCREVA O NOME DA MENINA DA CANTIGA:

2) QUANTAS PALAVRAS TEM NO TÍTULO?

3) PINTE NA CANTIGA, O NOME FERNANDA, TODA VEZ QUE ELE APARECER:

4) MARQUE COM UM X A PRIMEIRA PALAVRA DA CANTIGA:

5) ESCREVA A ÚLTIMA PALAVRA DA CANTIGA:

6) ESCREVA O SEU NOME:

GEOGRAFIA

OBSERVE O MAPA DO BRASIL E PINTE AS REGIÕES BRASILEIRAS COM AS CORES QUE PREFERIR. NÃO SE ESQUEÇA DE PINTAR A LEGENDA DE CADA REGIÃO COM A MESMA COR UTILIZADA PARA PINTAR O MAPA.



LEGENDA

REGIÃO NORTE

REGIÃO SUL

REGIÃO NORDESTE

REGIÃO CENTRO-OESTE

REGIÃO SUDESTE

REFERÊNCIAS BIBLIOGRÁFICAS

Blog Educação e Transformação

Blog Conhecimento e Transformação

Blog Cantinho da Criatividade

<https://www.todamateria.com.br/estacoes-do-ano-kids/>

<https://br.pinterest.com/pin/706431891556003134/>

<https://br.pinterest.com/pin/431923420495872100/>

<https://www.historiadasartes.com/sala-dos-professores/interpretacao-da-obra-o-farol-de-anita-malfatti/>

<https://www.educacaoetransformacao.com.br/atividades-de-matematica-2-ano/atividades-de-matematica-2-ano-grafico-de-barras/>