

E.M "RAIMUNDO VIEIRA BASTOS"

NOME: _____ **3º ANO**

PROFESSORA ELENICE DE BORBA DOS SANTOS
APOSTILA 10 PERÍODO DE 20/09 À 29 /09
Data de devolução 29.09.2021



WWW.PINTEREST.COM.BR

Oriento que a família crie um momento diário, estabelecendo assim uma rotina, que ajudará em todo o processo e contribuirá para uma aprendizagem mais significativa. As atividades devem ser feitas diariamente, exceto aos sábados, domingos e feriados.

Desejo que todos fiquem bem, tomando todas as medidas de cuidado e preservação da vida.

Qualquer dúvida estarei à disposição no WhatsApp (15)99662-2634

1- OBSERVE O CALENDÁRIO DO MÊS DE SETEMBRO E RESPONDA:

SETEMBRO



DOMINGO	SEGUNDA- FEIRA	TERÇA- FEIRA	QUARTA- FEIRA	QUINTA- FEIRA	SEXTA- FEIRA	SABADO
			1	2	3	4
5	6	7	8	9	10	11
12	13	14	15	16	17	18
19	20	21	22	23	24	25
26	27	28	29	30		

a) - QUANTOS DIAS TEM ESTE MÊS?

b) QUAL DIA DA SEMANA O MÊS DE SETEMBRO INICIA?

b) QUAL DIA DA SEMANA O MÊS DE SETEMBRO TERMINA?

b) ESTE MÊS TEM QUANTOS DOMINGOS?

2- PINTA DE AZUL NO CALENDÁRIO O DIA EM QUE A PRIMAVERA TEM INÍCIO.

3- INVESTIGUE E DESCUBRA SE ALGUM COLEGA DE SUA SALA FAZ ANIVERSÁRIO NO MÊS DE SETEMBRO. SE A RESPOSTA FOR SIM, ESCREVA O NOME ABAIXO.



Chambolino

Nome:

O MENINO E A ÁRVORE

ERA UMA VEZ UMA ÁRVORE
QUE AMAVA UM MENINO.
E TODOS OS DIAS
O MENINO
VINHA,
JUNTAVA
SUAS
FOLHAS
E COM ELAS FAZIA
COROAS DE REI;
COM ELAS BRINCAVA
DE REI DA FLORESTA.
SUBIA EM SEU GROSSO TRONCO,
BALANÇAVA-SE EM SEUS GALHOS,
COMIA SUAS MAÇÃS.
E BRINCAVAM
DE ESCONDER.
QUANDO FICAVA CANSADO,
O MENINO REPOUSAVA
À SUA SOMBRA FRESQUINHA.
O MENINO AMAVA A ÁRVORE
PROFUNDAMENTE.
E A ÁRVORE ERA FELIZ.



S. Silverstein - tradução de Fernando Sabino

De Olho No Texto




1. Responda de acordo com o texto:

a. Qual o título do texto? _____

b. Qual o assunto? _____

c. O que o menino costumava fazer todos os dias? _____

21 DE SETEMBRO DIA DA ÁRVORE



PRIMAVERA



A PRIMAVERA É UMA DAS QUATRO ESTAÇÕES DO ANO. ELA OCORRE APÓS O INVERNO E ANTES DO VERÃO. ELA TEM INÍCIO NO DIA 22 DE SETEMBRO E TERMINA NO DIA 21 DE DEZEMBRO.

É UMA ÉPOCA QUE OCORRE O FLORESCIMENTO DE VÁRIAS ESPÉCIES DE PLANTAS. PORTANTO, É UM PERÍODO EM QUE A NATUREZA FICA BELA, PRESENTEANDO O SER HUMANO COM FLORES COLORIDAS E PERFUMADAS.

DURANTE ESTA ESTAÇÃO, A TEMPERATURA VAI AOS POUCOS AUMENTANDO.

ENTRE AS FLORES QUE MAIS SE DESTACAM NA PRIMAVERA, ESTÃO O GIRASSOL, A ROSA, A ORQUÍDEA, A GÉRBERA E A VIOLETA.

VAMOS CURTIR A BELEZA PRIMAVERA!

LEITURA

A primavera voltou

Venham ver!
Venham ver durante a noite
as coisas que aconteceram!
Nos ramos daquela árvore
folhinhas novas nasceram;
no carvalho, os passarinhos
já construíram o ninho;
o salgueiro ao pé do rio
de mil botões se enfeitou.
Veio o Sol. Fugiu o frio.
A primavera voltou.

Maria Isabel Mendonça Soares (adaptado)



Interpretação:

De que estação do ano fala o texto?

Como é o tempo nesta estação?

Onde é que os passarinhos construíram os ninhos?

Gosta da primavera? Porquê?


CAÇA-FLOR

FLOR	AFLITO	FLÚOR	AFLIÇÃO
	FLUTUAR	INFLAMAR	

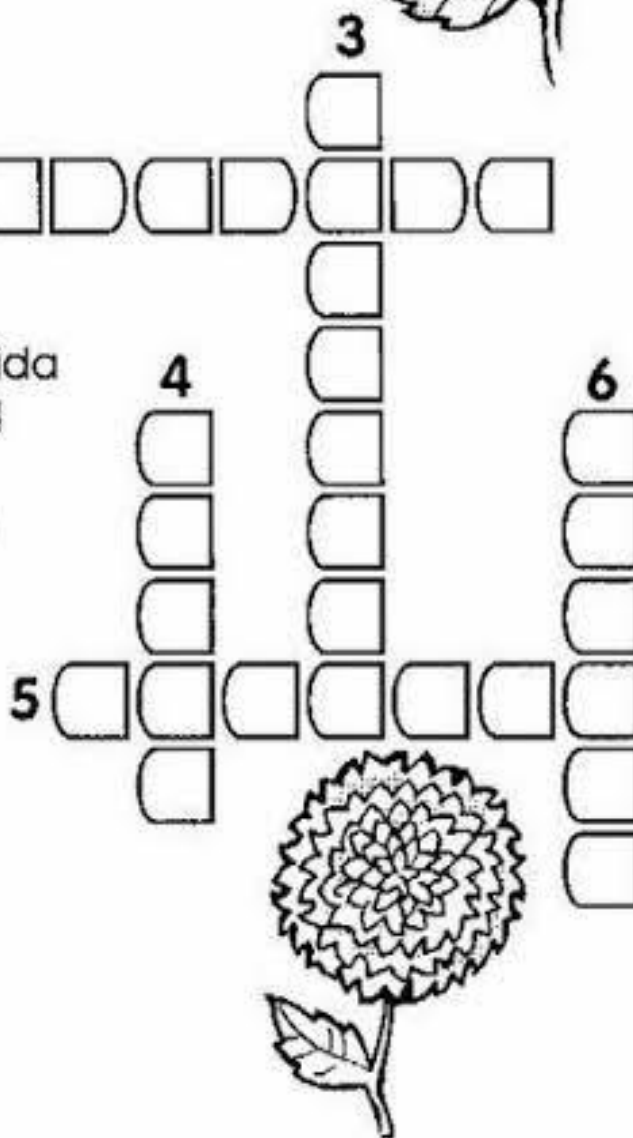

The word search grid is as follows:

S	T	Z	B	C	D	R	H								
V	I	J	A	N	I	P	Q	S	T	V	V				
F	G	N	Z	F	B	C	N	D	F	G	H	J	L	M	
Z	F	N	L	P	Q	F	R	S	T	F	V	F			
L	B	I	C	D	L	F	G	H	L	J	L	P			
G	R	A	N	T					T	O	V	Ú	Q	S	
H	P	M	B	O						R	J	O	V	T	
J	F	A	N							V	F	R	S		
S	R	G								Q	L	R			
Q	S	T								N	U	P	T	Q	
L	G	Q	R	S						D	T	F	V	G	
P	M	G	A	F	L					H	J	U	L	X	M
Q	S	M	A	F	L	I	Ç	Ã	O	X	Z	A	R	Z	
S	T	V	X	Z	B	C	D	F	G	R	H				
L	J	Z	M	N	I	P	Q	R	S	T	V	X	Z		
N	Z	F	B		N	D	F	G		J	L	T	V		
F	N	L	P		F	R	S	T		V	F	R			

CRUZA-FLORES



- 1- Rosa
- 2- Margarida
- 3- Girassol
- 4- Dália
- 5- Violeta
- 6- Cravo



SUCCESSOR E ANTECESSOR

Exercícios:

1) Qual o número sucessor de 15?

2) Qual o número antecessor de 15?

3) Qual o número sucessor de 40?

4) Qual o número antecessor de 40?

5) Qual o número sucessor de 68?

6) Qual o número antecessor de 68?



Prefeitura da Estância Turística de

IBIÚNA



ROTEIRO DE ESTUDO

3º ANO

PROFESSORA: ELENICE DE BORBA DOS SANTOS

ATIVIDADES

LIVRO MATEMÁTICA

LIVRO CURRÍCULO EM AÇÃO 3º ANO EMAI

20/09/2021

PÁGINAS: 128 E 129 (QUADRO NUMÉRICO MAIOR /MENOR)

22/09/2021

PÁGINA: 134 (POSSIBILIDADES)

23/09/2021

PÁGINA: 135 (POSSIBILIDADES)

LIVRO DE HISTÓRIA

LIVRO ÁPIS

21/09/2021

PÁGINAS: 128 E 129 (FORMAS DE LAZER)

24/09/2021

PÁGINA: 130 (FORMA DE LAZER EM SUA CIDADE)

28/09/2021

PÁGINAS: 131 E 135 (FORMA DE LAZER)