

E.M. “Alexandre Vannuchi Leme”

Nome: _____

2º termo A EJA

Professora: Milena

Caderno de Atividades Nº 11

Apostila referente aos dias 20,21,22,23,24,27 e 28/09

Data de entrega: 20/09

Data de devolução: 20/09



Leia:

ANIMAL NÃO É BRINQUEDO SENTE FOME, FRIO E MEDO.

Por isso, não pode ser descartado e deixado à própria sorte nas ruas.

Quando você leva um animal para sua casa, a responsabilidade pela vida - e a qualidade de vida - dele É SUA!

POSSE RESPONSÁVEL:
maltratar ou abandonar animais é CRIME previsto em lei.



Ao passear com seu cão pelas calçadas, leve sempre no bolso saquinhos plásticos para recolher a sujeira. Aproveite os saquinhos de supermercado!

Questão 1 – A campanha publicitária acima tem por objetivo:

Questão 2 – As orações "ANIMAL NÃO É BRINQUEDO" e "SENTE FOME, FRIO E MEDO" poderiam ser integradas, por meio do seguinte conectivo:

- a) portanto
- b) e
- c) aliás
- d) pois

Agora, identifique a ideia expressa pelo conectivo selecionado: _____

Questão 3 – O fragmento "POSSE RESPONSÁVEL: maltratar ou abandonar animais é CRIME previsto em lei." funciona como:

- a) uma advertência
- b) um conselho
- c) um convite
- d) uma sugestão

75 48 30 87 33 45 27 72
21 57 24 51 23 11 8

RESPONDA AS QUESTÕES ABAIXO ESCRIVENDO OS NÚMEROS DE SUA VIDA:

A) IDADE = _____

B) DATA DE NASCIMENTO = _____

C) NÚMERO DO ENDEREÇO = _____

D) QUANTIDADE DE FILHOS = _____

E) QUANTOS LOCAIS QUE VOCÊ TRABALHOU = _____

F) TELEFONE = _____

G) NÚMERO DO ÔNIBUS QUE VOCÊ UTILIZA = _____

H) QUANTIDADE DE IRMÃOS = _____

I) SEU PESO = _____

J) PESSOAS QUE MORAM EM SUA CASA = _____

75 48 30 87 33 45 27 72
21 57 24 51 23 11 8

Agora, pegue um calendário e vamos estudar o que ele representa ...
Pesquise ou peça ajuda se for preciso

É COM VOCÊ!

① Observe no calendário o mês no qual você comemora o seu aniversário e depois responda:

- a) Quantos dias tem esse mês? _____
- b) E quantas semanas? _____
- c) Todos os meses têm a mesma quantidade de dias? _____
- d) No mês do seu aniversário há feriado(s)? Quais os dias?

② O que cada uma das letras no calendário representa? Escreva abaixo.

D	_____	Q	_____
S	_____	S	_____
T	_____	S	_____
Q	_____		

③ Qual é o primeiro dia da semana? _____


④ E o último dia? _____

⑤ Quantos dias tem uma semana? _____

⑥ Em quais dias da semana você não trabalha?

⑦ Complete:

- a) 1 ano tem _____ dias.
- b) 1 semana tem _____ dias.
- c) 1 quinzena tem _____ dias.
- d) O ano bissexto tem _____ dias.



COMPLETE AS FRASES



• EU ESCOVI OS DENTES COM _____



• TODOS OS DIAS TOMO _____



• PAPAI LAVA A LOUÇA COM _____

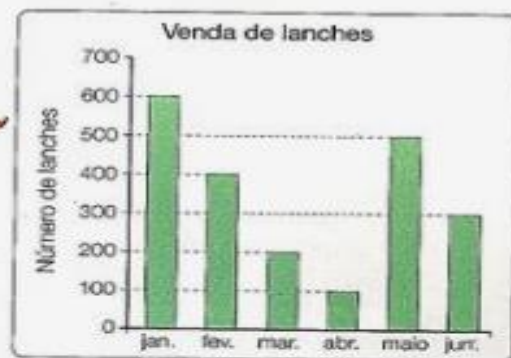


• A PROFESSORA TOMA BANHO COM _____



• ONTEM COMI PÃO COM _____

1º) Observe o gráfico e responda:



a) Quantos lanches foram vendidos nos seguintes meses?

Janeiro _____ Abril _____

Fevereiro _____ Maio _____

Março _____ Junho _____

b) Em qual mês foi vendido mais lanche?

c) Em qual mês foi vendido menos lanche?

Atividade de Matemática

1. João estava com um problema de saúde e o médico lhe receitou o remédio ao lado.

- a) Quantos comprimidos contém essa caixa de remédio?
- b) Sabendo que João tomou 3 comprimidos por dia durante uma semana.
- ✓ Quantos comprimidos tomou durante o tratamento?



- ✓ Sobraram ou faltaram comprimidos? Quantos?

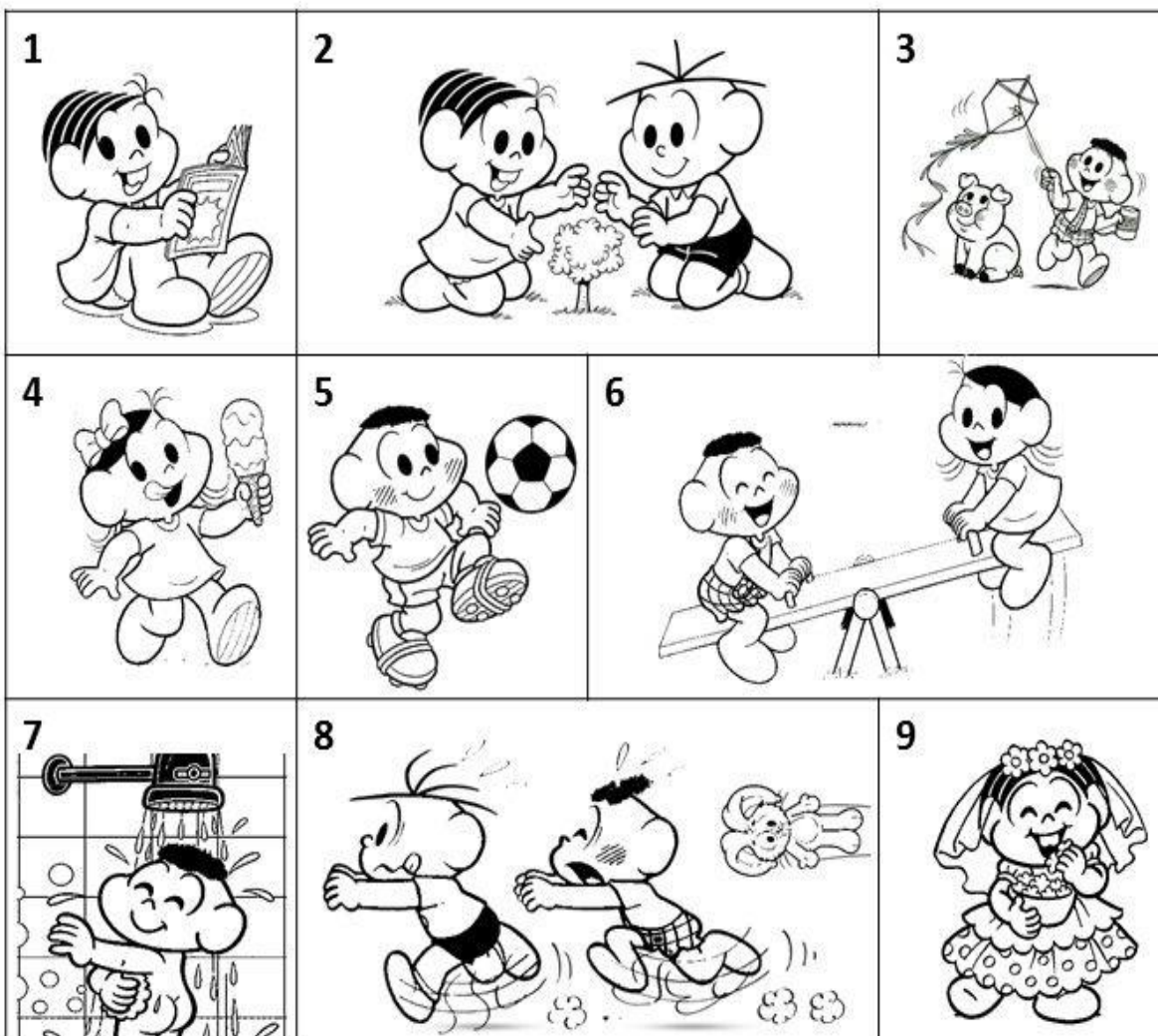
2. Observe os preços destes materiais e resolva as situações problema:

PAPELARIA	
REVISTA	R\$ 6,50
TABUADA	R\$ 3,80
CADERNO DE DESENHO	R\$ 15,00
LÁPIS DE COR	R\$ 9,70
APONTADOR	R\$ 2,50
MOCHILA	R\$ 55,00
CANETA	R\$ 1,50
CADERNO 15 MATÉRIA	R\$ 11,50

- Calcule quanto dona Rosa gastou comprando as quantidades abaixo:

a) Duas revistas, um caderno de desenho e uma caixa de lápis.	b) Uma mochila, duas tabuadas, um apontador, duas canetas e um caderno de 15 matérias.	c) Uma revista, uma tabuada, um caderno de desenho, uma mochila e uma caneta.
---	--	---

Relacione uma frase para cada imagem:



() O CASCÃO E A MAGALI ESTÃO BRINCANDO NA GANGORRA.

() A MÔNICA E O CEBOLINHA PLANTARAM UMA ÁRVORE.

() QUE SURPRESA! O CASCÃO TOMOU BANHO HOJE.

() A MAGALI COMPROU UM SORVETE ENORME.

() CASCÃO ADORA SOLTAR PIPA.

() A MÔNICA FOI A NOIVA DA FESTA JUNINA.

() O CEBOLINHA E O CASCÃO CORRERAM DA MÔNICA.

() A MÔNICA LÊ REVISTINHA TODOS OS DIAS.

() O CASCÃO É UM ÓTIMO JOGADOR DE FUTEBOL.

OBSERVE OS PREÇOS DOS PRODUTOS E RESPONDA:



R\$ 6,50



R\$ 7,50



R\$ 1,10



R\$ 2,50

1 – QUAL DOS PRODUTOS É O MAIS CARO ? _____

2 – QUAL DELES É O MAIS BARATO ? _____

3 – COM R\$ 5,00 EU COMPRO QUANTOS PACOTES DE SABÃO EM PEDRA ?

4 – QUAIS PRODUTOS CUSTAM MAIS DO QUE R\$ 5,00 ?

5 – PARA QUE SERVE O PRODUTO QUE CUSTA R\$ 1,10 ?

6 – PARA QUE SERVE O PRODUTO QUE CUSTA R\$ 6,50 ?

7 – ASSINALE A RESPOSTA CORRETA: OS PRODUTOS ACIMA SÃO:

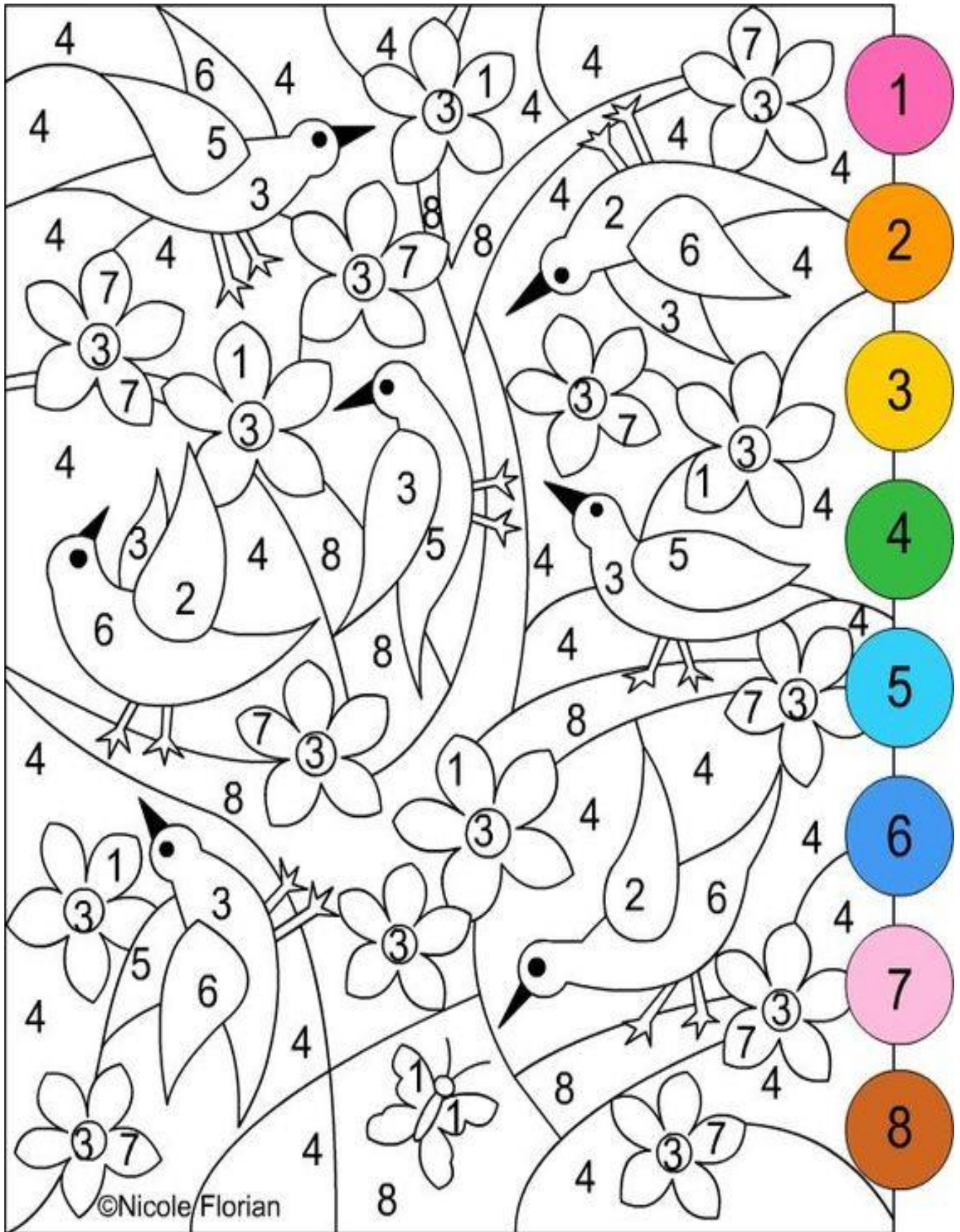
PRODUTOS DE LIMPEZA

PRODUTOS ALIMENTÍCIOS

8 – COM R\$ 10,00 EU POSSO COMPRAR QUAIS DESTES PRODUTOS ?

9 – QUAIS PRODUTOS DE LIMPEZA QUE VOCÊ USA QUE NÃO ESTÃO NESTA FOLHA?

Artes



REFERÊNCIAS BIBLIOGRÁFICAS

https://mungfali.com/page/EBF7BC19761EAAB14261035A8779E5917ADDE524/02-astros-o-brilho-no-c%C3%A9u_%7C_atividades_de_ci%C3%A2ncia_

<http://jezaine-teodoro.blogspot.com/2012/09/texto-e-compreensao-da-primavera-06.html>

<https://educacaoetransformacaooficial.blogspot.com/2021/02/apostila-ciencias.html>

<https://br.pinterest.com/pin/539939442805587156/>

<https://br.pinterest.com/pin/431923420496160332/>

<https://br.pinterest.com/pin/690739661572940415/>

<https://www.smartkids.com.br/colorir/desenho-turma-smartkids-turma>

<https://brasilecola.uol.com.br/brasil/os-climas-brasil.htm>