

E. M. "ALEXANDRE VANNUCHI LEME "

11º APOSTILA

REFERENTES AOS DIAS : 20 / 9 A 28 / 9

PRIMAVERA - ESTAÇÃO DAS FLORES



PROFESSORA : PATRÍCIA ELAINE

2º ANO B

DEVOLVER DIAS : 29 E 30 / 9

NOME DO ALUNO(A) :

OLÁ MEUS AMORES !

ESPERO QUE TODOS ESTEJAM BEM !

**ESTA APOSTILA É REFERENTE AOS DIAS : 20 ,21 ,22 ,23 ,24 ,27 E 28 / 9
DEVERÁ SER ENTREGUE NOS DIAS 29 E 30 / 9.**

**A APOSTILA IRÁ ATIVIDADES INTERDISCIPLINARES , ESPERO QUE RESOLVAM
DEVAGAR .**

**TUDO DIA , TIRE UM TEMPINHO PARA FAZER SUAS ATIVIDADES . NÃO FAÇA
CORRENDO .**

**AS QUESTÕES QUE NÃO CONSEGUIREM RESOLVER , ANOTEM EM UMA FOLHA O
QUE NÃO ENTENDEREM , PROCURAREI RESPONDER SUAS DÚVIDAS OU PODERÁ
MANDAR UM WHATSAAP, ESTAREI SEMPRE A DISPOSIÇÃO .**

**PINTE OS DESENHOS BEM BONITOS , SEMPRE COLOCAR NOME COMPLETO , AS
ATIVIDADES QUE NÃO TIVEREM DATA MARCADA, PEDIR PARA A CRIANÇA
COLOCAR . PINTAR O CALENDÁRIO NOS DIAS CORRESPONDENTES .**

AOS PAIS E RESPONSÁVEIS , QUERO AGRADECER MUITO PELA AJUDA .

DEUS ABENÇOE MUITO VOCÊS.

BEIJOS

PROFESSORA : PATRÍCIA ELAINE

NOME: _____

DIA: ____ / ____ / ____ ANO: _____

21 DE SETEMBRO - DIA DA ÁRVORE



A ÁRVORE

"CRIANÇA, A ÁRVORE MERECE
A NOSSA ESTIMA SINCERA
DÁ FRUTOS DOCES NO OUTONO
E FLORES NA PRIMAVERA.

NUNCA MALTRATES UMA ÁRVORE
A QUEM TUDO NÓS DEVEMOS
DESDE A MADEIRA DA PORTA
AO LÁPIS COM QUE ESCRREVEMOS.

RAUL AROEIRA SERRADO

1) QUAL É O TÍTULO DO POEMA?





2) RETIRE DO POEMA AS DUAS ESTAÇÕES DO ANO:

3) EM QUAL ESTAÇÃO DO ANO QUE DÁ FRUTOS?

4) QUAL É A ESTAÇÃO DO ANO QUE DÁ FLORES?

NOME: _____

QUANTO FALTA PARA CHEGAR A 10?

					$\begin{array}{r} 1 \\ + \square \\ \hline 10 \end{array}$
					$\begin{array}{r} 5 \\ + \square \\ \hline 10 \end{array}$
					$\begin{array}{r} 3 \\ + \square \\ \hline 10 \end{array}$
					$\begin{array}{r} 7 \\ + \square \\ \hline 10 \end{array}$


Aluno:

Data: 21 / 9 / 2021

ENSINOJA.COM

Dia da Árvore - 21 de setembro

COLOCAR O NOME NAS PARTES DAS PLANTAS ,SEGUINDO TABELA ABAIXO :



TABELA

FOLHAS	RAIZ	CAULE
FRUTO	FLOR	

Escola:

Data: Turma: **ENSINOJA**

Aluno:

TERMOS FALTOSOS

① Complete os fatos com os termos que faltam.

$\square + 7 = 9$	$4 + \square = 8$
$7 - \square = 3$	$\square - 7 = 2$
$6 - 4 = \square$	$9 - 2 = \square$
$\square + 3 = 8$	$2 + \square = 7$
$5 + 4 = \square$	$3 - \square = 3$
$\square - 2 = 6$	$\square - 8 = 0$
$\square + 3 = 9$	$7 - 5 = \square$
$\square - 2 = 7$	$9 - 3 = \square$



NOME: _____

DATA: ____/____/____



21 DE SETEMBRO – DIA DA ÁRVORE



CHICO BENTO GOSTA MUITO DE COMER GOIABA, AINDA MAIS QUANDO PEGA FRESQUINHA DO PÉ. ESCREVA QUAL É O NOME DO PÉ DE GOIABA.



CONTE QUANTAS GOIABAS HÁ NA ÁRVORE.

ENUMERE A SEQUÊNCIA DA HISTÓRIA DE ACORDO COM OS ACONTECIMENTOS



DESCUBRA OS NOMES DAS FRUTAS DAS RESPECTIVAS PLANTAS E PROCURE NO CAÇA PALAVRAS.

PLANTA	FRUTA
BANANEIRA	
GOIABEIRA	
LARANJEIRA	
MACIEIRA	
MAMOEIRO	
ABACATEIRO	
LIMOEIRO	
TOMATEIRO	
CAJUEIRO	
UMBUZEIRO	
MANGUEIRA	
PEREIRA	
AMOREIRA	
PITANGUEIRA	
FIGUEIRA	
MEXERIQUEIRA	
AÇAIZEIRO	
SAPOTIZEIRO	
COQUEIRO	
PARREIRA	
INGAZEIRO	
JAMBUZEIRO	
JABUTICABEIRA	



B	P	R	M	S	T	O	M	A	T	E	H	P	L
A	V	N	A	S	F	G	H	A	Ç	A	Í	I	A
N	A	A	N	A	G	O	I	A	B	A	F	T	R
A	M	B	G	P	W	E	T	Y	U	I	G	A	A
N	O	A	A	O	F	G	V	H	Y	J	H	N	N
A	R	C	F	T	G	C	G	H	D	V	J	G	J
F	A	A	R	I	M	A	M	Ã	O	A	K	A	A
G	J	T	H	K	Y	J	D	G	T	H	L	F	S
H	P	E	R	A	G	U	G	A	L	I	M	Ã	O
U	M	B	U	K	M	E	X	E	R	I	C	A	A
D	W	R	F	B	M	A	Ç	Ã		F	I	G	O
Z	X	C	V	B	N	N	J	A	M	B	O	H	I
U	G	T	C	O	Q	U	E	I	R	O	L	T	N
V	F	J	A	B	U	T	I	C	A	B	A	T	G
A	G	H	J	K	L	L	Ç	A	M	Ç	U	G	Á

PINTAR , RECORTAR NOS PONTILHADOS , DOBRAR SANFONADA A TIRA DOS DESENHOS E COLAR . IREI COLOCAR NO GRUPO COMO IRA FICAR .

<http://pedagogaingrid.com>

O QUE UMA ÁRVORE PRECISA?



PEDAGOGA INGRID MORAES

DIA DA ÁRVORE

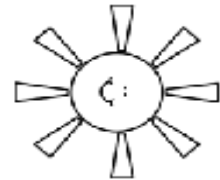


21 DE SETEMBRO



UMA ÁRVORE
PRECISA DE...

LUZ DO SOL



ÁGUA



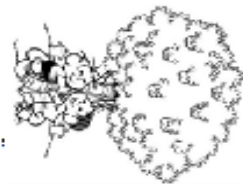
AR



SOLO



PROTEÇÃO



PEDAGOGA INGRID MORAES

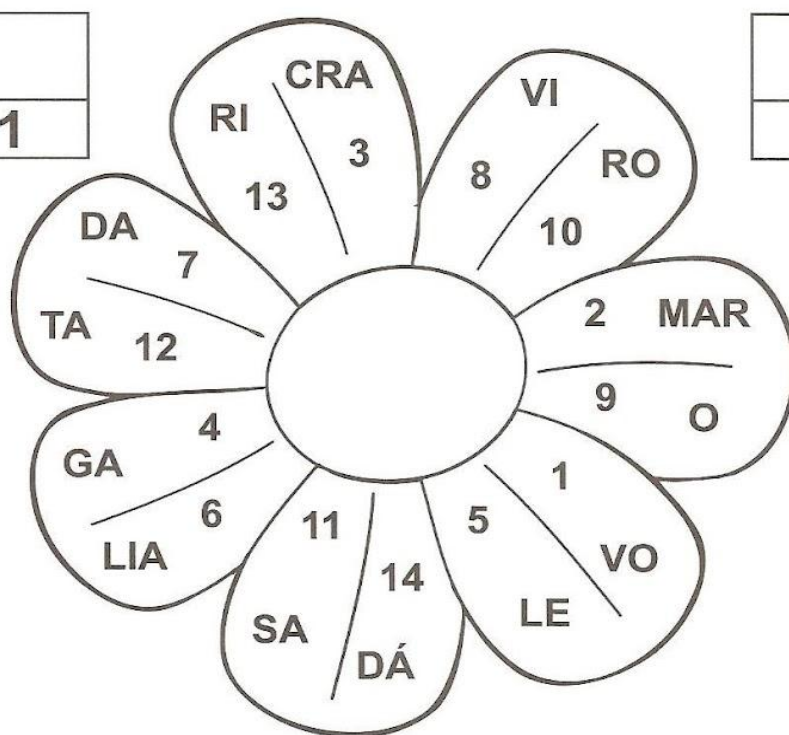
23 DE SETEMBRO

INÍCIO DA PRIMAVERA

TROQUE OS NÚMEROS PELAS SÍLABAS
CORRESPONDENTES E DESCUBRA O NOME
DAS FLORES.

3	1

10	11



14	6

2	4	13	7

8	9	5	12

NOME: _____

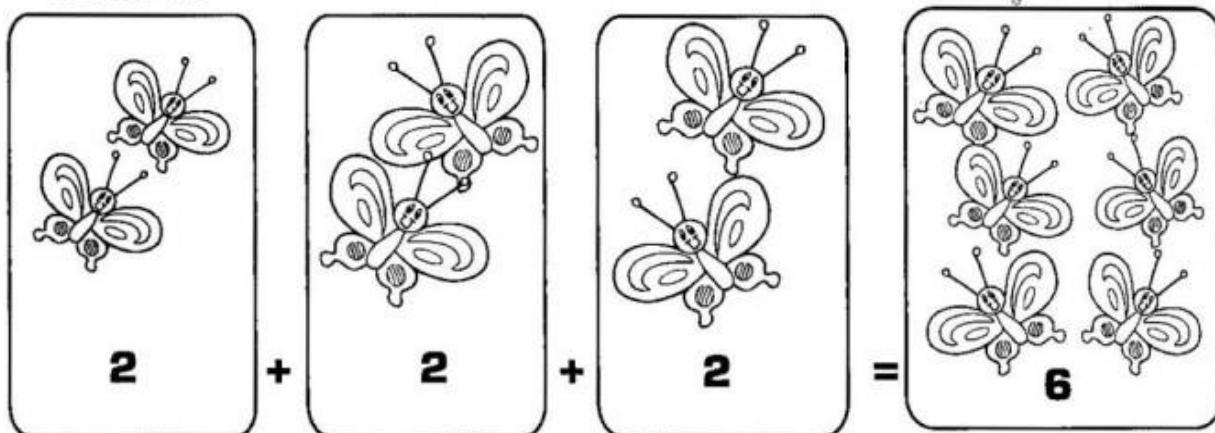


Matemática

► Multiplicação

- A multiplicação é a operação em que juntamos ou adicionamos uma mesma quantidade várias vezes.
- Representamos a multiplicação pelo sinal (x).

Observe:



3 conjuntos com **2** elementos = **6** elementos


Os termos da multiplicação

2 - multiplicando
x 3 - multiplicador
6 - produto

Sentença matemática:

2 x **3** = **6**
multiplicando multiplicador produto





ACRÓSTICO DA PRIMAVERA

P

R

I

M

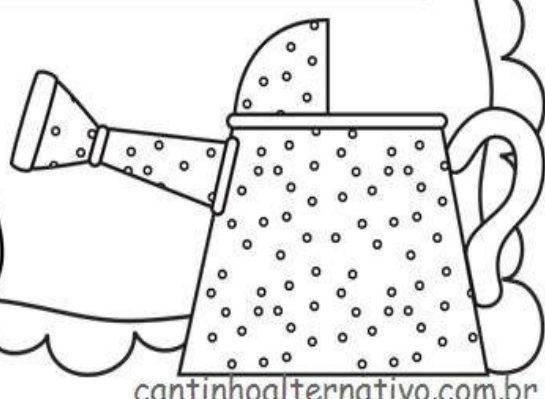

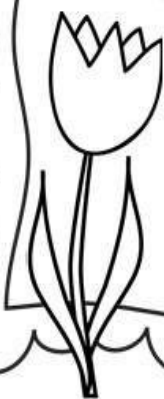
A

V

E

R

A



Aluno(a): _____

IDEIAS DA MULTIPLICAÇÃO

1) Complete de acordo com as quantidades:




4 crianças com 3 balões cada uma:

$$\square + \square + \square + \square = \square$$

\square vezes \square é igual a \square .

$$\square \times \square = \square$$



10 vasos com 3 flores cada um:

$$\square + \square + \square + \square + \square + \square + \square + \square + \square + \square = \square$$

$$\square + \square + \square + \square = \square$$

\square vezes \square é igual a \square .

$$\square \times \square = \square$$

aquarelamatematica.com.br

2) Selecione a imagem que indica uma organização retangular e represente a multiplicação correspondente:



$$\square \times \square = \square$$

NOME _____



1- JUNTE AS SÍLABAS E FORME OS NOMES DAS ESTAÇÕES DO ANO.

MA-VE -RA -PRI	
RÃO- VE	
NO-TO-OU	
NO- IN-VER	

2- QUAL SUA ESTAÇÃO DO ANO PREFERIDA? POR QUÊ?

3- PINTE NO VERSO A PALAVRA PRIMAVERA.

4- DENTRO DA PALAVRA INVERNO PODEMOS ENCONTRAR OUTRA PALAVRA.
VEJA NO EXEMPLO.

INVERNO


ENCONTRE PALAVRAS DENTRO DO NOME DA ESTAÇÃO PRIMAVERA.


PRIMAVERA

PRIMAVERA

Mês das flores... das cores...

Desembaralhe as letras e descubra palavras relacionadas à estação das flores







PINTE A QUANTIDADE DE QUADRINHOS REFERENTE A IDADE DE CADA

CRIANÇA



CAROL

BETO

FABI

TIAGO

NINA

LUCA

8

10

7

9

6

5

A) QUAL O NOME DA CRIANÇA MAIS VELHA?

B) QUAL O NOME DA CRIANÇA MAIS NOVA?

C) QUAL O NOME DA CRIANÇA QUE TEM A MESMA IDADE QUE VOCÊ?

D) ESCREVA O NÚMERO QUE REPRESENTA A SUA IDADE

PRIMAVERA

PESQUISE SOBRE A PRIMAVERA E REGISTRE AQUI:

COMO É O TEMPO?



**ESCREVA O NOME DE FLORES
QUE SE DESTACAM NA
PRIMAVERA**

**COMO É A NATUREZA
NA PRIMAVERA?**



**PRIMAVERA É
A ESTAÇÃO DAS**

**QUANTAS ESPÉCIES DE FLORES
EXISTEM NO BRASIL?**

REFERÊNCIA :

W.W.W .LILIATIVIDADES.COM

W.W.W .PEDAGOGIAINGRIDMORAES

HTTP:// PEDAGOGIA INGRID.COM

W.W.W .ENSINOJA. COM

W.W.W . DANIEDUCA.COM

W.W.W. PEPITO ATIVIDADE

W.W.W . CANTINHOALTERNATIVO.COM.BR