

Em João Cardoso de Moraes

Professora Janaina Silva 5 ano A

NOME: _____

MINHAS



ATIVIDADES



Nome: _____

Domingo	segunda-feira	terça-feira	quarta-feira	quinta-feira	sexta-feira	Sábado																								
janeiro	fevereiro	março	abril	maio	junho	julho	agosto	setembro	outubro	novembro	dezembro																			
1	2	3	4	5	6	7	8	9	10	11	12	13	14	15	16	17	18	19	20	21	22	23	24	25	26	27	28	29	30	31




Dia da Árvore



No dia 21 de setembro comemoramos o Dia da Árvore. As árvores são muito importantes para a nossa vida; elas fornecem sombra, frutas, flores e ajudam a purificar o ar. Além disso, obtém-se das árvores:

- frutos que servem de alimentos;
- madeira para a construção de casas, fabricação de móveis etc.
- celulose para a fabricação de papel.

Nós devemos proteger as árvores. A derrubada sem controle já fez desaparecer muitas de suas espécies.



1. Tinha R\$100,00, perdi R\$23,00 e ganhei R\$17,00. Com quanto eu fiquei?

- (A) R\$ 14,00
- (B) R\$ 34,00
- (C) R\$ 94,00
- (D) R\$ 74,00

2. Seu João é fazendeiro. Ele tinha 984 vacas de leite, porém ele resolveu vender 798 , porque o leite está muito barato e ele estava tendo prejuízo. Agora seu João tem:

- (A) 214 vacas
- (B) 186 vacas
- (C) 296 vacas
- (D) 142 vacas

3. No colégio Sol Nascente estudam muitos alunos, sendo que no período de manhã estão matriculados 1.139 e no período da tarde 621 ? Quantos alunos estão matriculados ao todo?

- (A) 1750
- (B) 7510
- (C) 1760
- (D) 1789

04-O pai de Carlos e Rodrigo tem R\$ 160,00 e precisa comprar duas mochilas para seus filhos.Os meninos não querem mochilas iguais e querem gastar todo o dinheiro.Quais as duas mochilas que ele pode comprar?

A- R\$ 93,00

B- R\$ 112,00

C- R\$ 87,00

D- R\$ 83,00



CIRCULE O NOME DO DESENHO.



ELEFANTE EMA ÉGUA



ONÇA OURIÇO OVELHA



HIENA HIPOPÓTAMO HAMSTER



LAGARTA LULA LAGARTIXA



MULA MAMUTE MORCEGO




GATO GAMBÁ GUAXINIM



Atividades Prontas © Todos os direitos reservados

<https://atividadesprontas.com/>

 [espacoprofessor](https://www.instagram.com/espacoprofessor)

Marque com um X a resposta correta de cada questão.

1) Ao efetuar a subtração $37 - 22$ o resto é.

- (A) 15
- (B) 51
- (C) 14
- (D) 41

2) Qual desses brinquedos é o mais barato?



- (A) R\$15,00 (B) R\$ 200,00 (C) R\$ 150,00 (D) R\$ 50,00

3) Isadora tinha 12 bolinhas e perdeu 3 delas. Com quantas ficou?

- (A) 9
- (B) 8
- (C) 7
- (D) 3

4) A mãe de Lúcia comprou 15 goiabas. Marta comeu 4. Quantas goiabas restaram?

- (A) 11 goiabas
- (B) 8 goiabas
- (C) 9 goiabas
- (D) 3 goiabas

5) Geraldo tem 18 reais e Márcio tem 10 reais.

Quantos reais Márcio tem a menos que Geraldo?

- (A) 8
- (B) 3
- (C) 9
- (D) 6

6) Eliana faz bombons para vender na escola. Na segunda-feira ela fez 17 bombons e na terça-feira vendeu 4 bombons. Quantos bombons restaram?

(A) $17 - 4 = 21$

(B) $17 - 4 = 13$

(C) $17 - 13 = 4$

(D) $17 - 11 = 6$

7) Mara pesa 42kg e Rita 41kg. Quanto Mara pesa a menos que Rita?

- (A) 1kg
- (B) 2kg
- (C) 6kg
- (D) 8kg

8) Quantas unidades formam meia dúzia?

- (A) 6
- (B) 3
- (C) 9
- (D) 8

9) Antes de jogar, Luciano tinha 5 bolas de gude. Agora, ele tem 17. Luciano ganhou no jogo

- (A) 1 dezena de bolas de gude
- (B) 1 dúzia de bolas de gude
- (C) 1 dezena e meia de bolas de gude
- (D) 2 unidades de bolas de gude

10) César quer comprar uma mochila que custa R\$ 53,00. A quantia que ele possui é R\$ 25,00. Calcule quantos reais faltam para César comprar a mochila.

- (A) R\$ 12,00
- (B) R\$ 21,00
- (C) R\$ 28,00
- (D) R\$ 82,00

11) Uma dúzia é representada pelo número

- (A) 12.
- (B) 22.

COMPLETE COM AS VOGAIS E
REESCREVA:

A E I O U



P.....P.....C.....

.....



P.....N.....

.....



P.....N.....L.....

.....



P.....T.....C.....

.....



P..... ..X.....

.....

Questão 1

Beatriz está participando de um jogo com suas amigas Eduarda e Giovanna . Para que Beatriz vença ela precisa completar a tabela e calcular o que é pedido. Ajude-a.

	COLUNA A	COLUNA B	COLUNA C
ANTECESSOR			
NÚMERO	2.328		7.896
SUCESSOR		4.510	

Soma da coluna A

UM	C	D	U

Soma da coluna B

UM	C	D	U

Soma da coluna C

UM	C	D	U

Questão 2

Analise os registros da tabela abaixo. Se houver erros, escreva o número correto na coluna correção. Se houver acertos pinte de verde o número escrito.

NÚMERO FALADO	REGISTRO	CORREÇÃO
Oito mil e quatro	804	
Cinco mil e seiscentos	5.600	
Oito mil oitocentos e três	883	
Três mil e setecentos	3.704	

Escola: _____

Aluno: _____

Turma: _____ Data: _/ _/ _



Antes de P e B, só M devo escrever!



Complete:

PO _ BA CA _ TAR PASSATE _ PO

CE _ TRO BO _ BA DE _ TE

LO _ BADA BA _ BU BO _ BEIRO

CA _ PO JA _ BO LI _ PO



Questão 1

Beatriz está participando de um jogo com suas amigas Eduarda e Giovanna . Para que Beatriz vença ela precisa completar a tabela e calcular o que é pedido. Ajude-a.

	COLUNA A	COLUNA B	COLUNA C
ANTECESSOR			
NÚMERO	2.328		7.896
SUCESSOR		4.510	

Soma da coluna A

UM	C	D	U

Soma da coluna B

UM	C	D	U

Soma da coluna C

UM	C	D	U

Questão 2

Analise os registros da tabela abaixo. Se houver erros, escreva o número correto na coluna correção. Se houver acertos pinte de verde o número escrito.

NÚMERO FALADO	REGISTRO	CORREÇÃO
Oito mil e quatro	804	
Cinco mil e seiscentos	5.600	
Oito mil oitocentos e três	883	
Três mil e setecentos	3.704	

NOME: _____

DATA: ____/____/____



ESCOLHA O BALÃO CORRETO PARA COMPLETAR OS NOMBES DOS INSETOS



MOS _____ TO



_____ CA



_____ MIGA



BOR _____ LETA



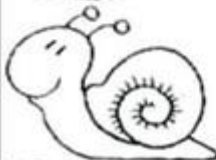
_____ NHOCA



_____ ANINHA



A _____ LHA



CA _____ COL

RA

BE

BO

QUI

MOS

MI

JO

FOR

DANI EDUCAR

a) Luana tem 1.208 reais e sua prima Luciana tem o triplo deste valor. Quantos reais Luciana tem?

b) Pedro comprou uma bicicleta no valor de 842 reais e parcelou em quatro prestações. Qual será o valor de cada prestação?

c) Suzana está organizando uma estante de livros. A estante possui seis prateleiras e em cada prateleira cabem 87 livros. Ao todo, quantos livros cabem na estante?

d) Juliana estuda em uma escola que possui 1.786 alunos matriculados. Sabendo que deste total de alunos novecentos e oitenta e três são meninas, quantos meninos estão matriculados na escola de Juliana?

:

NOME: _____

DATA: ___/___/___



ESCOLHA O BALÃO CORRETO PARA COMPLETAR OS NOMES DOS INSETOS



MOS _____ TO



_____ CA



_____ MIGA



BOR _____ LETA




_____ NHOCA



_____ ANINHA



A _____ LHA



CA _____ COL

RA

BE

BO

QUI

MOS

MI

JO

FOR

DANI EDUCAR

SABENDO QUE CASÇÃO UTILIZA O ELEVADOR DE SEU PRÉDIO 5 VEZES AO DIA E MAGALI 16 VEZES POR SEMANA. CALCULE.




1. QUANTAS VEZES POR SEMANA CASÇÃO UTILIZA O ELEVADOR DO PRÉDIO?
2. EM 30 DIAS QUANTAS VEZES CASÇÃO TERÁ UTILIZADO O ELEVADOR?
3. QUANTAS VEZES EM 3 SEMANAS MAGALI UTILIZARÁ O ELEVADOR?
4. SE DESSAS VEZES MAGALI DEIXAR DE UTILIZAR O ELEVADOR DURANTE UMA SEMANA POR CAUSA DO CHEIRO DE CASÇÃO QUANTAS VEZES O ELEVADOR SERÁ UTILIZADO POR ELA?


NOME: _____
Atividades Suzano




ATIVIDADES

ORGANIZE AS LETRAS E ESCREVA O NOME DAS FIGURAS:


	A O R C B
<input type="text"/>	

	L Ã E O
<input type="text"/>	

	M C A O C A
<input type="text"/>	

	E O C L H O
<input type="text"/>	

	I A G A R F
<input type="text"/>	

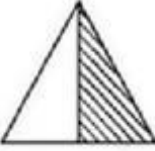
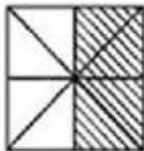


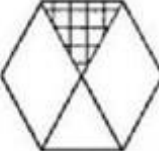
	C A A V
<input type="text"/>	

	L A V A C O
<input type="text"/>	

	O A R T
<input type="text"/>	

Quadro Fracionário

♦ Preencha os quadros, observando as figuras de acordo com o modelo:

A	B	C	D	E
				
Figura	Partes pintadas	Total das partes	Fração	como se lê
A	1	2	$\frac{1}{2}$	um meio
B				
C				
D				
E				