



PREFEITURA DA ESTÂNCIA TURÍSTICA DE
IBIÚNA
Por uma Ibiúna próspera. Investindo no presente, gerando o futuro.
SECRETARIA DE EDUCAÇÃO



EM “Clélia Carmelo Da Silva”

Professora: Lina Rosa

1ºAno A

Apostila número 11

Atividades Referentes aos dias: 20,21,22,23,24,27 e 28/09

Atividades para entregar dia :29 e 30/09 (Setembro)



ESCOLA _____

NOME _____

DATA ____/____/____

A ÁRVORE

"CRIANÇA, A ÁRVORE MERECE
A NOSSA ESTIMA SINCERA
DÁ FRUTOS DOCES NO OUTONO
E FLORES NA PRIMAVERA.

NUNCA MALTRATES UMA ÁRVORE
A QUEM TUDO NÓS DEVEMOS
DESDE A MADEIRA DA PORTA
AO LÁPIS COM QUE ESCRIVEMOS.

RAUL AROEIRA SERRANO



ATIVIDADE

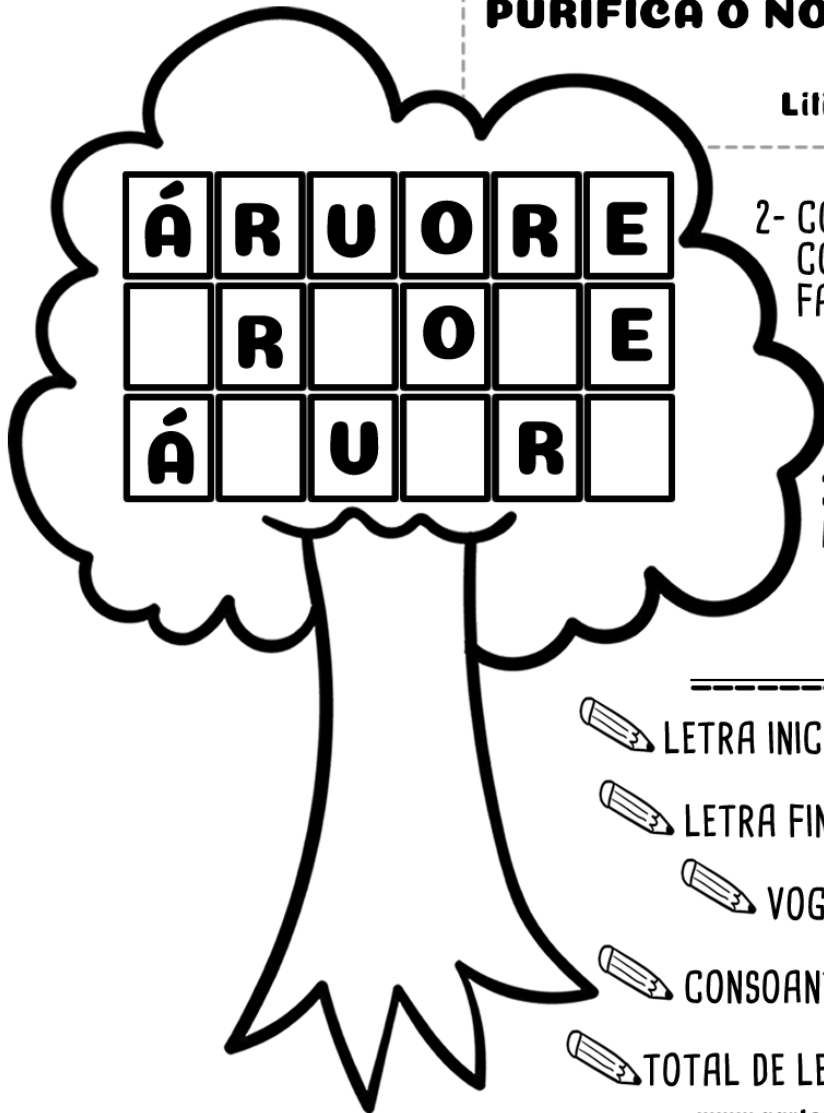
EU SOU: _____


DIA DA ÁRVORE

- 1- PROCURE E PINTE NO TEXTO:
* A PALAVRA ÁRVORE
* AS PALAVRAS QUE RIMAM

**A ÁRVORE É NOSSA AMIGA,
NELA PODEMOS CONFIAR.
NOS DÁ SOMBRA E ABRIGA,
PURIFICA O NOSSO AR.**

Liliane S. Monteiro



- 2- COMPLETE O QUADRO
COM AS LETRAS
FALTOSAS. 

- 3- AGORA, ESCREVA
A PALAVRA. 

 LETRA INICIAL: _____

 LETRA FINAL: _____

 VOGAIS: _____

 CONSOANTES: _____

 TOTAL DE LETRAS: _____

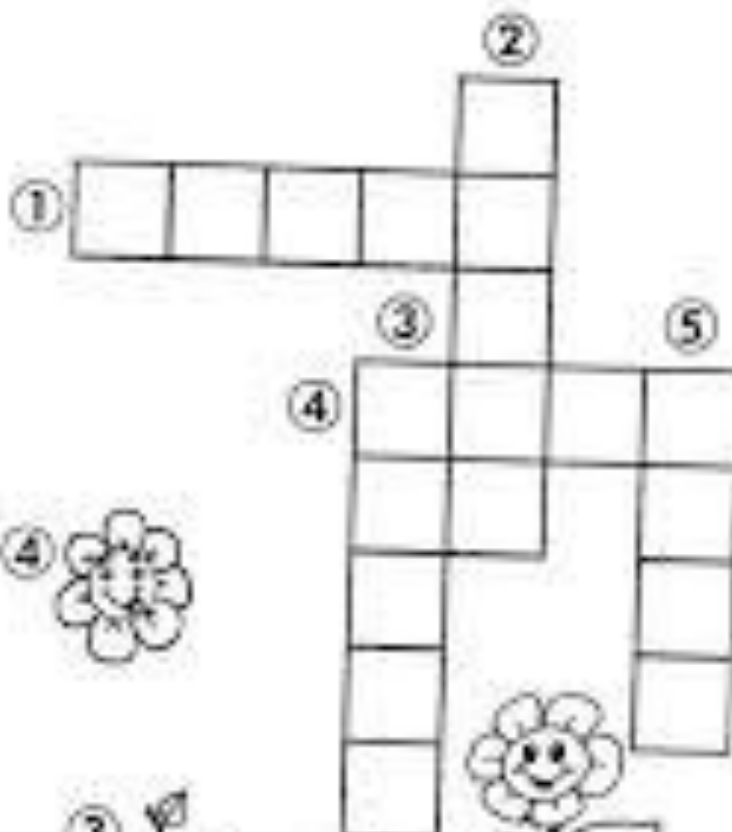


CRUZADINHA

PARTES DAS PLANTAS



➤ Complete a cruzadinha de acordo com as partes das plantas.



1 - Folha 2 - Caule 3 - Fruto 4 - Flor 5 - Raiz

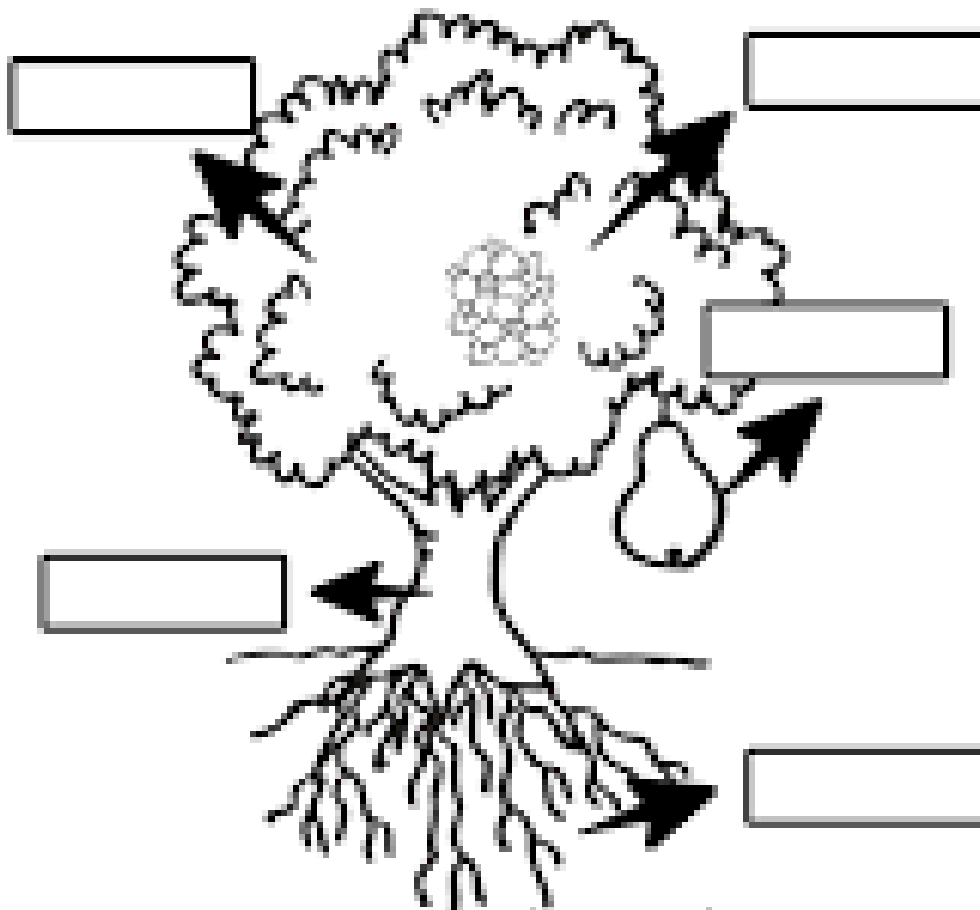
1/1/20

NOME: _____ DATA: _____

TURMA: _____ PROF(A): _____

21 DE SETEMBRO: DIA DA ÁRVORE

IDENTIFIQUE E COLE AS PARTES DA ÁRVORE:



www.oespaeducar.com.br

RAÍZES

FOLHAS

FLORES

FRUTOS

CAULE

Aluno: _____

Data: _____

www.funfon.com

Dia da Árvore - 21 de setembro

 RECORTE E COLE OS NOMES DAS PARTES DAS PLANTAS:



FOLHAS RAIZ GALHO

FRUTO FLOR




NOME: _____

DIA DA ÁRVORE

ATIVIDADE MATEMÁTICA

1. QUANTAS GOIABAS APARECEM NA ÁRVORE? CONTE E REGISTRE NOS QUADRINHOS.



Aluno: _____

Data: _____ **ensinoja.com.br**

BETO, O BOM DE BOLA



PAULO, BETO E RENATO VÃO JOGAR BOLA.
BETO É O GOLEADOR DO TIME.
PAULO JOGA A BOLA PARA RENATO.
BETO PEDE A RENATO:
— AQUI, RENATO!
A BOLA CAI NO PÉ DE BETO.
BETO PÕE A BOLA NA REDE E FAZ UM BELO GOL.

Graça Boquet

1) QUEM VAI JOGAR BOLA?

2) DAS TRÊS CRIANÇAS, O GOLEADOR É:

PAULO.

BETO.

RENATO.

3) ONDE CAIU A BOLA QUE RENATO JOGOU?

NO PÉ DE PAULO.


NO PÉ DE BETO.




Matemática

NOME: _____ DATA: / /

ATIVIDADES DE MATEMÁTICA - 1º ANO

1. VAMOS CALCULAR USANDO A RETA NUMÉRICA?



$3 + 2 =$	$1 + 4 =$	$3 + 3 =$	
$1 + 2 =$	$2 + 4 =$	$5 + 3 =$	
$4 + 1 =$	$6 + 2 =$	$6 + 1 =$	
$6 + 3 =$	$7 + 2 =$	$1 + 5 =$	
$4 - 1 =$	$7 - 2 =$	$9 - 4 =$	
$10 - 2 =$	$8 - 5 =$	$9 - 9 =$	
$7 - 1 =$	$6 - 4 =$	$3 - 2 =$	
$1 + 1 =$	$6 + 4 =$	$2 + 6 =$	
			

NOME: _____

LÍNGUA PORTUGUESA



CHEGOU PRIMAVERA

COMEÇOU A PRIMAVERA. O SOL BRILHAVA
DETRÁS DAS NUVENS.

A BORBOLETA LALAU VOAVA FELIZ PELO JARDIM.
O PASSARINHO TICO CANTAVA CONTENTE NO
GALHO DA ÁRVORE.

TODOS OS BICHINHOS AGRADECIAM À NATUREZA.
COMO É LINDA A ESTAÇÃO DAS FLORES!

ISABEL CRISTINA S. SOARES




NOME: _____
DATA: ____/____/____



PRIMAVERA

TRABALHANDO GRÁFICO! CONTE CADA DESENHO QUE APARECE NA IMAGEM A SEGUIR E REGISTRE NO LOCAL INDICADO:



ESCOLA _____

NOME: _____

DATA: ____/____/____

Atividade com FASCICULO
www.demonstracao.com



MATEMÁTICA

 OBSERVE A CENA E RESPONDA:



QUANTAS FLORES?

QUANTAS FLORES COM 5 PÉTALAS?

QUANTAS FLORES SEM FOLHAS?

QUANTAS FLORES COM APENAS UMA FOLHA?

QUANTAS PÉTALAS AO TODO?

ALUNO (A): _____

ESCOLA: _____

DATA: ____/____/____ PROFESSOR (A): _____

E A LAGARTA FOI SE TRANSFORMADO... ATÉ QUE, DE DENTRO DO CASULO, NASCEU UMA LINDA BORBOLETA.



OS INIMIGOS DA LAGARTA FICARAM ADMIRADOS AO CONHECEREM A BORBOLETA E ALGUMAS DAS FIGURAS GEOMÉTRICAS PLANAS.



CÍRCULO



QUADRADO



RETÂNGULO



TRIÂNGULO

1- OBSERVE A BORBOLETA TRAZENDO AS FIGURAS GEOMÉTRICAS PLANAS. Pinte-a segundo as cores da legenda.



QUADRADOS DE AZUL:

TRIÂNGULOS DE AMARELO:

CÍRCULOS DE VERMELHO:

RETÂNGULOS DE VERDE:

2- AGORA, OBSERVE O DESENHO ACIMA E RESPONDA:

QUANTOS QUADRADOS? _____

QUANTOS TRIÂNGULOS? _____

QUANTOS CÍRCULOS? _____

QUANTOS RETÂNGULOS? _____


3- DESENHE O QUE SE PEDE:

1 DEZENA DE TRIÂNGULOS:



2 DEZENAS DE CÍRCULOS:






NOME: _____ DATA: _____

TURMA: _____ PROF(A): _____

21 DE SETEMBRO: DIA DA ÁRVORE

PINTE O CENÁRIO, RECORTE O GUEBRA-CABEÇA
E DIVIRTA-SE COM A FAMÍLIA!



www.oespaeducar.com.br

